



1re

MATHÉMATIQUES

Enseignement de Spécialité

Évaluations Communes

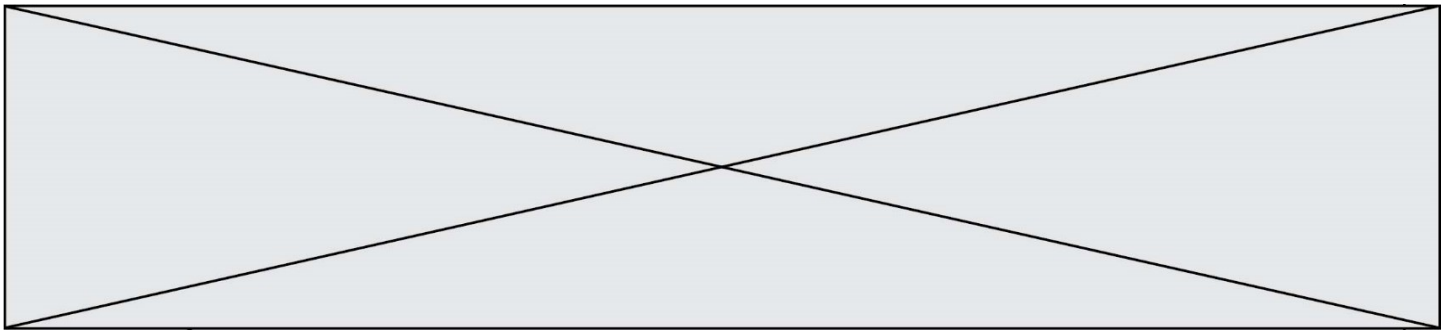


Mathématiques

SUJET

2019 • 2020

 www.freemaths.fr



Exercice 2 (5 points)

Un magasin effectue des promotions avant sa liquidation définitive, chaque semaine les prix des articles sont diminués de 10 % par rapport à la semaine précédente.

Un manteau coûte 200 € avant le début de la liquidation, on pose $u_0 = 200$ et on note u_n son prix lors de la n -ième semaine de liquidation.

1. Calculer les termes u_1 et u_2 de la suite (u_n) .
2. Montrer que la suite (u_n) est une suite géométrique de premier terme $u_0 = 200$ dont on précisera la raison et exprimer le terme général de la suite (u_n) en fonction de n .
3. La liquidation dure 12 semaines, déterminer le prix du manteau à la fin de la liquidation s'il est toujours en vente. On donnera le résultat arrondi au centime.
4. On considère la fonction suivante, écrite en langage Python :

```
def seuil(x) :  
    u = 200  
    n = 0  
    while..... :  
        u =...  
        n =...  
    return n
```

Recopier et compléter sur la copie la fonction afin qu'elle renvoie le nombre de semaines nécessaires pour que le terme général de la suite (u_n) soit inférieur au nombre réel x .

5. Une personne décide d'acheter le manteau dès que son prix sera inférieur à 100 €. Combien de semaines devra-t-elle attendre ?

Modèle CCYC : ©DNE

Nom de famille (naissance) :


(Suivi s'il y a lieu, du nom d'usage)

Prénom(s) :

N° candidat : N° d'inscription :

(Les numéros figurent sur la convocation.)

Né(e) le : / /



RÉPUBLIQUE FRANÇAISE

1.1

Exercice 3 (5 points)

Afin d'établir les liens entre le surpoids et l'alimentation, on interroge les enfants des écoles primaires d'une ville.

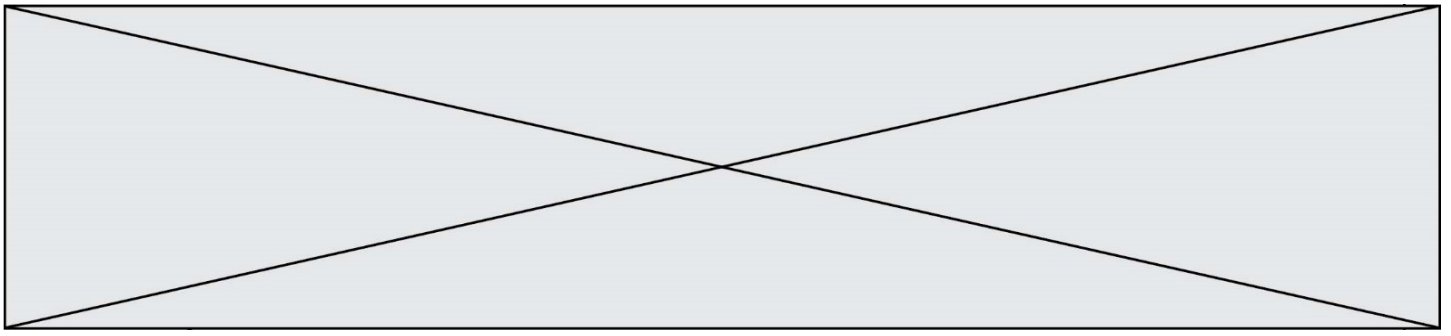
L'enquête révèle que 60 % des enfants boivent 1 boisson sucrée ou plus par jour. Parmi les enfants buvant 1 boisson sucrée ou plus par jour, un enfant sur 8 est en surpoids, contre seulement 8 % pour les enfants buvant moins d'une boisson sucrée par jour.

On choisit un enfant au hasard parmi les enfants des écoles primaires de la ville et on considère les événements suivants :

B : « l'enfant boit 1 boisson sucrée ou plus par jour »,
 S : « l'enfant est en surpoids ».

Les événements contraires de B et de S sont notés respectivement \bar{B} et \bar{S} .
 Pour tout événement A et B , avec B un événement de probabilité non nulle, la probabilité de A sachant B est notée $p_B(A)$.

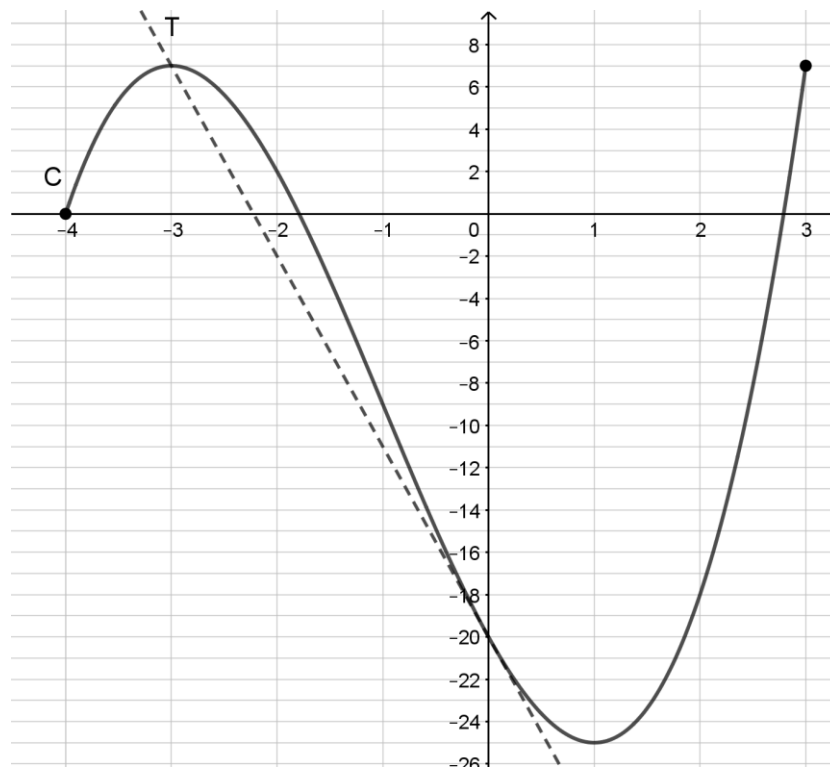
1. Justifier que $P_B(S) = 0,125$.
2. Représenter la situation par un arbre pondéré.
3. Calculer $P(B \cap S)$.
4. Déterminer la probabilité que l'enfant soit en surpoids.
5. On a choisi un enfant en surpoids. Quelle est la probabilité qu'il boive 1 boisson sucrée ou plus par jour ? On arrondira le résultat au millièmes.



Exercice 4 (5 points)

On considère la fonction f définie sur l'intervalle $[-4; 4]$ par $f(x) = x^3 + 3x^2 - 9x - 20$.
On admet que la fonction f est dérivable sur l'intervalle $[-4; 4]$ et on note f' sa fonction dérivée.

La courbe représentative de la fonction f , notée C , est tracée dans le repère ci-dessous.
La droite T tracée dans le repère est la tangente à la courbe C au point d'abscisse 0.



1. Déterminer graphiquement les extrema de la fonction f .
2. Déterminer l'expression de $f'(x)$ sur $[-4; 4]$.
3. Étudier le signe de $3x^2 + 6x - 9$ en fonction de x sur $[-4; 4]$.
4. En déduire le tableau de variations de f sur $[-4; 4]$ et retrouver les résultats de la question 1.
5. Déterminer l'équation réduite de la droite T , tangente à la courbe C au point d'abscisse 0.