


1re

MATHÉMATIQUES

Enseignement de Spécialité

Évaluations Communes



Probabilités

SUJET

2019 • 2020

 www.freemaths.fr

Modèle CCYC : ©DNE

Nom de famille (naissance) :


(Suivi s'il y a lieu, du nom d'usage)

Prénom(s) :

N° candidat : **N° d'inscription** :

(Les numéros figurent sur la convocation.)

Né(e) le : / /



RÉPUBLIQUE FRANÇAISE

1.1

Exercice 2 (5 points)

Dans tout l'exercice, on notera $P(E)$ la probabilité d'un évènement E .

La répartition des 150 adhérents d'un club de sport est donnée dans le tableau ci-dessous :

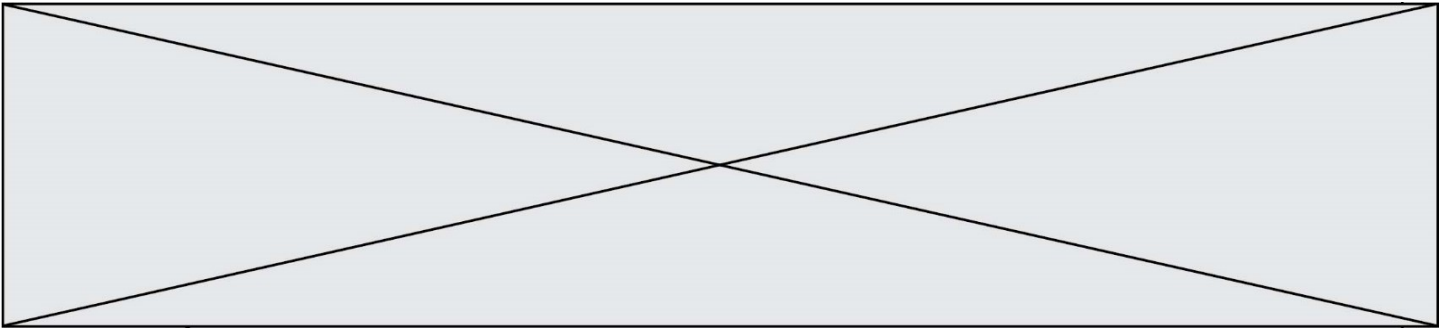
Âge	15 ans	16 ans	17 ans	18 ans
Nombre de filles	17	39	22	10
Nombre de garçons	13	36	8	5
Total	30	75	30	15

On choisit un adhérent au hasard.

1. Quelle est la probabilité que l'adhérent choisi ait 17 ans ?
2. L'adhérent choisi a 18 ans. Quelle est la probabilité que ce soit une fille ?

On note X la variable aléatoire donnant l'âge de l'adhérent choisi.

3. Déterminer la loi de probabilité de X .



4. Calculer $P(X \geq 16)$ et interpréter le résultat.
5. Calculer l'espérance de X . Interpréter le résultat.