

# SUJET


## 2020-2021

### HISTOIRE-GÉOGRAPHIE

#### Première Générale

### ÉVALUATIONS COMMUNES

Modèle CCYC : ©DNE	
Nom de famille (naissance) : <small>(Suivi s'il y a lieu, du nom d'usage)</small>	
Prénom(s) :	
N° candidat :	N° d'inscription :
<small>(Les numéros figurent sur la convocation.)</small>	
Né(e) le :	



1.1

## Classe de première

### Voie générale

Tronc commun

## HISTOIRE-GÉOGRAPHIE

### Évaluation Commune

Durée de l'épreuve : 2 heures

Les élèves doivent traiter les deux parties du sujet.

Les calculatrices ne sont pas autorisées.



**Première partie : question problématisée (sur 10 points)**

Pourquoi la période 1789-1793 constitue-t-elle une rupture ?  
Vous mettrez en évidence les transformations politiques et sociales en vous appuyant sur quelques événements clés.

**Deuxième partie : réalisation d'une production graphique (sur 10 points)**

Sujet – Le poids croissant des métropoles

Le sujet comporte deux annexes (légende et fond de carte) à rendre avec la copie.

Consigne :

À partir du texte, vous construirez, à l'aide du fond de carte fourni, un croquis correspondant au sujet suivant : « Le poids croissant des métropoles », accompagné d'une légende organisée.

*Les métropoles, centres décisionnels mondiaux*

Le processus de métropolisation se manifeste par la concentration de la richesse produite et des activités dans un certain nombre de métropoles. Ces dernières regroupent des fonctions décisionnelles qui ont un rayonnement à l'échelle mondiale (grande place financière, grande zone industrialo-portuaire...). Au sommet de la hiérarchie des métropoles, on trouve les métropoles de rang mondial : New York, Tokyo, Londres, Paris, Chicago, Los Angeles, Singapour et Séoul. Dans les pays émergents, de nouvelles métropoles s'affirment de plus en plus comme Shanghai, Johannesburg, Sao Paulo ou Buenos Aires.

Modèle CCYC : ©DNE

Nom de famille (naissance) :

(Suivi s'il y a lieu, du nom d'usage)

Prénom(s) :

N° candidat :  N° d'inscription :

(Les numéros figurent sur la convocation.)

Né(e) le :  /  /



1.1

### *Des métropoles au cœur de vastes régions urbaines*

Il existe dans le monde des ensembles urbains où la densité des métropoles est telle qu'elles tendent à se rejoindre, formant des régions au poids démographique particulièrement important : les mégalofoles. Ces ensembles urbains à la dimension spatiale remarquable exercent un rayonnement mondial. Les plus importantes sont la *mégalofole* du Nord Est des États-Unis, la mégalofole européenne et la mégalofole japonaise.

### *Des métropoles en réseaux*

Ces mégalofoles entretiennent entre elles des relations qui se manifestent par des flux de nature diverse (flux d'informations, de capitaux et de marchandises). On peut distinguer des flux principaux entre l'Amérique du Nord, l'Union européenne et l'Asie orientale, qui forment un anneau reliant ces trois premiers pôles de croissance de l'espace mondial, et des flux secondaires entre ces trois pôles et les aires économiques secondaires entraînées par les métropoles de rang inférieur.




Modèle CCYC : ©DNE

**Nom de famille** (naissance) :

*(Suivi s'il y a lieu, du nom d'usage)*

**Prénom(s)** :

**N° candidat** :  **N° d'inscription** :


 (Les numéros figurent sur la convocation.)

**Né(e) le** :  /  /

Liberté • Égalité • Fraternité  
RÉPUBLIQUE FRANÇAISE

1.1

### Annexe 1 – Légende





**Modèle CCYC : ©DNE**

**Nom de famille** (naissance) :


(Suivi s'il y a lieu, du nom d'usage)

**Prénom(s)** :

**N° candidat** :  **N° d'inscription** :

(Les numéros figurent sur la convocation.)

**Né(e) le** :  /  /



1.1

Annexe 2 – Fond de carte

titre

