



PREMIÈRE

Enseignement Commun

Évaluations Communes




Histoire & Géographie

SUJET

2019 • 2020

 www.freemaths.fr

Modèle CCYC : ©DNE																											
Nom de famille (naissance) : <small>(Suivi s'il y a lieu, du nom d'usage)</small>																											
Prénom(s) :																											
N° candidat :											N° d'inscription :																
	(Les numéros figurent sur la convocation.)																										
	Né(e) le :			/			/																				
1..1																											

Classe de première

Voie générale

Tronc commun

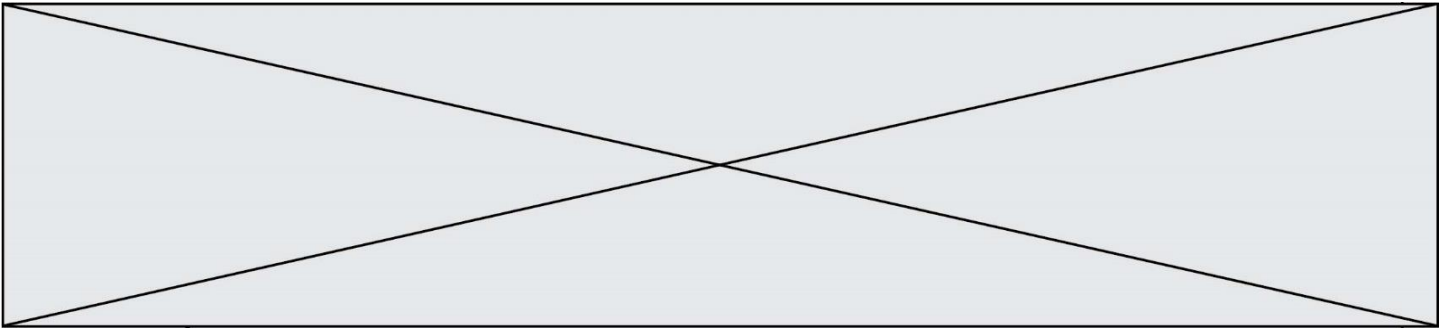
HISTOIRE-GÉOGRAPHIE

Évaluation Commune

Durée de l'épreuve : 2 heures

Les élèves doivent traiter les deux parties du sujet.

Les calculatrices ne sont pas autorisées.



Première partie : question problématisée (sur 10 points)

Comment se manifestent les oppositions au Second Empire ?

Vous évoquerez les différentes formes d'opposition ainsi que leurs acteurs et vous rappellerez la manière dont le régime de Napoléon III y a répondu.

Deuxième partie : réalisation d'une production graphique (sur 10 points)

Le sujet comporte deux annexes (légende et fond de carte) à rendre avec la copie.

Sujet – Le poids croissant des métropoles

Consigne :

À partir du texte, vous construirez, à l'aide du fond de carte fourni, un croquis correspondant au sujet suivant : « Le poids croissant des métropoles », accompagné d'une légende organisée.

Les métropoles, centres décisionnels mondiaux

Le processus de métropolisation se manifeste par la concentration de la richesse produite et des activités dans un certain nombre de métropoles. Ces dernières regroupent des fonctions décisionnelles qui ont un rayonnement à l'échelle mondiale (grande place financière, grande zone industrialo-portuaire...). Au sommet de la hiérarchie des métropoles, on trouve les métropoles de rang mondial : New York, Tokyo, Londres, Paris, Chicago, Los

Modèle CCYC : ©DNE																					
Nom de famille (naissance) :																					
(Suivi s'il y a lieu, du nom d'usage)																					
Prénom(s) :																					
N° candidat :												N° d'inscription :									
(Les numéros figurent sur la convocation.)																					
Né(e) le :				/				/													



1.1

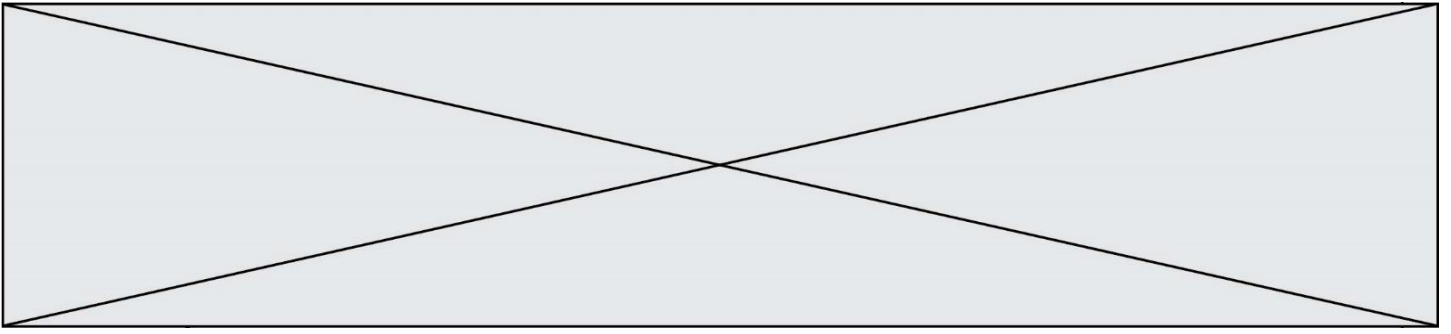
Angeles, Singapour et Séoul. Dans les pays émergents, de nouvelles métropoles s'affirment de plus en plus comme Shanghai, Johannesburg, Sao Paulo ou Buenos Aires.

Des métropoles au cœur de vastes régions urbaines

Il existe dans le monde des ensembles urbains où la densité des métropoles est telle qu'elles tendent à se rejoindre, formant des régions au poids démographique particulièrement important : les mégaloïles. Ces ensembles urbains à la dimension spatiale remarquable exercent un rayonnement mondial. Les plus importantes sont la *mégaloïle* du Nord Est des États-Unis, la mégaloïle européenne et la mégaloïle japonaise.

Des métropoles en réseaux

Ces mégaloïles entretiennent entre elles des relations qui se manifestent par des flux de nature diverse (flux d'informations, de capitaux et de marchandises). On peut distinguer des flux principaux entre l'Amérique du Nord, l'Union européenne et l'Asie orientale, qui forment un anneau reliant ces trois premiers pôles de croissance de l'espace mondial, et des flux secondaires entre ces trois pôles et les aires économiques secondaires entraînées par les métropoles de rang inférieur.



Modèle CCYC : ©DNE

Nom de famille (naissance) :


(Suivi s'il y a lieu, du nom d'usage)

Prénom(s) :

N° candidat : **N° d'inscription** :

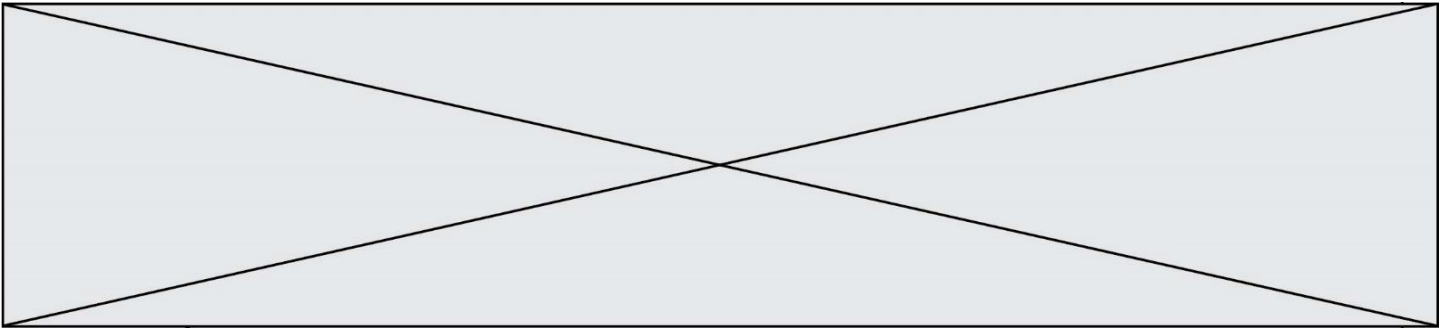
(Les numéros figurent sur la convocation.)

Né(e) le : / /

 Liberté • Égalité • Fraternité
RÉPUBLIQUE FRANÇAISE

1..1

Annexe 1 – Légende



Nom de famille (naissance) :

(Suivi s'il y a lieu, du nom d'usage)

Prénom(s) :

N° candidat :

N° d'inscription :



(Les numéros figurent sur la convocation.)

Né(e) le :

1.1

Annexe 2 – Fond de carte

