

TRAINING!

2021-2022

SVT

PREMIÈRE
SPÉCIALITÉ



Classe de première

Voie générale

Épreuve de spécialité
non poursuivie en classe de terminale

Sciences de la vie et de la Terre

Évaluation Commune

Durée de l'épreuve : 2 heures

Les élèves doivent traiter les deux exercices du sujet.

Les calculatrices ne sont pas autorisées.

Modèle CCYC : ©DNE																				
Nom de famille (naissance) : <small>(Suivi s'il y a lieu, du nom d'usage)</small>																				
Prénom(s) :																				
N° candidat :											N° d'inscription :									
 <small>Liberté • Égalité • Fraternité</small> <small>RÉPUBLIQUE FRANÇAISE</small>	<small>(Les numéros figurent sur la convocation.)</small>																			
	Né(e) le :			/			/													

1.1

Exercice 1 – Mobilisation des connaissances – 10 points

Corps humain et santé
Le fonctionnement du système immunitaire humain

Interactions entre immunité innée et adaptative

Cet exercice comporte deux parties. La première partie est un QCM et la seconde une question ouverte avec un document d'aide à la rédaction.

Partie 1 - 3 points (1 point par QCM)

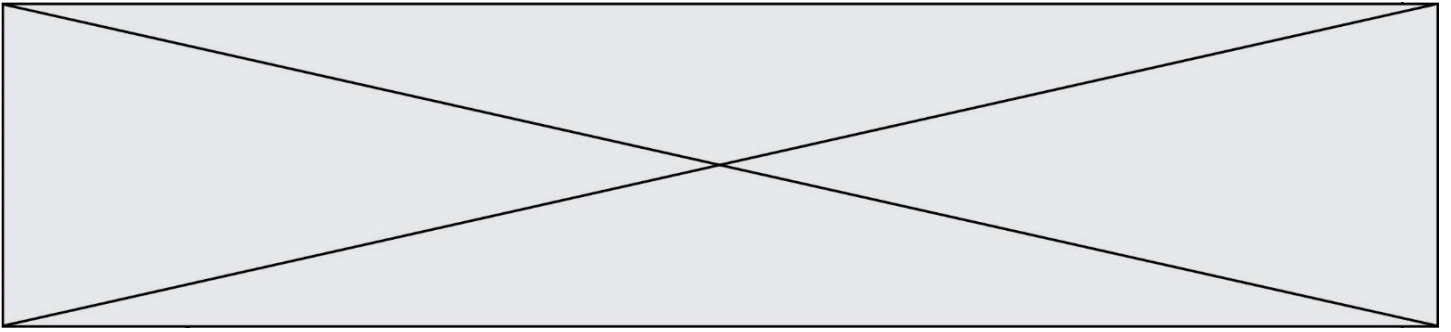
Recopier sur votre copie la lettre correspondant à la seule affirmation exacte pour chaque QCM.

- L'immunité innée est une réponse :**

 - rapidement mise en œuvre et première à intervenir.
 - rapidement mise en œuvre et nécessitant un apprentissage.
 - lente à se mettre en place et nécessitant un apprentissage.
 - rapidement mise en œuvre et intervenant après l'immunité adaptative.
- L'immunité adaptative est une réponse :**

 - rapidement mise en œuvre et première à intervenir.
 - rapidement mise en œuvre et nécessitant un apprentissage.
 - lente à se mettre en place et nécessitant un apprentissage.
 - rapidement mise en œuvre et intervenant après l'immunité innée.
- Parmi les cellules de l'immunité :**

 - les cellules présentatrices de l'antigène et les lymphocytes T sont des cellules de l'immunité innée.
 - les cellules présentatrices de l'antigène et les lymphocytes T sont des cellules de l'immunité adaptative.
 - les cellules présentatrices de l'antigène sont des cellules de l'immunité innée, les lymphocytes T sont des cellules de l'immunité adaptative.
 - les cellules présentatrices de l'antigène sont des cellules de l'immunité adaptative, les lymphocytes T sont des cellules de l'immunité innée.



Partie 2 - 7 points

Lors de la contamination par un virus, l'élimination des cellules infectées, réservoirs de virus, permet notamment de lutter contre l'infection.

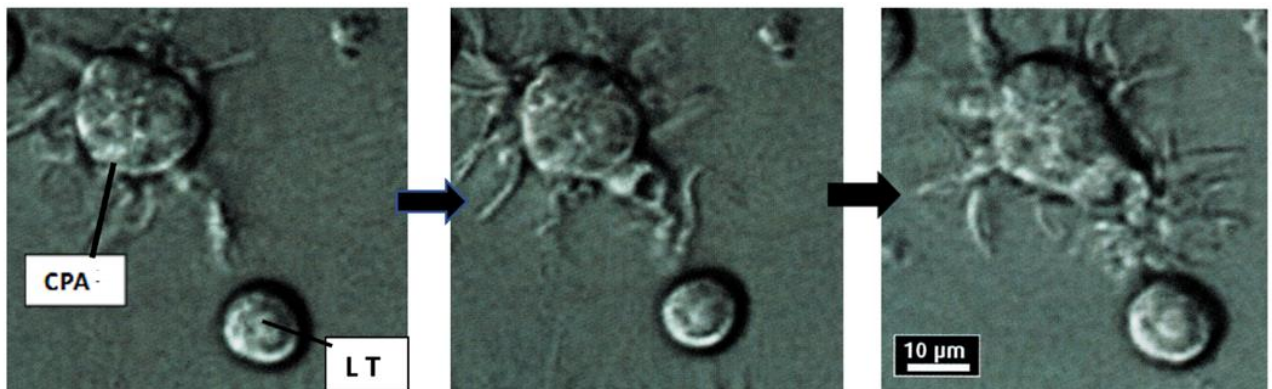
Montrer comment les coopérations entre les cellules de l'immunité aboutissent à l'activation de lymphocytes spécifiques permettant d'éliminer des cellules infectées par le virus.

La réponse immunitaire adaptative à médiation humorale avec production d'anticorps ne sera pas développée.

Vous rédigez un exposé structuré. Vous pouvez vous appuyer sur des représentations graphiques judicieusement choisies. On attend des arguments pour illustrer l'exposé comme des expériences, des observations, des exemples ...

Les documents fournis sont conçus comme des aides : ils peuvent vous permettre d'illustrer votre exposé mais leur analyse n'est pas attendue.

Document d'aide - Photographie en microscopie électronique d'une CPA (cellule présentatrice d'antigène) approchant un lymphocyte T (LT)



D'après Terminale S SVT, Collection A. Duco, Edition Belin 2012, page 290

Modèle CCYC : ©DNE

Nom de famille (naissance) :


(Suivi s'il y a lieu, du nom d'usage)

Prénom(s) :

N° candidat : N° d'inscription :

(Les numéros figurent sur la convocation.)

Né(e) le : / /

 Liberté • Égalité • Fraternité
RÉPUBLIQUE FRANÇAISE

1.1

Exercice 2 – Pratique d'une démarche scientifique – 10 points

La Terre, la vie et l'organisation du vivant
La dynamique interne de la Terre

Les adakites, roches volcaniques de subduction

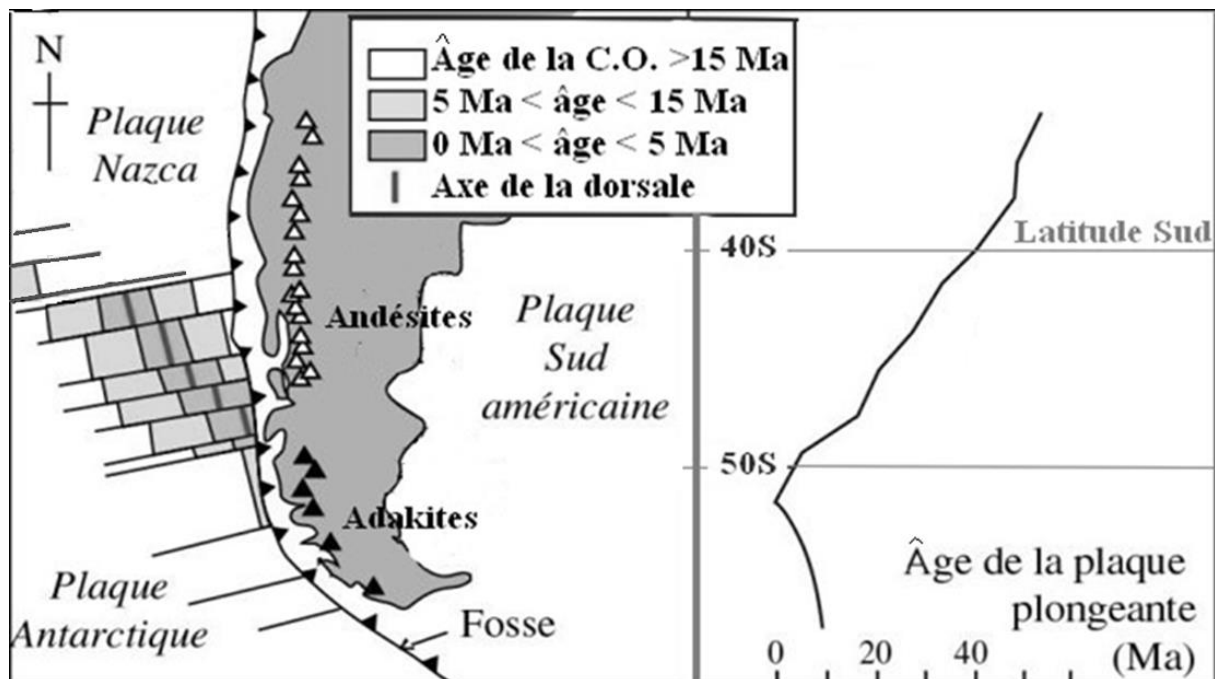
Comme les andésites, les adakites sont des roches volcaniques associées à certaines zones de subduction. Leur nom provient de l'île d'Adak dans les îles Aléoutiennes, au nord du Pacifique où elles ont été décrites pour la première fois.

Proposer une explication géologique à la présence d'adakites dans les zones de subduction.

Vous organiserez votre réponse selon une démarche de votre choix intégrant des données issues des documents et les connaissances complémentaires nécessaires.

Document 1 - Répartition des roches volcaniques en Patagonie chilienne

On observe des andésites et des adakites en Patagonie chilienne où la plaque Nazca (au Nord) et la plaque Antarctique (au Sud), séparées par la dorsale du Chili, entrent en subduction sous la plaque sud-américaine.



Avec **C.O.** = croûte océanique et **Ma** = Millions d'années

D'après Martin, Lithos (1999) <https://planet-terre.ens-lyon.fr/article/adakites.xml>



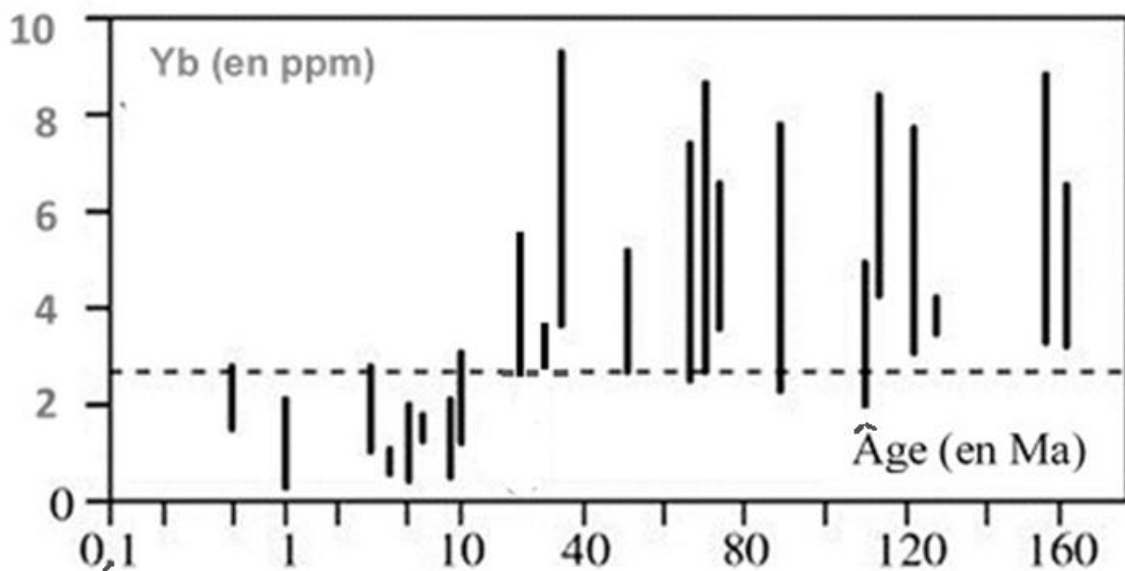
Document 2 - Comparaison des adakites et des andésites par les spectres de terres rares, l'yttrium (Y) et l'ytterbium (Yb)

Éléments de terres rares	Adakite	Andésite
Y (en ppm)	10	47
Yb (en ppm)	0,93	4,4

Document 3 - Diagramme de la teneur en ytterbium (Yb) en fonction de l'âge de la lithosphère océanique plongeante

Abscisses : âge (en millions d'années) de la croûte entrant en subduction à l'aplomb des volcans

Ordonnées : teneur en Yb des laves volcaniques



D'après Martin, Lithos (1999) <https://planet-terre.ens-lyon.fr/article/adakites.xml>