

TRAINING!

2021-2022

SVT

PREMIÈRE
SPÉCIALITÉ



Classe de première

Voie générale

Épreuve de spécialité
non poursuivie en classe de terminale

Sciences de la vie et de la Terre

Évaluation Commune

Durée de l'épreuve : 2 heures

Les élèves doivent traiter les deux exercices du sujet.
Les calculatrices ne sont pas autorisées.

Modèle CCYC : ©DNE	
Nom de famille (naissance) : <small>(Suivi s'il y a lieu, du nom d'usage)</small>	<input type="text"/>
Prénom(s) :	<input type="text"/>
N° candidat : <small>(Les numéros figurent sur la convocation.)</small>	<input type="text"/>
N° d'inscription :	<input type="text"/>
Né(e) le : <input type="text"/> / <input type="text"/> / <input type="text"/>	


Liberté • Égalité • Fraternité
RÉPUBLIQUE FRANÇAISE

1.1

Exercice 1 – Mobilisation des connaissances – 10 points

La Terre, la vie et l'organisation du vivant
La dynamique interne de la Terre

Une sortie géologique

Une excursion est une occasion pour observer des structures tectoniques caractéristiques. On souhaite se focaliser sur certaines d'entre-elles...

Indiquer les structures tectoniques qui témoignent d'une collision et qu'il conviendrait de rechercher lors d'une sortie sur le terrain.

Vous rédigez un exposé structuré. Vous pouvez vous appuyer sur des représentations graphiques judicieusement choisies. On attend des arguments pour illustrer l'exposé comme des expériences, des observations, des exemples ...



Exercice 2 – Pratique d'une démarche scientifique – 10 points

La Terre, la vie et l'organisation du vivant
Transmission, variation et expression du patrimoine génétique

La résistance aux basses températures des Inuits

Les Inuits regroupent un ensemble de populations vivant sur un territoire qui s'étend de l'Alaska à la Sibérie, où ils affrontent des températures glaciales.

Expliquer comment les Inuits peuvent résister aux très faibles températures régnant tout autour du cercle polaire arctique.

Vous organiserez votre réponse selon une démarche de votre choix intégrant des données des documents et les connaissances complémentaires nécessaires.

Document 1 - Le gène TBX15


Des généticiens ont découvert que pratiquement tous les Inuits possèdent un allèle particulier du gène TBX15. Cet allèle joue un rôle dans la différenciation des adipocytes bruns, des cellules qui produisent de la chaleur par oxydation des lipides, lorsqu'ils sont stimulés par des températures faibles.

Les généticiens ont alors comparé le gène TBX15 de 191 Inuits du Groenland à celui d'autres populations actuelles d'*Homo sapiens*, ainsi qu'à celui d'autres espèces fossiles du genre *Homo*, les néandertaliens (*Homo neandertalensis*) et les dénisoviens (*Homo denisova*).

	Pourcentage de l'allèle présent chez les Inuits
Populations africaines d' <i>Homo sapiens</i>	1 %
Dénisoviens	79 %
Néandertaliens	64 %

D'après F. Racimo et al, Molecularbiology and evolution, 2017

Document 2 - Période d'existence de trois espèces du genre *Homo*



Modèle CCYC : ©DNE

Nom de famille (naissance) :

(Suivi s'il y a lieu, du nom d'usage)

Prénom(s) :

N° candidat :

N° d'inscription :



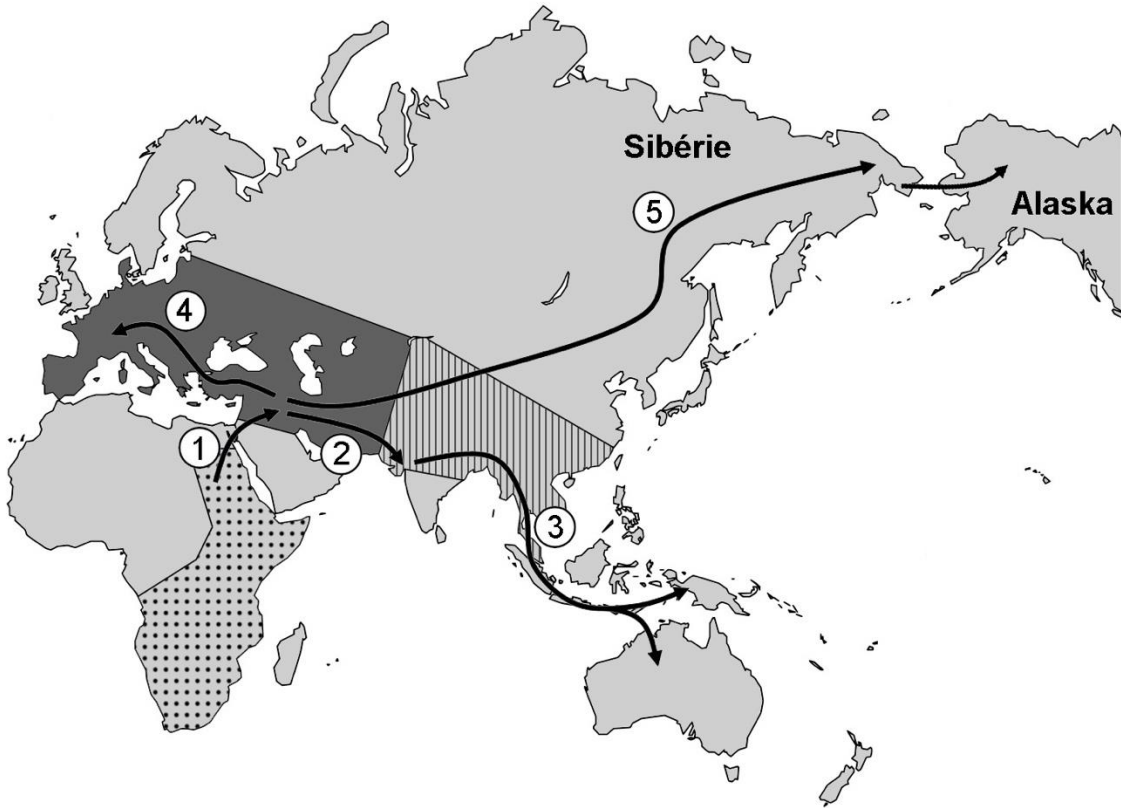
Liberté • Égalité • Fraternité
RÉPUBLIQUE FRANÇAISE


Né(e) le :

(Les numéros figurent sur la convocation.)

1.1

Document 3 - Carte des migrations humaines



 aire de répartition des premières populations d'*Homo sapiens*

 aire de répartition des populations de dénisoviens

 aire de répartition des populations de néandertaliens

- ① migration vers -100 000 ans
- ② migration vers -70 000 ans
- ③ migration vers -50 000 ans
- ④ migration vers -40 000 ans
- ⑤ migration vers -25 000 ans

D'après <https://planet-vie.ens.fr>