

TRAINING!

2021-2022

**PHYSIQUE
CHIMIE**

**PREMIÈRE
SPÉCIALITÉ**

Modèle CCYC : ©DNE

Nom de famille (naissance) :


(Suivi s'il y a lieu, du nom d'usage)

Prénom(s) :

N° candidat : N° d'inscription :

(Les numéros figurent sur la convocation.)

Né(e) le : / /

 Liberte - Egalite - Fraternite
RÉPUBLIQUE FRANÇAISE

1.1

ÉPREUVES COMMUNES DE CONTRÔLE CONTINU

CLASSE : Première

E3C : E3C1 E3C2 E3C3

VOIE : Générale Technologique Toutes voies (LV)

ENSEIGNEMENT : physique-chimie

DURÉE DE L'ÉPREUVE : 2 h

CALCULATRICE AUTORISÉE : Oui Non

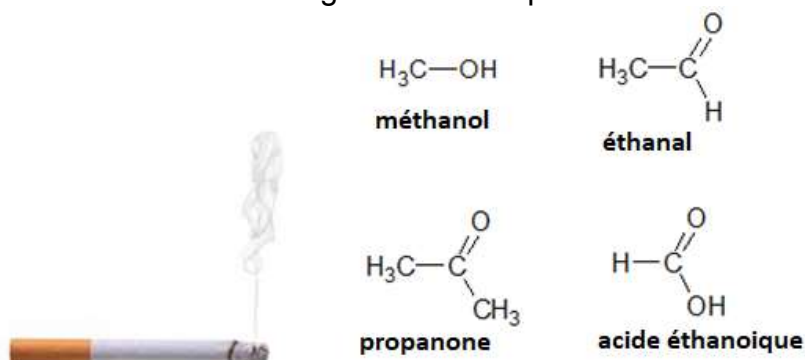
Ce sujet contient des parties à rendre par le candidat avec sa copie. De ce fait, il ne peut être dupliqué et doit être imprimé pour chaque candidat afin d'assurer ensuite sa bonne numérisation.

Nombre total de pages : 9

PARTIE A

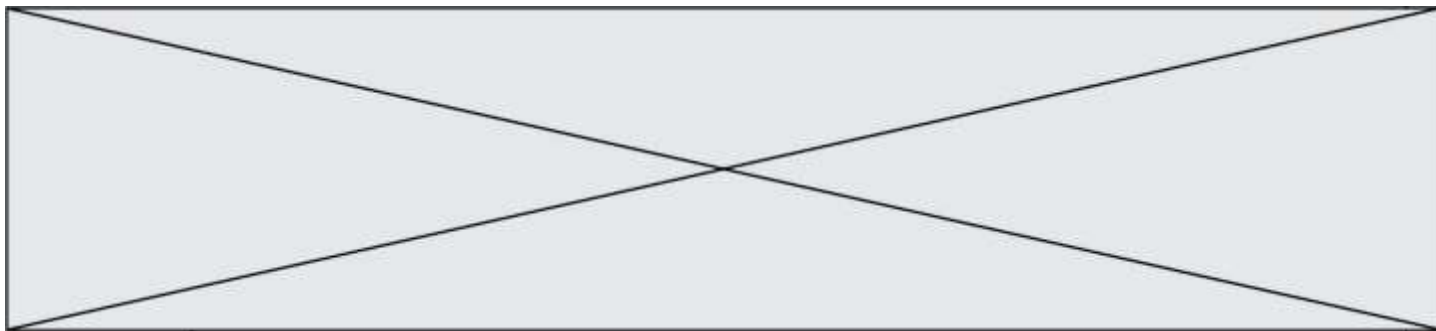
La détection du tabagisme passif (10 points)

La fumée de cigarette est l'un des polluants atmosphériques les plus répandus dans l'environnement intérieur. Allumer une cigarette initie une série de processus chimiques impliquant la transformation ou la formation de plus de 4 000 espèces chimiques : des goudrons, des gaz toxiques, des composés irritants, etc. Les formules de quelques espèces chimiques présentes dans la fumée de cigarette sont représentées ou citées ci-dessous.



cyanure d'hydrogène,
dioxyde de carbone,
monoxyde de carbone,
etc.

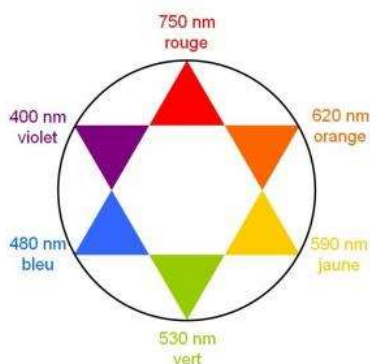
D'après <http://www.ipubli.inserm.fr/bitstream/handle/10608/149/?sequence=7>



Le tabagisme passif est défini comme l'inhalation involontaire de la fumée de tabac présente dans l'air. Dans cette partie on cherche à déterminer si une femme enceinte est victime d'un tabagisme passif.

Données :

- Numéros atomiques : H (Z = 1) ; C (Z = 6) ; N (Z = 7)
- Masse molaire de l'ion thiocyanate SCN^- : $58 \text{ g}\cdot\text{mol}^{-1}$
- Cercle chromatique :

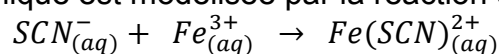


1. Après avoir recopié la formule semi-développée de chacune des quatre molécules représentées ci-dessus, identifier le groupe caractéristique présent et l'associer à une famille de composés.
2. Justifier le nom donné à la propanone.
3. Établir le schéma de Lewis de la molécule de cyanure d'hydrogène de formule HCN et proposer une géométrie pour cette molécule.

Le cyanure d'hydrogène est absorbé par le corps, puis en partie dégradé en ions thiocyanate SCN^- que l'on retrouve ensuite dans la salive ou dans l'urine. Dans la salive, par exemple, les concentrations en masse en ions thiocyanate sont en moyenne de $112 \text{ mg}\cdot\text{L}^{-1}$ chez les non-fumeurs et de $349 \text{ mg}\cdot\text{L}^{-1}$ chez les fumeurs. Les ions thiocyanate peuvent donc être considérés comme des marqueurs biologiques du tabagisme car leur concentration renseigne sur l'exposition d'une personne à la fumée du tabac.

Principe du dosage

Un échantillon noté **S** de $250 \mu\text{L}$ de salive d'une femme enceinte est prélevé. Les ions thiocyanate présents dans l'échantillon étant incolores et n'absorbant pas dans le proche ultraviolet, on les fait réagir avec une solution d'ions fer III, $\text{Fe}^{3+}(\text{aq})$. On obtient $10,0 \text{ mL}$ d'une solution **S'** dans laquelle s'est formée l'espèce ionique de formule $\text{Fe}(\text{SCN})^{2+}$, soluble dans l'eau. La transformation chimique est modélisée par la réaction d'équation suivante :



La courbe ci-dessous représente l'absorbance d'une solution aqueuse contenant l'espèce ionique $\text{Fe}(\text{SCN})^{2+}$ en fonction de la longueur d'onde.

Modèle CCYC : ©DNE

Nom de famille (naissance) :

(Suivi s'il y a lieu, du nom d'usage)

Prénom(s) :

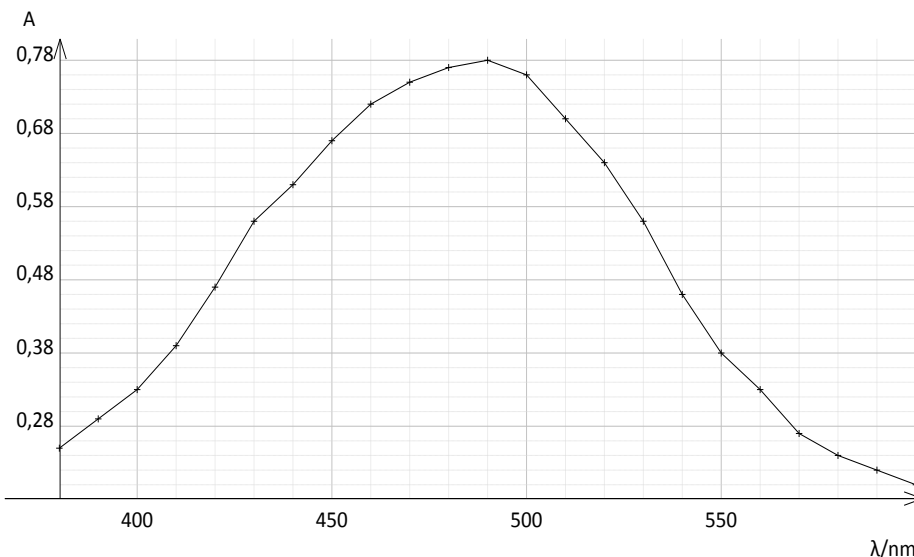
N° candidat : N° d'inscription :

(Les numéros figurent sur la convocation.)

Né(e) le : / /

Liberté - Égalité - Fraternité
RÉPUBLIQUE FRANÇAISE

1.1



4. Expliquer pourquoi les ions thiocyanate ne peuvent pas être dosés directement par spectrophotométrie UV-visible. Indiquer l'intérêt de les faire réagir avec les ions Fe^{3+}

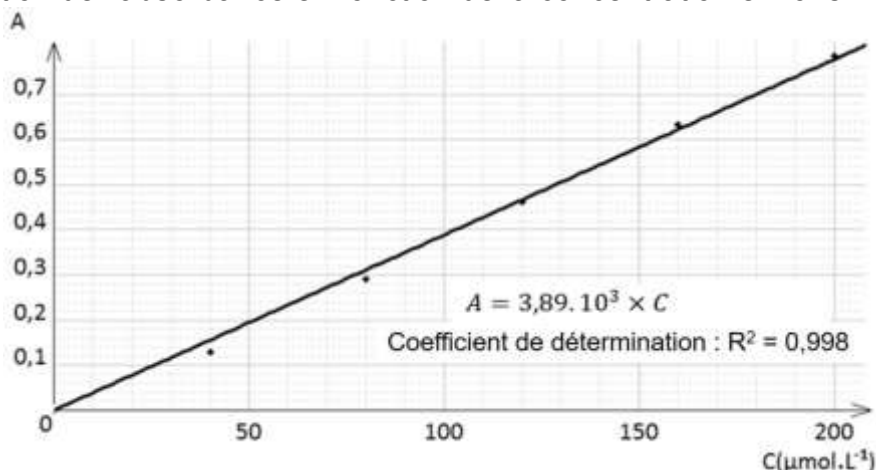
Préparation de la gamme de solution étalon et tracé de la droite d'étalonnage

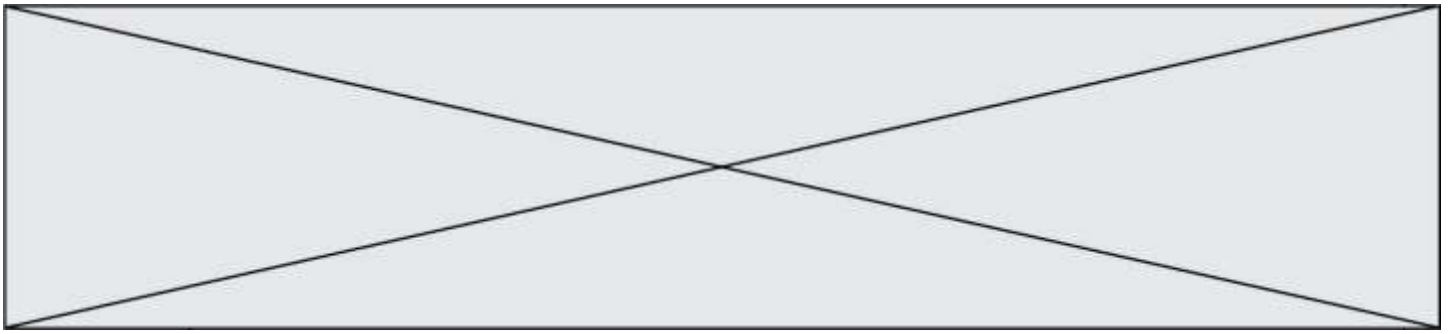
On cherche à doser l'espèce chimique $Fe(SCN)^{2+}$ présente dans la solution S' .
 À partir d'une solution S_0 de concentration $C_0 = 2,0 \times 10^{-4} \text{ mol}\cdot\text{L}^{-1}$ en ions $Fe(SCN)^{2+}$, on prépare la gamme d'étalonnage composée des solutions S_0, S_1, S_2, S_3 et S_4 dont les concentrations sont données dans le tableau ci-dessous.

Solution	S_0	S_1	S_2	S_3	S_4
$[Fe(SCN)^{2+}]$ en $\text{mol}\cdot\text{L}^{-1}$	$2,0 \times 10^{-4}$	$1,6 \times 10^{-4}$	$1,0 \times 10^{-4}$	$0,80 \times 10^{-4}$	$0,40 \times 10^{-4}$

5. Indiquer la verrerie nécessaire pour préparer 50,0 mL de solution S_2 à partir de la solution S_0 en justifiant votre raisonnement.

On mesure l'absorbance de chacune des solutions et on trace le graphique ci-dessous donnant l'évolution de l'absorbance en fonction de la concentration en ions $Fe(SCN)^{2+}$.





6. Après avoir rappelé l'expression de la loi de Beer-Lambert en indiquant les unités des grandeurs, déterminer si les résultats expérimentaux obtenus sont en accord avec cette loi.

Détermination de la concentration en ions thiocyanate dans la salive

Dans la solution **S'** tous les ions thiocyanate contenus dans la salive de la femme enceinte ont réagi avec les ions Fe^{3+} présents en large excès. L'absorbance de la solution **S'** a pour valeur $A = 0,65$.

7. Déterminer la concentration en quantité de matière des ions $Fe(SCN)^{2+}$ dans la solution **S'**. En déduire leur quantité de matière dans la solution de volume $V = 10,0$ mL.
8. Recopier et compléter le tableau d'avancement ci-dessous. En déduire la relation entre la quantité de matière des ions $Fe(SCN)^{2+}$ à la fin de la transformation et la quantité de matière en ions SCN^- initialement présente dans la solution.

		$SCN^-_{(aq)} + Fe^{3+}_{(aq)} \rightarrow Fe(SCN)^{2+}_{(aq)}$		
État du système	Avancement (en mol)	$n(SCN^-)$	$n(Fe^{3+})$	$n(Fe(SCN)^{2+})$
État initial	$x = 0$		excès	
État final	x_{max}		excès	

9. Déterminer la valeur de la concentration en masse des ions thiocyanate SCN^- dans l'échantillon de salive de la femme enceinte et conclure sur le potentiel tabagisme passif de cette femme.
L'élève est invité à prendre des initiatives et à présenter la démarche suivie, même si elle n'a pas abouti.

PARTIE B

La photographie (10 points)

Le monde de la photographie évolue sans cesse. Après les appareils argentiques, utilisant des pellicules au format 24×36 mm, les appareils numériques ont fait leur apparition. Les dimensions du capteur utilisé dans ces appareils dépendent de la gamme de l'appareil. Pour des appareils compacts, le format du capteur n'excède pas 6×8 mm. Pour les appareils dits « réflex », il peut aller jusqu'à 24×36 mm.

Modèle CCYC : ©DNE

Nom de famille (naissance) :

(Suivi s'il y a lieu, du nom d'usage)

Prénom(s) :

N° candidat : N° d'inscription :

(Les numéros figurent sur la convocation.)

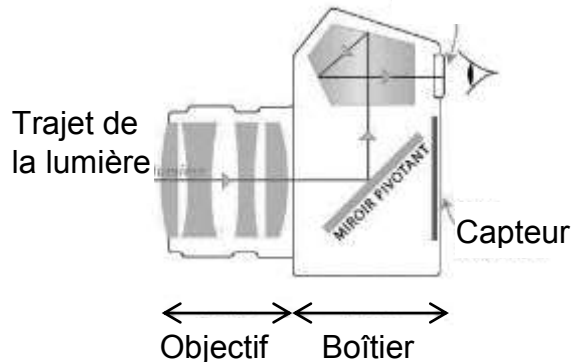
Né(e) le : / /

Liberté - Égalité - Fraternité
RÉPUBLIQUE FRANÇAISE

1.1

Principe de l'appareil réflex et modélisation de l'objectif

L'objectif de l'appareil, composé de plusieurs lentilles, est caractérisé par sa distance focale. Un miroir pivotant situé dans le boîtier de l'appareil permet au photographe d'observer dans le viseur le sujet qu'il photographie. Le miroir pivotant se lève au moment de prendre le cliché : la lumière, après avoir traversé l'objectif, arrive alors directement sur le capteur.



Pour simplifier, l'objectif peut être modélisé par une lentille mince convergente unique, dont la distance focale est égale à celle de l'objectif. Les distances sont donc exprimées par rapport au centre optique de cette lentille.

Quelques standards de capteurs pour appareils photographiques réflex

Standard	Diagonale	Dimensions
Système micro 4/3	21,6 mm	13 × 17,3 mm
APS-C	24,8 mm	15,8 × 23,6 mm
Plein format	43,3 mm	24 × 36 mm

Données :

- relation de conjugaison : $\frac{1}{OA'} = \frac{1}{OA} + \frac{1}{OF'}$;
- grandissement : $\gamma = \frac{A'B'}{AB} = \frac{OA'}{OA}$ où O est le centre optique de la lentille, OF' (ou f') la distance focale de la lentille, AB l'objet et A'B' l'image de cet objet obtenu avec la lentille mince.

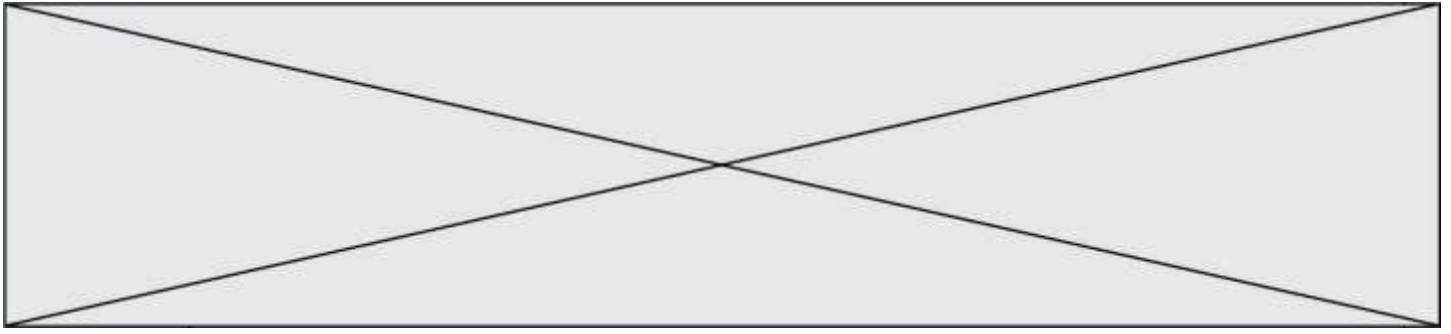
1. Gros plan sur un martin pêcheur.

Un photographe dit avoir pris la photographie ci-contre, en milieu naturel, avec un objectif dont la distance focale peut varier de 28 mm à 100 mm. Il ne précise pas la distance focale utilisée pour cette image. L'oiseau était situé à 45 cm du centre optique de l'objectif et le capteur à 63 mm de ce centre optique. La taille d'un martin pêcheur adulte est de l'ordre de 16 cm.



source ixabay.com/fr

1.1. Distance focale de l'objectif.



1.1.1. Réaliser sur l'**annexe à rendre avec la copie** une construction graphique, à l'échelle $\frac{1}{4}$, pour déterminer la valeur de la distance focale de l'objectif lors de la prise de cette photo.

1.1.2. Retrouver cette valeur par un calcul.

1.2. Format du capteur.

1.2.1. Calculer le grandissement γ , puis la taille de l'image sur le capteur. Commenter les résultats obtenus et vérifier leur cohérence avec le schéma réalisé.

1.2.2. Quel(s) type(s) de capteur(s) le photographe a-t-il pu utiliser ? Justifier.

1.3. Exercer un regard critique sur les valeurs des distances précisées par le photographe dans cette situation.

2. Restitution des couleurs.

L'écran d'un appareil photographique numérique permet d'observer la photographie obtenue. Les pixels de l'écran sont de trois types selon qu'ils émettent une lumière rouge (R), une lumière verte (V) ou une lumière bleue (B).

2.1. La couleur du plumage du ventre de l'oiseau ci-dessus peut être assimilée à du rouge.

2.1.1. Comment qualifie-t-on la lumière qui éclaire l'oiseau en milieu naturel ?

2.1.2. En utilisant le vocabulaire scientifique adapté, formuler une hypothèse expliquant pourquoi le plumage du ventre de l'oiseau apparaît rouge.

2.2. Restitution des couleurs sur l'écran.


2.2.1. Comment nomme-t-on la synthèse des couleurs en jeu dans la restitution des couleurs sur l'écran de l'appareil photographique ?

2.2.2. Quel(s) est(sont) le(s) pixel(s) activé(s) dans la zone de l'image correspondant :


- au plumage des ailes, de couleur cyan ;
- à la pointe du bec qui est noire ;
- à la zone du cou qui est blanche.

3. Règle des tiers.

La photo ci-dessous a été prise avec un appareil muni d'un objectif de distance focale f' égale à 50 mm. Elle respecte la règle des tiers, règle académique permettant de réussir nombre de cadrages. Cette règle consiste à placer les éléments forts de l'image sur les lignes horizontales et verticales placées au tiers de l'image, et aux points d'intersection entre ces lignes.



source pixabay.com/fr

Modèle CCYC : ©DNE																				
Nom de famille (naissance) : <small>(Suivi s'il y a lieu, du nom d'usage)</small>																				
Prénom(s) :																				
N° candidat :											N° d'inscription :									
 Liberté - Égalité - Fraternité RÉPUBLIQUE FRANÇAISE	<small>(Les numéros figurent sur la convocation.)</small>																			
Né(e) le :			/			/														

1.1

Données :

- Extrait des caractéristiques de l'appareil réflex numérique utilisé :

Type	
Type	Appareil photo numérique de type réflex
Monture d'objectif	Monture à baionnette avec couplage AF et contacts AF
Angle de champ	Équivalent à l'angle de la focale de l'objectif (1,5 fois lorsque le format DX est sélectionné)
Pixels effectifs	
Pixels effectifs	12,1 millions
Capteur d'image	
Capteur d'image	Capteur CMOS ; 23,9 x 36 mm
Nombre total de pixels	12,87 millions

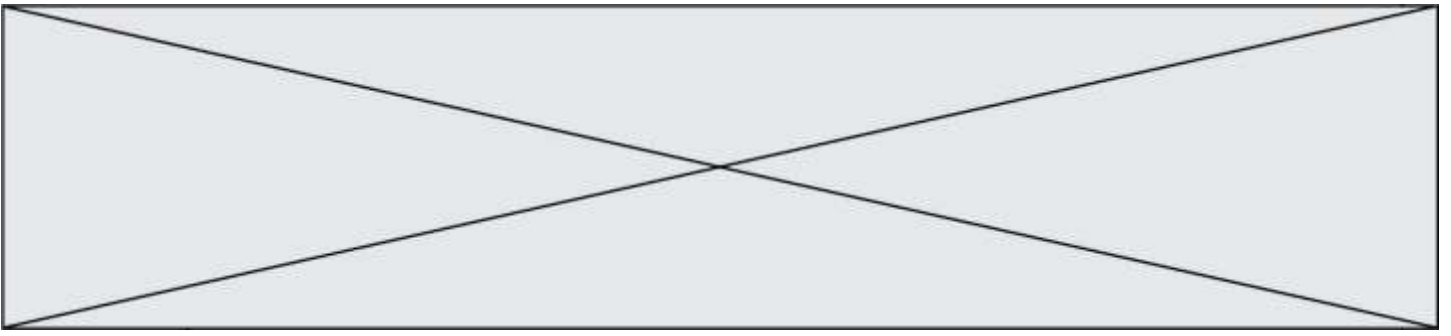
- Largeur de la main de l'adulte entre l'index et l'annulaire : 8,5 cm

3.1. À quel standard de capteur appartient le capteur de l'appareil utilisé ?

3.2. Déterminer à quelle distance des mains l'objectif doit être placé pour que l'image obtenue respecte la règle des tiers, c'est-à-dire pour que l'image de la main de l'adulte soit située entre les deux lignes des horizontales dites « des tiers ».

Le candidat est évalué sur ses capacités à concevoir et à mettre en œuvre une démarche de résolution, ainsi que sur la qualité de sa rédaction.

Toutes les prises d'initiative et toutes les tentatives de résolution, même partielles, seront valorisées.



Modèle CCYC : ©DNE

Nom de famille (naissance) :


(Suivi s'il y a lieu, du nom d'usage)

Prénom(s) :

N° candidat : N° d'inscription :

(Les numéros figurent sur la convocation.)

Né(e) le : / /



RÉPUBLIQUE FRANÇAISE

1.1

Annexe à rendre avec la copie

Question 1.1.1.

