

TRAINING!

2021-2022

**PHYSIQUE
CHIMIE**

**PREMIÈRE
SPÉCIALITÉ**

Modèle CCYC : ©DNE

Nom de famille (naissance) :


(Suivi s'il y a lieu, du nom d'usage)

Prénom(s) :

N° candidat : N° d'inscription :

(Les numéros figurent sur la convocation.)

Né(e) le : / /



1.1

ÉPREUVES COMMUNES DE CONTRÔLE CONTINU

CLASSE : Première

E3C : E3C1 E3C2 E3C3

VOIE : Générale Technologique Toutes voies (LV)

ENSEIGNEMENT : physique-chimie

DURÉE DE L'ÉPREUVE : 2 h

CALCULATRICE AUTORISÉE : Oui Non

Ce sujet contient des parties à rendre par le candidat avec sa copie. De ce fait, il ne peut être dupliqué et doit être imprimé pour chaque candidat afin d'assurer ensuite sa bonne numérisation.

Nombre total de pages : 8

PARTIE A

L'expédition GOMBESSA 5 : planète Méditerranée (10 points)

Le projet GOMBESSA 5 mené par Laurent Ballesta et son équipe du 1^{er} au 28 juillet 2019 consiste à pouvoir sillonner les grandes profondeurs sans se soucier de la remontée, à pouvoir explorer les trésors de la Méditerranée et à pouvoir collecter un maximum d'informations sur la biodiversité.



Source : d'après <http://www.leparisien.fr/environnement/dans-les-abysse-de-la-mediterranee-l-incroyable-expedition-de-laurent-ballesta-13-06-2019-8092164.php>

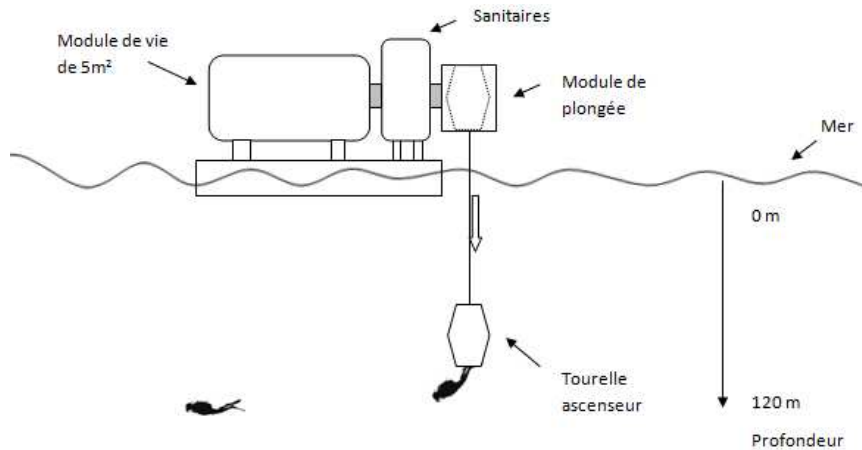
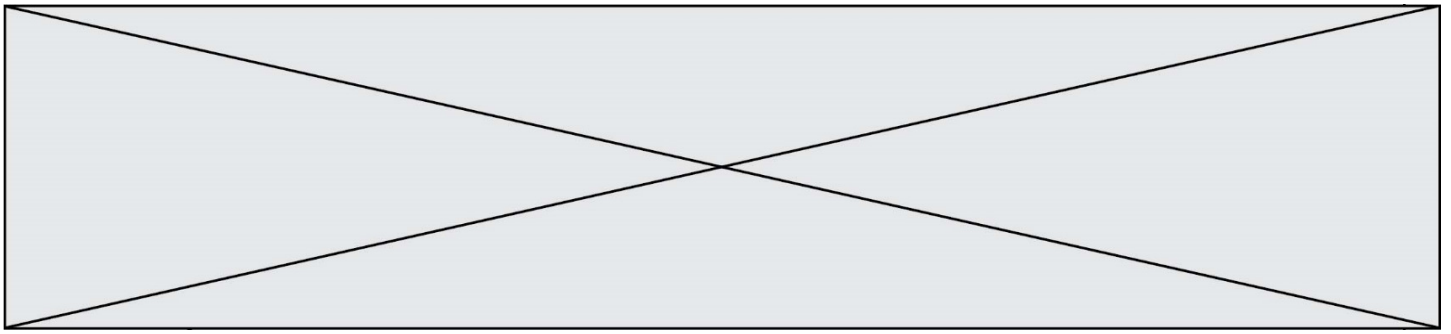
Partie 1 : comprendre les particularités de la plongée de Laurent Ballesta

Le dispositif Gombessa 5

Chaque jour, une tourelle descend les plongeurs depuis la station flottante jusqu'à une profondeur de 120 mètres. Ils remontent à la surface pour manger et se reposer, mais toujours enfermés dans un module de vie et soumis à une pression 13 fois supérieure à celle de l'atmosphère. C'est une plongée à saturation.

Les sorties sous-marines durent de 6 à 8 h.

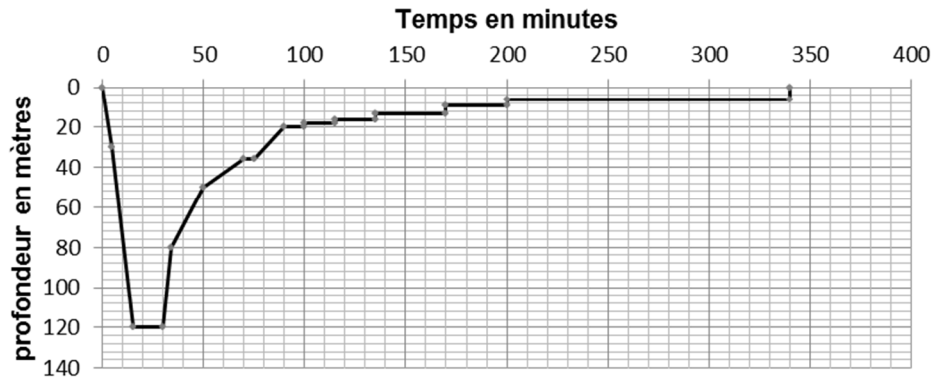




Source : d'après <http://inpp.org>

Profil recommandé pour une plongée à 120 m de profondeur sans dispositif Gombessa 5

Un plongeur démarre sa plongée depuis la surface et est initialement soumis à la pression atmosphérique. Le profil donne la durée de chaque étape de la plongée.



Source : d'après JM Belin –Choix des mélanges pour des plongées profondes

En plongée les gaz sont comprimés à la descente et détendus à la remontée. Il importe donc que ceux-ci puissent circuler librement dans l'organisme du plongeur. Si ce n'est pas le cas, les parois des cavités peuvent être lésées. Ces accidents sont appelés « barotraumatismes ». Le plus grave est la « surpression pulmonaire » qui touche le plus souvent les plongeurs débutants.

La remontée doit se faire en respectant scrupuleusement des paliers de décompression pour éviter toute embolie gazeuse (présence de bulles dans la circulation sanguine).

Source : d'après <http://culturesciences.chimie.ens.fr>

Modèle CCYC : ©DNE																					
Nom de famille (naissance) : <small>(Suivi s'il y a lieu, du nom d'usage)</small>																					
Prénom(s) :																					
N° candidat :											N° d'inscription :										
<small>(Les numéros figurent sur la convocation.)</small>																					
Né(e) le :			/			/															

Liberté • Égalité • Fraternité
RÉPUBLIQUE FRANÇAISE

1.1

Données :

- intensité du champ de pesanteur $g = 9,81 \text{ N}\cdot\text{kg}^{-1}$;
- masse volumique de l'eau de mer à $18 \text{ }^\circ\text{C}$ $\rho_{\text{mer}} = 1028 \text{ kg}\cdot\text{m}^{-3}$;
- loi fondamentale de la statique des fluides pour un fluide incompressible entre deux points A et B d'altitude respective z_A et z_B (repérée sur un axe vertical orienté vers le haut) :

$$P_A - P_B = \rho \cdot g \cdot (z_B - z_A) ;$$

- pression atmosphérique en Méditerranée (juillet 2019) : $P_{\text{atm}} = 1020 \text{ hPa}$;
- $1 \text{ bar} = 1 \times 10^5 \text{ Pa}$.

- À l'aide des informations données, déterminer la durée d'observation du fond marin à une profondeur $h = 120 \text{ m}$ pour un plongeur qui n'utilise pas le dispositif Gombessa 5.
- Déterminer la valeur de la pression en pascal (Pa) à laquelle est soumise un plongeur à une profondeur $h = 120 \text{ m}$. Comparer avec l'indication donnée dans le document décrivant le dispositif Gombessa 5.
- Justifier l'intérêt du dispositif Gombessa 5 et des plongées à saturation réalisées par l'équipe de Laurent Ballesta pour faire ses observations à 120 m de profondeur. Au moins deux éléments de réponses sont attendus.

Partie 2 : mais quelle est donc cette drôle de voix ?

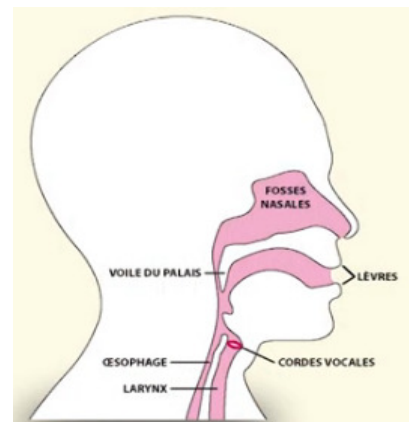
« Dans notre caisson nous respirons un air pauvre en oxygène. Normalement la proportion d'oxygène dans l'atmosphère est de 21 % et de 79 % d'azote. Là c'est essentiellement de l'hélium (90 %) et seulement 3 à 4 % d'oxygène [...]. Mais il transforme les voix en voix de canard et pour se comprendre nous portons un casque micro qui corrige cette déformation ».

Laurent Ballesta D'après <http://inpp.org>

La parole humaine : un phénomène très complexe

La hauteur du son émis dépend de plusieurs facteurs comme les dimensions du larynx, la tension des cordes vocales et la vitesse de propagation du son dans l'air. Le gaz qui sert à la production de la voix est le gaz expiré mais quelle que soit la célérité du son produit, la longueur d'onde λ du son émis est toujours la même.

D'après <http://phymain.unisciel.fr/de-lhelium-pour-parler-comme-mickey/>



On souhaite en laboratoire reproduire la modification de la voix de Laurent Ballesta. On enregistre à l'aide d'une interface d'acquisition et d'un microphone un son émis dans l'air à la température de $20 \text{ }^\circ\text{C}$ (figure 1).

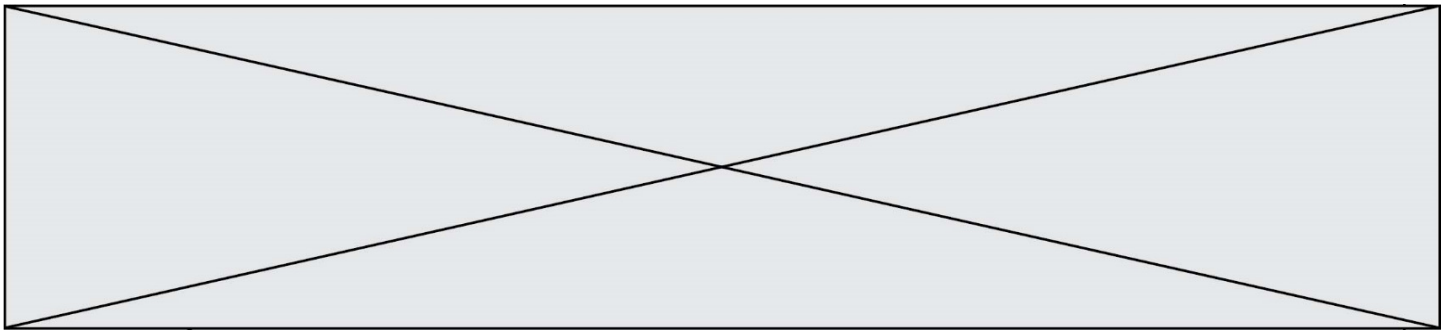
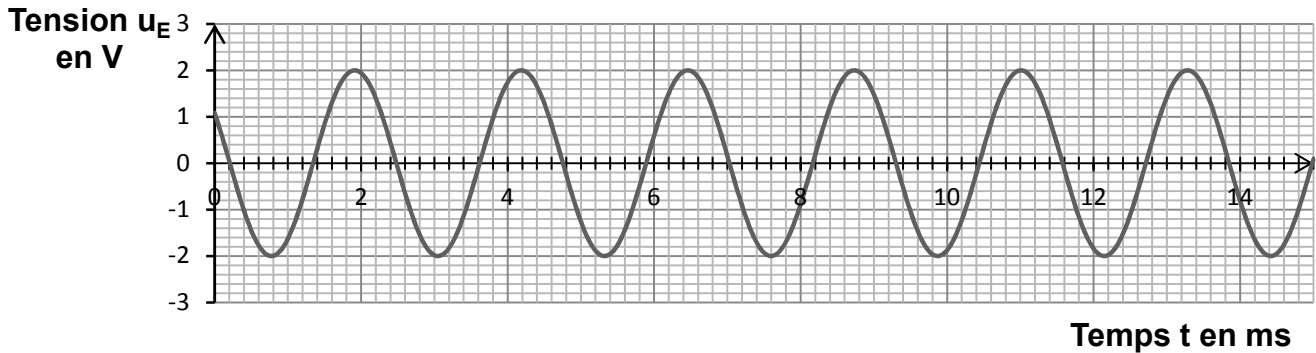


Figure 1 : évolution de la tension au bornes du microphone en fonction du temps



Données à la température de 20 °C :

- célérité du son dans l'air : $v_{air} = 3,43 \times 10^2 \text{ m}\cdot\text{s}^{-1}$;
- célérité du son dans l'hélium : $v_{hélium} = 1,02 \times 10^3 \text{ m}\cdot\text{s}^{-1}$.

2.1. Déterminer le plus précisément possible la valeur de la période T du signal enregistré (figure1). Une rédaction détaillée est attendue.

2.2. En déduire la valeur de la fréquence f du son émis.

2.3. On souhaite déterminer la longueur d'onde λ du son émis. On dispose de deux micros placés côte à côte. Les signaux captés par les deux micros sont en phase. On déplace un des deux micros jusqu'à ce que les deux signaux reviennent pour la première fois en phase. La distance qui sépare les micros est alors $d = 76,9 \text{ cm}$.

2.3.1. Donner la définition de la longueur d'onde λ d'un signal sinusoïdal.

2.3.2. Déterminer la valeur de la longueur d'onde du son émis. Expliquer comment améliorer la précision de la mesure.

2.4. À partir des mesures effectuées déterminer la valeur célérité du son dans l'air.

Commenter.

2.5. On souhaite reproduire l'effet « voix de canard » observé par les plongeurs. Déterminer la valeur de la fréquence avec laquelle on doit régler le générateur pour imiter la modification d'un son émis cette fois dans l'hélium, sachant que la longueur d'onde du son émis est conservée mais que la célérité du son dans l'hélium est différente de celle dans l'air.

Commenter.

Partie 3 : retrouver la tourelle à la fin de la plongée : se localiser sous l'eau

Le système de positionnement mondial (GPS) pour se localiser sur Terre utilise les ondes électromagnétiques issues d'au moins quatre satellites. Mais sous l'eau, il est impossible de les utiliser car elles ne pénètrent quasiment pas l'eau. La technologie qui est actuellement mise au point consiste donc à utiliser des ondes acoustiques.

Présentation du système GPS sous-marin

Modèle CCYC : ©DNE

Nom de famille (naissance) :


(Suivi s'il y a lieu, du nom d'usage)

Prénom(s) :

N° candidat : N° d'inscription :

(Les numéros figurent sur la convocation.)

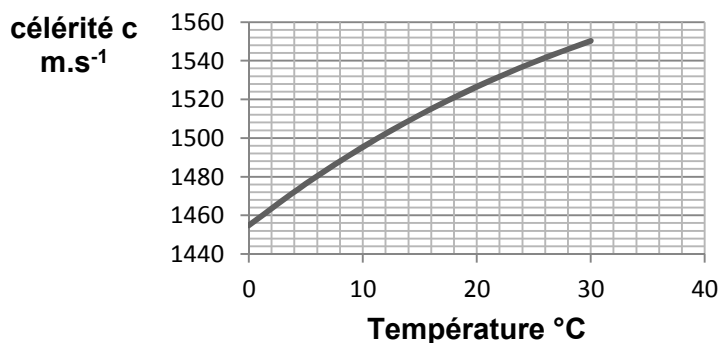
Né(e) le : / /



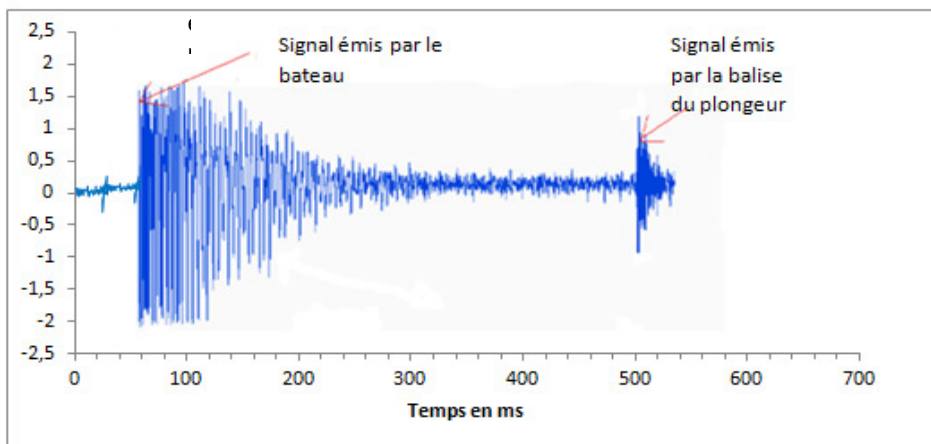
1.1

Le bateau émet un signal ultrasonore qui est capté et renvoyé par la balise que porte à son poignet le plongeur. L'ordinateur de bord du bateau enregistre les deux signaux et détermine la distance entre le plongeur et le bateau.

Célérité des ondes ultrasonores dans l'eau en fonction de la température pour une salinité (teneur en sel) de 38 ‰



Amplitude des signaux enregistrés par l'ordinateur situé sur le bateau au cours du temps

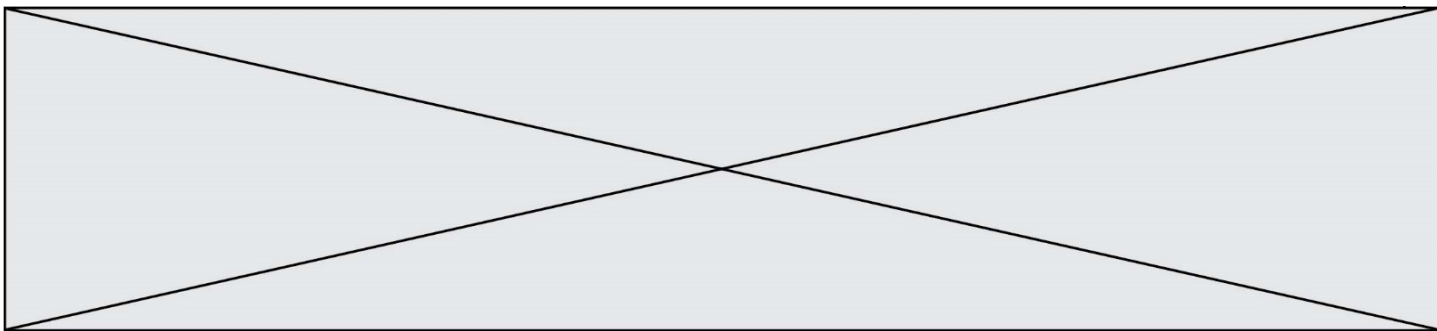


À partir des documents ci-dessus, déterminer à quelle distance du bateau est situé le plongeur. La température moyenne de l'eau est de 18 °C.
 Expliquer si cette seule mesure est suffisante pour déterminer la position exacte du plongeur. La réponse doit être argumentée et peut prendre éventuellement appui sur un schéma.
Le candidat est invité à prendre des initiatives et à présenter la démarche suivie, même si elle n'a pas abouti. La démarche est évaluée et nécessite d'être correctement présentée.

PARTIE B

Le bleu de méthylène en médecine et en biologie (10 points)

Le bleu de méthylène est une espèce chimique organique de formule brute C₁₆H₁₈N₃SCl. A l'état pur, le bleu de méthylène se présente sous la forme d'une poudre soluble dans l'eau. Il



peut être utilisé, à la fois comme colorant ou comme médicament. Son action repose sur ses propriétés oxydo-réductrices : sa forme oxydée est bleue et sa forme réduite est incolore. Certaines propriétés du bleu de méthylène sont utilisées pour des expériences en biochimie. Par exemple, en présence de glucose le bleu de méthylène est réduit et ce dernier se transforme en une espèce non colorée.

D'autres propriétés sont utilisées en médecine. Le bleu de méthylène peut servir à colorer des bactéries pour les visualiser au microscope. Quand il entre dans le cytoplasme d'une cellule vivante, le bleu de méthylène est réduit car c'est un environnement réducteur : les cellules vivantes paraissent incolores. En revanche, des cellules mortes sont colorées en bleu car le bleu de méthylène y reste sous sa forme oxydée.

D'après www.futura-sciences.com

L'objectif de cet exercice est d'étudier une propriété du bleu de méthylène puis d'effectuer un contrôle de qualité, par dosage spectrophotométrique, d'une préparation microscopique utilisée dans le domaine de la santé.

Partie 1 : Propriétés oxydantes du bleu de méthylène

Un extrait de protocole est donné ci-dessous :

« Dans un erlenmeyer contenant une solution aqueuse de glucose, on ajoute une solution de bleu de méthylène $BM^+_{(aq)}$. Le mélange, initialement bleu, devient progressivement incolore ».

Couples oxydant-réducteur mis en jeu :

- $BM^+(aq) / BMH(aq)$
- $RCOOH(aq) / RCHO(aq)$
- le glucose est noté $RCHO(aq)$.
- la forme oxydée du bleu de méthylène, noté BM^+ , est la seule espèce colorée en solution aqueuse.

1.1. Donner la définition d'un oxydant.

1.2. Donner la définition d'une réduction.

1.3. Écrire les demi-équations électroniques relatives aux couples du bleu de méthylène $BM^+(aq) / BMH(aq)$ et du glucose $RCOOH(aq) / RCHO(aq)$

1.4. En déduire l'équation de la réaction modélisant la transformation décrite dans l'extrait du protocole.

Partie 2 : Dosage d'une solution de bleu de méthylène

Le bleu de méthylène est un colorant pour préparation microscopique utilisé essentiellement pour colorer les noyaux des cellules afin d'apprécier le nombre de cellules mortes.

Un technicien de laboratoire souhaite déterminer avec précision la concentration du colorant dans une solution S dont l'étiquette porte l'indication suivante :

« **Bleu de méthylène $3,2\text{mmol.L}^{-1}$** »

Modèle CCYC : ©DNE

Nom de famille (naissance) :

(Suivi s'il y a lieu, du nom d'usage)

Prénom(s) :

N° candidat : N° d'inscription :

(Les numéros figurent sur la convocation.)

Né(e) le : / /

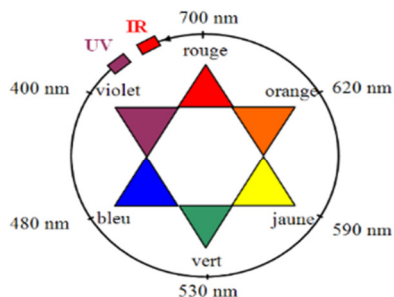
Liberté • Égalité • Fraternité
RÉPUBLIQUE FRANÇAISE

1.1

On note C_S la concentration en bleu de méthylène de la solution S. Cette concentration est déterminée par une méthode spectrophotométrie.
On mesure l'évolution de l'absorbance A d'une solution de bleu de méthylène pour différentes longueurs d'onde λ .

Données :

- Cercle chromatique

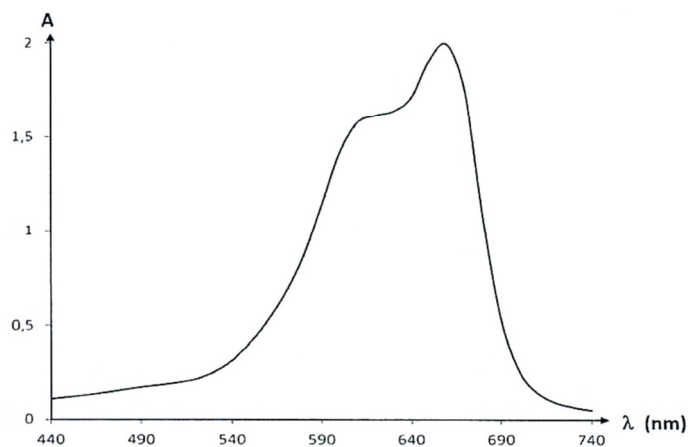


- Extrait du tableau périodique des éléments

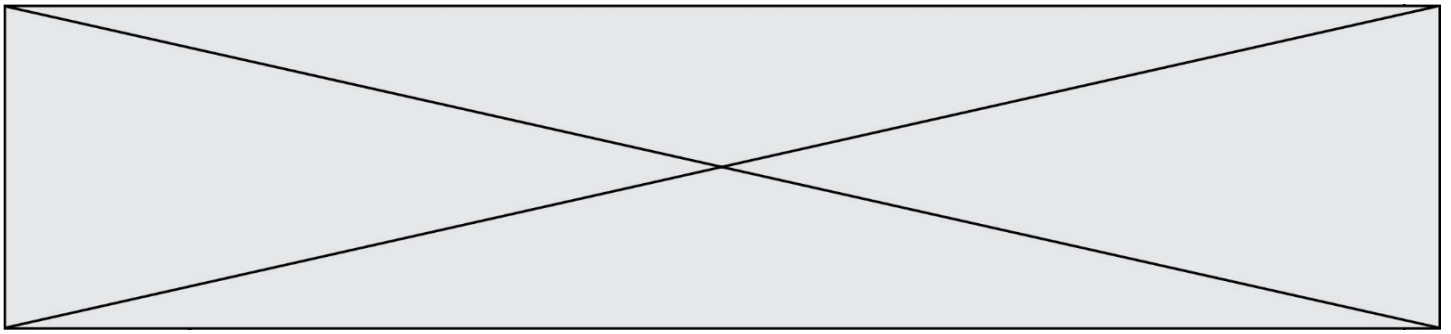
1 IA												18 VIIIA													
1	H											2	He												
HYDROGÈNE												HÉLIUM													
3	Li	4	Be											5	B	6	C	7	N	8	O	9	F	10	Ne
LITHIUM		BÉRYLLIUM												BORE		CARBONE		AZOTE		OXYGÈNE		FLUOR		NÉON	
11	Na	12	Mg											13	Al	14	Si	15	P	16	S	17	Cl	18	Ar
SODIUM		MAGNÉSIMUM												ALUMINIUM		SILICIUM		PHOSPHORE		SOUFRE		CHLORE		ARGON	

Numéro atomique (Z) : 6, Masse molaire en g.mol⁻¹ : 12,011, Symbole de l'atome : C, Nom de l'atome : CARBONE

- Spectre d'absorbance du bleu de méthylène



2.1. Commenter l'allure spectre d'absorption du bleu de méthylène et justifier la couleur de la solution de ce colorant.



Pour déterminer la concentration C_S en bleu de méthylène de la solution S, on prépare une gamme de solutions notées S_1 à S_4 , de volume 25,0 mL chacune, à partir d'une solution mère de concentration en masse égale à $5,0 \text{ mg.L}^{-1}$.

L'absorbance des solutions a été mesurée à l'aide d'un spectrophotomètre préalablement réglé sur la valeur λ_{max} du spectre d'absorption. Les résultats sont reproduits dans le tableau ci-dessous :

Solution	S_0	S_1	S_2	S_3	S_4
Concentration en masse C_i (en mg.L^{-1})	5,0	4,0	3,0	2,0	1,0
Absorbance A	0,610	0,480	0,374	0,243	0,126

2.2. Ecrire le protocole détaillé de la préparation de la solution S_3 à partir de la solution mère S_0 , en précisant la verrerie nécessaire.

2.3. La loi de Beer Lambert est-elle vérifiée ? Justifier le par le calcul, sans réaliser de graphique.

2.4. En déduire une relation entre A l'absorbance de la solution et C la concentration en masse du bleu de méthylène, en précisant les unités des grandeurs.

2.5. Une solution S_D de bleu de méthylène a été obtenue en diluant 400 fois la solution S. La mesure de l'absorbance de la solution S_D vaut $A_D = 0,328$.

2.5.1. Déterminer la concentration C_D de la solution S_D .

2.5.2. En considérant une incertitude-type de mesure $u(C_S)$ égale à $0,2 \text{ mmol.L}^{-1}$, la valeur C_S obtenue expérimentalement est-elle en accord avec l'étiquetage de la solution S ? Justifier.