

SUJET

2020-2021

PHYSIQUE-CHIMIE

Première **Spé Maths**

ÉVALUATIONS COMMUNES

Modèle CCYC : ©DNE																										
Nom de famille (naissance) : <small>(Suivi s'il y a lieu, du nom d'usage)</small>																										
Prénom(s) :																										
N° candidat :													N° d'inscription :													
<small>(Les numéros figurent sur la convocation.)</small>																										
Né(e) le :			/			/																				

Liberté - Égalité - Fraternité
RÉPUBLIQUE FRANÇAISE

1.1

ÉPREUVES COMMUNES DE CONTRÔLE CONTINU

CLASSE : Première

E3C : E3C1 E3C2 E3C3

VOIE : Générale Technologique Toutes voies (LV)

ENSEIGNEMENT : physique-chimie

DURÉE DE L'ÉPREUVE : 2 h

CALCULATRICE AUTORISÉE : Oui Non

Ce sujet contient des parties à rendre par le candidat avec sa copie. De ce fait, il ne peut être dupliqué et doit être imprimé pour chaque candidat afin d'assurer ensuite sa bonne numérisation.

Nombre total de pages : 9

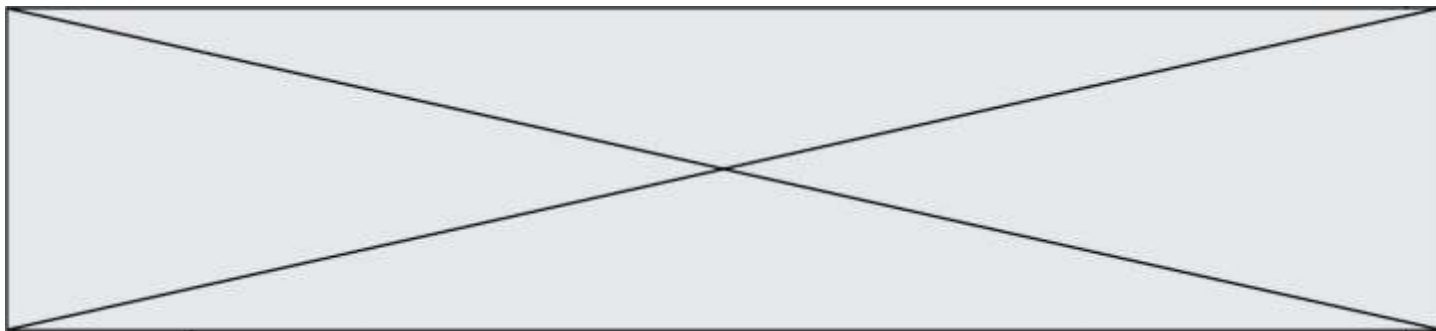
PARTIE A

Réalisation d'une végétation métallique (10 points)

En chimie, une végétation métallique est un type de dendrites produites par certaines transformations chimiques. La découverte de ces « feuillages métalliques » est attribuée à des alchimistes au Moyen-Age, qui croyaient y voir un phénomène magique. L'alchimie, malgré son statut de pseudoscience (c'est à dire de « fausse » science), a eu un rôle important dans le développement, au cours du XVIII^e siècle, de la chimie en tant que discipline scientifique s'appuyant sur des faits expérimentaux.



Figure 1. Un des premières publications d'une végétation chimique par Athanase Kircher, dans *Mundus subterraneus* en 1660 (d'après : wikipedia.org/Athanasius-Kircher-Mundus-subterraneus.jpg)



On s'intéresse dans cet exercice à la modélisation du phénomène de « végétations métalliques » à l'aide des outils de la chimie moderne, en s'interrogeant notamment sur la nature de ce métal qui se dépose comme les feuilles d'un arbre.

Données :

- Couples oxydant/réducteur
 - couple ion argent/argent : Ag^+/Ag ;
 - couple ion cuivre/cuivre : Cu^{2+}/Cu .
- Couleurs des solutions aqueuses :
 - les ions cuivre $\text{Cu}^{2+}(\text{aq})$ donnent une couleur bleue aux solutions aqueuses ;
 - les ions argent $\text{Ag}^+(\text{aq})$ et les ions nitrate $\text{NO}_3^-(\text{aq})$ sont incolores en solution aqueuse.
- Masses molaires atomiques :
 - $M(\text{Cu}) = 63,5 \text{ g/mol}$, $M(\text{O}) = 16,0 \text{ g/mol}$, $M(\text{Ag}) = 107,9 \text{ g/mol}$, $M(\text{N}) = 14,0 \text{ g/mol}$.
- Électronégativités selon l'échelle de Pauling : O : 3,2 , C : 2,6 , H : 2,2.

Les alchimistes décrivent l'arbre de Diane comme une végétation d'argent se déposant sur un tronc fait en cuivre.

On souhaite fabriquer un arbre de Diane au laboratoire. Pour ce faire, on place un fil de cuivre, de masse initiale $m' = 5,6 \text{ g}$ dans un bécher contenant $V = 220 \text{ mL}$ d'une solution de nitrate d'argent à la concentration en quantité de matière égale à $c = 0,10 \text{ mol.L}^{-1}$.

1. Préparation de la solution métallique pour réaliser l'arbre de Diane

Pour les chimistes, l'eau est un solvant très utilisé. Ses propriétés sont utilisées dans la réalisation de la végétation métallique car l'eau est capable de dissoudre le nitrate d'argent $\text{AgNO}_3(\text{s})$ et les autres ions intervenant dans le phénomène.

- 1.1. Donner le schéma de Lewis d'une molécule d'eau, justifier sa forme coudée et indiquer ses propriétés en lien avec les électronégativités des atomes qui la constituent.
- 1.2. Écrire l'équation de la réaction modélisant la dissolution du nitrate d'argent dans l'eau. Préciser l'état physique des différentes espèces chimiques.
- 1.3. On note c la concentration en quantité de matière apportée en nitrate d'argent dans une solution. Exprimer, en fonction de c , la concentration en ions argent dissous $[\text{Ag}^+]$, si la dissolution est totale.
- 1.4. En déduire la quantité de matière n d'ions argent Ag^+ contenue dans 250 mL de la solution de nitrate d'argent de concentration $c = 0,10 \text{ mol.L}^{-1}$ et indiquer la masse m de nitrate d'argent nécessaire pour préparer cette solution.
- 1.5. Proposer un protocole pour préparer cette solution avec le matériel et les éléments de verrerie usuels au laboratoire, dont on précisera le nom et le volume si nécessaire.

Modèle CCYC : ©DNE

Nom de famille (naissance) :


(Suivi s'il y a lieu, du nom d'usage)

Prénom(s) :

N° candidat : N° d'inscription :

(Les numéros figurent sur la convocation.)

Né(e) le : / /

 Liberté - Égalité - Fraternité
RÉPUBLIQUE FRANÇAISE

1.1

2. Modélisation de la transformation chimique intervenant dans l'arbre de Diane

On réalise l'expérience, et on prend en photos le système chimique dans son état initial et dans son état final. Dans l'état initial, la solution est incolore (photographie de gauche ci-après). Après plusieurs heures, la solution se colore progressivement en bleu, et le fil de cuivre se recouvre d'un solide brillant déposé sous forme de « feuillage métallique », qui porte le nom d'« arbre de Diane » (photographie de droite ci-après).



État initial



État final (après plusieurs heures)

- 2.1. Justifier qu'une transformation chimique a bien eu lieu.
- 2.2. Identifier les couples mis en jeu lors de la formation d'un arbre de Diane et écrire les deux demi-équations correspondantes.
- 2.3. En déduire que l'équation de la réaction modélisant la formation de l'arbre de Diane s'écrit : $2\text{Ag}^+ (\text{aq}) + \text{Cu} (\text{s}) \rightarrow 2\text{Ag} (\text{s}) + \text{Cu}^{2+} (\text{aq})$
- 2.4. Avec la méthode de votre choix, montrer que le cuivre est en excès. La quantité initiale n d'ions argent sera prise égale à $2,2 \times 10^{-2}$ mol.
- 2.5. Avec la méthode de votre choix, déterminer la masse d'argent qui se forme sur le fil de cuivre si l'avancement maximal est atteint.

3. Prédiction de l'état final à l'aide d'un script en Python

Le programme suivant, écrit en langage Python, permet de calculer la masse d'argent déposée sur le fil de cuivre.



```

### Saisie des données initiales ###

m_cu = float(input("Masse du fil en g : "))
c = float(input("Concentration de la solution de nitrate d'argent en mol/L : "))
v = 0.001 * float(input("Volume de la solution en mL : "))

### Calcul des quantites initiales ###
n_cu = m_cu / 63.5
n_ag = c * v

### Quantité initiale minimale de cuivre ###
n_mini = n_ag / 2

### Verification du cuivre en excès ###
if n_cu < n_mini :
    print("La masse choisie pour le fil de cuivre est insuffisante.
          Le fil risque de casser avant que le système n'ait atteint
          son état final.")
else :
    ### Calcul de la masse d'argent depose ###
    m_agsolide = n_ag * 107.9
    print("La masse d'argent déposée vaut : ",m_agsolide," g")

```

Ce programme permet aussi de s'assurer que le cuivre est bien introduit en excès : dans le cas contraire, le fil, qui joue aussi le rôle de support, risquerait de casser et l'on perdrait la végétation métallique qui met plusieurs heures à se former.

On exécute le programme. Tout d'abord on indique les conditions expérimentales initiales de l'expérience décrites précédemment. On obtient l'écran suivant :

```

Masse du fil en g : 5.6
Concentration de la solution de nitrate d'argent en mol/L : 0.1
Volume de la solution en mL : 220

```

Écrire la ligne qui apparaîtrait dans la console d'exécution à la suite de la saisie des données initiales ci-dessus. Justifier.

PARTIE B

Le littoral sous surveillance (10 points)

Le littoral, zone de transition entre terre et mer, est un milieu fragile soumis à de fortes pressions naturelles et anthropiques*, et aux interactions entre celles-ci. Le littoral n'est pas une limite fixe et pérenne, mais au contraire, il s'agit d'une zone d'interface extrêmement sensible aux contraintes qu'elle subit. Cela conduit à des évolutions contrastées du trait de côte, qu'il est nécessaire de prévoir, en particulier dans un contexte

Modèle CCYC : ©DNE

Nom de famille (naissance) :


(Suivi s'il y a lieu, du nom d'usage)

Prénom(s) :

N° candidat : N° d'inscription :

(Les numéros figurent sur la convocation.)

Né(e) le : / /

 Liberte - Egalite - Fraternite
RÉPUBLIQUE FRANÇAISE

1.1

de changement climatique avec une élévation attendue du niveau de la mer qui aura à terme des répercussions locales sur les sociétés littorales.

* *anthropique* : relatif à l'activité humaine

www.brgm.fr

Le tableau ci-dessous présente les principales techniques utilisées pour réaliser des mesures topographiques (pour représenter sur un plan des formes du terrain) et bathymétriques (mesures de la profondeur du fond sous-marin) :

Sonar	Sondeur acoustique monofaisceau	Bathymétrie
	Sondeur acoustique multifaisceaux	
Lidar	Lidar aéroporté	Bathymétrie et topographie
	Scanner laser terrestre (TLS)	Topographie

Le sonar utilise un signal acoustique (en général ultrasonore).

Le lidar (light detection and ranging) utilise un signal électromagnétique obtenu par technologie laser.

Cet exercice se propose d'étudier quelques aspects de ces techniques.

Partie 1 : le sondeur acoustique bathymétrique monofaisceau

Le sondeur émet, sous forme d'impulsions, une onde ultrasonore de fréquence réglable. Cette onde se propage vers le bas, à la verticale du bateau. Après réflexion sur le fond marin, elle est captée par le sondeur qui mesure la durée mise par le signal pour effectuer l'aller-retour (schéma a). Connaissant la célérité des ultrasons dans l'eau, il est possible d'en déduire la profondeur du fond sous-marin. Le déplacement du sondeur en surface permet d'obtenir une succession de mesures (schéma b).

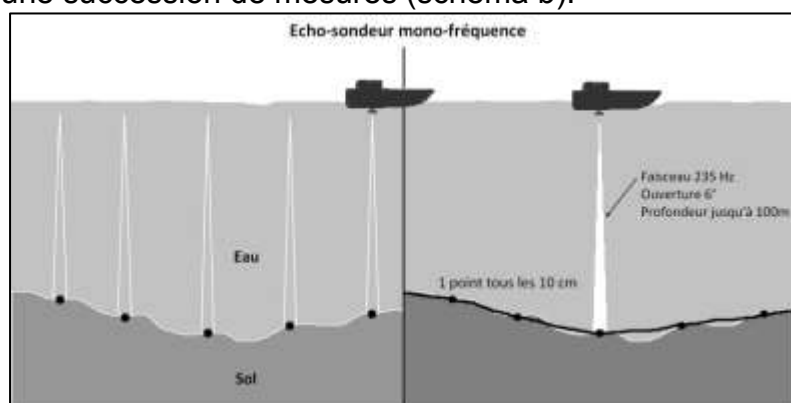
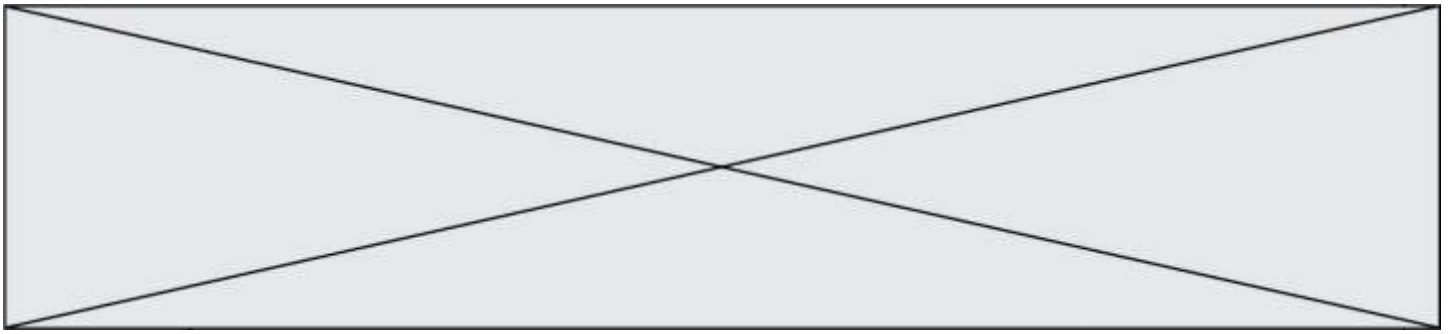


Schéma a

Schéma b

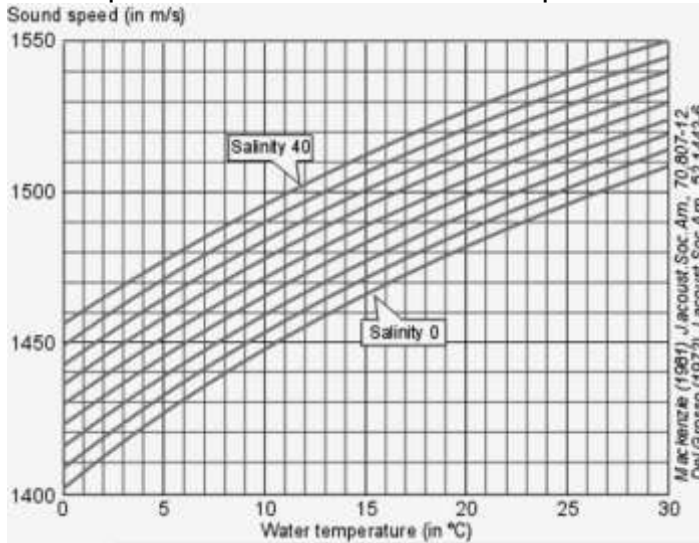
Principe de la mesure bathymétrique monofaisceau
d'après <https://escadrone.com/drones-marins/bathymetrie-drone/>.

Le technicien qui utilise le sondeur peut modifier la fréquence des ultrasons en fonction de la profondeur du fond sous-marin qu'il désire étudier.



Plein océan	Grands fonds	Plateaux continentaux	Petits fonds
10 kHz	40 kHz	200 kHz	400 kHz

La célérité des ultrasons dépend de la salinité et de la température de l'eau de mer :



Célérité du son (en m/s) en fonction de la température (en °C) et de la salinité (en g/L). Welcome to SIMRAD Training Course Basic Acoustic By Kjell Eger Kongsberg Maritime AS, Simrad

1.1. Les ondes ultrasonores sont des ondes mécaniques. Rappeler la définition d'une onde mécanique progressive. Parmi les deux schémas a et b proposés ci-dessous, lequel modélise le mieux la propagation des ultrasons ? Justifier.

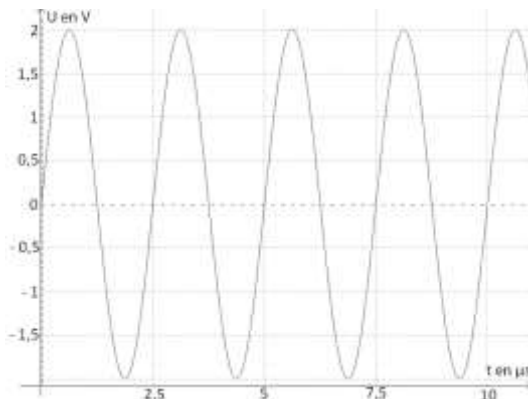


(a) Propagation le long d'une corde



(b) Propagation le long d'un ressort

1.2. Le signal simulé ci-dessous possède les mêmes caractéristiques temporelles que celles du signal émis par le sondeur acoustique prévu pour effectuer des mesures près du littoral. Les réglages effectués sont-ils cohérents avec l'utilisation prévue ?



Simulation du signal émis par le sondeur acoustique

Modèle CCYC : ©DNE

Nom de famille (naissance) :

(Suivi s'il y a lieu, du nom d'usage)

Prénom(s) :

N° candidat : N° d'inscription :

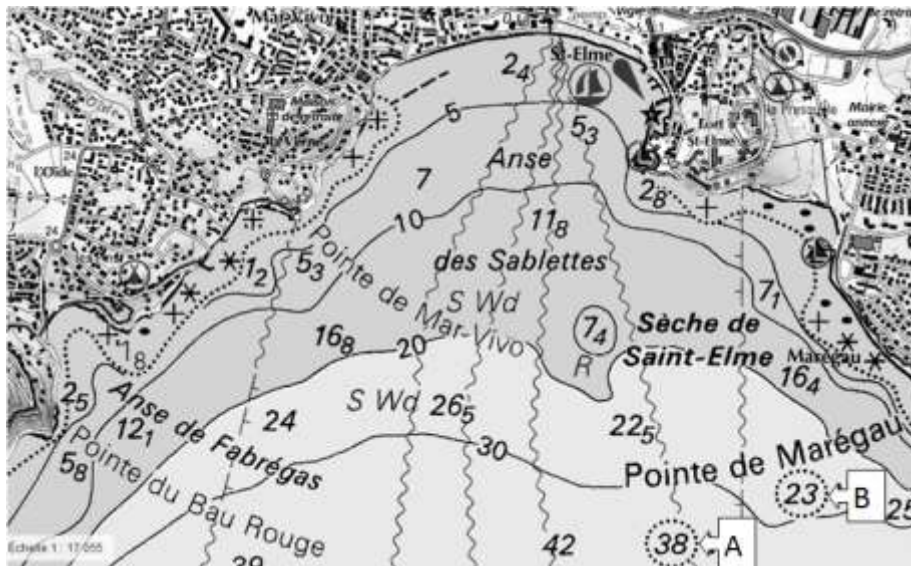
(Les numéros figurent sur la convocation.)

Né(e) le : / /

Liberté - Égalité - Fraternité
RÉPUBLIQUE FRANÇAISE

1.1

- 1.3. Les valeurs moyennes de température et de salinité de la mer à Toulon au mois de mai sont les suivantes : température $16\text{ }^{\circ}\text{C}$, salinité 35 g.L^{-1} .
- 1.3.1. Grâce au document *Célérité du son (en m/s) en fonction de la température (en $^{\circ}\text{C}$) et de la salinité (en g/L)*, déterminer, dans ces conditions, la valeur de la célérité des ultrasons dans l'eau de mer.
- 1.3.2. Lors de la mesure, le retard Δt entre l'émission et la réception du signal vaut $\Delta t = 50,9\text{ ms}$. La mesure correspond-elle à une mesure effectuée au-dessus d'une profondeur correspondant à la zone A ou à la zone B, repérées sur la carte ci-dessous ? Justifier la réponse par un calcul.



Carte littorale de l'anse des Sablettes (Var) – Géoportail.gov

- 1.4. On s'intéresse dans cette question aux mesures faites pour la zone de 42 mètres de profondeur. Cette zone se trouvant à moins de 300 mètres du littoral, la réglementation maritime exige que la vitesse d'un navire doive rester inférieure à 3 nœuds.

Dans les zones de fonds inférieurs à 100 mètres où la hauteur d'eau sous quille est peu critique, l'incertitude horizontale totale acceptée est : $IHT = 5\text{ mètres} + 5\%$ de la profondeur.

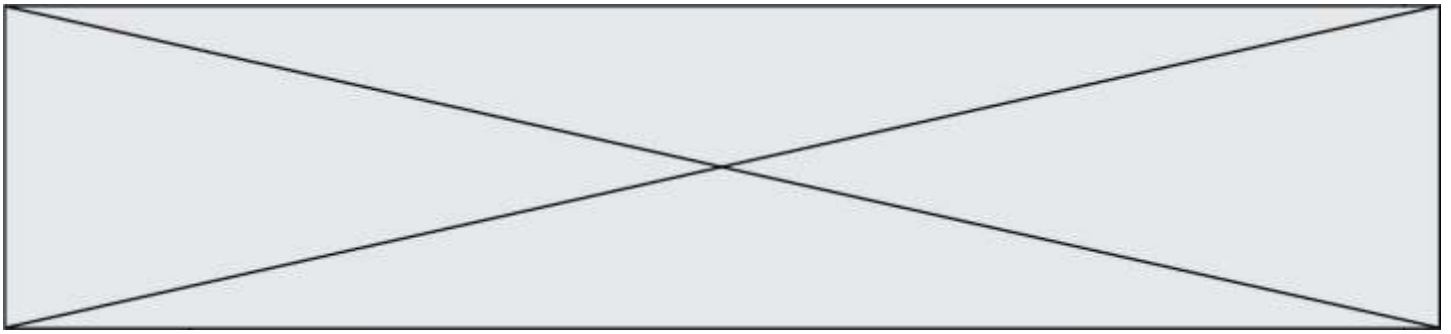
Le fabricant présente dans sa documentation un fonctionnement du sondeur à 10 impulsions par seconde : ce fonctionnement vous paraît-il adapté aux mesures pour la zone de 42 mètres de profondeur ?

Le candidat est invité à prendre des initiatives et à présenter la démarche suivie même si elle n'a pas abouti. La démarche suivie est évaluée et nécessite donc d'être correctement présentée.

Données :

- 1 nœud = 1 mile nautique par heure ; 1 mile nautique = 1,852 km.

Partie 2 : le LIDAR



Le principe de télémétrie du lidar est similaire à celui du sonar : l'onde électromagnétique émise se réfléchit sur une surface (le sol ou le fond marin) ; la mesure de la durée mise par le signal pour effectuer l'aller-retour permet de calculer la hauteur ou la profondeur, connaissant la vitesse de propagation de l'onde dans le milieu considéré (air ou eau). Un lidar topographique utilise une seule longueur d'onde (en général $\lambda = 1064 \text{ nm}$) alors qu'un lidar bathymétrique émet deux longueurs d'onde différentes : $\lambda = 1064 \text{ nm}$ (qui se réfléchit à la surface de l'eau) et $\lambda = 534 \text{ nm}$ (qui pénètre dans l'eau et se réfléchit sur le fond marin)

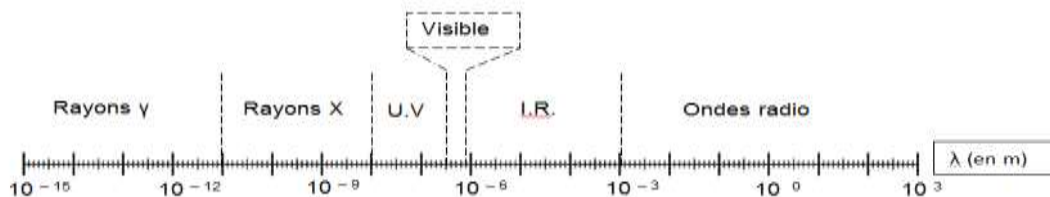
Cette partie s'intéresse au rayonnement issu d'un laser de type YAG dopé au néodyme (laser Nd-YAG) dont un extrait de la notice se trouve ci-dessous :

Caractéristiques d'un laser Nd-YAG
Mode de fonctionnement : continu ou impulsionnel
Durée de l'impulsion : 1 à 20 millisecondes
Énergie maximale par impulsion : 150 joules
Puissance de crête maximale : 30 kilowatts
Amplificateur laser : grenat d'aluminium et d'yttrium dopé au néodyme
Longueur d'onde : 1064 nanomètres
Poids d'un laser de puissance : plusieurs centaines de kilos

D'après www.cea.fr

Données :

- $1 \text{ eV} = 1,60 \times 10^{-19} \text{ J}$;
- la célérité c des ondes électromagnétiques dans le vide (et dans l'air) est supposée connue de l'élève ;
- constante de Planck $h = 6,63 \times 10^{-34} \text{ m}^2 \cdot \text{kg} \cdot \text{s}^{-1}$;
- domaine des ondes électromagnétiques :



- 2.1. À quel domaine de longueurs d'ondes appartient le rayonnement émis par le laser Nd-YAG ? Justifier.
- 2.2. Calculer la valeur de l'énergie d'un photon émis par le laser Nd-YAG.
- 2.3. Un diagramme énergétique simplifié de la partie émission du laser Nd-YAG est fourni **en annexe à rendre avec la copie**.
 - 2.3.1. Vérifier, par un calcul, que les niveaux d'énergie mis en jeu lors de l'émission du faisceau laser sont les niveaux E2 et E4.
 - 2.3.2. Représenter cette transition par une flèche sur le diagramme **en annexe à rendre avec la copie**.
- 2.4. Déterminer l'ordre de grandeur du nombre maximal de photons émis pendant une impulsion.

Modèle CCYC : ©DNE

Nom de famille (naissance) :

(Suivi s'il y a lieu, du nom d'usage)

Prénom(s) :

N° candidat : N° d'inscription :

(Les numéros figurent sur la convocation.)

Né(e) le : / /

 Liberté - Égalité - Fraternité
RÉPUBLIQUE FRANÇAISE

1.1

ANNEXE À RENDRE AVEC LA COPIE

Partie 2 : diagramme de niveaux d'énergie du laser Nd YAG




Diagramme d'énergie simplifié de l'ion néodyme Nd³⁺