

SUJET

2020-2021

PHYSIQUE-CHIMIE

Première **Spé Maths**

ÉVALUATIONS COMMUNES

Modèle CCYC : ©DNE

Nom de famille (naissance) :


(Suivi s'il y a lieu, du nom d'usage)

Prénom(s) :

N° candidat : N° d'inscription :

(Les numéros figurent sur la convocation.)

Né(e) le : / /

 Liberté - Égalité - Fraternité
RÉPUBLIQUE FRANÇAISE

1.1

ÉPREUVES COMMUNES DE CONTRÔLE CONTINU

CLASSE : Première

E3C : E3C1 E3C2 E3C3

VOIE : Générale Technologique Toutes voies (LV)

ENSEIGNEMENT : physique-chimie

DURÉE DE L'ÉPREUVE : 2 h

CALCULATRICE AUTORISÉE : Oui Non

Ce sujet contient des parties à rendre par le candidat avec sa copie. De ce fait, il ne peut être dupliqué et doit être imprimé pour chaque candidat afin d'assurer ensuite sa bonne numérisation.

Nombre total de pages : 7

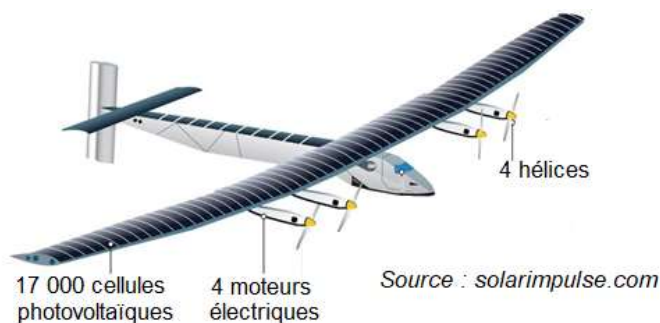
PARTIE A

Solar Impulse 2, l'avion solaire (10 points)

L'avion solaire Solar Impulse 2 restera dans l'histoire de l'aéronautique comme le premier avion à avoir bouclé avec succès un tour du [monde](#) (43 041 km parcourus en 17 étapes) sans une goutte de carburant et avec le Soleil comme unique source d'énergie. Au cours de ce tour du monde, cet avion piloté alternativement par les pilotes suisses Bertrand Picard et [André Borschberg](#) aura notamment :

- effectué sa première traversée de l'Atlantique entre New York et Séville ;
- établi le plus long vol de l'histoire sans escale et sans pilote automatique (117 heures 52 minutes entre Nagoya et Hawaï).

Ce tour du monde aura été rendu possible grâce à des choix technologiques innovants et un profil de vol raisonné.





Partie 1 : le solaire photovoltaïque

Solar Impulse 2 est presque entièrement recouvert de panneaux solaires photovoltaïques. Les matériaux semi-conducteurs utilisés pour constituer les cellules photovoltaïques sont le résultat de nombreuses recherches.

On s'intéresse dans cette partie à la production d'électricité par l'effet photovoltaïque.

➤ L'effet photovoltaïque

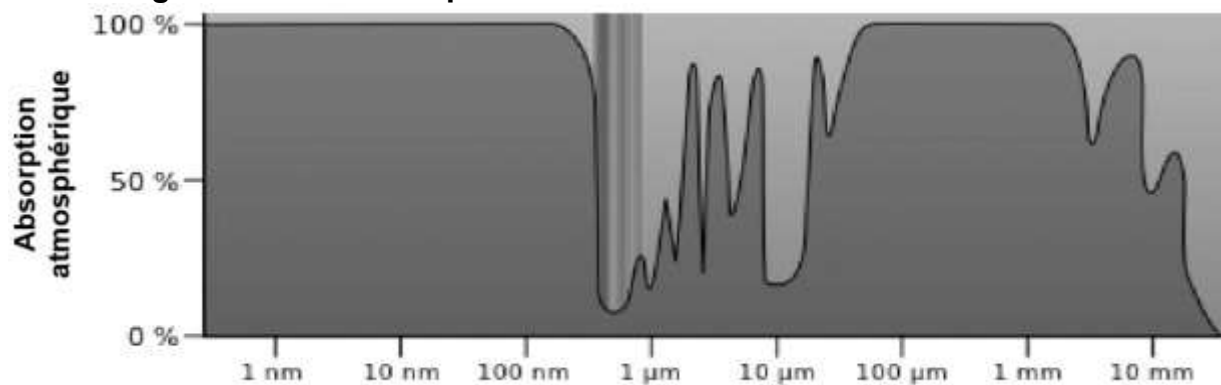
Dans un semi-conducteur exposé à la lumière, un photon d'énergie suffisante extrait un électron qui participe à la conduction de l'électricité.

La valeur minimale d'énergie apportée par le photon doit être $E_{min} = 1,12 \text{ eV}$.

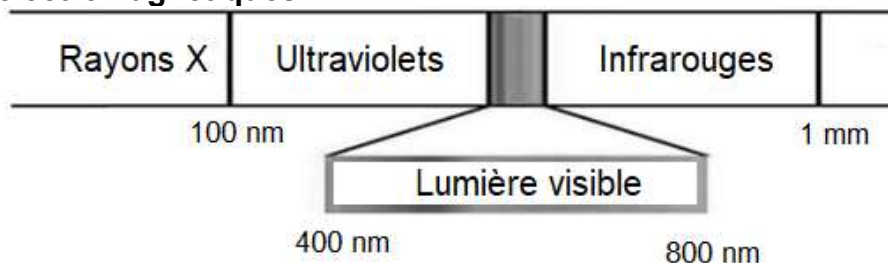
Données :

- électronvolt : $1 \text{ eV} = 1,60 \times 10^{-19} \text{ J}$;
- constante de Planck : $h = 6,62 \times 10^{-34} \text{ J.s}$;
- la valeur de la célérité c de la lumière dans le vide est supposée connue.

➤ Absorption atmosphérique du rayonnement solaire pour des radiations lumineuses de longueurs d'onde comprises entre 1 nm et 10 mm



➤ Les ondes électromagnétiques



1.1 Montrer qu'un photon d'énergie 1,12 eV est associé à un rayonnement de longueur d'onde λ voisine de $1 \mu\text{m}$.

1.2 À quel domaine des ondes électromagnétiques ces ondes appartiennent-elles ?

Modèle CCYC : ©DNE

Nom de famille (naissance) :

(Suivi s'il y a lieu, du nom d'usage)

Prénom(s) :

N° candidat : N° d'inscription :

(Les numéros figurent sur la convocation.)

Né(e) le : / /

Liberté - Égalité - Fraternité
RÉPUBLIQUE FRANÇAISE

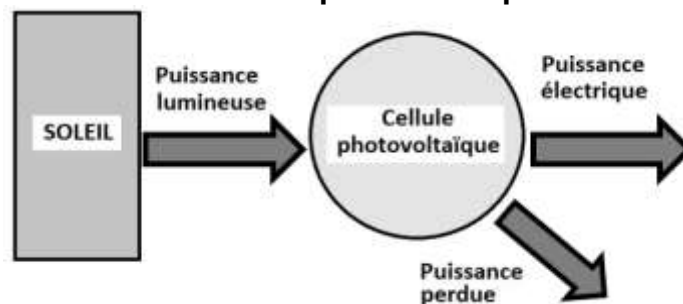
1.1

1.3 Expliquer pourquoi les matériaux semi-conducteurs présentent un intérêt dans le fonctionnement des cellules photovoltaïques.

Partie 2 : les performances des panneaux solaires de Solar Impulse 2

On se propose d'étudier en laboratoire une cellule photovoltaïque « classique » afin de comparer son rendement à l'une des 17 000 cellules qui équipent l'avion Solar Impulse 2.

➤ Diagramme de puissance d'une cellule photovoltaïque



➤ Puissance lumineuse reçue

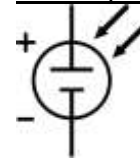
La puissance lumineuse P_{lum} reçue par la cellule photovoltaïque, exprimée en W, est égale au produit de l'éclairement E_{lum} , exprimé en $W.m^{-2}$, par la surface utile S de la cellule exprimée en m^2 : $P_{lum} = E_{lum} * S$.

➤ Étude d'une cellule photovoltaïque « classique » en laboratoire

Matériel à disposition :

- une lampe halogène ;
- un solarimètre ;
- une cellule photovoltaïque de surface utile $S = 26,1 \times 10^{-4} m^2$;
- une résistance variable ;
- un ampèremètre ;
- un voltmètre ;
- des fils de connexion.

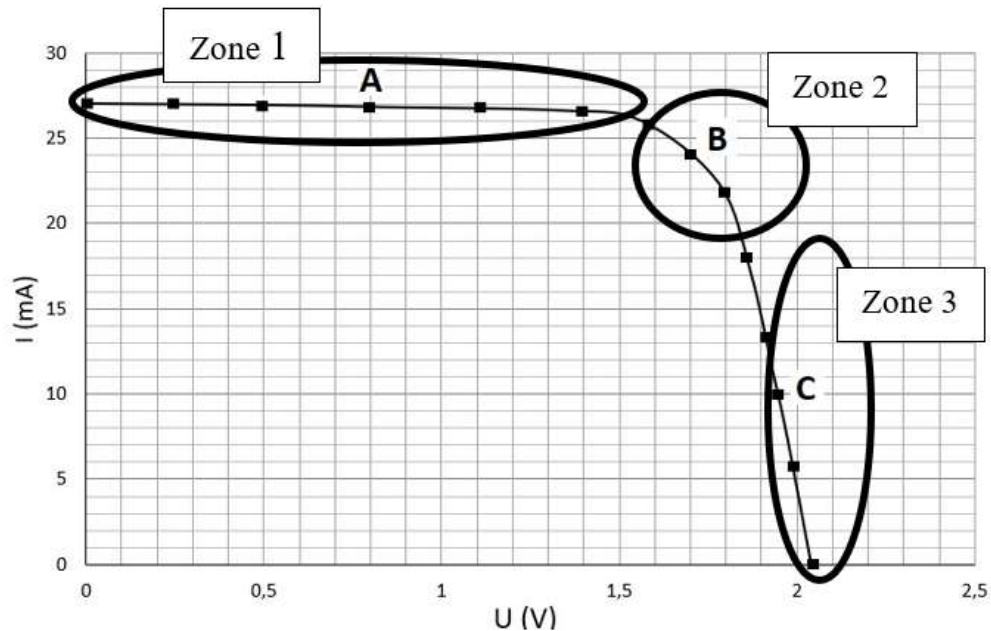
Symbole normalisé d'une cellule photovoltaïque :



Protocole expérimental :

- ❶ brancher en série la cellule photovoltaïque et la résistance variable ;
- ❷ éclairer la cellule photovoltaïque à l'aide de la lampe halogène placée à 10 cm, et mesurer l'éclairement E_{lum} au niveau de la cellule photovoltaïque en utilisant le solarimètre (la distance lampe/cellule sera maintenue fixe tout au long de l'étude) ;
- ❸ pour différentes valeurs de la résistance R , relever les valeurs de la tension U aux bornes de la cellule et de l'intensité I du courant dans le circuit à l'aide des appareils de mesure correctement connectés ;
- ❹ tracer à l'aide d'un tableur grapheur la caractéristique $I = f(U)$ de la cellule photovoltaïque.

La caractéristique ci-dessous a été obtenue pour un éclairement $E_{lum} = 300 W.m^{-2}$ (mesure effectuée avec le solarimètre).



➤ Rendement de différents types de convertisseurs d'énergie

Convertisseur d'énergie	Rendement moyen
Cellule photovoltaïque « classique »	15 % (conditions normalisées : $E_{\text{soleil}} = 1000 \text{ W.m}^{-2}$)
Éolienne domestique	20 %
Alternateur	90 %
Batterie automobile	70 %

2.1 Schématiser le montage électrique associé au protocole (le solarimètre ne sera pas représenté sur votre schéma).


2.2 Dans quelle zone (1, 2 ou 3) la puissance électrique délivrée par cette cellule est-elle la plus grande ? Justifier la réponse en déterminant la puissance électrique délivrée par la cellule aux points A, B et C.

On considère que la puissance électrique maximale délivrée par la cellule photovoltaïque étudiée est $P_{\text{elec_max}} = 0,041 \text{ W}$.

2.3 Montrer, en justifiant par un calcul, que le rendement maximal de la cellule photovoltaïque étudiée au laboratoire est $\eta_{\text{max}} = 5,2 \%$.

2.4 Pourquoi le rendement déterminé ne correspond-il pas à celui du tableau, alors que la cellule étudiée peut être considérée comme une cellule photovoltaïque « classique » ?

2.5 Les cellules photovoltaïques de Solar Impulse 2 ont un rendement de 23 %. Vous paraissent-elles performantes ? Justifier la réponse.

Modèle CCYC : ©DNE																						
Nom de famille (naissance) : <small>(Suivi s'il y a lieu, du nom d'usage)</small>																						
Prénom(s) :																						
N° candidat :											N° d'inscription :											
<small>(Les numéros figurent sur la convocation.)</small>																						
Né(e) le :			/			/																
																						1.1

PARTIE B

Allantoïne (10 points)

L'allantoïne est un composé chimique azoté, de formule brute $C_4H_6N_4O_3$, découvert par Louis-Nicolas Vauquelin. On le trouve en particulier dans l'urine de veau ou la bave d'escargot, cependant aujourd'hui, il est synthétisé à grande échelle à partir de l'acide glyoxylique $C_2H_2O_3$ et de l'urée CH_4N_2O pour l'utiliser dans l'industrie cosmétique, car ce composé possède des propriétés adoucissantes et apaisantes. On le trouve principalement dans les produits de soins de la peau et les produits de maquillage, mais aussi dans les dentifrices, shampoings, crèmes à raser, rouges à lèvres, etc.

D'après <https://fr.wikipedia.org/wiki/Allantoïne>

L'objectif de l'exercice est d'étudier l'acide glyoxylique et l'urée, puis un protocole de synthèse de l'allantoïne au laboratoire.

Données

Données physiques de quelques espèces chimiques

Espèce chimique	Masse molaire (g/mol)	Température de fusion (°C)	Solubilité dans l'eau
Urée	60,0	134	Très soluble : 1360 g/L à 20°C
Acide glyoxylique	74,0	98	Très soluble
Allantoïne	158,1	238	Peu soluble, 150 g/L si eau bouillante 5 g/L si eau très froide
Acide sulfurique	98,1	734	Très soluble

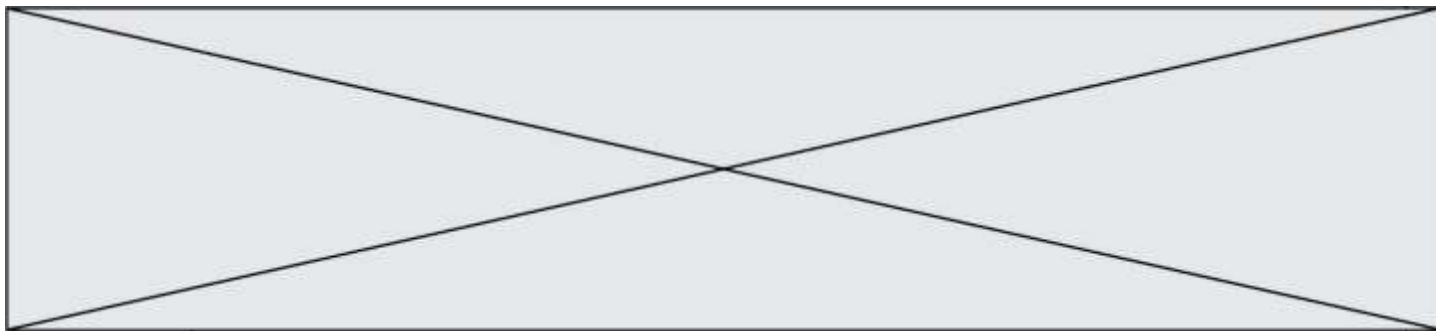
Données de spectroscopie infrarouge

Liaison	Nombre d'onde (cm^{-1})	Intensité
Liaison C – NH ₂	3100 - 3500	Bande double forte
Liaison C - NH	3100 - 3500	Bande simple forte
Liaison O – H acide carboxylique	2500-3200	Bande forte à moyenne, large
Liaison C – H	2800-3000	Bande forte
Liaison C = O avec N voisin	1660 - 1685	Bande forte et fine
Liaison C = O aldéhyde et cétone	1650-1730	Bande forte et fine
Liaison C = O acide carboxylique	1680-1710	Bande forte et fine
Liaison C = C	1640-1680	Bande moyenne

Masse volumique de la solution d'acide glyoxylique à 50 % en masse : $\rho = 1,3 \text{ g.mL}^{-1}$

Valeurs d'électronégativité de quelques atomes :

$$\chi(H) = 2,20 \quad \chi(C) = 2,55 \quad \chi(N) = 3,04 \quad \chi(O) = 3,44$$

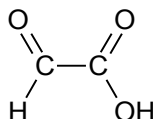


Numéros atomiques de quelques éléments :

$$Z(\text{H}) = 1 \quad Z(\text{C}) = 6 \quad Z(\text{N}) = 7 \quad Z(\text{O}) = 8$$

1. À propos de l'acide glyoxylique.

L'acide glyoxylique est un solide, très utilisé dans l'industrie, de formule semi-développée :



- 1.1. Recopier sur la copie la formule semi-développée de la molécule d'acide glyoxylique et identifier les groupes caractéristiques qui la composent.
- 1.2. Représenter le schéma de Lewis de la molécule.
- 1.3. Donner, en justifiant, la géométrie de cette molécule autour de l'un ou l'autre des atomes de carbone.

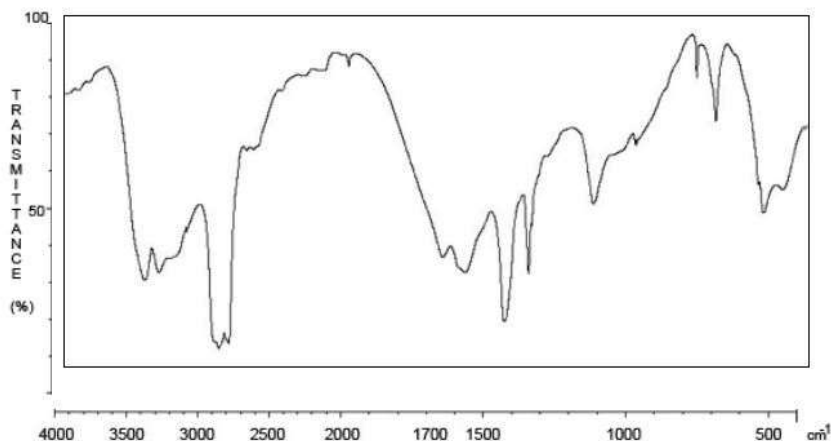
2. A propos de l'ammoniac et urée


L'urée est un composé organique de formule chimique semi-développée : $\text{H}_2\text{N} - \text{CO} - \text{NH}_2$
L'urée naturelle fut découverte en 1773 par le pharmacien Hilaire Rouelle. Formée dans le foie, à partir de l'ammoniac, NH_3 , provenant de la dégradation d'acides aminés, l'urée naturelle est éliminée au niveau des reins par l'urine.

En 1828, le chimiste allemand Friedrich Wöhler réussit à synthétiser en laboratoire l'urée, molécule dite « organique » à l'époque, à partir d'ammoniac. On considérait avant cette synthèse que les molécules « organiques » ne pouvaient provenir que de constituants ou de dérivés d'organismes vivants habités par la « force vitale » (*vis vitalis*). Cette date, gravée dans l'histoire, est retenue comme étant celle fondatrice de la chimie organique.

D'après <http://www.societechimiquedefrance.fr/uree.html>

- 2.1. Donner la configuration électronique de l'azote N et de l'hydrogène H. En déduire la géométrie de la molécule d'ammoniac.
- 2.2. Justifier le caractère polaire de la molécule d'ammoniac.
- 2.3. On s'intéresse au spectre Infrarouge de l'urée.



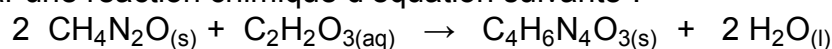
Modèle CCYC : ©DNE																				
Nom de famille (naissance) : <small>(Suivi s'il y a lieu, du nom d'usage)</small>																				
Prénom(s) :																				
N° candidat :											N° d'inscription :									
 Liberté • Égalité • Fraternité RÉPUBLIQUE FRANÇAISE	<small>(Les numéros figurent sur la convocation.)</small>																			
Né(e) le :			/			/														

1.1

- 2.3.1. Nommer la grandeur qui figure en abscisse du spectre Infrarouge.
- 2.3.2. Que confirme la bande la plus à gauche du spectre ?
- 2.3.3. Repérer la bande du spectre qui confirme la présence d'une liaison C = O. Peut-elle être attribuée sans ambiguïté à la liaison C=O de l'urée ? Justifier.

3. Synthèse de l'allantoïne

Une voie de synthèse de l'allantoïne s'effectue à partir d'urée et d'acide glyoxylique et peut être modélisée par une réaction chimique d'équation suivante :



Le protocole expérimental d'une synthèse de l'allantoïne, réalisée au laboratoire, est décrit ci-après :

- Placer un barreau aimanté dans un erlenmeyer de 100 mL puis, à l'aide d'un entonnoir à solide, verser 13,6 g d'urée et 10,0 mL de solution aqueuse d'acide glyoxylique à 50% en masse. Agiter jusqu'à l'obtention d'une solution limpide. Introduire lentement 1,5 mL d'acide sulfurique concentré, sous agitation magnétique. L'acide sulfurique a pour rôle d'accélérer la réaction. Adapter un réfrigérant ascendant.
- Placer l'erlenmeyer dans un bain-marie. Maintenir l'agitation, le chauffage et l'ébullition de l'eau du bain-marie pendant 45 minutes. Le milieu réactionnel se trouble au bout de 15 à 20 minutes avec l'apparition d'un précipité blanchâtre.
- Plonger ensuite le bécher dans de la glace pendant quelques minutes. Récupérer le solide à l'aide d'un dispositif de filtration sous vide de type Büchner.
- Laver avec suffisamment d'eau glacée. Sécher à l'étuve le temps nécessaire.
- Peser le solide obtenu.

- Associer aux différentes étapes (a, b, c, d, e) mises en oeuvre les différentes étapes d'un protocole de synthèse : transformation ; séparation, purification, analyse.
- Préciser Expliquer l'apparition progressive du précipité blanchâtre.
- Justifier l'utilisation de la glace dans l'étape c.
- Justifier l'intérêt de laver à l'étape d du protocole, le solide obtenu avec suffisamment d'eau glacée.
- Déterminer le rendement de la synthèse ainsi effectuée, sachant que la masse d'allantoïne sèche obtenue vaut $m = 8,60 \text{ g}$.