

TRAINING!

2021-2022

**NUMÉRIQUE
INFORMATIQUE**

**PREMIÈRE
SPÉCIALITÉ**

Modèle CCYC : ©DNE

Nom de famille (naissance) :

(Suivi s'il y a lieu, du nom d'usage)

Prénom(s) :

N° candidat : N° d'inscription :

(Les numéros figurent sur la convocation.)

Né(e) le : / /



1.1

ÉPREUVES COMMUNES DE CONTRÔLE CONTINU

CLASSE : Première

VOIE : Générale Technologique Toutes voies (LV)

ENSEIGNEMENT : spécialité Numérique et Sciences Informatiques (NSI)

DURÉE DE L'ÉPREUVE : 02 h 00

Niveaux visés (LV) : LVA LVB

Axes de programme :

CALCULATRICE AUTORISÉE : Oui Non

DICTIONNAIRE AUTORISÉ : Oui Non

Ce sujet contient des parties à rendre par le candidat avec sa copie. De ce fait, il ne peut être dupliqué et doit être imprimé pour chaque candidat afin d'assurer ensuite sa bonne numérisation.

Ce sujet intègre des éléments en couleur. S'il est choisi par l'équipe pédagogique, il est nécessaire que chaque élève dispose d'une impression en couleur.

Ce sujet contient des pièces jointes de type audio ou vidéo qu'il faudra télécharger et jouer le jour de l'épreuve.

Nombre total de pages : 19

L'épreuve consiste en 42 questions, rangées en 7 thèmes.

Pour chaque question, le candidat gagne 3 points s'il choisit la bonne réponse, perd 1 point s'il choisit une réponse fautive. S'il ne répond pas ou choisit plusieurs réponses, il ne gagne ni ne perd aucun point.

Le total sur chacun des 7 thèmes est ramené à 0 s'il est négatif.

La note finale s'obtient en divisant le total des points par 6,3 et en arrondissant à l'entier supérieur.

Le candidat indique ses réponses aux questions en pages 2 et 3.

Seules les pages 1 à 4 sont rendues par le candidat à la fin de l'épreuve, pour être numérisées.

Les questions figurent sur les pages suivantes.



Thème A : types de base

- | | | | | |
|-------------------------|----------------------------|----------------------------|----------------------------|----------------------------|
| Réponse à la question 1 | A <input type="checkbox"/> | B <input type="checkbox"/> | C <input type="checkbox"/> | D <input type="checkbox"/> |
| Réponse à la question 2 | A <input type="checkbox"/> | B <input type="checkbox"/> | C <input type="checkbox"/> | D <input type="checkbox"/> |
| Réponse à la question 3 | A <input type="checkbox"/> | B <input type="checkbox"/> | C <input type="checkbox"/> | D <input type="checkbox"/> |
| Réponse à la question 4 | A <input type="checkbox"/> | B <input type="checkbox"/> | C <input type="checkbox"/> | D <input type="checkbox"/> |
| Réponse à la question 5 | A <input type="checkbox"/> | B <input type="checkbox"/> | C <input type="checkbox"/> | D <input type="checkbox"/> |
| Réponse à la question 6 | A <input type="checkbox"/> | B <input type="checkbox"/> | C <input type="checkbox"/> | D <input type="checkbox"/> |

Thème B : types construits

- | | | | | |
|-------------------------|----------------------------|----------------------------|----------------------------|----------------------------|
| Réponse à la question 1 | A <input type="checkbox"/> | B <input type="checkbox"/> | C <input type="checkbox"/> | D <input type="checkbox"/> |
| Réponse à la question 2 | A <input type="checkbox"/> | B <input type="checkbox"/> | C <input type="checkbox"/> | D <input type="checkbox"/> |
| Réponse à la question 3 | A <input type="checkbox"/> | B <input type="checkbox"/> | C <input type="checkbox"/> | D <input type="checkbox"/> |
| Réponse à la question 4 | A <input type="checkbox"/> | B <input type="checkbox"/> | C <input type="checkbox"/> | D <input type="checkbox"/> |
| Réponse à la question 5 | A <input type="checkbox"/> | B <input type="checkbox"/> | C <input type="checkbox"/> | D <input type="checkbox"/> |
| Réponse à la question 6 | A <input type="checkbox"/> | B <input type="checkbox"/> | C <input type="checkbox"/> | D <input type="checkbox"/> |

Thème C : traitement de données en tables

- | | | | | |
|-------------------------|----------------------------|----------------------------|----------------------------|----------------------------|
| Réponse à la question 1 | A <input type="checkbox"/> | B <input type="checkbox"/> | C <input type="checkbox"/> | D <input type="checkbox"/> |
| Réponse à la question 2 | A <input type="checkbox"/> | B <input type="checkbox"/> | C <input type="checkbox"/> | D <input type="checkbox"/> |
| Réponse à la question 3 | A <input type="checkbox"/> | B <input type="checkbox"/> | C <input type="checkbox"/> | D <input type="checkbox"/> |
| Réponse à la question 4 | A <input type="checkbox"/> | B <input type="checkbox"/> | C <input type="checkbox"/> | D <input type="checkbox"/> |
| Réponse à la question 5 | A <input type="checkbox"/> | B <input type="checkbox"/> | C <input type="checkbox"/> | D <input type="checkbox"/> |
| Réponse à la question 6 | A <input type="checkbox"/> | B <input type="checkbox"/> | C <input type="checkbox"/> | D <input type="checkbox"/> |

Thème D : interactions entre l'homme et la machine sur le Web

- | | | | | |
|-------------------------|----------------------------|----------------------------|----------------------------|----------------------------|
| Réponse à la question 1 | A <input type="checkbox"/> | B <input type="checkbox"/> | C <input type="checkbox"/> | D <input type="checkbox"/> |
| Réponse à la question 2 | A <input type="checkbox"/> | B <input type="checkbox"/> | C <input type="checkbox"/> | D <input type="checkbox"/> |
| Réponse à la question 3 | A <input type="checkbox"/> | B <input type="checkbox"/> | C <input type="checkbox"/> | D <input type="checkbox"/> |
| Réponse à la question 4 | A <input type="checkbox"/> | B <input type="checkbox"/> | C <input type="checkbox"/> | D <input type="checkbox"/> |
| Réponse à la question 5 | A <input type="checkbox"/> | B <input type="checkbox"/> | C <input type="checkbox"/> | D <input type="checkbox"/> |
| Réponse à la question 6 | A <input type="checkbox"/> | B <input type="checkbox"/> | C <input type="checkbox"/> | D <input type="checkbox"/> |

Modèle CCYC : ©DNE

Nom de famille (naissance) :

(Suivi s'il y a lieu, du nom d'usage)

Prénom(s) :

N° candidat : N° d'inscription :

(Les numéros figurent sur la convocation.)

Né(e) le : / /



RÉPUBLIQUE FRANÇAISE

1.1

Thème E : architectures matérielles et systèmes d'exploitation

- Réponse à la question 1 A B C D
- Réponse à la question 2 A B C D
- Réponse à la question 3 A B C D
- Réponse à la question 4 A B C D
- Réponse à la question 5 A B C D
- Réponse à la question 6 A B C D

Thème F : langages et programmation

- Réponse à la question 1 A B C D
- Réponse à la question 2 A B C D
- Réponse à la question 3 A B C D
- Réponse à la question 4 A B C D
- Réponse à la question 5 A B C D
- Réponse à la question 6 A B C D

Thème G : algorithmique

- Réponse à la question 1 A B C D
- Réponse à la question 2 A B C D
- Réponse à la question 3 A B C D
- Réponse à la question 4 A B C D
- Réponse à la question 5 A B C D
- Réponse à la question 6 A B C D



Modèle CCYC : ©DNE

Nom de famille (naissance) :

(Suivi s'il y a lieu, du nom d'usage)

Prénom(s) :

N° candidat : N° d'inscription :

(Les numéros figurent sur la convocation.)

Né(e) le : / /



RÉPUBLIQUE FRANÇAISE

1.1

Thème A : types de base

Question A.1

Quel est un avantage du codage UTF8 par rapport au codage ASCII ?

Réponses

- A il permet de coder un caractère sur un octet au lieu de deux
- B il permet de coder les majuscules
- C il permet de coder tous les caractères
- D il permet de coder différentes polices de caractères

Question A.2

On considère les codes ASCII en écriture hexadécimale (en base 16).

Le code ASCII de la lettre A est 0x41, celui de la lettre B est 0x42, celui de la lettre C est 0x43, etc.

Quel est le code ASCII, en hexadécimal, de la lettre X (c'est la 24^e lettre de l'alphabet usuel).

Réponses

- A 0x58
- B 0x64
- C 0x7A
- D 0x88

Question A.3

Quelle est la représentation en binaire de l'entier 64 sur un octet ?

Réponses

- A 0101 0000
- B 1100 0100
- C 0100 0000
- D 0000 1100

Question A.4

Le codage d'une couleur se fait à l'aide de trois nombres compris chacun, en écriture décimale, entre 0 et 255 (code RVB).

La couleur « vert impérial » est codée, en écriture décimale, par (0, 86, 27).

Le codage hexadécimal correspondant est :

Réponses

- A (0, 134, 39)
- B (0, 134, 1B)
- C (0, 56, 1B)
- D (0, 56, 39)

Question A.5

Quelle est l'écriture hexadécimale de l'entier dont la représentation en binaire non signé est 1100 0011 ?

Réponses

- A BB
- B C3
- C CB
- D 7610



Question A.6

Quel est le nombre maximal de bits du produit de deux entiers positifs codés sur 8 bits ?

Réponses

- A 8
- B 16
- C 32
- D 64

Modèle CCYC : ©DNE

Nom de famille (naissance) :

(Suivi s'il y a lieu, du nom d'usage)

Prénom(s) :

N° candidat : N° d'inscription :

(Les numéros figurent sur la convocation.)

Né(e) le : / /

 Liberté • Égalité • Fraternité
RÉPUBLIQUE FRANÇAISE

1.1

Thème B : types construits

Question B.1

Que vaut l'expression [2*k for k in range(5)] ?

Réponses

- A [0,2,4,6,8]
- B [2,4,6,8,10]
- C [1,2,4,8,16]
- D [2,4,8,16,32]

Question B.2

On exécute le code suivant :

```
A = [ [1,2,3], [4,5,6], [7,8,9] ]
B = [ [0,0,0], [0,0,0], [0,0,0] ]
for i in range(3):
    for j in range(3):
        B[i][j] = A[j][i]
```

Que vaut B à la fin de l'exécution ?

Réponses

- A rien du tout, le programme déclenche une erreur d'exécution
- B [[3,2,1], [6,5,4], [9,8,7]]
- C [[1,4,7], [2,5,8], [3,6,9]]
- D [[7,8,9], [4,5,6], [1,2,3]]

Question B.3

On définit le dictionnaire d = {'a': 1, 'b': 2, 'c': 3, 'z': 26}. Quelle expression permet de récupérer la valeur de la clé 'z' ?

Réponses

- A d[4]
- B d[26]
- C d[z]
- D d['z']

Question B.4

Après l'affectation suivante :

```
alphabet = [ 'A', 'B', 'C', 'D', 'E', 'F', 'G', 'H', 'I', 'J', 'K', 'L', 'M',
            'N', 'O', 'P', 'Q', 'R', 'S', 'T', 'U', 'V', 'W', 'X', 'Y', 'Z' ]
```

quelle est l'expression qui permet d'accéder à la lettre E ?

Réponses

- A alphabet.E
- B alphabet['E']
- C alphabet[4]
- D alphabet[5]



Question B.5

On définit un dictionnaire : $d = \{ \text{'couleur': 'vert', 'taille': 42, 'marque': 'le coq sportif' } \}$
Quelle est la valeur de l'expression $d.keys()$?

Réponses

- A `['couleur', 'taille', 'marque']`
- B `[('couleur', 'vert'), ('taille', 42), ('marque', 'le coq sportif')]`
- C `['vert', 42, 'le coq sportif']`
- D `['couleur': 'vert', 'taille': 42, 'marque': 'le coq sportif']`

Question B.6

On définit : $L = [10,9,8,7,6,5,4,3,2,1]$.
Quelle est la valeur de $L[L[3]]$?

Réponses

- A 3
- B 4
- C 7
- D 8

Modèle CCYC : ©DNE																				
Nom de famille (naissance) : <small>(Suivi s'il y a lieu, du nom d'usage)</small>																				
Prénom(s) :																				
N° candidat :											N° d'inscription :									
 RÉPUBLIQUE FRANÇAISE	<small>(Les numéros figurent sur la convocation.)</small>																			
	Né(e) le :			/			/													

1.1

Thème C : traitement de données en tables

Question C.1

Laquelle de ces listes de chaînes de caractères est triée en ordre croissant ?

Réponses

- A ["112", "19", "27", "45", "8"]
- B ["8", "19", "27", "45", "112"]
- C ["8", "112", "19", "27", "45"]
- D ["19", "112", "27", "45", "8"]

Question C.2

On considère l'extraction suivante d'une base de données des départements français. Cette extraction a ensuite été sauvegardée dans un fichier texte.

```
"1","01","Ain","AIN","ain","A500"
"2","02","Aisne","AISNE","aisne","A250"
"3","03","Allier","ALLIER","allier","A460"
"4","04","Alpes-de-Haute-Provence","ALPES-DE-HAUTE-PROVENCE","alpes-de-haute-
provence","A412316152"
"5","05","Hautes-Alpes","HAUTES-ALPES","hautes-alpes","H32412"
```

On considère le code suivant :

```
import csv
with open('departements.csv', newline='') as monFichier:
    lesLignes = csv.reader(monFichier)
    for uneLigne in lesLignes:
        print(uneLigne[3])
```

Que va produire l'exécution de ce code ?

Réponses

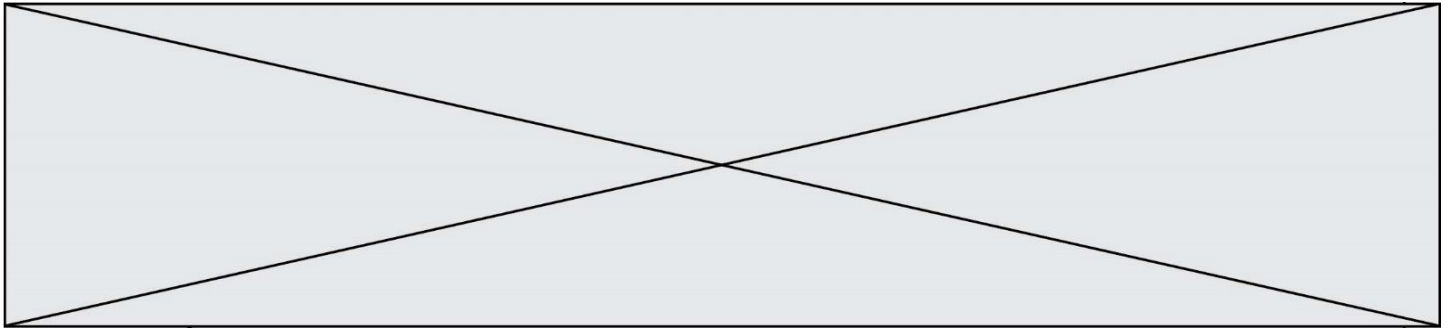
- A L'affichage de la troisième colonne à savoir le nom du département avec une majuscule initiale
- B L'affichage de tout le contenu du fichier
- C L'affichage du nombre total de départements figurant dans le fichier
- D L'affichage de la quatrième colonne, à savoir le nom du département tout en majuscules

Question C.3

L'entier positif dont l'écriture binaire est 0011 1011 se représente en hexadécimal (base 16) par :

Réponses

- A 32
- B 33
- C 3B
- D B3



Question C.4

On a défini :

```
mendeleiev = [ ['H', ',', ',', ',', ',', ',', ',', 'He'],
               ['Li', 'Be', 'B', 'C', 'N', 'O', 'Fl', 'Ne'],
               ['Na', 'Mg', 'Al', 'Si', 'P', 'S', 'Cl', 'Ar'],
               ..... ]
```

Une erreur s'est glissée dans le tableau, car le symbole du Fluor est F et non Fl. Quelle instruction permet de rectifier ce tableau ?

Réponses

- A mendeleiev.append('F')
- B mendeleiev[1][6] = 'F'
- C mendeleiev[6][1] = 'F'
- D mendeleiev[-1][-1] = 'F'

Question C.5

Quelle est la valeur de la variable table à la fin de l'exécution du script suivant :

```
table = [[1, 2, 3], [1, 2, 3], [1, 2, 3], [1, 2, 3]]
table [1][2] = 5
```

Réponses

- A [[1, 5, 3], [1, 2, 3], [1, 2, 3], [1, 2, 3]]
- B [[1, 2, 3], [5, 2, 3], [1, 2, 3], [1, 2, 3]]
- C [[1, 2, 3], [1, 2, 5], [1, 2, 3], [1, 2, 3]]
- D [[1, 2, 3], [1, 2, 3], [1, 2, 3], [1, 5, 3]]

Question C.6

On considère la liste de p-uplets suivante :

```
table = [ ('Grace', 'Hopper', 'F', 1906),
          ('Tim', 'Berners-Lee', 'H', 1955),
          ('Ada', 'Lovelace', 'F', 1815),
          ('Alan', 'Turing', 'H', 1912) ]
```

où chaque p-uplet représente un informaticien ou une informaticienne célèbre ; le premier élément est son prénom, le deuxième élément son nom, le troisième élément son sexe ('H' pour un homme, 'F' pour une femme) et le quatrième élément son année de naissance (un nombre entier entre 1000 et 2000).

On définit une fonction :

```
def fonctionMystere(table):
    mystere = []
    for ligne in table:
        if ligne[2] == 'F':
            mystere.append(ligne[1])
    return mystere
```

Modèle CCYC : ©DNE

Nom de famille (naissance) :

(Suivi s'il y a lieu, du nom d'usage)

Prénom(s) :

N° candidat : N° d'inscription :

(Les numéros figurent sur la convocation.)

Né(e) le : / /

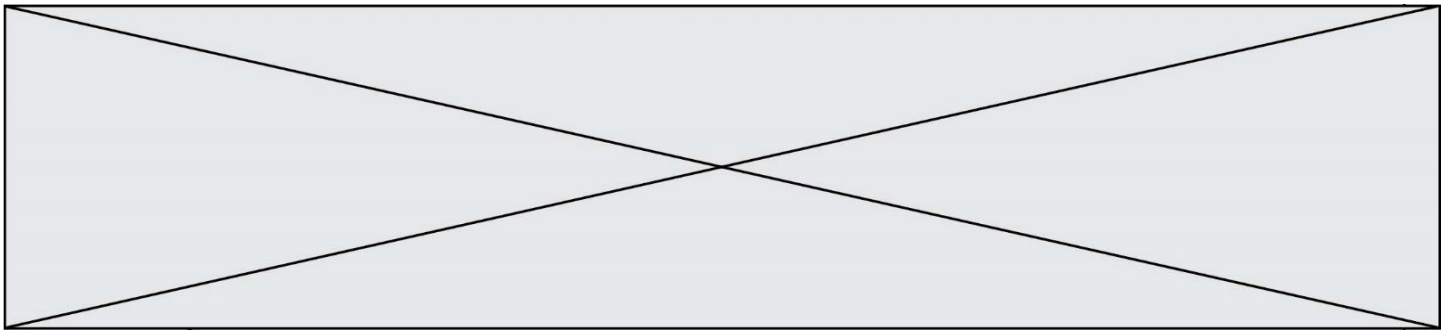


1.1

Que vaut fonctionMystere(table)?

Réponses

- A ['Grace', 'Ada']
- B [('Grace', 'Hopper', 'F', 1906), ('Ada', 'Lovelace', 'F', 1815)]
- C ['Hopper', 'Lovelace']
- D []



Thème D : interactions entre l'homme et la machine sur le Web

Question D.1

Un internaute clique sur un lien qui envoie la requête HTTP suivante à un serveur :

`http://jaimelaneige.com/ma_planche/traitement.php?nom=Snow&prenom=Jon`

Quelle est l'adresse du serveur ?

Réponses

- A jaimelaneige
- B jaimelaneige.com
- C jaimelaneige.com/ma_planche
- D jaimelaneige.com/ma_planche/traitement.php

Question D.2

Quel est le nom de l'événement généré lorsque l'utilisateur clique sur un bouton de type button dans une page HTML ?

Réponses

- A action
- B mouse
- C submit
- D click

Question D.3

Parmi GET et POST, quelle méthode d'envoi de formulaire crypte les informations envoyées au serveur ?

Réponses


- A les deux : GET et POST
- B GET seulement
- C POST seulement
- D aucune des deux

Question D.4

Quelle URL parmi les suivantes témoigne que l'échange entre le navigateur et le serveur est chiffré ?

Réponses

- A `http://www.mabanque.com/`
- B `http://www.mabanque.fr/`
- C `https://www.mabanque.fr/`
- D `http://secure.mabanque.fr/`

Modèle CCYC : ©DNE	
Nom de famille (naissance) : <small>(Suivi s'il y a lieu, du nom d'usage)</small>	
Prénom(s) :	
N° candidat :	N° d'inscription :
	<small>(Les numéros figurent sur la convocation.)</small>
Né(e) le :	

1.1

Question D.5

Parmi les réponses suivantes, que permet d'effectuer la méthode POST du protocole HTTP ?

Réponses

- A Définir le style d'une page web
- B Pirater des données bancaire
- C Envoyer une page web vers le client
- D Envoyer les données saisies dans un formulaire HTML vers un serveur

Question D.6

Une page HTML contient la ligne suivante dans laquelle un mot a été remplacé par des points de suspension :

<p ="alert('hello')"> Survolez-moi </p>

Au survol de la souris, le message hello apparait dans une boite de dialogue.
Par quel mot faut-il remplacer les points de suspension ?

Réponses

- A onmouseout
- B onmouseover
- C onmouseleave
- D onclick



Thème E : architectures matérielles et systèmes d'exploitation

Question E.1

En informatique, que signifie l'acronyme ROM ?

Réponses

- A Rewrite Only Memory
- B Reset Only Memory
- C Read Only Memory
- D Recall Only Memory

Question E.2

Sachant que le répertoire courant contient les fichiers fich.txt, mafich.txt et programme.py, quel est le résultat de la commande `ls fich*` dans un shell Linux ?

Réponses

- A fich.txt mafich.txt
- B mafich.txt
- C fich.txt
- D programme.py

Question E.3

Parmi les dispositifs d'entrée et de sortie suivants, lequel est uniquement un capteur ?

Réponses

- A la diode
- B l'écran tactile
- C le thermomètre
- D le moteur pas à pas

Question E.4

Dans la console Linux, quelle commande faut-il exécuter pour créer un dossier nommé travail dans le dossier courant ?


Réponses

- A `pwd travail`
- B `cd travail`
- C `mkdir travail`
- D `dir /home/martin/travail`

Question E.5

Lorsque, en ligne de commande, on saisit la commande

`rm *`

Modèle CCYC : ©DNE	
Nom de famille (naissance) : <i>(Suivi s'il y a lieu, du nom d'usage)</i>	
Prénom(s) :	
N° candidat :	N° d'inscription :
 Liberté • Égalité • Fraternité RÉPUBLIQUE FRANÇAISE	(Les numéros figurent sur la convocation.)
Né(e) le :	

1.1

ceci a pour effet :

Réponses

- A d'activer une télécommande
- B d'accéder au répertoire parent du répertoire courant
- C d'effacer tous les fichiers du répertoire courant et ses sous-répertoires
- D d'effacer tous les fichiers du répertoire courant

Question E.6

Quelle commande du shell Linux permet de modifier les autorisations d'accès à un fichier ?

Réponses

- A chmod
- B chown
- C chgrp
- D dir



Thème F : langages et programmation

Question F.1

La fonction ajoute(n,p) codée ci-dessous en Python doit calculer la somme de tous les entiers compris entre n et p (n et p compris).

Par exemple, ajoute(2,4) doit renvoyer $2+3+4 = 9$.

```
def ajoute(n,p):  
    somme = 0  
    for i in range(.....): # ligne à modifier  
        somme = somme + i  
    return somme
```

Quelle est la bonne écriture de la ligne marquée à modifier ?

Réponses

- A for i in range(n,1,p):
- B for i in range(n,p):
- C for i in range(n,p+1):
- D for i in range(n-1,p):

Question F.2

Lequel des langages suivants n'est pas un langage de programmation :

Réponses

- A PHP
- B Javascript
- C HTML
- D Python

Question F.3

T est un tableau de nombres entiers non vide. Que représente la valeur de s renvoyée par cette fonction ?

```
def mystere(T):  
    s = 0  
    for k in T:  
        if k % 2 == 0:  
            s = s+k  
    return s
```

Réponses

- A la somme des valeurs du tableau T
- B la somme des valeurs positives du tableau T
- C la somme des valeurs impaires du tableau T
- D la somme des valeurs paires du tableau T

Modèle CCYC : ©DNE																				
Nom de famille (naissance) : <small>(Suivi s'il y a lieu, du nom d'usage)</small>																				
Prénom(s) :																				
N° candidat :											N° d'inscription :									
 RÉPUBLIQUE FRANÇAISE	<small>(Les numéros figurent sur la convocation.)</small>																			
	Né(e) le :			/			/													

1.1

Question F.4

On a défini une liste L de nombres entiers.

Quelle est la valeur de la variable m à la fin de l'exécution du script suivant ?

```
m = L[0]
for j in range(len(L)):
    if m < L[j]:
        m = L[j]
```

Réponses

- A la moyenne de la liste L
- B le minimum de la liste L
- C le maximum de la liste L
- D la longueur de la liste L

Question F.5

On définit la fonction :

```
def f(a,b):
    assert b!=0,'le deuxième argument est nul'
    result = a/b
    return result
```

Qu'obtient-on en exécutant la commande $r = f(4,0)$?

Réponses

- A une erreur ZeroDivisionError: division by zero et l'arrêt de l'exécution
- B une erreur NameError: name 'b' is not defined et l'arrêt de l'exécution
- C une erreur AssertionError: le deuxième argument est nul et la variable r prend la valeur 0
- D une erreur AssertionError: le deuxième argument est nul et l'arrêt de l'exécution

Question F.6

On exécute le script suivant :

```
a = 4
b = 4
c = 4
while a < 5:
    a = a - 1
    b = b + 1
    c = c * b
```

Que peut-on dire ?

Réponses

- A ce programme ne termine pas
- B à la fin de l'exécution, la variable a vaut 5
- C à la fin de l'exécution, la variable b vaut 34
- D à la fin de l'exécution, la variable c vaut 42



Thème G : algorithmique

Question G.1

Combien d'échanges effectue la fonction Python suivante pour trier un tableau de 10 éléments au pire des cas ?

```
def tri (tab):
    for i in range (1, len(tab)):
        for j in range (len(tab) - i):
            if tab[j]>tab[j+1]:
                tab[j],tab[j+1] = tab[j+1], tab[j]
```

Réponses

- A 10
- B 45
- C 55
- D 100

Question G.2

On exécute le script suivant :

```
for i in range(n):
    for j in range(i):
        print('NSI')
```

Combien de fois le mot NSI est-il affiché ?

Réponses

- A n^2
- B $(n + 1)^2$
- C $1 + 2 + \dots + (n - 1)$
- D $1 + 2 + \dots + (n - 1) + n$

Question G.3

La recherche dichotomique est un algorithme rapide qui permet de trouver ou non la présence d'un élément dans un tableau. Mais, pour l'utiliser, une contrainte est indispensable, laquelle ?

Réponses

- A le tableau ne contient que des nombres positifs
- B la longueur du tableau est une puissance de 2
- C le tableau est trié en ordre croissant
- D le tableau ne contient pas la valeur 0

Question G.4

On considère le code suivant de recherche d'une valeur dans une liste :

```
def search(x, y):
    # x est la valeur à chercher
    # y est une liste de valeurs
    for i in range(len(y)):
        if x == y[i]:
            return i
```

Modèle CCYC : ©DNE

Nom de famille (naissance) :

(Suivi s'il y a lieu, du nom d'usage)

Prénom(s) :

N° candidat : N° d'inscription :

(Les numéros figurent sur la convocation.)

Né(e) le : / /



1.1

return None

Quel est le coût de cet algorithme ?

Réponses

- A constant
- B logarithmique
- C linéaire
- D quadratique

Question G.5

On exécute le script suivant :

```
liste = [17, 12, 5, 18, 2, 7, 9, 15, 14, 20]
somme = 0
i = 0
while i < len(liste):
    somme = somme + liste[i]
    i = i + 1
resultat = somme / len(liste)
```

Quelle affirmation est **fausse** parmi les suivantes ?

Réponses

- A le corps de la boucle a été exécuté 10 fois
- B à la fin de l'exécution la valeur de i est 9
- C resultat contient la moyenne des éléments de liste
- D len est une fonction

Question G.6

Pour pouvoir utiliser un algorithme de recherche par dichotomie dans une liste, quelle précondition doit être vraie ?

Réponses

- A la liste doit être triée
- B la liste ne doit pas comporter de doublons
- C la liste doit comporter uniquement des entiers positifs
- D la liste doit être de longueur inférieure à 1024