

TRAINING!

2021-2022

NUMÉRIQUE INFORMATIQUE

PREMIÈRE SPÉCIALITÉ

Modèle CCYC : ©DNE

Nom de famille (naissance) :

(Suivi s'il y a lieu, du nom d'usage)

Prénom(s) :

N° candidat : N° d'inscription :

(Les numéros figurent sur la convocation.)

Né(e) le : / /



RÉPUBLIQUE FRANÇAISE

1.1

ÉPREUVES COMMUNES DE CONTRÔLE CONTINU

CLASSE : Première

VOIE : Générale Technologique Toutes voies (LV)

ENSEIGNEMENT : spécialité Numérique et Sciences Informatiques (NSI)

DURÉE DE L'ÉPREUVE : 02 h 00

Niveaux visés (LV) : LVA LVB

Axes de programme :

CALCULATRICE AUTORISÉE : Oui Non

DICTIONNAIRE AUTORISÉ : Oui Non

Ce sujet contient des parties à rendre par le candidat avec sa copie. De ce fait, il ne peut être dupliqué et doit être imprimé pour chaque candidat afin d'assurer ensuite sa bonne numérisation.

Ce sujet intègre des éléments en couleur. S'il est choisi par l'équipe pédagogique, il est nécessaire que chaque élève dispose d'une impression en couleur.

Ce sujet contient des pièces jointes de type audio ou vidéo qu'il faudra télécharger et jouer le jour de l'épreuve.

Nombre total de pages : 16

L'épreuve consiste en 42 questions, rangées en 7 thèmes.

Pour chaque question, le candidat gagne 3 points s'il choisit la bonne réponse, perd 1 point s'il choisit une réponse fautive. S'il ne répond pas ou choisit plusieurs réponses, il ne gagne ni ne perd aucun point.

Le total sur chacun des 7 thèmes est ramené à 0 s'il est négatif.

La note finale s'obtient en divisant le total des points par 6,3 et en arrondissant à l'entier supérieur.

Le candidat indique ses réponses aux questions en pages 2 et 3.

Seules les pages 1 à 4 sont rendues par le candidat à la fin de l'épreuve, pour être numérisées.

Les questions figurent sur les pages suivantes.



Thème A : types de base

- | | | | | |
|-------------------------|----------------------------|----------------------------|----------------------------|----------------------------|
| Réponse à la question 1 | A <input type="checkbox"/> | B <input type="checkbox"/> | C <input type="checkbox"/> | D <input type="checkbox"/> |
| Réponse à la question 2 | A <input type="checkbox"/> | B <input type="checkbox"/> | C <input type="checkbox"/> | D <input type="checkbox"/> |
| Réponse à la question 3 | A <input type="checkbox"/> | B <input type="checkbox"/> | C <input type="checkbox"/> | D <input type="checkbox"/> |
| Réponse à la question 4 | A <input type="checkbox"/> | B <input type="checkbox"/> | C <input type="checkbox"/> | D <input type="checkbox"/> |
| Réponse à la question 5 | A <input type="checkbox"/> | B <input type="checkbox"/> | C <input type="checkbox"/> | D <input type="checkbox"/> |
| Réponse à la question 6 | A <input type="checkbox"/> | B <input type="checkbox"/> | C <input type="checkbox"/> | D <input type="checkbox"/> |

Thème B : types construits

- | | | | | |
|-------------------------|----------------------------|----------------------------|----------------------------|----------------------------|
| Réponse à la question 1 | A <input type="checkbox"/> | B <input type="checkbox"/> | C <input type="checkbox"/> | D <input type="checkbox"/> |
| Réponse à la question 2 | A <input type="checkbox"/> | B <input type="checkbox"/> | C <input type="checkbox"/> | D <input type="checkbox"/> |
| Réponse à la question 3 | A <input type="checkbox"/> | B <input type="checkbox"/> | C <input type="checkbox"/> | D <input type="checkbox"/> |
| Réponse à la question 4 | A <input type="checkbox"/> | B <input type="checkbox"/> | C <input type="checkbox"/> | D <input type="checkbox"/> |
| Réponse à la question 5 | A <input type="checkbox"/> | B <input type="checkbox"/> | C <input type="checkbox"/> | D <input type="checkbox"/> |
| Réponse à la question 6 | A <input type="checkbox"/> | B <input type="checkbox"/> | C <input type="checkbox"/> | D <input type="checkbox"/> |

Thème C : traitement de données en tables

- | | | | | |
|-------------------------|----------------------------|----------------------------|----------------------------|----------------------------|
| Réponse à la question 1 | A <input type="checkbox"/> | B <input type="checkbox"/> | C <input type="checkbox"/> | D <input type="checkbox"/> |
| Réponse à la question 2 | A <input type="checkbox"/> | B <input type="checkbox"/> | C <input type="checkbox"/> | D <input type="checkbox"/> |
| Réponse à la question 3 | A <input type="checkbox"/> | B <input type="checkbox"/> | C <input type="checkbox"/> | D <input type="checkbox"/> |
| Réponse à la question 4 | A <input type="checkbox"/> | B <input type="checkbox"/> | C <input type="checkbox"/> | D <input type="checkbox"/> |
| Réponse à la question 5 | A <input type="checkbox"/> | B <input type="checkbox"/> | C <input type="checkbox"/> | D <input type="checkbox"/> |
| Réponse à la question 6 | A <input type="checkbox"/> | B <input type="checkbox"/> | C <input type="checkbox"/> | D <input type="checkbox"/> |

Thème D : interactions entre l'homme et la machine sur le Web

- | | | | | |
|-------------------------|----------------------------|----------------------------|----------------------------|----------------------------|
| Réponse à la question 1 | A <input type="checkbox"/> | B <input type="checkbox"/> | C <input type="checkbox"/> | D <input type="checkbox"/> |
| Réponse à la question 2 | A <input type="checkbox"/> | B <input type="checkbox"/> | C <input type="checkbox"/> | D <input type="checkbox"/> |
| Réponse à la question 3 | A <input type="checkbox"/> | B <input type="checkbox"/> | C <input type="checkbox"/> | D <input type="checkbox"/> |
| Réponse à la question 4 | A <input type="checkbox"/> | B <input type="checkbox"/> | C <input type="checkbox"/> | D <input type="checkbox"/> |
| Réponse à la question 5 | A <input type="checkbox"/> | B <input type="checkbox"/> | C <input type="checkbox"/> | D <input type="checkbox"/> |
| Réponse à la question 6 | A <input type="checkbox"/> | B <input type="checkbox"/> | C <input type="checkbox"/> | D <input type="checkbox"/> |

Modèle CCYC : ©DNE

Nom de famille (naissance) :

(Suivi s'il y a lieu, du nom d'usage)

Prénom(s) :

N° candidat : N° d'inscription :

(Les numéros figurent sur la convocation.)

Né(e) le : / /



1.1

Thème E : architectures matérielles et systèmes d'exploitation

- Réponse à la question 1 A B C D
- Réponse à la question 2 A B C D
- Réponse à la question 3 A B C D
- Réponse à la question 4 A B C D
- Réponse à la question 5 A B C D
- Réponse à la question 6 A B C D


Thème F : langages et programmation

- Réponse à la question 1 A B C D
- Réponse à la question 2 A B C D
- Réponse à la question 3 A B C D
- Réponse à la question 4 A B C D
- Réponse à la question 5 A B C D
- Réponse à la question 6 A B C D

Thème G : algorithmique

- Réponse à la question 1 A B C D
- Réponse à la question 2 A B C D
- Réponse à la question 3 A B C D
- Réponse à la question 4 A B C D
- Réponse à la question 5 A B C D
- Réponse à la question 6 A B C D



Modèle CCYC : ©DNE																																						
Nom de famille (naissance) : <small>(Suivi s'il y a lieu, du nom d'usage)</small>																																						
Prénom(s) :																																						
N° candidat :															N° d'inscription :																							
 <small>Liberté • Égalité • Fraternité</small> <small>RÉPUBLIQUE FRANÇAISE</small>	<small>(Les numéros figurent sur la convocation.)</small>																																					
	Né(e) le :			/			/																															

1.1

Thème A : types de base

Question A.1

Soient P et Q deux formules logiques telles que P est vraie et Q est fausse.

Quelle est la valeur de l'expression $(P \text{ ET } Q) \text{ OU } (\text{NON}(P) \text{ OU } Q)$?

Réponses

- A vraie
- B fausse
- C ni vraie, ni fausse
- D vraie et fausse en même temps

Question A.2

Quel est un avantage du codage UTF8 par rapport au codage ASCII ?

Réponses

- A il permet de coder un caractère sur un octet au lieu de deux
- B il permet de coder les majuscules
- C il permet de coder tous les caractères
- D il permet de coder différentes polices de caractères

Question A.3

À quelle affectation sont équivalentes les instructions suivantes, où a , b sont des variables entières et c une variable booléenne ?

```
if a==b:
    c = True
elif a > b+10:
    c = True
else:
    c = False
```

Réponses

- A $c = (a==b) \text{ or } (a > b+10)$
- B $c = (a==b) \text{ and } (a > b+10)$
- C $c = \text{not}(a==b)$
- D $c = \text{not}(a > b+10)$

Question A.4

Quelle est la représentation hexadécimale de l'entier dont la représentation binaire s'écrit :

0100 1001 1101 0011 ?

Réponses

- A 18899
- B 3D94
- C 49D3
- D 93A3



Question A.5

Le résultat de la multiplication en binaire $1011 * 101$ est égal au nombre binaire :

Réponses

- A 102111
- B 101110
- C 110111
- D 110011

Question A.6

Quel est le plus grand entier positif (non signé) représentable en binaire sur 2 octets (c'est-à-dire 16 bits) ?

Réponses

- A $2^{15} - 1$
- B 2^{15}
- C $2^{16} - 1$
- D 2^{16}

Thème B : types construits

Question B.1

On définit $L = [2,3,5,7,-4]$.

En demandant la valeur de $L[5]$, qu'obtient-on ?

Réponses

- A -4
- B 2
- C 3
- D une erreur

Question B.2

On définit :

`resultat = [i*2 for i in range(10)]`

Quelle est la valeur de resultat ?

Réponses

- A [0, 1, 2, 3, 4, 5, 6, 7, 8, 9]
- B [0, 2, 4, 6, 8, 10, 12, 14, 16, 18]
- C [0, 2, 4, 6, 8, 10, 12, 14, 16, 18, 20]
- D [2, 4, 6, 8, 10, 12, 14, 16, 18]

Question B.3

Considérons le tableau suivant :

`tableau = [[1,2],[3,4],[5,6]]`

Quelle est la valeur de l'expression `tableau[2][1]` ?

Réponses

- A 3
- B 6
- C [3,4],[1,2]
- D [5,6],[2,4]

Modèle CCYC : ©DNE

Nom de famille (naissance) :


(Suivi s'il y a lieu, du nom d'usage)

Prénom(s) :

N° candidat : N° d'inscription :

(Les numéros figurent sur la convocation.)

Né(e) le : / /

 Liberté • Égalité • Fraternité
RÉPUBLIQUE FRANÇAISE

1.1

Question B.4

Un programme Python présente la ligne suivante

```
x = [ "x1", "x2", "x3" ]
```

Elle définit :

Réponses

- A une liste de trois éléments
- B un tuple de trois éléments
- C une fonction acceptant trois paramètres
- D un dictionnaire associant la valeur x2 à la clé x1 d'indice x3

Question B.5

Laquelle des quatre expressions suivantes a-t-elle pour valeur la liste [1, 2, 5, 10] ?

Réponses

- A [i for i in range(4) if i<2]
- B [i for i in range(4)]
- C [i*i + 1 for i in range(4)]
- D [i*i - 2*i + 2 for i in range(4)]

Question B.6

Considérons le tableau suivant :

```
tableau = [ [i+2*j for j in range(4)] for i in range(4)]
```

Quelle est la valeur de l'expression tableau[1] ?

Réponses

- A [0,1,2,3]
- B [1,2,3,4]
- C [0,2,4,6]
- D [1,3,5,7]



Thème C : traitement de données en tables

Question C.1

Une table d'un fichier client contient le nom, le prénom et l'identifiant des clients sous la forme :

```
clients = [ ("Dupont", "Paul", 1),
            ("Durand", "Jacques", 2),
            ("Dutronic", "Jean", 3),
            ...]
```

En supposant que plusieurs clients se prénomment Jean, que vaut la liste x après l'exécution du code suivant ?

```
x = []
for i in range(len(clients)):
    if clients[i][1] == "Jean":
        x = clients[i]
```

Réponses

- A Une liste de tuples des noms, prénoms et numéros de tous les clients prénommés Jean
- B Une liste des numéros de tous les clients prénommés Jean
- C Un tuple avec le nom, prénom et numéro du premier client prénommé Jean
- D Un tuple avec le nom, prénom et numéro du dernier client prénommé Jean

Question C.2

Soit le tableau défini de la manière suivante : `tableau = [[1,3,4],[2,7,8],[9,10,6],[12,11,5]]`

On souhaite accéder à la valeur 12, on écrit pour cela :

Réponses

- A `tableau[4][1]`
- B `tableau[1][4]`
- C `tableau[3][0]`
- D `tableau[0][3]`

Question C.3

Soit la table de données suivante :

nom	prenom	date_naissance
Dupont	Pierre	17/05/1987
Dupond	Catherine	18/07/1981
Haddock	Archibald	23/04/1998

Quels sont les descripteurs de ce tableau ?

Réponses

- A nom, prenom et date_naissance
- B Dupont, Pierre et 17/05/1987
- C Dupont, Dupond et Haddock
- D il n'y en a pas

Modèle CCYC : ©DNE
Nom de famille (naissance) :


(Suivi s'il y a lieu, du nom d'usage)

Prénom(s) :

N° candidat : **N° d'inscription** :

(Les numéros figurent sur la convocation.)

Né(e) le : / /



RÉPUBLIQUE FRANÇAISE

1.1

Question C.4

On a défini :

```
mendelev = [ ['H', ',', '!', ',', ',', ',', ',', ',', 'He'],
              ['Li', 'Be', 'B', 'C', 'N', 'O', 'F', 'Ne'],
              ['Na', 'Mg', 'Al', 'Si', 'P', 'S', 'Cl', 'Ar'],
              ..... ]
```

Comment construire la liste des gaz rares, c'est-à-dire la liste des éléments de la dernière colonne ?

Réponses

- A gaz_rares = [periode[7] for periode in mendelev]
- B gaz_rares = [periode for periode in mendelev[7]]
- C gaz_rares = [periode for periode[7] in mendelev]
- D gaz_rares = [periode[8] for periode in mendelev]

Question C.5

Laquelle de ces listes de chaînes de caractères est triée en ordre croissant ?

Réponses

- A ['Chat', 'Chien', 'Cheval', 'Cochon']
- B ['Chat', 'Cheval', 'Chien', 'Cochon']
- C ['Chien', 'Cheval', 'Cochon', 'Chat']
- D ['Cochon', 'Chien', 'Cheval', 'Chat']

Question C.6

On considère l'extraction suivante d'une base de données des départements français. Cette extraction a ensuite été sauvegardée dans un fichier texte.

```
"1","01","Ain","AIN","ain","A500"
"2","02","Aisne","AISNE","aisne","A250"
"3","03","Allier","ALLIER","allier","A460"
"4","04","Alpes-de-Haute-Provence","ALPES-DE-HAUTE-PROVENCE","alpes-de-haute-provence","A412316152"
"5","05","Hautes-Alpes","HAUTES-ALPES","hautes-alpes","H32412"
```

On considère le code suivant :

```
import csv
with open('departements.csv', newline='') as monFichier:
    lesLignes = csv.reader(monFichier)
    for uneLigne in lesLignes:
        print(uneLigne[3])
```

Que va produire l'exécution de ce code ?

Réponses

- A L'affichage de la troisième colonne à savoir le nom du département avec une majuscule initiale
- B L'affichage de tout le contenu du fichier
- C L'affichage du nombre total de départements figurant dans le fichier
- D L'affichage de la quatrième colonne, à savoir le nom du département tout en majuscules



Thème D : interactions entre l'homme et la machine sur le Web

Question D.1

Comment doit-on procéder pour insérer des instructions en javascript dans un fichier html ?

Réponses

- A Il suffit de mettre les instructions entre les balises <javascript> et </javascript>
- B Il faut utiliser une balise <script>
- C Il faut les insérer dans le fichier CSS
- D Il est inutile de mettre des balises spéciales

Question D.2

Quel est le nom de l'événement généré lorsque l'utilisateur clique sur un bouton de type button dans une page HTML ?

Réponses

- A action
- B mouse
- C submit
- D click

Question D.3

Pour créer un lien vers la page d'accueil de Wikipédia, que devra-t-on écrire dans une page Web ?

Réponses

- A Wikipédia
- B
- C Wikipédia
- D <link src="http://fr.wikipedia.org">Wikipédia</link>

Question D.4

Une page HTML comporte ce bout de code :

```
<article>
  <h1>Les auteurs de ce site</h1>
  <button onclick="auteurs()">Appuyer ici</button>
</article>

<script src="java_script/ScriptJava.js"></script>

<script>
  function auteurs() { alert("Auteurs anonymes"); }
</script>
```

Quel sera le résultat d'un clic sur le bouton "Appuyer ici" ?

Réponses

- A Rien
- B La page du navigateur se fermera
- C La page affichera à la place du bouton "Appuyer ici" le message "Auteurs anonymes"
- D Cela provoquera l'ouverture d'une fenêtre comportant le message "Auteurs anonymes"

Modèle CCYC : ©DNE

Nom de famille (naissance) :

(Suivi s'il y a lieu, du nom d'usage)

Prénom(s) :

N° candidat : N° d'inscription :

(Les numéros figurent sur la convocation.)

Né(e) le : / /



1.1

Question D.5

Le site internet d'un quotidien d'information permet aux visiteurs de laisser des commentaires textuels. Ces commentaires doivent être visibles par les autres visiteurs. Laquelle des affirmations suivantes est correcte ?

Réponses

- A Il suffit que la page HTML contienne des champs de la forme <textarea >
- B Il suffit que la page HTML contienne des champs de la forme <textarea > et d'utiliser JavaScript pour enregistrer les commentaires
- C Il faut un programme en PHP ou un script Python sur le serveur pour traiter les données
- D Non, ce n'est pas possible avec la technologie actuelle

Question D.6

Les pages HTML sont affichées par ...

Réponses

- A le compilateur
- B le serveur
- C l'interpréteur
- D le navigateur Web

Thème E : architectures matérielles et systèmes d'exploitation

Question E.1

À partir du répertoire ~/Perso/Doc quelle commande permet de rejoindre le répertoire ~/Public ?

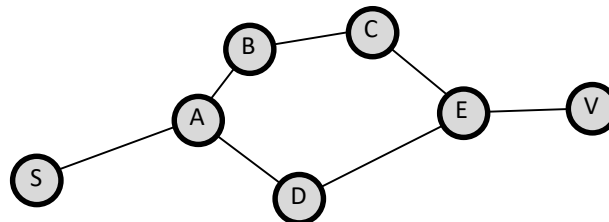
Réponses

- A cd ./Public
- B cd ../Public
- C cd .././Public
- D cd ../../Public



Question E.2

Vivien télécharge un logiciel à partir d'un site commercial. Le transfert par Internet du logiciel a débuté entre le serveur (machine S) et son domicile (machine V). On a représenté des routeurs A, B, C, D et E et les liens existants. Les paquets IP suivent le chemin passant par les routeurs A, B, C et E.



Durant un orage, la foudre frappe et détruit le serveur C par lequel transitent les paquets correspondant au fichier que télécharge Vivien. Que se passe-t-il ?

Réponses

- A la liaison étant coupée, le serveur ne sera plus accessible
- B le téléchargement n'est pas interrompu car les paquets peuvent transiter par le routeur D
- C le téléchargement est interrompu, Vivien doit redémarrer une nouvelle connexion à partir de zéro
- D le téléchargement se poursuit mais des données seront perdues

Question E.3

Dans l'architecture générale de Von Neumann, la partie qui a pour rôle d'effectuer les opérations de base est :

Réponses

- A l'unité de contrôle
- B la mémoire
- C l'unité arithmétique et logique
- D les dispositifs d'entrée-sortie

Question E.4

L'adresse IP du site www.education.gouv.fr est 185.75.143.24.

Quel dispositif permet d'associer l'adresse IP et l'URL www.education.gouv.fr ?

Réponses

- A un routeur
- B un serveur DNS
- C un serveur de temps
- D un serveur Web

Question E.5

Dans la console Linux, quelle commande faut-il exécuter pour obtenir la liste des répertoires et dossiers contenus dans le répertoire courant ?

Réponses

- A man pwd
- B cd pwd
- C ls -l
- D man ls -l

Modèle CCYC : ©DNE

Nom de famille (naissance) :

(Suivi s'il y a lieu, du nom d'usage)

Prénom(s) :

N° candidat : N° d'inscription :

(Les numéros figurent sur la convocation.)

Né(e) le : / /



RÉPUBLIQUE FRANÇAISE

1.1

Question E.6

À partir du dossier ~/Doc/QCM, quelle commande permet de rejoindre le dossier ~/Hack/Reponses ?

Réponses

- A cd Hack/Reponses
- B cd /Hack/Reponses
- C cd ~/~/Hack/Reponses
- D cd ../~/Hack/Reponses

Thème F : langages et programmation

Question F.1

On exécute le code suivant :

```
def f(t):
    n = len(t)
    for k in range(1,n):
        t[k] = t[k] + t[k-1]
```

```
L = [1, 3, 4, 5, 2]
f(L)
```

Quelle est la valeur de L après l'exécution de ce code ?

Réponses

- A [1, 3, 4, 5, 2]
- B [1, 4, 7, 9, 7]
- C [1, 4, 8, 13, 15]
- D [3, 6, 10, 15, 17]

Question F.2

Quelle est la valeur de la variable x à la fin de l'exécution du script suivant :

```
def f(x):
    x = x + 1
    return x + 1
```

```
x = 0
f(x+1)
```

Réponses

- A 0
- B 1
- C 2
- D 3

**Question F.3**

Quelle est la valeur de la variable n à la fin de l'exécution du script ci-dessous ?

```
n = 1
for i in range(4):
    n = n + 2
```

Réponses

- A 1
- B 8
- C 9
- D 18

Question F.4

On exécute le script Python suivant :

```
def cube(L):
    for i in range(len(L)):
        L[i] = L[i] * L[i] * L[i]
    return L
```

```
L = [2, 5]
b = cube(L)
```

Que vaut le couple (L,b) à la fin de l'exécution ?

Réponses

- A ([2,5], [8,125])
- B ([8,125], [8,125])
- C ([8,125], [2,5])
- D ([2,5], [2,5])


Question F.5

Dans le programme JavaScript suivant, quelle est la notation qui délimite le bloc d'instructions exécuté à chaque passage dans la boucle while ?

```
i = 0
while (i < 10) {
    alert(i)
    i = i + 1
}
alert("Fin")
```

Réponses

- A le fait que les instructions soient encadrées entre { et }
- B le fait que les instructions soient indentées de 4 caractères comme en Python
- C le fait que les instructions suivent le mot clé while
- D le fait que les instructions suivent la parenthèse)

Modèle CCYC : ©DNE																				
Nom de famille (naissance) : <small>(Suivi s'il y a lieu, du nom d'usage)</small>																				
Prénom(s) :																				
N° candidat :											N° d'inscription :									
 RÉPUBLIQUE FRANÇAISE	<small>(Les numéros figurent sur la convocation.)</small>																			
	Né(e) le :			/			/													

1.1

Question F.6

Quelle est la valeur de la variable n à la fin de l'exécution du script ci-dessous ?

```
n = 1
while n != 20:
    n = n + 2
```

Réponses

- A 1
- B 20
- C 22
- D le programme ne termine pas, la boucle tourne indéfiniment

Thème G : algorithmique**Question G.1**

On considère la fonction Python suivante, qui prend en argument une liste L et renvoie le maximum des éléments de la liste :

```
def rechercheMaximum(L):
    max = L[0]
    for i in range(len(L)):
        if L[i] > max:
            max = L[i]
    return max
```

On note n la taille de la liste.

Quelle est la complexité en nombre d'opérations de l'algorithme ?

Réponses

- A constante, c'est-à-dire ne dépend pas de n
- B linéaire, c'est-à-dire de l'ordre de n
- C quadratique, c'est-à-dire de l'ordre de n^2
- D cubique, c'est-à-dire de l'ordre de n^3

Question G.2

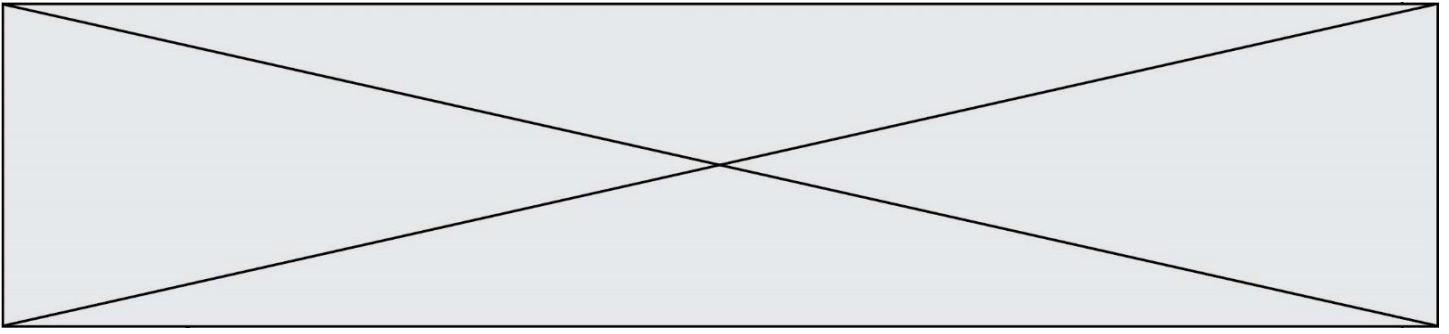
On définit la fonction suivante :

```
def traitement(liste) :
    m = liste[0]
    for i in range (len(liste)) :
        if liste[i] > m:
            m = liste[i]
    return m
```

Que vaut `traitement([-2,5,6,-10,35])` ?

Réponses

- A None
- B -10
- C -6
- D 35



Question G.3

Quelle valeur permet de compléter l'affirmation suivante : « Le nombre d'opérations nécessaires pour rechercher un élément séquentiellement dans un tableau de longueur n est de l'ordre de ... » ?

Réponses

- A 1
- B n
- C n^2
- D n^3

Question G.4

On considère le code suivant, où n désigne un entier au moins égal à 2.

```
p = 1
while p < n:
    p = 2*p
```

Quel argument permet d'affirmer que son exécution termine à coup sûr ?

Réponses

- A p est une puissance de 2
- B toute boucle while termine
- C les valeurs successives de p constituent une suite d'entiers positifs strictement croissante
- D les valeurs successives de $n - p$ constituent une suite d'entiers positifs strictement décroissante

Question G.5

À quelle catégorie appartient l'algorithme classique de rendu de monnaie ?

Réponses

- A les algorithmes de classification et d'apprentissage
- B les algorithmes de tri
- C les algorithmes gloutons
- D les algorithmes de mariages stables

Question G.6

La fonction suivante doit calculer la moyenne d'un tableau de nombres, passé en paramètre. Avec quelles expressions faut-il remplacer les points de suspension pour que la fonction soit correcte ?

```
def moyenne(tableau):
    total = ...
    for valeur in tableau:
        total = total + valeur
    return total / ...
```

Réponses

- A 1 et $(\text{len}(\text{tableau}) + 1)$
- B 1 et $\text{len}(\text{tableau})$
- C 0 et $(\text{len}(\text{tableau}) + 1)$
- D 0 et $\text{len}(\text{tableau})$