

SUJET

2020-2021

NUMÉRIQUE, INFORMATIQUE

Spécialité Première

ÉVALUATIONS
COMMUNES

Modèle CCYC : ©DNE

Nom de famille (naissance) :

(Suivi s'il y a lieu, du nom d'usage)

Prénom(s) :

N° candidat : N° d'inscription :

(Les numéros figurent sur la convocation.)

Né(e) le : / /



RÉPUBLIQUE FRANÇAISE

1.1

ÉPREUVES COMMUNES DE CONTRÔLE CONTINU

CLASSE : Première

VOIE : Générale Technologique Toutes voies (LV)

ENSEIGNEMENT : spécialité Numérique et Sciences Informatiques (NSI)

DURÉE DE L'ÉPREUVE : 02 h 00

Niveaux visés (LV) : LVA LVB

Axes de programme :

CALCULATRICE AUTORISÉE : Oui Non

DICTIONNAIRE AUTORISÉ : Oui Non

Ce sujet contient des parties à rendre par le candidat avec sa copie. De ce fait, il ne peut être dupliqué et doit être imprimé pour chaque candidat afin d'assurer ensuite sa bonne numérisation.

Ce sujet intègre des éléments en couleur. S'il est choisi par l'équipe pédagogique, il est nécessaire que chaque élève dispose d'une impression en couleur.

Ce sujet contient des pièces jointes de type audio ou vidéo qu'il faudra télécharger et jouer le jour de l'épreuve.

Nombre total de pages : 18

L'épreuve consiste en 42 questions, rangées en 7 thèmes.

Pour chaque question, le candidat gagne 3 points s'il choisit la bonne réponse, perd 1 point s'il choisit une réponse fautive. S'il ne répond pas ou choisit plusieurs réponses, il ne gagne ni ne perd aucun point.

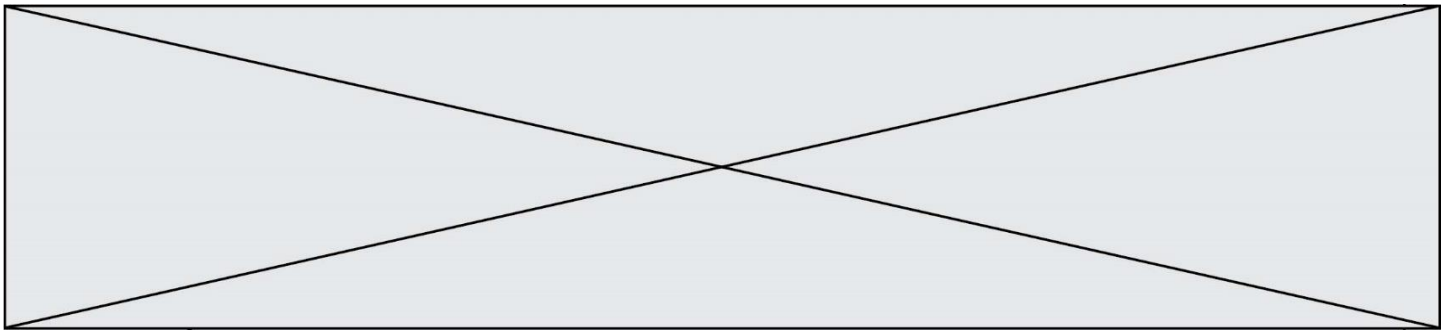
Le total sur chacun des 7 thèmes est ramené à 0 s'il est négatif.

La note finale s'obtient en divisant le total des points par 6,3 et en arrondissant à l'entier supérieur.

Le candidat indique ses réponses aux questions en pages 2 et 3.

Seules les pages 1 à 4 sont rendues par le candidat à la fin de l'épreuve, pour être numérisées.

Les questions figurent sur les pages suivantes.



Thème A : types de base

- | | | | | |
|-------------------------|----------------------------|----------------------------|----------------------------|----------------------------|
| Réponse à la question 1 | A <input type="checkbox"/> | B <input type="checkbox"/> | C <input type="checkbox"/> | D <input type="checkbox"/> |
| Réponse à la question 2 | A <input type="checkbox"/> | B <input type="checkbox"/> | C <input type="checkbox"/> | D <input type="checkbox"/> |
| Réponse à la question 3 | A <input type="checkbox"/> | B <input type="checkbox"/> | C <input type="checkbox"/> | D <input type="checkbox"/> |
| Réponse à la question 4 | A <input type="checkbox"/> | B <input type="checkbox"/> | C <input type="checkbox"/> | D <input type="checkbox"/> |
| Réponse à la question 5 | A <input type="checkbox"/> | B <input type="checkbox"/> | C <input type="checkbox"/> | D <input type="checkbox"/> |
| Réponse à la question 6 | A <input type="checkbox"/> | B <input type="checkbox"/> | C <input type="checkbox"/> | D <input type="checkbox"/> |

Thème B : types construits

- | | | | | |
|-------------------------|----------------------------|----------------------------|----------------------------|----------------------------|
| Réponse à la question 1 | A <input type="checkbox"/> | B <input type="checkbox"/> | C <input type="checkbox"/> | D <input type="checkbox"/> |
| Réponse à la question 2 | A <input type="checkbox"/> | B <input type="checkbox"/> | C <input type="checkbox"/> | D <input type="checkbox"/> |
| Réponse à la question 3 | A <input type="checkbox"/> | B <input type="checkbox"/> | C <input type="checkbox"/> | D <input type="checkbox"/> |
| Réponse à la question 4 | A <input type="checkbox"/> | B <input type="checkbox"/> | C <input type="checkbox"/> | D <input type="checkbox"/> |
| Réponse à la question 5 | A <input type="checkbox"/> | B <input type="checkbox"/> | C <input type="checkbox"/> | D <input type="checkbox"/> |
| Réponse à la question 6 | A <input type="checkbox"/> | B <input type="checkbox"/> | C <input type="checkbox"/> | D <input type="checkbox"/> |

Thème C : traitement de données en tables

- | | | | | |
|-------------------------|----------------------------|----------------------------|----------------------------|----------------------------|
| Réponse à la question 1 | A <input type="checkbox"/> | B <input type="checkbox"/> | C <input type="checkbox"/> | D <input type="checkbox"/> |
| Réponse à la question 2 | A <input type="checkbox"/> | B <input type="checkbox"/> | C <input type="checkbox"/> | D <input type="checkbox"/> |
| Réponse à la question 3 | A <input type="checkbox"/> | B <input type="checkbox"/> | C <input type="checkbox"/> | D <input type="checkbox"/> |
| Réponse à la question 4 | A <input type="checkbox"/> | B <input type="checkbox"/> | C <input type="checkbox"/> | D <input type="checkbox"/> |
| Réponse à la question 5 | A <input type="checkbox"/> | B <input type="checkbox"/> | C <input type="checkbox"/> | D <input type="checkbox"/> |
| Réponse à la question 6 | A <input type="checkbox"/> | B <input type="checkbox"/> | C <input type="checkbox"/> | D <input type="checkbox"/> |

Thème D : interactions entre l'homme et la machine sur le Web

- | | | | | |
|-------------------------|----------------------------|----------------------------|----------------------------|----------------------------|
| Réponse à la question 1 | A <input type="checkbox"/> | B <input type="checkbox"/> | C <input type="checkbox"/> | D <input type="checkbox"/> |
| Réponse à la question 2 | A <input type="checkbox"/> | B <input type="checkbox"/> | C <input type="checkbox"/> | D <input type="checkbox"/> |
| Réponse à la question 3 | A <input type="checkbox"/> | B <input type="checkbox"/> | C <input type="checkbox"/> | D <input type="checkbox"/> |
| Réponse à la question 4 | A <input type="checkbox"/> | B <input type="checkbox"/> | C <input type="checkbox"/> | D <input type="checkbox"/> |
| Réponse à la question 5 | A <input type="checkbox"/> | B <input type="checkbox"/> | C <input type="checkbox"/> | D <input type="checkbox"/> |
| Réponse à la question 6 | A <input type="checkbox"/> | B <input type="checkbox"/> | C <input type="checkbox"/> | D <input type="checkbox"/> |

Modèle CCYC : ©DNE

Nom de famille (naissance) :


(Suivi s'il y a lieu, du nom d'usage)

Prénom(s) :

N° candidat : N° d'inscription :

(Les numéros figurent sur la convocation.)

Né(e) le : / /



1.1

Thème E : architectures matérielles et systèmes d'exploitation

- Réponse à la question 1 A B C D
- Réponse à la question 2 A B C D
- Réponse à la question 3 A B C D
- Réponse à la question 4 A B C D
- Réponse à la question 5 A B C D
- Réponse à la question 6 A B C D


Thème F : langages et programmation

- Réponse à la question 1 A B C D
- Réponse à la question 2 A B C D
- Réponse à la question 3 A B C D
- Réponse à la question 4 A B C D
- Réponse à la question 5 A B C D
- Réponse à la question 6 A B C D

Thème G : algorithmique

- Réponse à la question 1 A B C D
- Réponse à la question 2 A B C D
- Réponse à la question 3 A B C D
- Réponse à la question 4 A B C D
- Réponse à la question 5 A B C D
- Réponse à la question 6 A B C D



Modèle CCYC : ©DNE																				
Nom de famille (naissance) : <small>(Suivi s'il y a lieu, du nom d'usage)</small>																				
Prénom(s) :																				
N° candidat :											N° d'inscription :									
 <small>Liberté • Égalité • Fraternité</small> <small>RÉPUBLIQUE FRANÇAISE</small>	<small>(Les numéros figurent sur la convocation.)</small>																			
	Né(e) le :			/			/													

1.1

Thème A : types de base

Question A.1

À quoi sert le codage en complément à 2 ?

Réponses

- A à inverser un nombre binaire
- B à coder des nombres entiers négatifs en binaire
- C à convertir un nombre en hexadécimal
- D à multiplier par 2 un nombre en binaire

Question A.2

Parmi les caractères ci-dessous, lequel ne fait pas partie du code ASCII ?

Réponses

- A a
- B B
- C @
- D é

Question A.3

Quelle est l'écriture en hexadécimal (base 16) du nombre entier positif qui s'écrit 1110 1101 en base 2 ?

Réponses

- A DE
- B ED
- C EDF
- D FEFD

Question A.4

À quelle affectation sont équivalentes les instructions suivantes, où a, b sont des variables entières et c une variable booléenne ?

```

if a==b:
    c = True
elif a > b+10:
    c = True
else:
    c = False

```

Réponses

- A $c = (a==b) \text{ or } (a > b+10)$
- B $c = (a==b) \text{ and } (a > b+10)$
- C $c = \text{not}(a==b)$
- D $c = \text{not}(a > b+10)$



Question A.5

Quand on ajoute deux bits a et b , on obtient un bit de somme s et un bit de retenue r . On peut exprimer s et r à l'aide de formules logiques, lesquelles ?

Réponses


- | | | |
|---|--------------------------------|--------------------------------|
| A | $r = a \text{ ET } b$ | $s = a \text{ OU } b$ |
| B | $r = a \text{ ET } b$ | $s = a \text{ ET } b$ |
| C | $r = a \text{ ET } b$ | $s = a \text{ OU EXCLUSIF } b$ |
| D | $r = a \text{ OU EXCLUSIF } b$ | $s = a \text{ ET } b$ |

Question A.6

Parmi les quatre propositions, quelle est celle qui correspond au résultat de l'addition en écriture hexadécimale $7B692 + 4C81E$?

Réponses

- A C8EB0
- B C5EB0
- C C7EC0
- D C7EB0

Modèle CCYC : ©DNE																				
Nom de famille (naissance) : <small>(Suivi s'il y a lieu, du nom d'usage)</small>																				
Prénom(s) :																				
N° candidat :											N° d'inscription :									
 Liberté • Égalité • Fraternité RÉPUBLIQUE FRANÇAISE	<small>(Les numéros figurent sur la convocation.)</small>																			
	Né(e) le :			/			/													

1.1

Thème B : types construits

Question B.1

On définit $L = [[1,2,3,4,5],[6,7,8,9,10],[11,12,13,14,15]]$. Quelle est la valeur de $L[0][2]$?

Réponses

- A 2
- B 3
- C 11
- D 12

Question B.2

On considère deux entiers strictement positifs L et C . On note $n = L*C$ leur produit et on écrit la fonction suivante, qui construit un tableau de L lignes et C colonnes, contenant les entiers consécutifs de 0 à $n-1$:

```
def construitTable(L,C):
    t = []
    for i in range(L):
        ligne = []
        for j in range(C):
            .....
        t.append(ligne)
    return t
```

Par exemple, l'appel `construitTable(2,3)` doit renvoyer la table :

```
[ [0, 1, 2],
  [3, 4, 5] ]
```

Que faut-il écrire à la place des points de suspension pour obtenir ce résultat ?

Réponses

- A `ligne.append(i + C*j)`
- B `ligne.append(L*i + j)`
- C `ligne.append(i + L*j)`
- D `ligne.append(C*i + j)`

Question B.3

On définit le dictionnaire $d = \{'a': 1, 'b': 2, 'c': 3, 'z': 26\}$. Quelle expression permet de récupérer la valeur de la clé 'z' ?

Réponses

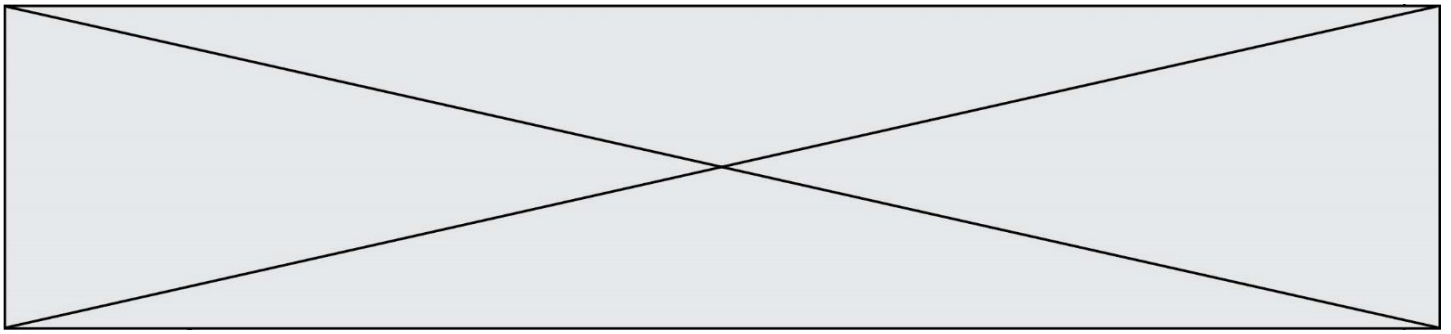
- A `d[4]`
- B `d[26]`
- C `d[z]`
- D `d['z']`

Question B.4

L est une liste d'entiers.

On définit la fonction suivante :

```
def f(L):
    m = L[0]
    for x in L:
```

```
if x > m:  
    m = x  
return m
```

Que calcule cette fonction ?

Réponses

- A le maximum de la liste L passée en argument
- B le minimum de la liste L passée en argument
- C le premier terme de la liste L passée en argument
- D le dernier terme de la liste L passée en argument

Question B.5

On définit : matrice = [[1,2,3], [4,5,6], [7,8,9], [10,11,12]].

Quelle est la valeur de matrice[1][2] ?

Réponses

- A 2
- B 4
- C 6
- D 8

Question B.6

Quelle instruction permet d'affecter la liste [0,1,4,9,16] à la variable tableau ?

Réponses

- A tableau = [i**2 for i in range(4)]
- B tableau = [i**2 for i in range(5)]
- C tableau = [i**2 for i in range(16)]
- D tableau = [i**2 for i in range(17)]

Modèle CCYC : ©DNE

Nom de famille (naissance) :

(Suivi s'il y a lieu, du nom d'usage)

Prénom(s) :

N° candidat : N° d'inscription :

(Les numéros figurent sur la convocation.)

Né(e) le : / /

 Liberté • Égalité • Fraternité
RÉPUBLIQUE FRANÇAISE

1.1

Thème C : traitement de données en tables

Question C.1

Soit la table de données suivante :

nom	prenom	date_naissance
Dupont	Pierre	17/05/1987
Dupond	Catherine	18/07/1981
Haddock	Archibald	23/04/1998

Quels sont les descripteurs de ce tableau ?

Réponses

- A nom, prenom et date_naissance
- B Dupont, Pierre et 17/05/1987
- C Dupont, Dupond et Haddock
- D il n'y en a pas

Question C.2

Laquelle de ces listes de chaînes de caractères est triée en ordre croissant ?

Réponses

- A ["112", "19", "27", "45", "8"]
- B ["8", "19", "27", "45", "112"]
- C ["8", "112", "19", "27", "45"]
- D ["19", "112", "27", "45", "8"]

Question C.3

On utilise habituellement un fichier d'extension csv pour quel type de données ?

Réponses

- A des données structurées graphiquement
- B des données sonores
- C des données compressées
- D des données structurées en tableau

Question C.4

Qu'est-ce que le format de fichier CSV ?

Réponses

- A un format de fichier mis au point par Microsoft pour Excel
- B un format de fichier pour décrire une base de données
- C un format de fichier où les données sont séparées par un caractère tel qu'une virgule
- D un format de fichier décrivant une page Web

Question C.5

On considère la table suivants :

```
t = [ { 'type': 'marteau', 'prix': 17, 'quantité': 32 },
      { 'type': 'scie', 'prix': 24, 'quantité': 3 },
      { 'type': 'tournevis', 'prix': 8, 'quantité': 45 } ]
```

Quelle expression permet d'obtenir la quantité de scies ?

Réponses



- A `t[2]['quantité']`
- B `t[1]['quantité']`
- C `t['quantité'][1]`
- D `t['scies']['quantité']`

Question C.6


On définit ainsi une liste t :

```
t = [ {'id':1, 'age':23, 'sejour':'PEKIN'},  
      {'id':2, 'age':27, 'sejour':'ISTANBUL'},  
      {'id':3, 'age':53, 'sejour':'LONDRES'},  
      {'id':4, 'age':41, 'sejour':'ISTANBUL'},  
      {'id':5, 'age':62, 'sejour':'RIO'},  
      {'id':6, 'age':28, 'sejour':'ALGER'}]
```

Quelle affirmation est correcte ?

Réponses

- A t est une liste de listes
- B t est une liste de dictionnaires
- C t est un dictionnaire de listes
- D t est une liste de tuples

Modèle CCYC : ©DNE																				
Nom de famille (naissance) : <small>(Suivi s'il y a lieu, du nom d'usage)</small>																				
Prénom(s) :																				
N° candidat :											N° d'inscription :									
 Liberté • Égalité • Fraternité RÉPUBLIQUE FRANÇAISE	<small>(Les numéros figurent sur la convocation.)</small>																			
	Né(e) le :			/			/													

1.1

Thème D : interactions entre l'homme et la machine sur le Web

Question D.1

Parmi les langages suivants, lequel est exécuté sur le serveur lors de la consultation d'une page Web ?

Réponses

- A JavaScript
- B HTML
- C CSS
- D PHP

Question D.2

Par quoi commence l'URL d'une page Web sécurisée ?

Réponses

- A http
- B https
- C ftp
- D smtp

Question D.3

On considère le formulaire HTML suivant :

```
<form action="action.php" method="get" name="prenom">
  Prénom :
  <input type="text" id="champ1" name="p"/>
  <br/>
  <input type="hidden" name="util" value="1549"/>
  <input value="Envoi du prénom" type="submit"/>
</form>
```

Le prénom entré par l'utilisateur est contenu dans :

Réponses

- A l'élément dont l'attribut id est champ1
- B l'élément nommé prénom
- C l'élément dont l'attribut value est Envoi du prénom
- D l'élément dont l'attribut type est hidden

Question D.4

On souhaite qu'un menu apparaisse à chaque fois que l'utilisateur passe sa souris sur l'image de bannière du site. L'attribut de la balise img dans lequel on doit mettre un code Javascript à cet effet est :

Réponses

- A onclick
- B src
- C alt
- D onmouseover



Question D.5

Après avoir tenté d'accéder à un site, le navigateur affiche : 403 Forbidden.

Cela signifie que :

Réponses

- A la connexion à Internet est défectueuse
- B le navigateur a refusé d'envoyer la requête
- C le serveur a répondu par un code d'erreur
- D le serveur n'a jamais répondu

Question D.6

Quelle est la machine qui exécute un programme JavaScript inclus dans une page HTML ?

Réponses

- A le serveur WEB qui contient la page HTML
- B la machine de l'utilisateur qui consulte la page HTML
- C un serveur du réseau
- D un routeur du réseau

Modèle CCYC : ©DNE

Nom de famille (naissance) :


(Suivi s'il y a lieu, du nom d'usage)

Prénom(s) :

N° candidat : N° d'inscription :

(Les numéros figurent sur la convocation.)

Né(e) le : / /



RÉPUBLIQUE FRANÇAISE

1.1

Thème E : architectures matérielles et systèmes d'exploitation

Question E.1

Dans un terminal Linux on écrit :

```
user@promethee:/home/user/mesVideos $ cd ../mesPhotos
que se passe-t-il si on appuie sur la touche entrée ?
```

Réponses

- A L'utilisateur sera positionné dans le répertoire /home/user/mesPhotos
- B Un nouveau dossier nommé mesPhotos sera créé dans le répertoire /home/user
- C L'utilisateur sera positionné dans le répertoire /home/user/mesVideos/mesPhotos
- D Un nouveau dossier nommé ../mesPhotos sera créé dans le répertoire /home/user/mesVideos

Question E.2

Lequel de ces périphériques n'est pas un périphérique d'entrée ?

Réponses

- A le moniteur
- B le clavier
- C la souris
- D le scanner

Question E.3

Parmi les dispositifs d'entrée et de sortie suivants, lequel est uniquement un capteur ?

Réponses

- A la diode
- B l'écran tactile
- C le thermomètre
- D le moteur pas à pas

Question E.4

Quelles sont les quatre parties distinctes de l'architecture de Von Neumann ?

Réponses

- A L'unité logique, l'unité de contrôle, la mémoire et les dispositifs d'entrée-sortie
- B L'écran, le clavier, le disque dur et le micro-processeur
- C Le disque dur, le micro-processeur, la carte-mère et la carte graphique
- D La mémoire des programmes, la mémoire des données, les entrées-sorties et l'unité logique

Question E.5

Quel composant électronique, inventé vers le milieu du 20^e siècle, a permis le développement des ordinateurs actuels ?

Réponses

- A le condensateur
- B la résistance
- C le transistor
- D la diode




Question E.6

La mémoire RAM :

Réponses

- A ne fonctionne qu'en mode lecture
- B ne fonctionne qu'en mode écriture
- C conserve les données en cas de coupure de l'alimentation
- D perd les données en cas de coupure de l'alimentation

Modèle CCYC : ©DNE																				
Nom de famille (naissance) : <small>(Suivi s'il y a lieu, du nom d'usage)</small>																				
Prénom(s) :																				
N° candidat :											N° d'inscription :									
 Liberté • Égalité • Fraternité RÉPUBLIQUE FRANÇAISE	<small>(Les numéros figurent sur la convocation.)</small>																			
	Né(e) le :			/			/													

1.1

Thème F : langages et programmation

Question F.1

La fonction Python suivante ne calcule pas toujours correctement le résultat de x^y pour des arguments entiers. Parmi les tests suivants, lequel va permettre de détecter l'erreur ?

```
def puissance (x,y):
    p = x
    for i in range (y - 1):
        p = p * x
    return p
```

Réponses

- A puissance(2,0)
- B puissance(2,1)
- C puissance(2,2)
- D puissance(2,10)

Question F.2

On considère l'instruction suivante :

```
resultat = [0] * 7
```

Que contient la variable resultat après son exécution ?

Réponses

- A 0
- B [0]
- C [[0], [0], [0], [0], [0], [0], [0]]
- D [0, 0, 0, 0, 0, 0, 0]

Question F.3

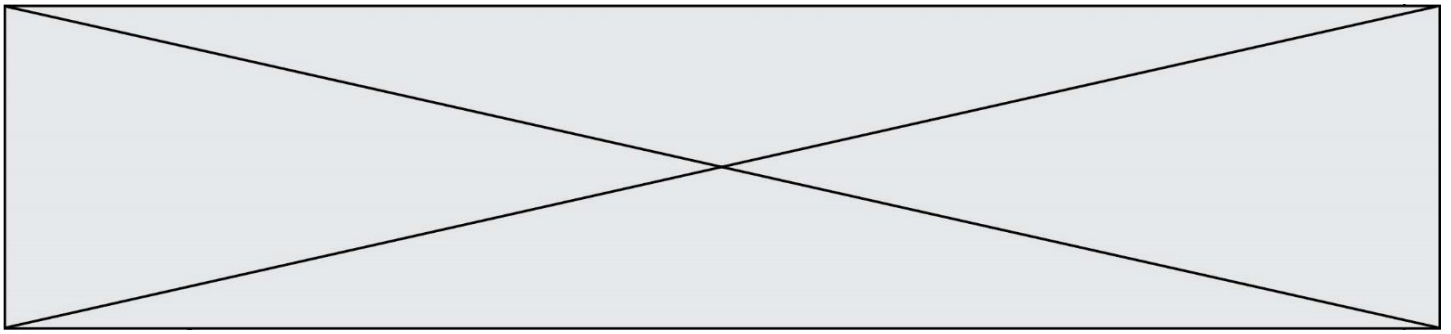
On exécute le script suivant :

```
tableau1 = [1, 2, 3]
tableau2 = [4, 5, 6]
long = len(tableau1 + tableau2)
```

Quelle est la valeur de la variable long à la fin de cette exécution ?

Réponses

- A 1
- B 3
- C 6
- D rien, car le code engendre une erreur



Question F.4

On définit la fonction suivante :

```
def f(n):  
    c = 0  
    while n > 0:  
        c = c + 1  
        n = n // 2  
    return c
```

Quel est la valeur renvoyée par l'appel f(35) ?

Réponses

- A 1
- B 5
- C 6
- D 7

Question F.5

n étant un entier strictement positif, la fonction suivante calcule sa factorielle, c'est-à-dire le produit $1 \times 2 \times 3 \times \dots \times (n - 1) \times n$. Comment faut-il écrire la ligne en pointillée ci-dessous pour ce faire ?

```
def factorielle(n):  
    f = 1  
    .....  
    f = f * i  
    return f
```

Réponses


- A for i in range(1,n):
- B for i in range(n+1):
- C for i in range(0,n):
- D for i in range(1,n+1):

Question F.6

Parmi ces langages, lequel n'est pas un langage de programmation ?

Réponses

- A HTML
- B JavaScript
- C PHP
- D Python

Modèle CCYC : ©DNE																				
Nom de famille (naissance) : <small>(Suivi s'il y a lieu, du nom d'usage)</small>																				
Prénom(s) :																				
N° candidat :											N° d'inscription :									
 <small>Liberté • Égalité • Fraternité</small> <small>RÉPUBLIQUE FRANÇAISE</small>	<small>(Les numéros figurent sur la convocation.)</small>																			
	Né(e) le :			/			/													

1.1

Thème G : algorithmique

Question G.1

Un algorithme de tri d'une liste d'entiers est implémenté de la façon suivante :

```
def trier(L) :
    for i in range(len(L)):
        indice_min = i
        for j in range(i+1, len(L)):
            if L[j] < L[indice_min] :
                indice_min = j
        L[i], L[indice_min] = L[indice_min], L[i]
    return L
```

Quelle est l'affirmation exacte ?

Réponses

- A cet algorithme est celui du tri par sélection et il a un coût linéaire en la taille de la liste à trier
- B cet algorithme est celui du tri par insertion et il a un coût linéaire en la taille de la liste à trier
- C cet algorithme est celui du tri par sélection et il a un coût quadratique en la taille de la liste à trier
- D cet algorithme est celui du tri par insertion et il a un coût quadratique en la taille de la liste à trier

Question G.2

Quelle est la valeur du couple (s,i) à la fin de l'exécution du script suivant ?

```
s = 0
i = 1
while i < 5:
    s = s + i
    i = i + 1
```

Réponses

- A (4, 5)
- B (10, 4)
- C (10, 5)
- D (15, 5)

Question G.3

On considère le code suivant de recherche d'une valeur dans une liste :

```
def search(x, y):
    # x est la valeur à chercher
    # y est une liste de valeurs
    for i in range(len(y)):
        if x == y[i]:
            return i
    return None
```

Quel est le coût de cet algorithme ?

Réponses

- A constant
- B logarithmique
- C linéaire
- D quadratique



Question G.4

La fonction suivante doit calculer le produit de tous les éléments de la liste passée en paramètre. Avec quelles expressions doit-on la compléter pour que cette fonction soit correcte ?

```
def produit (L):  
    p = ...  
    for elt in L:  
        .....  
    return p
```

Réponses

- A 1 puis $p = p * elt$
- B 0 puis $p = p * elt$
- C 1 puis $p = elt$
- D 0 puis $p = elt$

Question G.5

Qu'effectue-t-on en lançant la commande suivante dans un terminal Linux :

```
mv /etc/professeur/fichier.conf /home/nsi/fichier.conf
```

Réponses

- A un déplacement de fichier
- B une copie de fichier
- C un renommage de fichier
- D un changement de répertoire

Question G.6

Soit T le temps nécessaire pour trier, à l'aide de l'algorithme du tri par insertion, une liste de 1000 nombres entiers. Quel est l'ordre de grandeur du temps nécessaire, avec le même algorithme, pour trier une liste de 10 000 entiers, c'est-à-dire une liste dix fois plus grande ?

Réponses

- A à peu près le même temps T
- B environ $10 \times T$
- C environ $100 \times T$
- D environ T^2