


# PREMIÈRE

## Enseignement de Spécialité

### Évaluations Communes



### Numériques


&

### Sciences Informatiques

**SUJET**

2019 • 2020

 [www.freemaths.fr](http://www.freemaths.fr)

Modèle CCYC : ©DNE																				
Nom de famille (naissance) : <small>(Suivi s'il y a lieu, du nom d'usage)</small>																				
Prénom(s) :																				
N° candidat :											N° d'inscription :									
 RÉPUBLIQUE FRANÇAISE	<small>(Les numéros figurent sur la convocation.)</small>																			
	Né(e) le :			/			/													

1.1

## ÉPREUVES COMMUNES DE CONTRÔLE CONTINU

**CLASSE** : Première

**VOIE** :  Générale  Technologique  Toutes voies (LV)

**ENSEIGNEMENT** : spécialité Numérique et Sciences Informatiques (NSI)

**DURÉE DE L'ÉPREUVE** : 02 h 00

**Niveaux visés (LV)** : LVA                      LVB

**Axes de programme** :

**CALCULATRICE AUTORISÉE** :  Oui  Non

**DICTIONNAIRE AUTORISÉ** :  Oui  Non

Ce sujet contient des parties à rendre par le candidat avec sa copie. De ce fait, il ne peut être dupliqué et doit être imprimé pour chaque candidat afin d'assurer ensuite sa bonne numérisation.

Ce sujet intègre des éléments en couleur. S'il est choisi par l'équipe pédagogique, il est nécessaire que chaque élève dispose d'une impression en couleur.

Ce sujet contient des pièces jointes de type audio ou vidéo qu'il faudra télécharger et jouer le jour de l'épreuve.

**Nombre total de pages** : 17

L'épreuve consiste en 42 questions, rangées en 7 thèmes.

Pour chaque question, le candidat gagne 3 points s'il choisit la bonne réponse, perd 1 point s'il choisit une réponse fautive. S'il ne répond pas ou choisit plusieurs réponses, il ne gagne ni ne perd aucun point.

Le total sur chacun des 7 thèmes est ramené à 0 s'il est négatif.

La note finale s'obtient en divisant le total des points par 6,3 et en arrondissant à l'entier supérieur.

**Le candidat indique ses réponses aux questions en pages 2 et 3.**

**Seules les pages 1 à 4 sont rendues par le candidat à la fin de l'épreuve, pour être numérisées.**

Les questions figurent sur les pages suivantes.



**Thème A : types de base**

- |                         |                            |                            |                            |                            |
|-------------------------|----------------------------|----------------------------|----------------------------|----------------------------|
| Réponse à la question 1 | A <input type="checkbox"/> | B <input type="checkbox"/> | C <input type="checkbox"/> | D <input type="checkbox"/> |
| Réponse à la question 2 | A <input type="checkbox"/> | B <input type="checkbox"/> | C <input type="checkbox"/> | D <input type="checkbox"/> |
| Réponse à la question 3 | A <input type="checkbox"/> | B <input type="checkbox"/> | C <input type="checkbox"/> | D <input type="checkbox"/> |
| Réponse à la question 4 | A <input type="checkbox"/> | B <input type="checkbox"/> | C <input type="checkbox"/> | D <input type="checkbox"/> |
| Réponse à la question 5 | A <input type="checkbox"/> | B <input type="checkbox"/> | C <input type="checkbox"/> | D <input type="checkbox"/> |
| Réponse à la question 6 | A <input type="checkbox"/> | B <input type="checkbox"/> | C <input type="checkbox"/> | D <input type="checkbox"/> |

**Thème B : types construits**

- |                         |                            |                            |                            |                            |
|-------------------------|----------------------------|----------------------------|----------------------------|----------------------------|
| Réponse à la question 1 | A <input type="checkbox"/> | B <input type="checkbox"/> | C <input type="checkbox"/> | D <input type="checkbox"/> |
| Réponse à la question 2 | A <input type="checkbox"/> | B <input type="checkbox"/> | C <input type="checkbox"/> | D <input type="checkbox"/> |
| Réponse à la question 3 | A <input type="checkbox"/> | B <input type="checkbox"/> | C <input type="checkbox"/> | D <input type="checkbox"/> |
| Réponse à la question 4 | A <input type="checkbox"/> | B <input type="checkbox"/> | C <input type="checkbox"/> | D <input type="checkbox"/> |
| Réponse à la question 5 | A <input type="checkbox"/> | B <input type="checkbox"/> | C <input type="checkbox"/> | D <input type="checkbox"/> |
| Réponse à la question 6 | A <input type="checkbox"/> | B <input type="checkbox"/> | C <input type="checkbox"/> | D <input type="checkbox"/> |

**Thème C : traitement de données en tables**

- |                         |                            |                            |                            |                            |
|-------------------------|----------------------------|----------------------------|----------------------------|----------------------------|
| Réponse à la question 1 | A <input type="checkbox"/> | B <input type="checkbox"/> | C <input type="checkbox"/> | D <input type="checkbox"/> |
| Réponse à la question 2 | A <input type="checkbox"/> | B <input type="checkbox"/> | C <input type="checkbox"/> | D <input type="checkbox"/> |
| Réponse à la question 3 | A <input type="checkbox"/> | B <input type="checkbox"/> | C <input type="checkbox"/> | D <input type="checkbox"/> |
| Réponse à la question 4 | A <input type="checkbox"/> | B <input type="checkbox"/> | C <input type="checkbox"/> | D <input type="checkbox"/> |
| Réponse à la question 5 | A <input type="checkbox"/> | B <input type="checkbox"/> | C <input type="checkbox"/> | D <input type="checkbox"/> |
| Réponse à la question 6 | A <input type="checkbox"/> | B <input type="checkbox"/> | C <input type="checkbox"/> | D <input type="checkbox"/> |

**Thème D : interactions entre l'homme et la machine sur le Web**

- |                         |                            |                            |                            |                            |
|-------------------------|----------------------------|----------------------------|----------------------------|----------------------------|
| Réponse à la question 1 | A <input type="checkbox"/> | B <input type="checkbox"/> | C <input type="checkbox"/> | D <input type="checkbox"/> |
| Réponse à la question 2 | A <input type="checkbox"/> | B <input type="checkbox"/> | C <input type="checkbox"/> | D <input type="checkbox"/> |
| Réponse à la question 3 | A <input type="checkbox"/> | B <input type="checkbox"/> | C <input type="checkbox"/> | D <input type="checkbox"/> |
| Réponse à la question 4 | A <input type="checkbox"/> | B <input type="checkbox"/> | C <input type="checkbox"/> | D <input type="checkbox"/> |
| Réponse à la question 5 | A <input type="checkbox"/> | B <input type="checkbox"/> | C <input type="checkbox"/> | D <input type="checkbox"/> |
| Réponse à la question 6 | A <input type="checkbox"/> | B <input type="checkbox"/> | C <input type="checkbox"/> | D <input type="checkbox"/> |

Modèle CCYC : ©DNE

Nom de famille (naissance) :


(Suivi s'il y a lieu, du nom d'usage)

Prénom(s) :

N° candidat :  N° d'inscription :

(Les numéros figurent sur la convocation.)

Né(e) le :  /  /



RÉPUBLIQUE FRANÇAISE

1.1

**Thème E : architectures matérielles et systèmes d'exploitation**

- Réponse à la question 1      A       B       C       D
- Réponse à la question 2      A       B       C       D
- Réponse à la question 3      A       B       C       D
- Réponse à la question 4      A       B       C       D
- Réponse à la question 5      A       B       C       D
- Réponse à la question 6      A       B       C       D


**Thème F : langages et programmation**

- Réponse à la question 1      A       B       C       D
- Réponse à la question 2      A       B       C       D
- Réponse à la question 3      A       B       C       D
- Réponse à la question 4      A       B       C       D
- Réponse à la question 5      A       B       C       D
- Réponse à la question 6      A       B       C       D

**Thème G : algorithmique**

- Réponse à la question 1      A       B       C       D
- Réponse à la question 2      A       B       C       D
- Réponse à la question 3      A       B       C       D
- Réponse à la question 4      A       B       C       D
- Réponse à la question 5      A       B       C       D
- Réponse à la question 6      A       B       C       D



Modèle CCYC : ©DNE																																						
Nom de famille (naissance) : <small>(Suivi s'il y a lieu, du nom d'usage)</small>																																						
Prénom(s) :																																						
N° candidat :															N° d'inscription :																							
 Liberté • Égalité • Fraternité RÉPUBLIQUE FRANÇAISE	<small>(Les numéros figurent sur la convocation.)</small>																																					
	Né(e) le :			/			/																															

1.1

## Thème A : types de base

### Question A.1

Quelle est la représentation hexadécimale de l'entier dont la représentation binaire s'écrit :  
0100 1001 1101 0011 ?

#### Réponses

- A 18899
- B 3D94
- C 49D3
- D 93A3

### Question A.2

Olivier visite son site préféré pour relire le programme de NSI.  
Il devrait lire le texte ci-dessous :

L'enseignement de spécialité de numérique et sciences informatiques du cycle terminal de la voie générale vise l'appropriation des fondements de l'informatique pour préparer les élèves à une poursuite d'études dans l'enseignement supérieur, en les formant à la pratique d'une démarche scientifique et en développant leur appétence pour des activités de recherche.

Le paramétrage de son navigateur lui donne l'affichage ci-dessous :

L'enseignement de spécialité de numérique et sciences informatiques du cycle terminal de la voie générale vise l'appropriation des fondements de l'informatique pour préparer les élèves à une poursuite d'études dans l'enseignement supérieur, en les formant à la pratique d'une démarche scientifique et en développant leur appétence pour des activités de recherche.

Quel type d'encodage Olivier doit-il choisir dans les paramètres de son navigateur pour afficher correctement le texte ?

#### Réponses

- A ANSI
- B LATIN-1
- C UTF-8
- D ASCII

### Question A.3

Combien de nombres entiers positifs peut-on coder en binaire sur 4 bits ?

#### Réponses

- A 4
- B 16
- C 64
- D 256

**Question A.4**

À quelle affectation sont équivalentes les instructions suivantes, où  $a$ ,  $b$  sont des variables entières et  $c$  une variable booléenne ?

```
c = False
if a==b:
    c = True
if a > b+10:
    c = True
```

**Réponses**

- A  $c = (a==b)$  or  $(a > b+10)$
- B  $c = (a==b)$  and  $(a > b+10)$
- C  $c = \text{not}(a==b)$
- D  $c = \text{not}(a > b+10)$

**Question A.5**

Quel est le nombre minimum de bits qui permet de représenter les 26 lettres majuscules de l'alphabet ?

**Réponses**

- A 4
- B 5
- C 25
- D 26

**Question A.6**

On veut définir une fonction xor qui renvoie le résultat d'un « ou exclusif » sur ses arguments. Laquelle de ces définitions est-elle correcte ?

**Réponses**

- A `def xor(a,b):`  
    `return (not(a) and b) or (a and b)`
- B `def xor(a,b):`  
    `return (a or b) and not(a)`
- C `def xor(a,b):`  
    `return (a and not(b)) or (b and not(a))`
- D `def xor(a,b):`  
    `return (a or not(b)) and (b or not(a))`

**Thème B : types construits****Question B.1**

On exécute le code suivant :

```
t = [1,2,3,4,5,6,7,8,9]
v = [c for c in t if c%3 == 0]
```

Quelle est la valeur de la variable  $v$  à la fin de cette exécution ?

Modèle CCYC : ©DNE

Nom de famille (naissance) :


(Suivi s'il y a lieu, du nom d'usage)

Prénom(s) :

N° candidat :  N° d'inscription :

(Les numéros figurent sur la convocation.)

Né(e) le :  /  /



1.1

**Réponses**

- A 18
- B [1,4,7]
- C [3,6,9]
- D [1,2,3,4,5,6,7,8,9]

**Question B.2**

On définit :

notes = [('Toto', 20), ('John', 12), ('Johnny', 2), ('Superman', 16)]

Quelle est l'expression donnant la note de Superman ?

**Réponses**

- A notes[4][2]
- B notes[3][1]
- C notes[Superman]
- D notes['Superman']

**Question B.3**

On dispose du dictionnaire regions ci-dessous :

regions = { 'Mayotte': 376, 'Pays de la Loire': 32082,  
 'La Réunion': 2504, 'Grand Est': 57441,  
 'Martinique': 1128, 'Corse': 8680,  
 'Bretagne': 27208, 'Nouvelle-Aquitaine': 84036 }

Parmi les instructions suivantes, laquelle permet d'ajouter une nouvelle région ?

**Réponses**

- A INSERT "'Hauts de France':31806" INTO regions
- B regions = dict(['Hauts de France'] = 31806)
- C regions('Hauts de France') = 31806
- D regions['Hauts de France'] = 31806

**Question B.4**

On définit tableau = [[1, 2, 3], [4, 5, 6], [7, 8, 9]]. Quelle est la valeur de tableau[2][1] ?

**Réponses**

- A 2
- B 4
- C 6
- D 8





**Question B.5**

Quel est le type de l'expression  $f(4)$  si la fonction  $f$  est définie par :

```
def f(x):  
    return (x, x**2)
```

**Réponses**

- A un entier
- B un flottant
- C une liste
- D un tuple

**Question B.6**

On a défini

```
dico = { 'a': (1,2,3), 'b': (4,5,6) }
```

Quelle est la valeur de l'expression `dico['a'][1]`?

**Réponses**

- A 1
- B 2
- C (1,2,3)
- D cette expression est incorrecte, l'évaluer déclenche une erreur

## Thème C : traitement de données en tables

**Question C.1**

Laquelle de ces affirmations est vraie ?

**Réponses**

- A on peut ouvrir un fichier CSV à l'aide d'un tableur
- B un fichier CSV permet de gérer l'apparence du code dans l'éditeur
- C un fichier CSV permet de gérer l'apparence d'une page HTML
- D un fichier CSV contient un programme à compiler

**Question C.2**

On écrit la fonction suivante :

```
def extreme(t, test):  
    m = t[0]  
    for x in t:  
        if test(x,m):  
            m = x  
    return m
```

On dispose d'une liste  $L$  dont les éléments sont des couples (nom, note).

Par exemple :

```
L = [ ('Alice', 17), ('Barnabé', 18),  
      ('Casimir', 17), ('Doriane', 20),  
      ('Emilien', 15), ('Fabienne', 16) ]
```

Modèle CCYC : ©DNE

Nom de famille (naissance) :


(Suivi s'il y a lieu, du nom d'usage)

Prénom(s) :

N° candidat :  N° d'inscription :

(Les numéros figurent sur la convocation.)

Né(e) le :  /  /

 Liberté • Égalité • Fraternité  
RÉPUBLIQUE FRANÇAISE

1.1

On aimerait que l'appel de fonction extreme(L, test) renvoie un couple présentant la note maximale.  
Quelle définition de la fonction test peut-on utiliser ?

#### Réponses

- A def test(a,b):  
return a[0] < b[0]
- A def test(a,b):  
return a[0] > b[0]
- B def test(a,b):  
return a[1] < b[1]
- D def test(a,b):  
return a[1] > b[1]

#### Question C.3

On considère la table suivants :

```
t = [ { 'type': 'marteau', 'prix': 17, 'quantité': 32 },
      { 'type': 'scie', 'prix': 24, 'quantité': 3 },
      { 'type': 'tournevis', 'prix': 8, 'quantité': 45 } ]
```

Quelle expression permet d'obtenir la quantité de scies ?

#### Réponses

- A t[2]['quantité']
- B t[1]['quantité']
- C t['quantité'][1]
- D t['scies']['quantité']

#### Question C.4

On a extrait les deux premières lignes de différents fichiers.  
Déterminer celui qui est un authentique fichier CSV :

#### Réponses

- A Nom,Pays,Temps  
Camille Muffat,France,241.45
- B Nom Pays Temps  
Camille Muffat France 241.45
- C [  
{ "Nom": "Camille Muffat", "Pays": "France", "Temps": 241.45 },
- D [  
{ Nom: "Camille Muffat", Pays: "France", Temps: 241.45 },

#### Question C.5

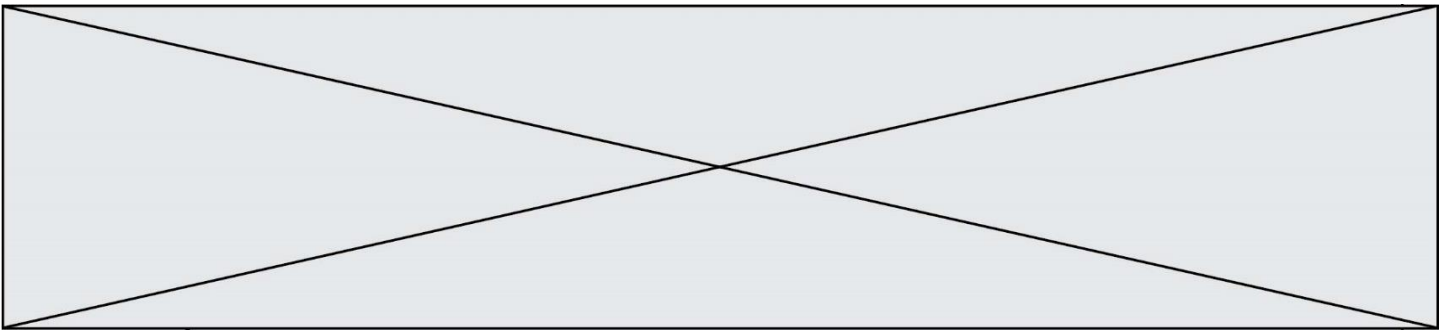
Qu'est-ce que le CSV ?

#### Réponses

- A Un langage de programmation
- B Un format de fichier permettant de stocker de l'information
- C Un algorithme permettant de rechercher une information dans un fichier
- D Un format de fichier permettant de définir le style d'une page web

#### Question C.6

On définit la fonction suivante qui prend en argument un tableau non vide d'entiers.




```
def f(T):  
    s = 0  
    for k in T:  
        if k == 8:  
            s = s+1  
    if s > 1:  
        return True  
    else:  
        return False
```

Dans quel cas cette fonction renvoie-t-elle la valeur True ?

**Réponses**

- A dans le cas où 8 est présent au moins une fois dans le tableau T
- B dans le cas où 8 est présent au moins deux fois dans le tableau T
- C dans le cas où 8 est présent exactement une fois dans le tableau T
- D dans le cas où 8 est présent exactement deux fois dans le tableau T

Modèle CCYC : ©DNE																						
Nom de famille (naissance) : <i>(Suivi s'il y a lieu, du nom d'usage)</i>																						
Prénom(s) :																						
N° candidat :											N° d'inscription :											
 RÉPUBLIQUE FRANÇAISE	(Les numéros figurent sur la convocation.)																					
	Né(e) le :			/			/															

1.1

## Thème D : interactions entre l'homme et la machine sur le Web

### Question D.1

Quel est le nom d'un protocole qui permet à un client de faire une requête de page Web auprès d'un serveur ?

#### Réponses

- A WWW
- B FTP
- C HTTP
- D DNS

### Question D.2

Que peut-on comprendre en lisant l'URL : [https://www.myfalselink.com/results?search\\_query=NSI](https://www.myfalselink.com/results?search_query=NSI) ?

#### Réponses

- A Le protocole utilisé pour naviguer est sécurisé
- B Une recherche sur le mot NSI a été faite mais il n'y a pas de réponse
- C Ce site est situé dans un pays anglophone
- D Le lien ne fonctionnera pas car le caractère '?' n'est pas autorisé dans une URL

### Question D.3

Dans un formulaire sur un page web, pour transmettre des données sécurisées comme un mot de passe ou un numéro de carte bancaire, il vaut mieux utiliser la méthode :

#### Réponses

- A HEAD
- B GET
- C HTTPS
- D POST

### Question D.4

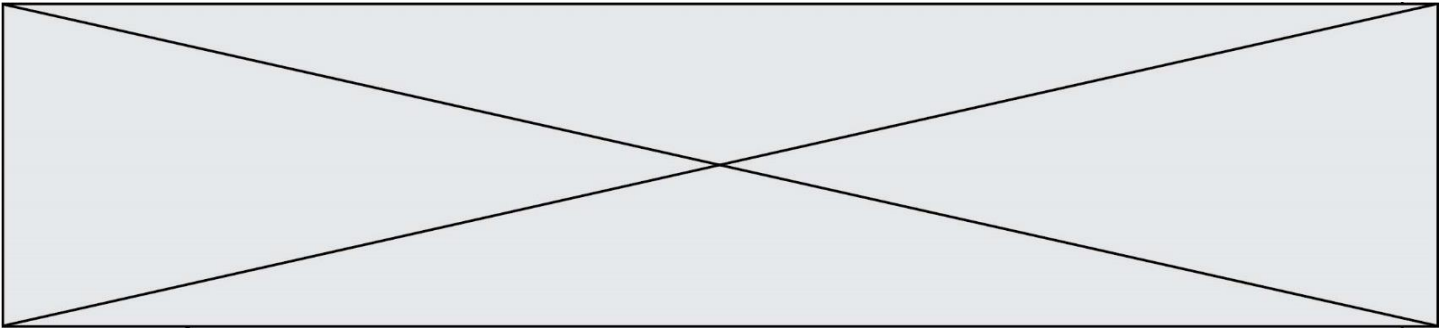
Voici un extrait d'un document HTML.

```
<body>
.....
Clic !
</button>
<h1><span id="valeur">2000</span></h1>
</body>
</html>
```

Quelle doit être la ligne qui remplace les pointillés pour obtenir un bouton dont l'appui déclenche la fonction javascript actionBouton() ?

#### Réponses

- A <button click = "actionBouton();">
- B <button onclick = "actionBouton();">
- C <button onclick => "actionBouton();"
- D <button> onclick = "actionBouton();"



**Question D.5**

Dans quels langages les balises `<img>` et `<form>` sont-elles utilisées ?

**Réponses**

- A Python
- B HTML
- C Javascript
- D PHP

**Question D.6**

Le site internet d'un quotidien d'information permet aux visiteurs de laisser des commentaires textuels. Ces commentaires doivent être visibles par les autres visiteurs.

Laquelle des affirmations suivantes est correcte ?

**Réponses**

- A Il suffit que la page HTML contienne des champs de la forme `<textarea >`
- B Il suffit que la page HTML contienne des champs de la forme `<textarea >` et d'utiliser JavaScript pour enregistrer les commentaires
- C Il faut un programme en PHP ou un script Python sur le serveur pour traiter les données
- D Non, ce n'est pas possible avec la technologie actuelle

## Thème E : architectures matérielles et systèmes d'exploitation

**Question E.1**

Parmi les adresses suivantes, laquelle est une adresse IP non valide ?

**Réponses**

- A 1.2.3.4
- B 192.168.23.242
- C 127.3.87.256
- D 10.1.64.42

**Question E.2**

Sous Unix, que fait la commande suivante :

```
ls -a /home/pi >> toto.txt
```

**Réponses**


- A elle liste uniquement les répertoires cachés du répertoire /home/pi
- B elle liste tous les fichiers du répertoire /home/pi et enregistre le résultat dans un fichier toto.txt
- C elle liste tous les fichiers des répertoires de /home/pi et de toto.txt
- D elle liste tous les fichiers du répertoire courant et enregistre le résultat dans un fichier /home/pi/toto.txt

**Question E.3**

La commande `chmod a-r monfichier`

**Réponses**

- A permet à tous (*all en anglais*) la lecture de monfichier
- B interdit à tous (*all en anglais*) la lecture de monfichier
- C permet à tous (*all en anglais*) l'écriture dans monfichier
- D interdit à tous (*all en anglais*) l'écriture dans monfichier

<b>Modèle CCYC : ©DNE</b>																				
<b>Nom de famille</b> (naissance) : <small>(Suivi s'il y a lieu, du nom d'usage)</small>																				
<b>Prénom(s) :</b>																				
<b>N° candidat :</b>											<b>N° d'inscription :</b>									
 Liberté • Égalité • Fraternité RÉPUBLIQUE FRANÇAISE											(Les numéros figurent sur la convocation.)									
<b>Né(e) le :</b>			/			/														

1.1

**Question E.4**

Parmi ces propositions, laquelle désigne un système d'exploitation libre ?

**Réponses**

- A LibreOffice
- B Windows
- C MacOS
- D GNU-Linux

**Question E.5**

Dans la console Linux, étant positionné dans le répertoire /home/marcelH/travail, quelle commande faut-il exécuter pour remonter dans l'arborescence vers le répertoire /home/marcelH ?

**Réponses**

- A cd .
- B cd ..
- C cd ...
- D cd ../../

**Question E.6**

Quel est l'élément qui ne fait pas partie de l'architecture du modèle de Von Neumann ?

**Réponses**

- A l'unité d'entrée
- B l'unité arithmétique et logique
- C la mémoire centrale
- D l'unité d'affichage

## Thème F : langages et programmation

**Question F.1**

On a défini une liste L de nombres entiers.

Quelle est la valeur de la variable m à la fin de l'exécution du script suivant ?

```
m = L[0]
for j in range(len(L)):
    if m < L[j]:
        m = L[j]
```

**Réponses**

- A la moyenne de la liste L
- B le minimum de la liste L
- C le maximum de la liste L
- D la longueur de la liste L

**Question F.2**

La fonction Python suivante ne calcule pas toujours correctement le résultat de  $x^y$  pour des arguments entiers. Parmi les tests suivants, lequel va permettre de détecter l'erreur ?

```
def puissance (x,y):
    p = x
    for i in range (y - 1):
        p = p * x
    return p
```

**Réponses**

- A puissance(2,0)
- B puissance(2,1)
- C puissance(2,2)
- D puissance(2,10)

**Question F.3**

Quelle est la valeur de la variable n à la fin de l'exécution du script ci-dessous ?

```
n = 1
for i in range(4):
    n = n + 2
```

**Réponses**

- A 1
- B 8
- C 9
- D 18

**Question F.4**

On définit la fonction suivante :

```
def rey(n):
    i = 0
    while i <= n:
        i = 2*i
    return i
```

Quelle valeur renvoie l'appel rey(100) ?

**Réponses**

- A 0
- B 64
- C 100
- D 128

**Question F.5**

On définit la fonction :

```
def fib(n):
    t = [0] * n
    t[1] = 1
    for in in range(2,n):
        t[in] = t[in-1] + t[in-2]
    return t
```

Quelle est la valeur renvoyée par l'appel fib(6) ?

Modèle CCYC : ©DNE

Nom de famille (naissance) :


(Suivi s'il y a lieu, du nom d'usage)

Prénom(s) :

N° candidat :  N° d'inscription :

(Les numéros figurent sur la convocation.)

Né(e) le :  /  /



1.1

**Réponses**

- A [0, 1, 1, 2, 3]
- B [0, 1, 1, 2, 3, 5]
- C [0, 1, 1, 2, 3, 5, 8]
- D [0, 1, 2, 3, 5, 8]

**Question F.6**

On souhaite échanger les contenus de deux variables entières a et b sans utiliser de variable auxiliaire en écrivant le code suivant :

a = a - b  
 b = a + b  
 a = .....

Que peut-on écrire à la place des pointillés pour réaliser cet échange ?


**Réponses**

- A a - b
- B a + b
- C b - a
- D - a - b

**Thème G : algorithmique**

**Question G.1**

Au cours d'un tri de tableau, on observe les étapes suivantes :



Quel est l'algorithme de tri qui a été utilisé ?

**Réponses**

- A tri par sélection
- B tri à bulles
- C tri par insertion
- D tri rapide



**Question G.2**

On considère le code suivant de recherche d'une valeur dans une liste :

```
def search(x, y):
    # x est la valeur à chercher
    # y est une liste de valeurs
    for i in range(len(y)):
        if x == y[i]:
            return i
    return None
```

Quel est le coût de cet algorithme ?

**Réponses**

- A constant
- B logarithmique
- C linéaire
- D quadratique

**Question G.3**

La fonction mystere suivante prend en argument un tableau d'entiers.

```
def mystere(t):
    for i in range(len(t) - 1):
        if t[i] + 1 != t[i+1]:
            return False
    return True
```

À quelle condition la valeur renvoyée par la fonction est-elle True ?

**Réponses**

- A si le tableau passé en argument est une suite d'entiers consécutifs
- B si le tableau passé en argument est trié en ordre croissant
- C si le tableau passé en argument est trié en ordre décroissant
- D si le tableau passé en argument contient des entiers tous identiques

**Question G.4**

On considère le code suivant, où n désigne un entier au moins égal à 2.

```
p = 1
while p < n:
    p = 2*p
```

Quel argument permet d'affirmer que son exécution termine à coup sûr ?

**Réponses**

- A p est une puissance de 2
- B toute boucle while termine
- C les valeurs successives de p constituent une suite d'entiers positifs strictement croissante
- D les valeurs successives de n - p constituent une suite d'entiers positifs strictement décroissante

Modèle CCYC : ©DNE

Nom de famille (naissance) :


(Suivi s'il y a lieu, du nom d'usage)

Prénom(s) :

N° candidat :  N° d'inscription :

(Les numéros figurent sur la convocation.)

Né(e) le :  /  /



1.1

**Question G.5**

On considère la fonction suivante :

```
def comptage(phrase,lettre):
    i = 0
    for j in phrase:
        if j == lettre:
            i = i+1
    return i
```

Que renvoie l'appel comptage("Vive l'informatique","e") ?

**Réponses**

- A 0
- B 2
- C 19
- D 'e'

**Question G.6**

On considère le code incomplet suivant qui recherche le maximum dans une liste.

```
liste = [5,12,15,3,15,17,29,1]
iMax = 0
for i in range(1,len(liste)):
    .....
    iMax = i

print (liste[iMax])
```

Par quoi faut-il remplacer la ligne pointillée ?

**Réponses**

- A if i > iMax:
- B if liste[i] > liste[iMax]:
- C if liste[i] > iMax:
- D if i > liste[iMax]: