

TRAINING!

2021-2022

**ENSEIGNEMENT
SCIENTIFIQUE**

**PREMIÈRE
GÉNÉRALE**



EXERCICE 1

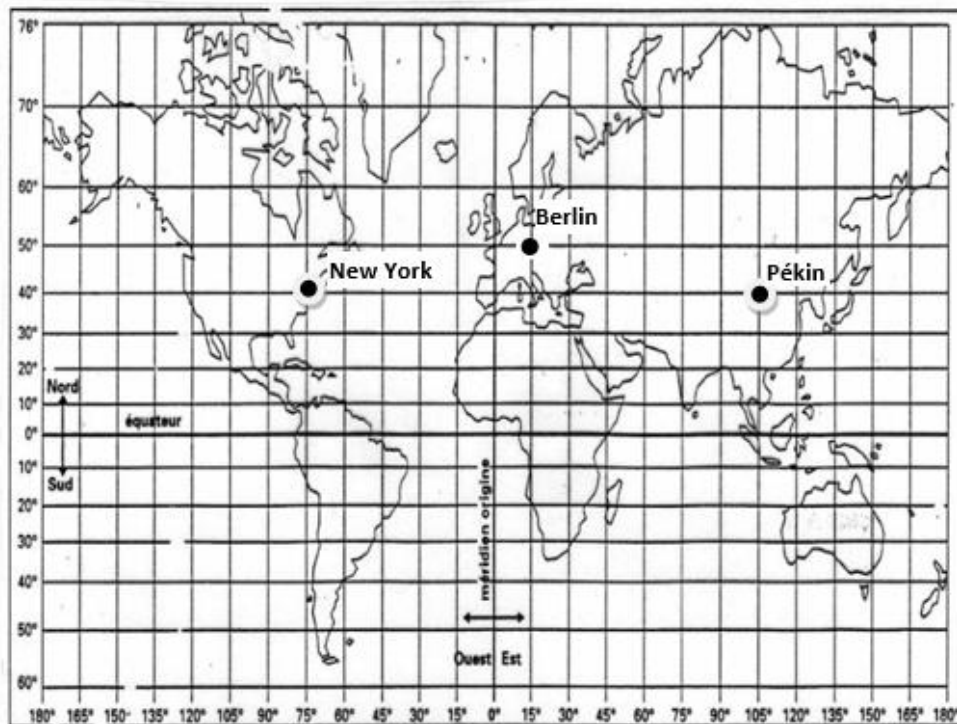
New-York - Pékin en avion

Les constructeurs d'avions ayant fait de grandes améliorations en matière de sécurité sur leurs biréacteurs, les autorités américaines de l'aviation civile ont revu fin décembre 2011 la réglementation sur ces avions, en les autorisant à voler au-dessus du Pôle Nord.

Ce sujet étudie les durées de vol sur le trajet New York-Pékin en fonction de deux trajectoires possibles : soit le long du 40^e parallèle, soit en passant par le Pôle Nord.

Document 1 : deux planisphères - deux représentations de la Terre

Figure 1a – Représentation de la Terre en projection cylindrique



Voir suite du document 1 page suivante

Modèle CCYC : ©DNE

Nom de famille (naissance) :

(Suivi s'il y a lieu, du nom d'usage)

Prénom(s) :

N° candidat :

N° d'inscription :



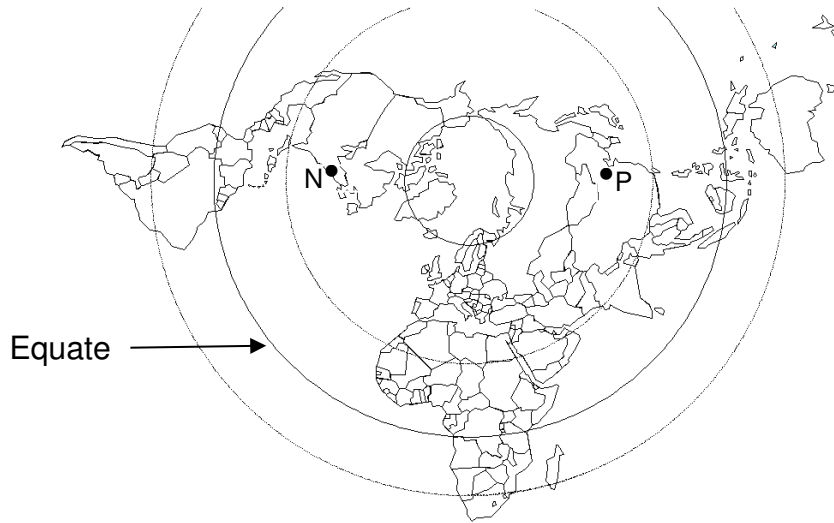
Né(e) le :

(Les numéros figurent sur la convocation.)

1.1

Document 1

Figure 1b – Représentation de la Terre en projection polaire



N représente la ville de New York.

P représente la ville de Pékin.

Document 2 :

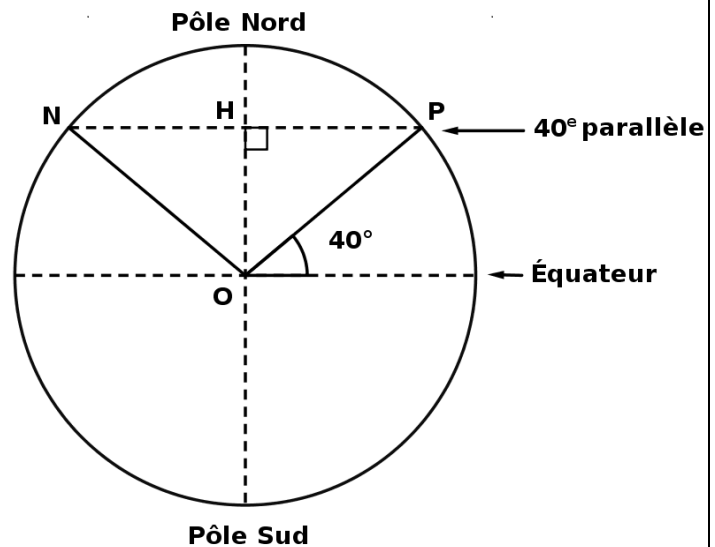
représentation de la Terre pour l'étude du trajet en passant par le Pôle Nord

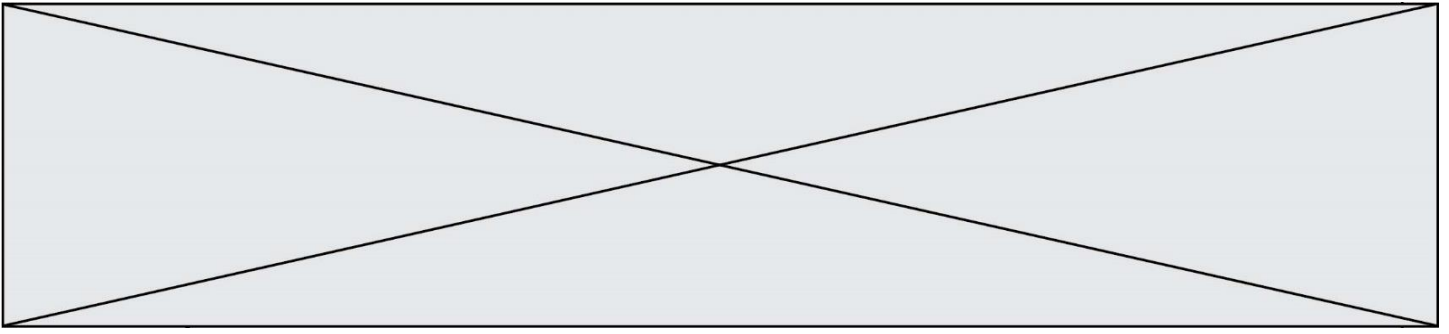
N : New York

P : Pékin

O : centre de la Terre

H : centre du cercle formé par le 40^{ème} parallèle





Le rayon de la Terre

1- On admet que la longueur du méridien terrestre est égale à 40 000 km. En déduire le rayon de la sphère terrestre.

Trajet New York – Pékin en suivant le 40^e parallèle

Jusqu’au début des années 2010, la liaison aérienne New York – Pékin à bord d’avions biréacteurs suivait une route relativement proche de la ligne du 40^e parallèle.

2- Tracer, sur le schéma du document-réponse situé en Annexe, un des deux arcs de parallèle qui relie New York à Pékin.

3- D’après le document 1, figure 1a, indiquer les coordonnées terrestres (latitude, longitude) de chacune des villes de New York et de Pékin. Il est attendu des coordonnées entières.

4- En utilisant les coordonnées de New York et de Pékin, montrer que chacun des arcs de parallèle reliant New-York à Pékin est un demi-cercle.

5- Parmi les quatre propositions ci-dessous, une seule représente la distance New York – Pékin le long du 40^e parallèle :

<u>Proposition A</u>	<u>Proposition B</u>	<u>Proposition C</u>	<u>Proposition D</u>
1 200 km	15 300 km	20 000 km	40 000 km

Eliminer les trois propositions fausses pour trouver la distance New York – Pékin le long du 40^e parallèle. Justifier. On pourra utiliser $\cos(40^\circ)=0,766$.

Trajet New York – Pékin en passant par le Pôle Nord

Depuis décembre 2011, les avions biréacteurs peuvent survoler le pôle Nord.

6- Tracer (d’une autre couleur que celle utilisée en question 2) sur le schéma du document-réponse situé en Annexe, la route que les avions biréacteurs sont autorisés à emprunter entre New York et Pékin en passant par le Pôle Nord.

7- Montrer que la distance New York – Pékin par la route polaire mesure environ 11 100 km.

8- D’un point de vue environnemental, indiquer un avantage lié à la route aérienne passant par le Pôle Nord par rapport à la route suivant le 40^e parallèle.

Modèle CCYC : ©DNE

Nom de famille (naissance) :


(Suivi s'il y a lieu, du nom d'usage)

Prénom(s) :

N° candidat : N° d'inscription :

(Les numéros figurent sur la convocation.)

Né(e) le : / /



RÉPUBLIQUE FRANÇAISE

1.1

EXERCICE 2

GAMME TEMPÉRÉE ET GAMME DE PYTHAGORE

Il y a eu dans l'histoire de nombreuses constructions de gammes pour ordonner les notes à l'intérieur d'une octave. Cet exercice étudie deux types de gammes à douze notes : la gamme tempérée et la gamme de Pythagore

L'octave peut être divisée en douze intervalles en formant douze notes de base (Do, Do[#], Ré, Mi^b, Mi, Fa, Fa[#], Sol, Sol[#], La, Si^b, Si). La gamme fréquemment utilisée de nos jours est la gamme tempérée, dans laquelle le rapport de fréquences entre deux notes consécutives est constant.

1- Préciser la valeur du rapport des fréquences de deux notes séparées d'une octave.

2- Expliquer pourquoi la valeur exacte du rapport des fréquences entre deux notes consécutives de la gamme tempérée est $\sqrt[12]{2}$.

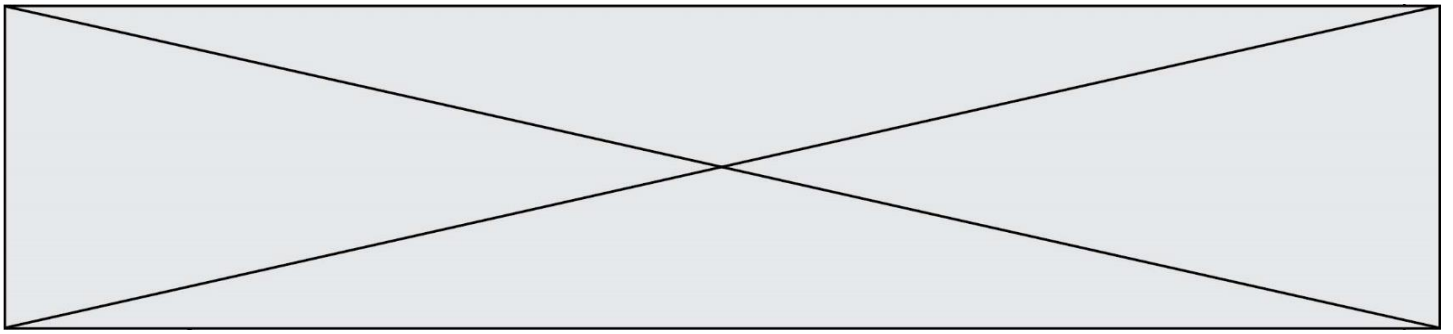
3- La fréquence du La₃ est égale à 440 Hz. Calculer la valeur, arrondie au dixième, de la fréquence de la note suivante (Si₃^b) dans la gamme tempérée.

4- Jusqu'au XVII^e siècle, la gamme la plus utilisée était la gamme de Pythagore, obtenue à partir des quintes successives d'une note initiale. Le tableau ci-dessous donne les fréquences des différentes notes de la gamme de Pythagore en partant de 440 Hz.

Note	Mi ₃	Fa ₃	Fa ₃ [#]	Sol ₃	Sol ₃ [#]	La ₃	Si ₃ ^b	Si ₃	Do ₄	Do ₄ [#]	Ré ₄	Ré ₄ [#]
Fréquence (Hz)	330	352,4	371,3	396,4	417,7	440	469,9	495	528,6	556,9	594,7	626,5

4-a- Calculer le rapport des fréquences des notes Si₃ et Mi₃ et donner le nom d'un tel intervalle.

4-b- On considère la fonction Python `freq_suivante` ci-dessous qui permet de construire la gamme de Pythagore (voir page suivante).



```
def freq_suivante(f) :  
    f = 3/2*f  
    if f >= 660 :  
        f = f/2  
    return(f)
```

Donner les nombres renvoyés après l'exécution de `freq_suivante(330)` et de `freq_suivante(440)`.

Préciser les notes correspondantes.

Modèle CCYC : ©DNE

Nom de famille (naissance) :

(Suivi s'il y a lieu, du nom d'usage)

Prénom(s) :

N° candidat :

N° d'inscription :



Liberté • Égalité • Fraternité
RÉPUBLIQUE FRANÇAISE

Né(e) le :

(Les numéros figurent sur la convocation.)

1.1

ANNEXE A RENDRE AVEC LA COPIE

EXERCICE 1: New-York Pékin en avion –

Questions 2 et 6

