

SUJET

2020-2021

ENSGT SCIENTIFIQUE

Première Générale

**ÉVALUATIONS
COMMUNES**

Modèle CCYC : ©DNE

Nom de famille (naissance) :

(Suivi s'il y a lieu, du nom d'usage)

Prénom(s) :

N° candidat : N° d'inscription :

(Les numéros figurent sur la convocation.)

Né(e) le : / /



1.1

ÉVALUATION COMMUNE

CLASSE : Première

EC : EC1 EC2 EC3

VOIE : Générale Technologique Toutes voies (LV)

ENSEIGNEMENT : Enseignement scientifique

DURÉE DE L'ÉPREUVE : 2h

Niveaux visés (LV) : LVA LVB

Axes de programme :

CALCULATRICE AUTORISÉE : Oui Non

DICTIONNAIRE AUTORISÉ : Oui Non

Ce sujet contient des parties à rendre par le candidat avec sa copie. De ce fait, il ne peut être dupliqué et doit être imprimé pour chaque candidat afin d'assurer ensuite sa bonne numérisation.

Ce sujet intègre des éléments en couleur. S'il est choisi par l'équipe pédagogique, il est nécessaire que chaque élève dispose d'une impression en couleur.

Ce sujet contient des pièces jointes de type audio ou vidéo qu'il faudra télécharger et jouer le jour de l'épreuve.

Nombre total de pages : 7



EXERCICE 1

DÉTERMINATION DE L'ÂGE DE LA TERRE PAR BUFFON

Cet exercice propose d'étudier une méthode historique de détermination de l'âge de la Terre (proposée par Buffon au 18^e siècle) et de la mettre en perspective avec une méthode actuelle.

Partie 1. Expérience de Buffon et détermination de l'âge de la Terre

Document 1. Description du protocole expérimental mis en œuvre par Buffon

« J'ai fait faire dix boulets de fer forgé et battu :

Le premier d'un demi-pouce de diamètre. Le second d'un pouce. Le troisième d'un pouce et demi. Le quatrième de deux pouces. Le cinquième de deux pouces et demi. Le sixième de trois pouces. Le septième de trois pouces et demi. Le huitième de quatre pouces. Le neuvième de quatre pouces et demi. Le dixième de cinq pouces.

Ce fer venait de la forge de Chameçon près de Châtillon-sur-Seine, et comme tous les boulets ont été faits du fer de cette même forge, leurs poids se sont trouvés à très-peu près proportionnels aux volumes. [...]

J'ai cherché à saisir deux instants dans le refroidissement, le premier où les boulets cessaient de brûler, c'est-à-dire le moment où on pouvait les toucher et les tenir avec la main, pendant une seconde, sans se brûler ; le second temps de ce refroidissement était celui où les boulets se sont trouvés refroidis jusqu'au point de la température actuelle, c'est-à-dire, à 10 degrés au-dessus de la congélation. »

Extrait : Premier tome, rédigé par Buffon (1774)

Document 2. Tableau présentant un extrait des mesures réalisées par Buffon

Diamètre (en pouce)	1	1,5	2	3	4	5
Temps de « refroidissement au point de la température actuelle » (en minute)	93	145	196	308	415	

Modèle CCYC : ©DNE																				
Nom de famille (naissance) : <small>(Suivi s'il y a lieu, du nom d'usage)</small>																				
Prénom(s) :																				
N° candidat :											N° d'inscription :									
 Liberté • Égalité • Fraternité RÉPUBLIQUE FRANÇAISE	<small>(Les numéros figurent sur la convocation.)</small>																			
Né(e) le :			/			/														

1.1

1- « Le boulet de 5 pouces a été chauffé à blanc en 34 minutes. Il s'est refroidi au point de le tenir dans la main en 3 heures 52 min. Refroidi au point de la température actuelle en 8 heures 42 minutes. »

Indiquer laquelle des quatre valeurs proposées ci-dessous correspond à la valeur manquante dans le document 2 (case grisée) pour le boulet de 5 pouces.

Valeur A : 842	Valeur B : 352	Valeur C : 522	Valeur D : 232
----------------	----------------	----------------	----------------

2- Le pouce est une ancienne unité de longueur, valant environ 2,7 cm. Convertir en centimètre le diamètre du plus grand boulet.

3- Sur l'annexe, représenter les points correspondant au temps de « refroidissement au point de la température actuelle » (en minute) en fonction du diamètre du boulet (en pouce).

4- Indiquer laquelle des trois affirmations suivantes permet d'exprimer la relation entre le diamètre du boulet en fer forgé et son temps de « refroidissement au point de la température actuelle » au vu de l'expérience de Buffon.

- Affirmation A : « Le temps de refroidissement est proportionnel au diamètre. »
- Affirmation B : « La vitesse de refroidissement est proportionnelle au diamètre. »
- Affirmation C : « L'accroissement du temps de refroidissement est proportionnel à l'accroissement du diamètre. »

5- L'utilisation d'un tableur permet d'ajuster le nuage des points construits à la question 3 par la fonction f définie par $f(d) = 108d - 16$ pour des valeurs de d supérieures ou égales à 1 et où d correspond au diamètre (en pouce) et $f(d)$ la durée de refroidissement (en minute).

À l'aide de ce modèle et sachant que le diamètre de la Terre est de 12 742 km, calculer l'âge de la Terre (en année).

Partie 2. Mise en perspective avec les connaissances actuelles

Nous cherchons à porter un regard critique sur l'utilisation de boulets en fer pour déterminer l'âge de la Terre.

6- En utilisant le document 3, expliquer en quoi le modèle de Buffon utilisant des boulets de fer n'est pas adapté pour déterminer l'âge de la Terre.

7- Indiquer l'âge de la Terre estimé actuellement. Nommer la méthode utilisée pour déterminer cet âge et décrire son principe.

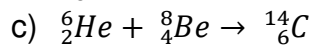
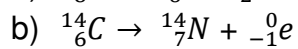
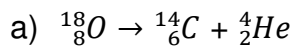


EXERCICE 2

LA DATATION AU ^{14}C POUR PRÉSERVER LA BIODIVERSITÉ

L'Union européenne a interdit le commerce de l'ivoire depuis 1989, à l'exception de celui des antiquités acquises avant 1947. Selon un rapport remis à la Commission européenne en juillet 2018, l'ivoire vendu en Europe proviendrait pourtant essentiellement de défenses d'éléphants abattus récemment. Ce rapport s'appuie sur des résultats obtenus par datation au carbone ^{14}C de l'ivoire saisi par les autorités. Les trafiquants contournent la loi en faisant passer l'ivoire récent pour de l'ivoire ancien.

- 1- Expliquer le principe d'une datation utilisant un isotope radioactif.
- 2- Parmi les propositions suivantes, indiquer sur votre copie celle qui correspond à la désintégration du carbone 14.



- 2- Le document 1 indique que la demi-vie du carbone 14 est de 5730 ans. Expliquer le terme « demi-vie ».

- 3- On considère un échantillon d'ivoire d'éléphant contenant à un instant donné 16 milliards de noyaux de carbone 14. Calculer le nombre de noyaux de carbone 14 restants au bout de :

3-a- 5 730 ans.

3-b- 11 460 ans.

3-c- 17190 ans.

Modèle CCYC : ©DNE

Nom de famille (naissance) :

(Suivi s'il y a lieu, du nom d'usage)

Prénom(s) :

N° candidat : N° d'inscription :

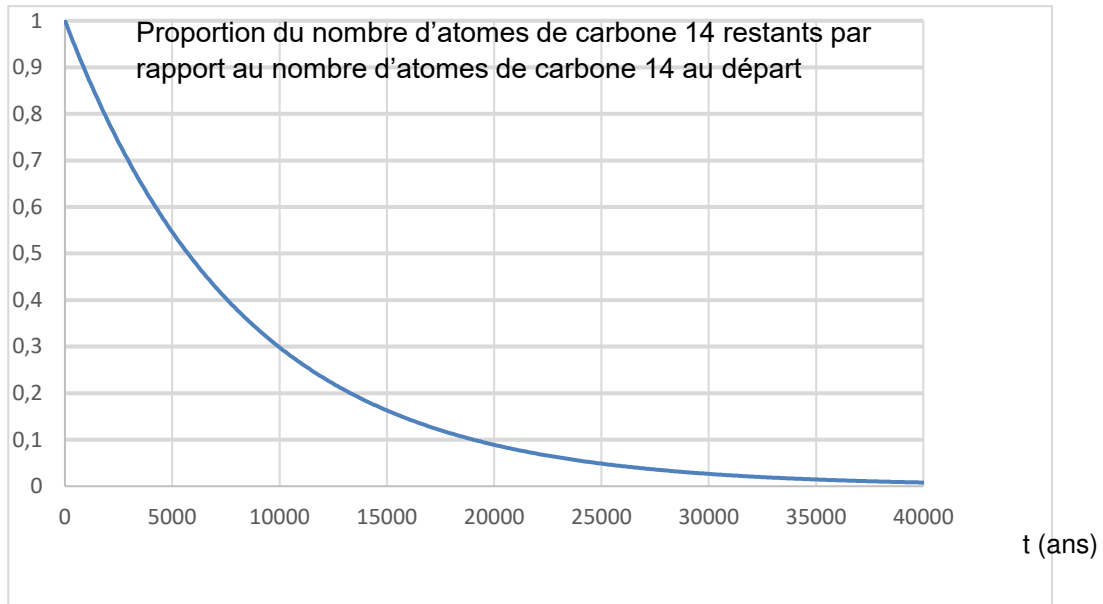
(Les numéros figurent sur la convocation.)

Né(e) le : / /



1.1

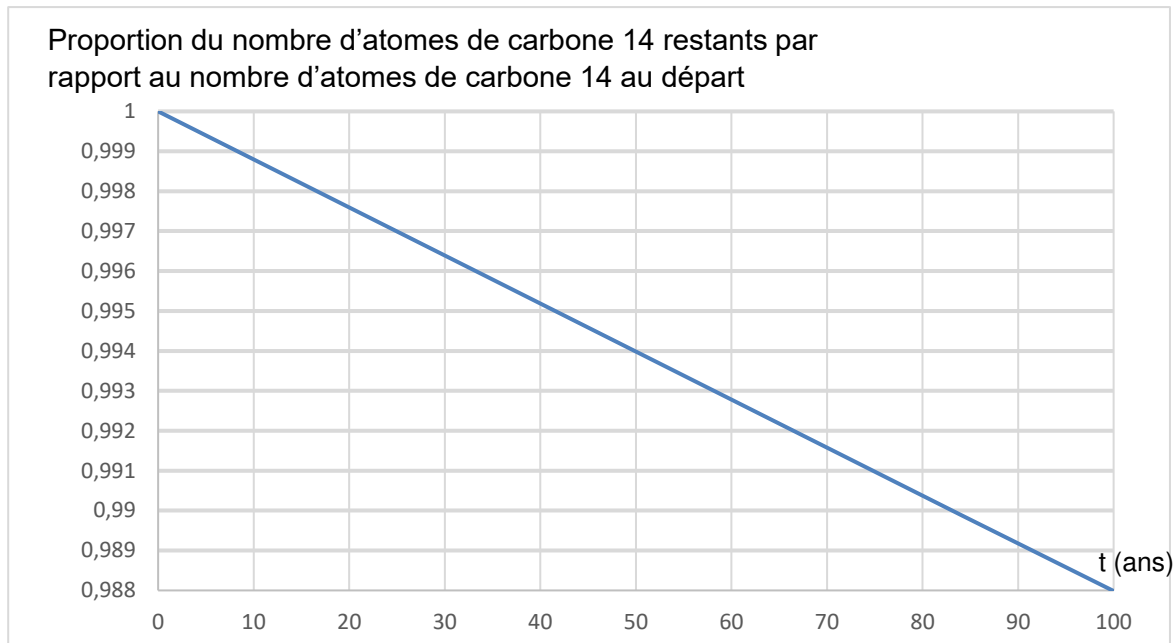
Document 2. Courbe de décroissance du carbone 14 sur 40 000 ans



5- Estimer le nombre de noyaux de carbone 14 restants après 25 000 ans.
 On s'intéresse désormais à la datation au carbone 14 d'échantillons d'ivoire plus récents. Sur une période de 100 ans, on peut approcher la portion de courbe du document 2 par un segment de droite représenté dans le document 3.



Document 3. Décroissance radioactive du carbone 14 sur 100 ans



6- En 2019, l'analyse d'un échantillon d'ivoire d'éléphant a permis d'estimer à 0,994 la proportion d'atomes de carbone 14 restants par rapport au nombre initial d'atomes de carbone 14.

6-a- En utilisant le document 3, dater la mort de l'éléphant.

6-b- Cet ivoire provient-il d'un éléphant abattu illégalement ? Justifier la réponse.

Modèle CCYC : ©DNE

Nom de famille (naissance) :


(Suivi s'il y a lieu, du nom d'usage)

Prénom(s) :

N° candidat : N° d'inscription :

(Les numéros figurent sur la convocation.)

Né(e) le : / /



1.1

ANNEXE A RENDRE AVEC LA COPIE

Exercice 1 : Détermination de l'âge de la Terre selon Buffon

Question 3

Représenter les points correspondant au temps de « refroidissement au point de la température actuelle » (en minute) en fonction du diamètre du boulet (en pouce).

