

**SUJET**

**2020-2021**

**ENSGT SCIENTIFIQUE**

**Première Générale**

**ÉVALUATIONS  
COMMUNES**

Modèle CCYC : ©DNE

Nom de famille (naissance) :

(Suivi s'il y a lieu, du nom d'usage)

Prénom(s) :

N° candidat :  N° d'inscription :

(Les numéros figurent sur la convocation.)

Né(e) le :  /  /



Liberté • Égalité • Fraternité  
RÉPUBLIQUE FRANÇAISE

1.1

## ÉVALUATION COMMUNE

**CLASSE :** Première

**EC :**  EC1  EC2  EC3

**VOIE :**  Générale  Technologique  Toutes voies (LV)

**ENSEIGNEMENT :** Enseignement scientifique

**DURÉE DE L'ÉPREUVE :** 2h

Niveaux visés (LV) : LVA LVB

Axes de programme :

**CALCULATRICE AUTORISÉE :**  Oui  Non

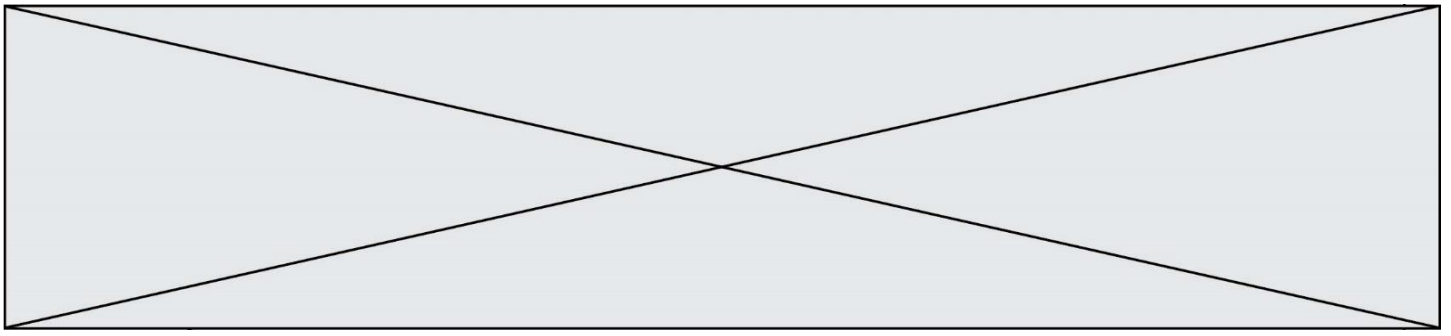
**DICTIONNAIRE AUTORISÉ :**  Oui  Non

Ce sujet contient des parties à rendre par le candidat avec sa copie. De ce fait, il ne peut être dupliqué et doit être imprimé pour chaque candidat afin d'assurer ensuite sa bonne numérisation.

Ce sujet intègre des éléments en couleur. S'il est choisi par l'équipe pédagogique, il est nécessaire que chaque élève dispose d'une impression en couleur.

Ce sujet contient des pièces jointes de type audio ou vidéo qu'il faudra télécharger et jouer le jour de l'épreuve.

**Nombre total de pages :** 8



## EXERCICE 1 L'OR, UN ELEMENT CHIMIQUE PRECIEUX

L'or, élément de numéro atomique  $Z=79$ , a de tout temps été un métal fort prisé notamment pour son caractère ductile et inoxydable. C'est une valeur refuge en économie et un métal précieux tant en orfèvrerie qu'en médecine ou dans l'industrie.

### Partie 1 : Estimation de quelques masses d'or.

Le World Gold Council, union des principales compagnies mondiales de l'industrie aurifère, estime que si tout l'or extrait depuis le début de l'humanité – bijoux, lingots et masque de Toutankhamon inclus – était fondu en un seul bloc, il formerait un cube de 21 mètres de côté. Bien plus petit que l'Arc de triomphe de l'Étoile à Paris !

En 2016, 13% de l'extraction d'or au niveau mondial a été réalisée en Chine, ce qui représente 455 tonnes.

1- Sachant que la masse volumique de l'or est  $19,3 \text{ g.cm}^{-3}$ , calculer la masse totale de l'or extrait depuis le début de l'humanité. On exprimera le résultat en tonnes.

2- Calculer la masse de l'or extrait dans le monde en 2016.

### Partie 2 : Peut-on transformer du plomb en or ?

La transmutation<sup>1</sup> de métaux non précieux en or était, dès le Moyen-Âge, l'objectif principal des alchimistes. Aucun n'a jamais atteint cet objectif.

Le développement de la science moderne a cependant permis de montrer qu'il est effectivement possible de réaliser cette transmutation, mais avec des méthodes bien différentes de ce que les alchimistes avaient pu proposer.

Voici un extrait du tableau établi par Dmitri Mendeleïev (1834 – 1907) donnant la classification périodique des éléments :

---

<sup>1</sup> transmutation : changement d'une substance en une autre

Modèle CCYC : ©DNE

Nom de famille (naissance) :


(Suivi s'il y a lieu, du nom d'usage)

Prénom(s) :

N° candidat :  N° d'inscription :

(Les numéros figurent sur la convocation.)

Né(e) le :  /  /



RÉPUBLIQUE FRANÇAISE

1.1

<b>78</b>	195,078	<b>79</b>	196,9665	<b>80</b>	200,59	<b>81</b>	204,3833	<b>82</b>	207,2
<b>Pt</b>		<b>Au</b>		<b>Hg</b>		<b>Tl</b>		<b>Pb</b>	
Platine		Or		Mercure		Thallium		Plomb	

**3** – Préciser le nombre de protons que l'on doit arracher à un noyau de mercure pour obtenir un noyau d'or. Préciser si ce type de transformation est une transformation chimique, physique ou nucléaire.

**4** – En utilisant le tableau de Mendeleiev, indiquer pourquoi il semble *a priori* plus facile de transformer du mercure en or que du plomb en or.

**Document 1** : *Peut-on obtenir de l'or à partir d'un autre métal ?*

Pour casser un noyau de plomb, on sait aujourd'hui qu'il faut fournir beaucoup d'énergie, de l'ordre de celle mise en jeu dans les réacteurs nucléaires et les accélérateurs de particules. Du coup, réaliser la transformation coûte vraiment très cher et le prix de revient de l'or obtenu est infiniment plus élevé que celui du marché. L'obtention d'un gramme d'or se chiffrerait en effet en centaines de millions d'euros. L'opération perd donc tout son intérêt et personne n'a tenté de la réaliser.

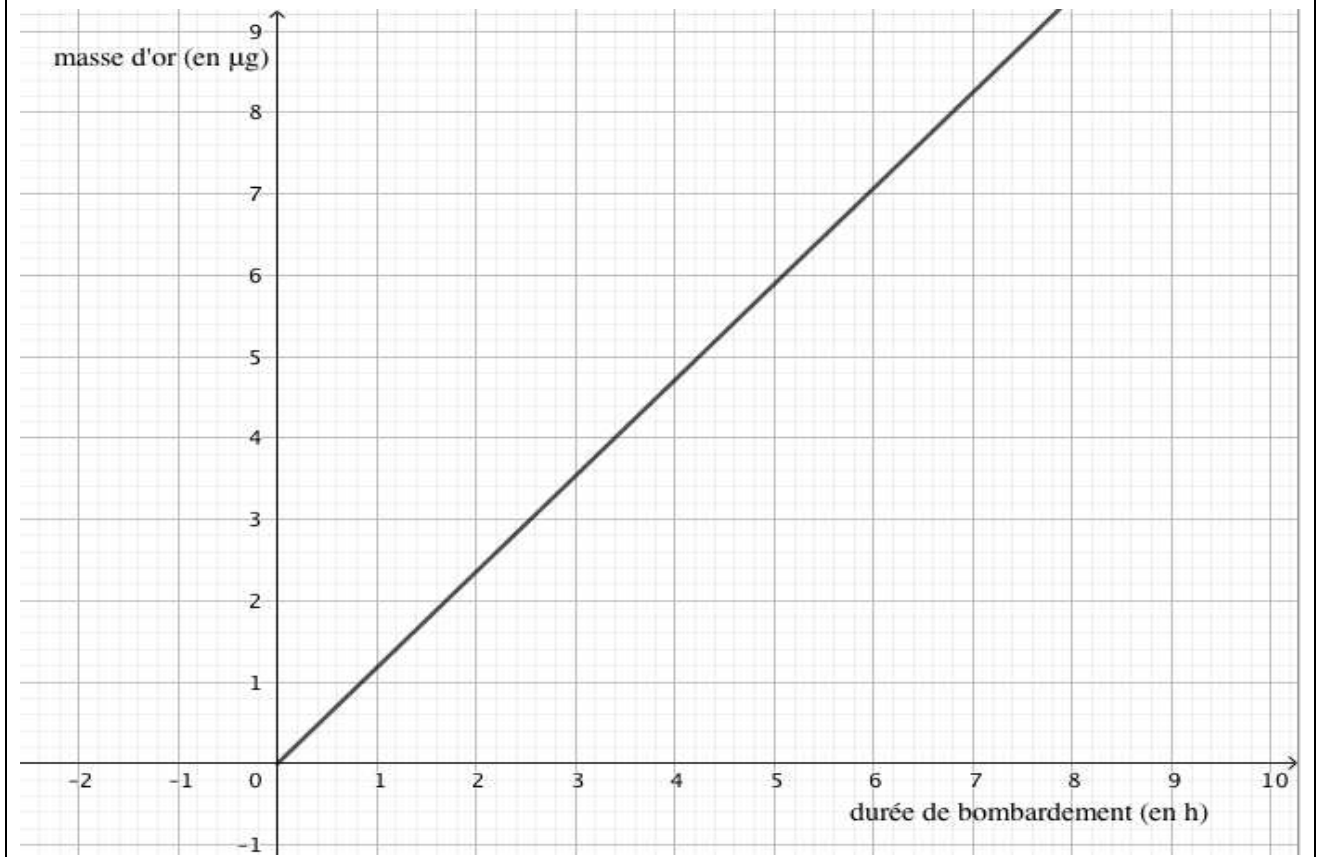
Pourtant il arrive que de l'or soit créé en quantité infime dans les réacteurs nucléaires ou les accélérateurs de particules comme une conséquence collatérale de leur fonctionnement normal. [...]

Il existe, dans le Tennessee aux Etats Unis, un complexe du département de l'énergie américain, le laboratoire d'Oak Ridge, qui possède l'une des plus puissantes sources de neutrons dans le monde. Le principe de cet instrument est de bombarder une cible de mercure avec des neutrons afin d'extraire des protons de très haute énergie. Au cours des collisions entre les protons et les noyaux de mercure, il se passe beaucoup de choses : certains protons sont capturés par des noyaux, certains noyaux se cassent en émettant des protons et des neutrons, ... au final, un ou deux atomes de mercure sont transformés en atome d'or. Mais la quantité est bien trop infime pour être exploitable.

Inspiré de la vidéo KESAKO <https://www.youtube.com/watch?v=MHipsqUGUP8>



**Document 2 :** Représentation graphique de la fonction donnant la masse d'or obtenue par bombardement de neutrons d'un échantillon de mercure en fonction de la durée du bombardement :



**Document 3 :** Cours de l'or

Sur les marchés, l'or est coté à la bourse. La cotation se fait en USD<sup>2</sup>/once (une once correspond à environ 31 g d'or). Au 31 mai 2019, le cours était 1 305,80 USD/once, soit 1 166,05 EUR/once.

**5-a)** A partir du document 2, identifier l'affirmation exacte parmi les 4 affirmations suivantes. Recopier l'affirmation exacte sur la copie et justifier la réponse.

- (a) La masse d'or obtenue à partir du mercure par bombardement de neutrons est une fonction décroissante de la durée du bombardement.
- (b) La masse d'or obtenue à partir du mercure par bombardement de neutrons est proportionnelle à la durée du bombardement.
- (c) La masse d'or obtenue à partir du mercure par bombardement de neutrons est proportionnelle au carré de la durée du bombardement.

<sup>2</sup> USD : United States Dollar

Modèle CCYC : ©DNE																				
Nom de famille (naissance) : <small>(Suivi s'il y a lieu, du nom d'usage)</small>																				
Prénom(s) :																				
N° candidat :											N° d'inscription :									
 Liberté • Égalité • Fraternité RÉPUBLIQUE FRANÇAISE	<small>(Les numéros figurent sur la convocation.)</small>																			
Né(e) le :			/			/														

1.1

(d) La masse d'or obtenue à partir du mercure par bombardement de neutrons ne dépend pas de la durée du bombardement.

**5-b)** Avec la précision permise par le graphique, déterminer la durée du bombardement permettant d'obtenir 6  $\mu\text{g}$  d'or, puis la masse d'or obtenu à l'issue de 3 heures de bombardement.

**5-c)** Calculer la masse d'or obtenue au bout d'un jour. Montrer qu'en une année, on peut ainsi produire environ 10 mg d'or.

**6-** Estimer le prix (en euro) d'un gramme d'or acheté sur le marché.

**7-** Justifier l'affirmation du document 1 « *L'opération perd donc tout son intérêt* ».

## EXERCICE 2

### APPROCHE HISTORIQUE DE L'ÂGE DE LA TERRE

Depuis l'Antiquité, la question de l'âge de la Terre a soulevé de nombreuses controverses. On se propose d'étudier différentes méthodes ayant permis d'estimer l'âge de la Terre au cours de l'histoire des sciences.

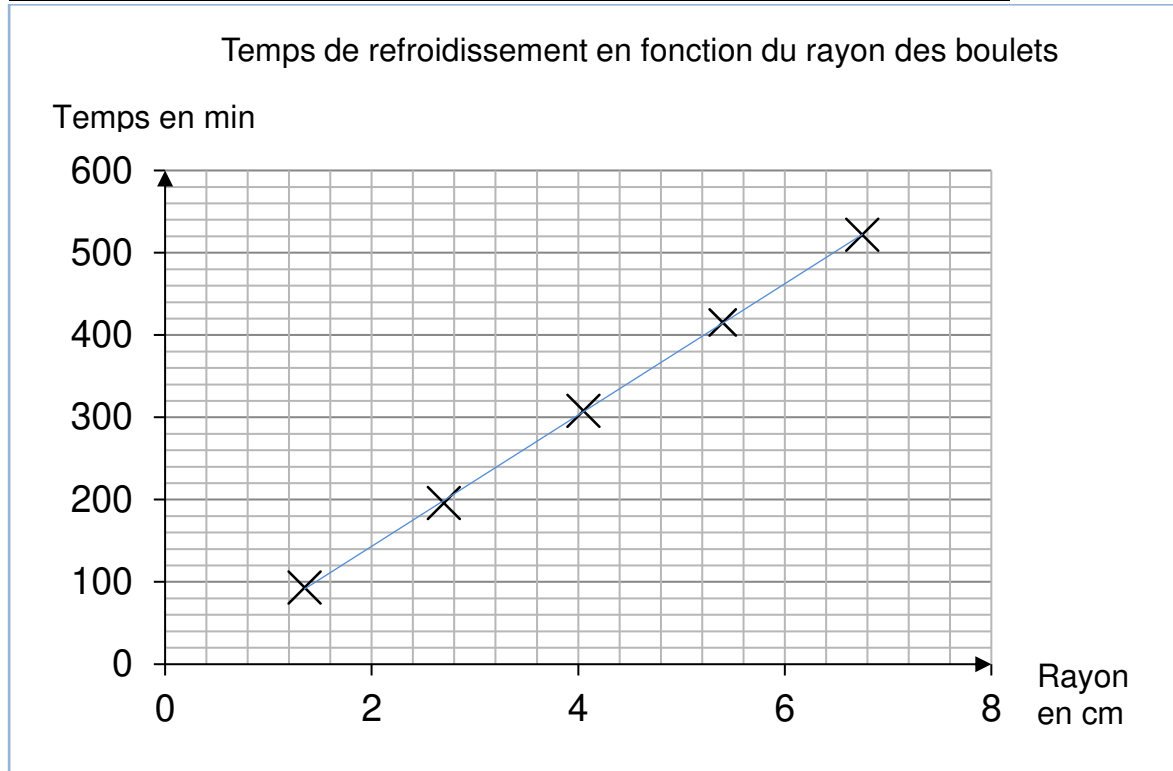
#### Partie A. Les précurseurs : Buffon et Kelvin

##### • La démarche de Buffon

Georges Louis Leclerc, comte de Buffon, est le premier à réaliser une expérience pour déterminer l'âge de la Terre. Partant de l'hypothèse que la Terre a d'abord été une sphère de matière en fusion qui a refroidi, il chauffe au rouge 10 boulets de fer forgé de tailles différentes et inférieures à 5 pouces (1 pouce = 2,54 cm). Buffon mesure la durée de leur refroidissement et extrapole ensuite ses résultats au globe terrestre, dont le diamètre connu à l'époque est proche de 13 000 km. Pendant plusieurs années et avec des métaux différents, il effectuera plus de 60 expériences, chacune répétées trois fois.



### Document 1. Étude du temps de refroidissement des boulets de canon



Buffon écrit :

« Maintenant, si l'on voulait chercher [...] combien il faudrait de temps à un globe gros comme la Terre pour se refroidir, on trouverait, d'après les expériences précédentes, [...] quatre-vingt-seize-mille six cent soixante-dix ans et cent trente-deux jours pour la refroidir à la température actuelle » (extrait de *L'Histoire Naturelle, générale et particulière*, Buffon, 1774).

#### • La démarche de Kelvin

Presque un siècle plus tard, le Britannique Lord Kelvin utilise la théorie de la conduction de la chaleur établie par Fourier et modélisée par « l'équation de la chaleur ». En considérant que l'intérieur de la Terre est homogène et rigide, il estime l'âge de la Terre entre 20 et 400 millions d'années en utilisant l'équation de transfert de chaleur.

Lord Kelvin écrit :

« Le fait que la température de la Terre augmente avec la profondeur sous la surface implique une perte continue de chaleur de l'intérieur par conduction vers l'extérieur, à travers ou dans la croûte supérieure. Puisque la croûte supérieure ne devient pas plus chaude d'année en année, il doit donc y avoir une perte de chaleur séculaire de la Terre entière... Mais il est certain que la Terre devient de plus en plus froide d'âge en âge... » (d'après *On the Secular Cooling of the Earth*, Lord Kelvin, 1862)

Modèle CCYC : ©DNE																				
Nom de famille (naissance) : <small>(Suivi s'il y a lieu, du nom d'usage)</small>																				
Prénom(s) :																				
N° candidat :											N° d'inscription :									
 <small>Liberté • Égalité • Fraternité RÉPUBLIQUE FRANÇAISE</small>	<small>(Les numéros figurent sur la convocation.)</small>																			
Né(e) le :			/			/														

1.1

En s'appuyant sur le document 1, les informations précédentes et sur vos connaissances personnelles, répondre aux questions suivantes.

- 1- Expliciter la démarche mise en œuvre par Buffon, ses points forts et ses limites.
- 2- Expliciter la démarche mise en œuvre par Lord Kelvin, ses points forts et ses limites.
- 3- Commenter les âges de la Terre proposés par Buffon et Kelvin. On attend une comparaison des valeurs, de leur précision et de leur ordre de grandeur.

### Partie B. Les positions des géologues et de Charles Darwin

Au XIX<sup>e</sup> siècle, des géologues à l'instar de Charles Lyell, affirment que l'explication du passé de la Terre réside dans l'étude des phénomènes géologiques actuels. Ils utilisent la vitesse de sédimentation pour évaluer l'âge de la Terre. En considérant que les sédiments se déposent à un rythme compris entre 1 mm et 1 cm par an, ils estiment l'âge de la Terre à environ 3 milliards d'années.

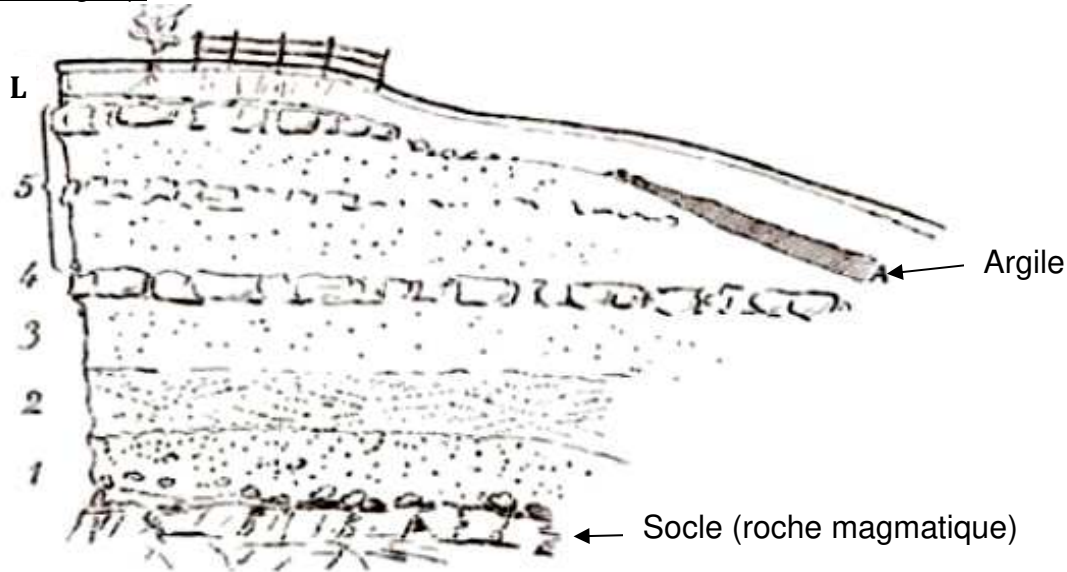
Quant à Charles Darwin, il s'oppose à Kelvin dans son ouvrage « De l'origine des espèces » paru en 1859. Selon lui, la théorie de l'évolution permet d'expliquer la diversité du vivant, mais elle nécessite des temps très longs, de l'ordre du milliard d'années.

**Voir page suivante**





Document 2. Coupe géologique d'un affleurement géologique à Wöllstein (Allemagne).



L	Terre végétale limoneuse	0,60	3	Sable blanc	1,20
A	Argile grise, fendillée	0,20	2	Sable jaune à stratification oblique, débris fossilifères, <i>Ostrea callifera</i>	1,00
5	Sable gris et jaune avec blocs de grès arrondis	3,50	1	Sable graveleux, grossier	1,50
4	Grès jaune, dur, tabulaire	0,40			

L'épaisseur de chaque couche est donnée en mètres.

D'après Gustave-F. Dollfus, *Bulletin de la société géologique de France*, 1911.

**4-** En considérant que la vitesse de sédimentation est de 0,1 mm par an et que les sédiments formant ces différentes strates (couches 1 à 5) se sont déposés de manière uniforme, estimer la durée de formation de l'ensemble des strates de Wöllstein surmontant le socle.

**5-** Comparer cet âge à celui estimé par Darwin. Proposer une hypothèse pour laquelle cette estimation de l'âge de la Terre à partir de cette coupe géologique est très différente.