

**INTERRO**

**MATHS**

**SUJET**

**PREMIÈRE  
TECHNOLOGIQUE**

Modèle CCYC : ©DNE																				
Nom de famille (naissance) : <small>(Suivi s'il y a lieu, du nom d'usage)</small>																				
Prénom(s) :																				
N° candidat :											N° d'inscription :									
 <small>Liberté • Égalité • Fraternité</small> <small>RÉPUBLIQUE FRANÇAISE</small>	<small>(Les numéros figurent sur la convocation.)</small>																			
	Né(e) le :			/			/													

1.1

## PARTIE II

### Calculatrice autorisée

***Cette partie est composée de trois exercices indépendants.***

#### Exercice 2 : (5 points)

On considère la fonction  $V$  définie sur  $\mathbb{R}$  par  $V(x) = 5(2x + 3)(3x + 2)(2 - x)$ .

On appelle  $C$  la représentation graphique de la fonction  $V$  dans un repère orthogonal.

- Donner les solutions de l'équation  $V(x) = 0$ .
- Dresser le tableau de signes sur  $\mathbb{R}$  de la fonction  $V$ .
- En déduire les solutions dans  $\mathbb{R}$  de l'inéquation  $V(x) \geq 0$ .
- La courbe représentative de la fonction  $V$  sur l'intervalle  $[0 ; 2]$  est donnée en **annexe 1**.  
Résoudre graphiquement l'inéquation  $V(x) \geq 80$  sur l'intervalle  $[0 ; 2]$  en laissant visibles les traits de construction sur la courbe fournie en **annexe 1** à rendre avec la copie.
- On considère l'algorithme ci-dessous :

```
def V(x):
    return 5*(2*x + 3)*(2 - x)*(3*x + 2)
```

```
x = 0
while V(x) < 80 :
    x = x + 0.1
```

À la fin de l'exécution, la variable  $x$  vaut 0,3.

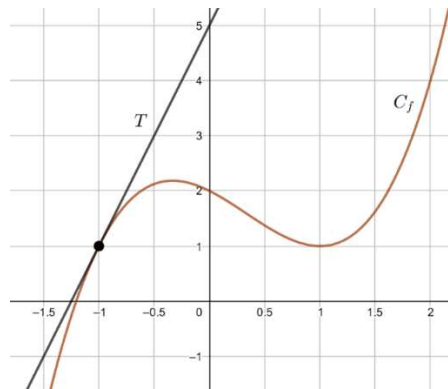
Donner une interprétation de cette valeur dans le contexte de l'exercice.



**Exercice 3 : (5 points)**

**Partie A**

Sur le graphique donné ci-dessous,  $C_f$  est la représentation graphique d'une fonction  $f$  définie et dérivable sur  $\mathbb{R}$ . La droite  $T$  est la tangente à  $C_f$  au point d'abscisse  $-1$ .



1. Par lecture graphique, donner  $f(1)$  et  $f(-1)$ .
2. Déterminer graphiquement l'équation réduite de la tangente  $T$ .

**Partie B**

On admet que la fonction  $f$  est définie, pour tout  $x$  de  $\mathbb{R}$ , par  $f(x) = x^3 - x^2 - x + 2$ .

1. Déterminer  $f'(x)$  pour tout  $x$  appartenant à  $\mathbb{R}$ .
2. Dans la suite de l'exercice, on admet que, pour tout  $x$  appartenant à  $\mathbb{R}$ , on a

$$f'(x) = (x - 1)(3x + 1).$$

On considère les trois tableaux de signes ci-dessous.

Tableau 1

$x$	$-\infty$		1		$+\infty$
Signe de $f'(x)$		-	0	+	

Tableau 2

$x$	$-\infty$		$-\frac{1}{3}$		1		$+\infty$
Signe de $f'(x)$		+	0	-	0	+	

Tableau 3

$x$	$-\infty$		$-\frac{1}{3}$		1		$+\infty$
Signe de $f'(x)$		-	0	+	0	-	

Déterminer, parmi ces trois tableaux, celui qui correspond à la fonction  $f'$ . Justifier.

3. Dresser le tableau de variations de la fonction  $f$  sur  $\mathbb{R}$ .

Modèle CCYC : ©DNE																				
Nom de famille (naissance) : <small>(Suivi s'il y a lieu, du nom d'usage)</small>																				
Prénom(s) :																				
N° candidat :											N° d'inscription :									
 <small>Liberté • Égalité • Fraternité</small> <small>RÉPUBLIQUE FRANÇAISE</small>	<small>(Les numéros figurent sur la convocation.)</small>																			
	Né(e) le :			/			/													

1.1

**Exercice 4 : (5 points)**

Dans un club de judo les adhérents sont classés par catégorie d'âge et suivant le sexe. Une partie des effectifs de chaque catégorie est donnée dans le tableau croisé d'effectifs fourni en **annexe 2**, à rendre avec la copie.

1. Compléter, sans justifier, le tableau fourni en **annexe 2**.

*Pour les questions suivantes, les réponses seront données sous forme décimale ou sous forme d'une fraction irréductible.*

2. Calculer la fréquence d'adultes parmi les adhérents de ce club.
3. On choisit au hasard un adhérent du club de judo, chaque adhérent ayant la même probabilité d'être choisi.

On considère les événements suivants :

- E : « L'adhérent est un enfant »
- F : « L'adhérent est une femme »
- G : « L'adhérent est un homme »

- a. Calculer la probabilité de l'événement E.
- b. Calculer la probabilité de  $E \cap F$  et l'interpréter dans le contexte de l'exercice.
- c. Calculer la probabilité que l'adhérent soit une femme sachant que c'est un enfant.



Modèle CCYC : ©DNE

Nom de famille (naissance) :


(Suivi s'il y a lieu, du nom d'usage)

Prénom(s) :

N° candidat :  N° d'inscription :

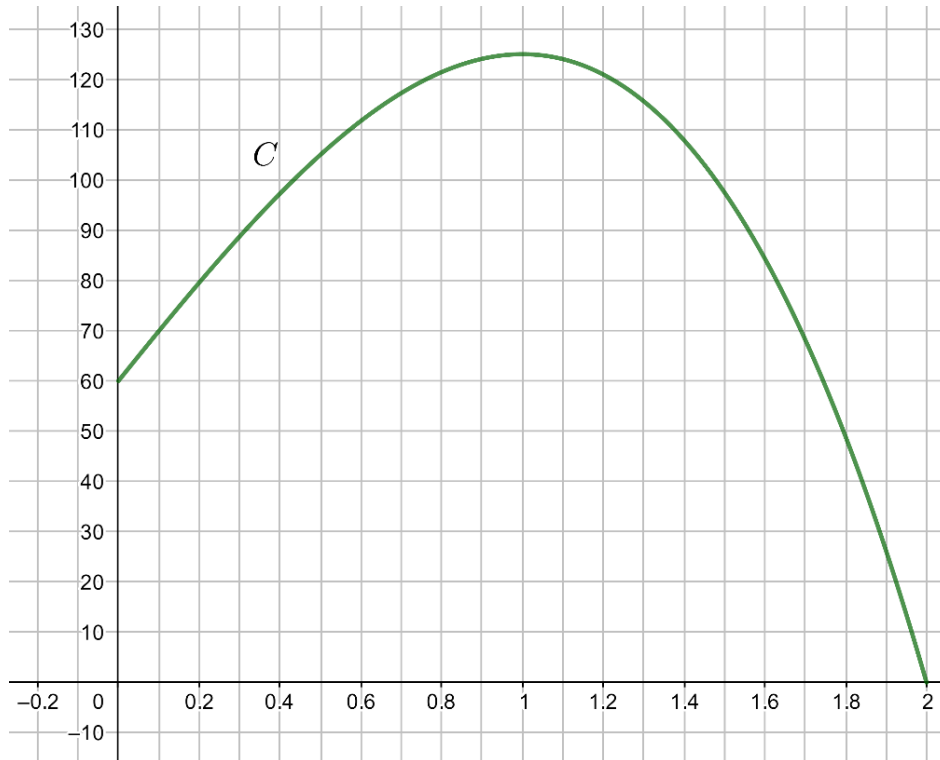
(Les numéros figurent sur la convocation.)

Né(e) le :  /  /



1.1

ANNEXE 1



ANNEXE 2

	Enfants : de 11 à 14 ans	Jeunes : de 15 à 20 ans	Adultes : 21 ans et plus	Total
Femmes	31		8	64
Hommes			4	
Total	63			120