

SUJET

2019-2020

MATHÉMATIQUES

Première Technologique

ÉVALUATIONS COMMUNES

Modèle CCYC : ©DNE

Nom de famille (naissance) :


(Suivi s'il y a lieu, du nom d'usage)

Prénom(s) :

N° candidat : N° d'inscription :

(Les numéros figurent sur la convocation.)

Né(e) le : / /



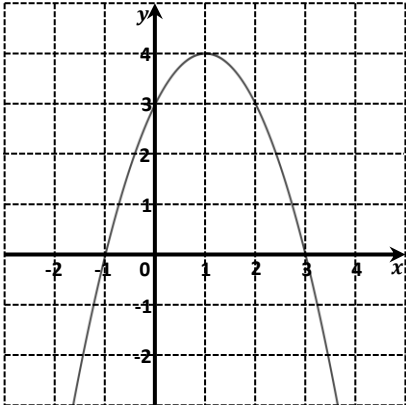
1.1

Épreuve de MATHÉMATIQUES - Séries technologiques - Classe de première

PARTIE I

AUTOMATISMES (5 points) Sans calculatrice Durée : 20 minutes

Dans cet exercice, il n'est pas demandé de justification. Répondre à chaque énoncé dans la colonne de droite du tableau.

	Énoncé	Réponse
1.	$\frac{1}{5} = \dots\%$%
2.	75 % de 80 est égal à
3.	Calculer : $3 \times \frac{1}{5} + \frac{3}{2}$.	
4.	Donner le nombre $2,31 \times 10^{-4}$ en écriture décimale.	
5.	Développer et réduire l'expression $f(x) = 5x - x(2x + 3)$.	$f(x) = \dots\dots\dots$
6.	Factoriser $x^2 - 4x$.	
7.	On considère ci-dessous, la courbe représentative de la fonction f définie sur \mathbf{R} .	L'image de -1 par f est :
8.		L'ensemble des solutions de l'inéquation $f(x) > 0$ est :



<p>9.</p>	<p>Construire sur le repère ci-contre, la droite Δ passant par $B(1; 1)$ et de coefficient directeur -1.</p>	
<p>10.</p>	<p>Soit les points $C(2; 4)$ et $D(5; 5)$. Le coefficient directeur m de la droite (CD) est :</p>	<p>$m = \dots$</p>

Modèle CCYC : ©DNE

Nom de famille (naissance) :


(Suivi s'il y a lieu, du nom d'usage)

Prénom(s) :

N° candidat : N° d'inscription :

(Les numéros figurent sur la convocation.)

Né(e) le : / /

 Liberté • Égalité • Fraternité
RÉPUBLIQUE FRANÇAISE

1.1

Épreuve de MATHÉMATIQUES - Séries technologiques - Classe de première

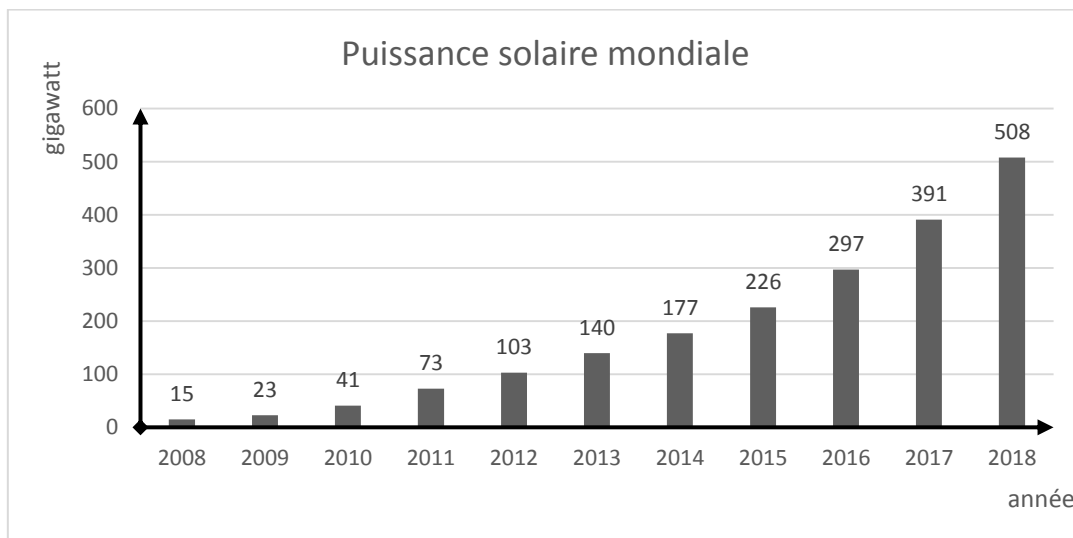
PARTIE II

Calculatrice autorisée selon la réglementation en vigueur.

Cette partie est composée de trois exercices indépendants.

EXERCICE 2 (5 points)

L'évolution de la puissance solaire photovoltaïque dans le monde entre fin 2008 et fin 2018 est résumée dans le graphique ci-dessous :



- Montrer qu'entre fin 2008 et fin 2018, la puissance solaire photovoltaïque a augmenté d'environ 3287 %.
- Calculer les taux d'évolution de la puissance solaire, exprimés en pourcentage, entre 2016 et 2017, ainsi qu'entre 2017 et 2018. On arrondira à l'unité.
- On se propose d'estimer la puissance solaire photovoltaïque dans le monde pour les années à venir en faisant l'hypothèse que le taux de croissance annuel restera constant et égal à 30%.
On note P_n la puissance solaire photovoltaïque dans le monde, en gigawatt, à la fin de l'année 2018 + n . Ainsi, $P_0 = 508$
 - Justifier que, pour tout entier naturel n , $P_{n+1} = 1,3 \times P_n$.
 - Un chercheur affirme que si le taux de croissance se maintient à 30 %, la production dépassera les 2400 gigawatts avant fin 2024. A-t-il raison ? On justifiera la réponse par un calcul.



4. Le chercheur aimerait savoir en quelle année la puissance solaire photovoltaïque dans le monde dépassera les 10 000 gigawatts si le taux de croissance se maintient à 30 %.
- Compléter le script, fourni en **annexe à rendre avec la copie**, de la fonction python nommée `nombre_annees` renvoyant la valeur `n` pour une puissance seuil `S` choisie au départ.

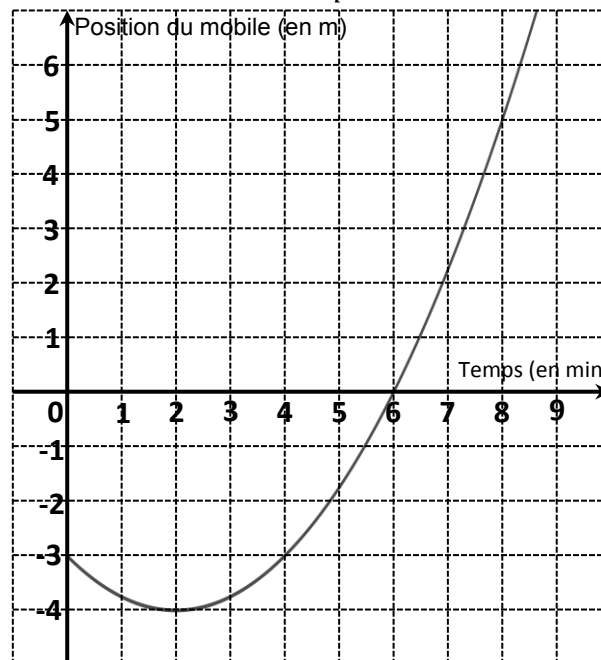
EXERCICE 3 (5 points)

Un mobile se déplace sur une droite graduée en mètre.

Son abscisse $p(t)$ sur cette droite graduée (exprimée en mètre) en fonction du temps écoulé t (exprimé en minute) depuis le départ est donnée par :

$$p(t) = 0,25t^2 - t - 3.$$

1. Quelle est la position du mobile à l'instant $t = 0$ min (c'est-à-dire au début du mouvement), puis à l'instant $t = 2$ min ?
2. La courbe représentative de la fonction p est tracée ci-dessous.



À l'aide de cette courbe, répondre aux questions suivantes :

- a. Déterminer à quel(s) instant(s) le mobile est à la position -3 .
 - b. Quelle est la vitesse moyenne du mobile (exprimée en $\text{m}\cdot\text{min}^{-1}$) entre les instants $t = 6$ min et $t = 8$ min ?
3. a. Montrer que, pour tout réel $t \geq 0$, $p(t) = 0,25(t - 6)(t + 2)$.
 - b. À l'aide du tableau de signes de p sur $[0 ; +\infty[$, déterminer à quels instants le mobile a une abscisse positive ou nulle.

Modèle CCYC : ©DNE																				
Nom de famille (naissance) : <small>(Suivi s'il y a lieu, du nom d'usage)</small>																				
Prénom(s) :																				
N° candidat :											N° d'inscription :									
 <small>Liberté • Égalité • Fraternité</small> <small>RÉPUBLIQUE FRANÇAISE</small>	<small>(Les numéros figurent sur la convocation.)</small>																			
	Né(e) le :			/			/													

1.1

EXERCICE 4 (5 points)

Lors d'une opération de promotions exceptionnelles d'un grand magasin de bricolage, on s'intéresse aux ventes de deux articles particuliers du rayon « Outillage motorisé » : une meuleuse et une scie sauteuse.

Pendant cette période de promotions, une enquête réalisée sur 300 clients de ce magasin montre que :

- 63 clients ont acheté une meuleuse ;
- 80 clients ont acheté une scie sauteuse ;
- 5 % des clients ayant acheté une scie sauteuse ont aussi acheté une meuleuse.

Chaque client a acheté au plus une scie sauteuse et au plus une meuleuse.

1. Compléter le tableau croisé d'effectifs fourni en **annexe, à rendre avec la copie.**
2. Quel est le pourcentage de clients ayant acheté une meuleuse ?
3. L'affirmation suivante est-elle vraie : « Au moins 2 % des clients ont acheté les deux outils (meuleuse et scie sauteuse) » ? Justifier.
4. Quel est le pourcentage de clients ayant acheté une meuleuse qui ont aussi acheté une scie sauteuse ? On arrondira au dixième de pourcentage.
5. On choisit au hasard un client de l'enquête.
On note M l'événement « Le client a acheté une meuleuse » et \bar{M} l'événement contraire.
On note S l'événement « Le client a acheté une scie sauteuse » et \bar{S} l'événement contraire.
Calculer $P(\bar{S} \cap M)$. On arrondira à 10^{-3} près.



Modèle CCYC : ©DNE

Nom de famille (naissance) :


(Suivi s'il y a lieu, du nom d'usage)

Prénom(s) :

N° candidat : N° d'inscription :

(Les numéros figurent sur la convocation.)

Né(e) le : / /



1.1

Épreuve de MATHÉMATIQUES - Séries technologiques - Classe de première

Annexe à rendre avec la copie

EXERCICE 2
Question 4.

```
def nombre_annees(S):
    P = 508
    n = 0
    while P < S:
        P = .....
        n = .....
    return n
```

EXERCICE 4
Question 1.

	Nombre de clients ayant acheté une meuleuse	Nombre de clients n'ayant pas acheté de meuleuse	Total
Nombre de clients ayant acheté une scie sauteuse			
Nombre de clients n'ayant pas acheté de scie sauteuse			
Total			300

