

SUJET

2019-2020

MATHÉMATIQUES

Première Technologique

ÉVALUATIONS COMMUNES

Modèle CCYC : ©DNE

Nom de famille (naissance) :


(Suivi s'il y a lieu, du nom d'usage)

Prénom(s) :

N° candidat : N° d'inscription :

(Les numéros figurent sur la convocation.)

Né(e) le : / /



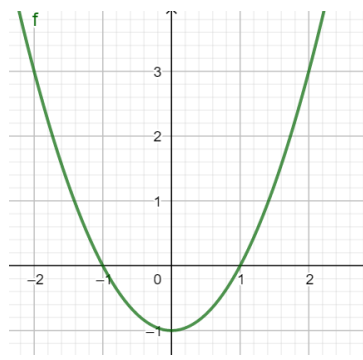
1.1

PARTIE I – Exercice 1

Automatismes (5 points)

Sans calculatrice

Durée : 20 minutes

	Énoncé	Réponse
1)	On applique une remise de 20 % à un article qui coûte 120 euros. Quel est le montant en euro de la remise ?	
2)	Dans une classe de 35 élèves, 20 pratiquent le ski. Déterminer sous forme de fraction irréductible la proportion des élèves pratiquant le ski.	
3)	Comparer $\frac{2}{5}$ et $\frac{2}{14}$	
4)	Donner un encadrement par deux nombres entiers consécutifs de la fraction $\frac{13}{5}$.	$\dots < \frac{13}{5} < \dots$
5)	Convertir en mètres	2,73 km = m
6)	Factoriser : $4x(3 - x) - (2x + 1)(3 - x)$	
7)	Développer : $(5x + 2)^2$	
	<p>Pour les questions 8, 9 et 10, on considère la courbe ci-contre qui représente une fonction f définie sur \mathbf{R}.</p> 	
8)	Donner le ou les antécédents de 3	
9)	Résoudre graphiquement l'équation $f(x) = 0$	
10)	Donner l'ensemble des solutions de $f(x) < 0$.	



Modèle CCYC : ©DNE

Nom de famille (naissance) :

(Suivi s'il y a lieu, du nom d'usage)

Prénom(s) :

N° candidat : N° d'inscription :

(Les numéros figurent sur la convocation.)

Né(e) le : / /

 Liberté • Égalité • Fraternité
RÉPUBLIQUE FRANÇAISE

1.1

PARTIE II

Calculatrice autorisée

Cette partie est composée de trois exercices indépendants.

EXERCICE 2 (5 points)

Le comité d'entreprise d'une société française souhaite organiser un week-end à Rome. Une enquête est faite auprès des 1 200 employés de cette société afin de connaître leur choix en matière de moyen de transport. Les moyens de transport proposés sont le train, l'avion ou l'autocar.

Les résultats de l'enquête sont répertoriés dans le tableau ci-dessous :

	Train	Avion	Autocar	Total
Femmes	468	196	56	720
Hommes	150	266	64	480
Total	618	462	120	1200

On interroge au hasard un employé de cette entreprise.

On note :

F l'évènement : « l'employé interrogé est une femme » ;

T l'évènement : « l'employé interrogé choisit le train ».

Dans tout l'exercice, on donnera les résultats sous forme décimale.

1. Calculer les probabilités $p(F)$ et $p(T)$.
2. Déterminer la probabilité que l'employé interrogé ne choisisse pas le train.
3. Expliquer ce que représente l'évènement $F \cap T$, puis calculer sa probabilité.
4. L'employé interrogé a choisi le train. Calculer la probabilité que cet employé soit une femme. On arrondira le résultat au millième.
5. Calculer $p_F(T)$.



EXERCICE 3 (5 points)

Un apiculteur vend des cartons de pots de miel.

Le coût, en euro, de production de n cartons, $n \leq 120$, est modélisé par le nombre $C(n)$, où C est la fonction définie sur $[0 ; 120]$ par $C(x) = 0,25x^2 + 500$.

1. Calculer le coût de fabrication de 40 cartons.
2. On considère le bénéfice, en euro, réalisé après la production et la vente de n cartons. On admet qu'il est modélisé par le nombre $B(n)$, où B est la fonction définie sur $[0 ; 120]$ par :

$$B(x) = -0,25x^2 + 30x - 500.$$

Montrer que pour tout x appartenant à $[0 ; 120]$, $B(x) = -0,25(x - 20)(x - 100)$.

3. Déterminer le tableau de signes de $B(x)$ sur $[0 ; 120]$.
4. Combien de cartons doit produire et vendre l'apiculteur pour réaliser un bénéfice ?
5. Déterminer le nombre de cartons à produire et à vendre pour que le bénéfice soit maximal.

EXERCICE 4 (5 points)

Sur la figure donnée en **annexe**, on a représenté en perspective cavalière un cube ABCDEFGH et le plan horizontal quadrillé contenant les sommets A, B, C et D sur lequel ce cube est posé.

La face ABFE du cube se situe dans un plan frontal. Les points J, K, L, M et N sont les milieux respectifs des segments [AE], [BF], [CG], [DH] et [FG].

1. Tracer, sur la figure donnée en **annexe**, la section du cube par le plan contenant les points J, K et N. On nommera P le quatrième sommet du quadrilatère obtenu.
2. Déterminer la nature du quadrilatère JKNP.
3. Justifier que la section du cube par le plan contenant les points N, L et M est le quadrilatère LMPN et tracer cette section sur la figure donnée en **annexe**.
4. On considère le solide ABCDJKLMPN obtenu en conservant la partie basse du cube initial sous les sections planes tracées précédemment. On étudie l'ombre portée de ce solide sur le plan horizontal qui représente le sol.

Modèle CCYC : ©DNE

Nom de famille (naissance) :

(Suivi s'il y a lieu, du nom d'usage)

Prénom(s) :

N° candidat : N° d'inscription :

(Les numéros figurent sur la convocation.)

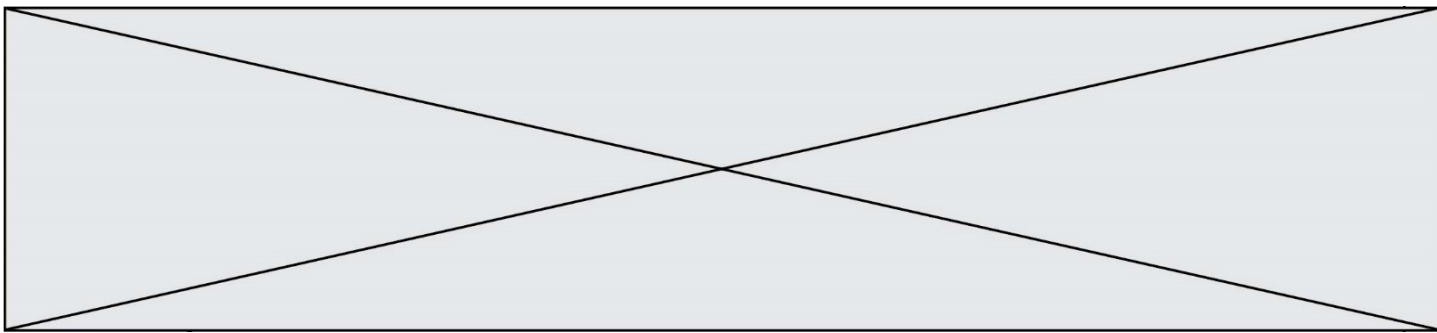
Né(e) le : / /



1.1

a) Construire, sur la figure donnée en **annexe**, les images respectives K' , J' , N' , A' , B' , C' des points K , J , N , A , B et C par la projection sur le plan horizontal qui représente le sol transformant L en L' .

b) Tracer, sur la figure donnée en **annexe**, le contour de la surface représentant l'ombre portée du solide ABCDJKLMPN sur le plan horizontal qui représente le sol.




Modèle CCYC : ©DNE
Nom de famille (naissance) :
(Suivi s'il y a lieu, du nom d'usage)

Prénom(s) :

N° candidat : N° d'inscription :

(Les numéros figurent sur la convocation.)

Né(e) le : / /



Liberté • Égalité • Fraternité
RÉPUBLIQUE FRANÇAISE

1.1

ANNEXE à rendre avec la copie

