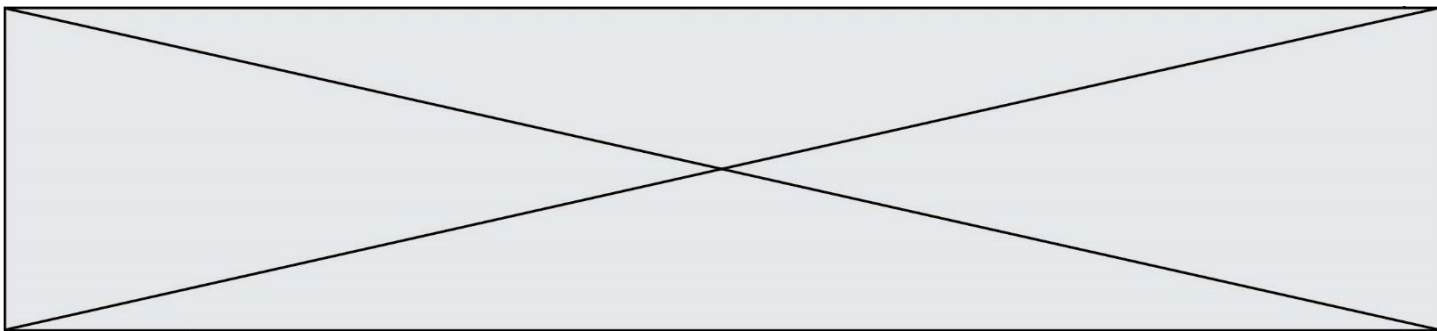


# TRAINING!

## 2021-2022

# SPÉCIALITÉ ST2S

## PREMIÈRE TECHNOLOGIQUE



**Exercice 1 : Quels acides pour l'entretien de la maison ? (5 points)**

L'air que nous respirons, les produits que nous manipulons au quotidien, les aliments que nous ingérons nous exposent de manière passive à des substances chimiques qui peuvent se révéler néfastes pour la santé et le bien-être. Si la qualité de l'air intérieur est longtemps restée oubliée, elle est aujourd'hui un des enjeux majeurs de santé publique. Nous passons en effet plus de 85 % de notre temps dans des environnements clos ce qui nous expose à de nombreux polluants : les oxydes d'azote NO<sub>x</sub>, les biocontaminants (allergènes, moisissures, ...), les composés organiques volatils (COV). Ces derniers sont notamment présents dans les produits chimiques utilisés pour le bâtiment, le mobilier, l'agroalimentaire, l'entretien, ...

Madame X, soucieuse à la fois de nettoyer et d'assainir sa maison, de préserver la santé des siens et d'adopter une démarche citoyenne et écologique se penche sur les produits présents dans son placard. Quel serait le produit le plus intéressant à utiliser afin de détartrer le robinet en inox de son évier en polymère plastique synthétique ?

**Document 1 : Le vinaigre, un détartrant naturel**



*Mode d'emploi* : verser le vinaigre directement sur la surface à détartrer, laisser agir quelques heures puis rincer abondamment. Bien aérer la pièce. Détartrage plus efficace à chaud.

Le vinaigre est un détartrant naturel très efficace, non polluant, biodégradable et très bon marché qui permet de plus d'assainir et désodoriser la maison. Son utilisation est à bannir sur les surfaces poreuses comme le marbre, la pierre, le ciment, il les attaque. Il faut l'utiliser avec précautions sur les surfaces métalliques.

Acide .....

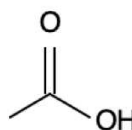
*Mention d'avertissement (CLP) :*



*Mention de danger (CLP) :*

H226 - Liquide et vapeurs inflammables.

H314 - Provoque des brûlures de la peau et des lésions oculaires graves.



source <http://www.inrs.fr/publications/bdd/fichetox.html>

Modèle CCYC : ©DNE

Nom de famille (naissance) : 

(Suivi s'il y a lieu, du nom d'usage)

Prénom(s) : N° candidat : N° d'inscription : Liberté • Égalité • Fraternité  
RÉPUBLIQUE FRANÇAISENé(e) le : 

(Les numéros figurent sur la convocation.)

1.1

## Document 2 : Le détartrant « Cit'Cal » et la molécule d'acide citrique

CIT'CAL



## ACIDE CITRIQUE

Super détartrant naturel,  
écologique, utilisable pour les  
surfaces et dans les appareils  
électroménagers

Usages multiples : dissout  
rouille, calcaire incrusté,  
taches tenaces (thé, brûlé, ...)

L'acide citrique est un acide végétal entièrement biodégradable. Il s'agit d'un produit naturel d'entretien de la maison aujourd'hui très prisé pour ses propriétés anti-oxydantes, anticalcaires, bactéricides, fongicides et anti-algues. L'usage de l'acide est à proscrire pour les surfaces sensibles aux acides : aluminium, marbre, émail.

*Mode d'emploi* : dissoudre la poudre dans de l'eau chaude, laisser agir quelques minutes puis rincer abondamment.

## Acide citrique

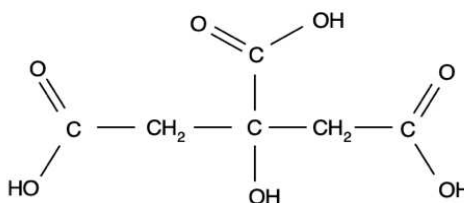
C<sub>6</sub>H<sub>8</sub>O<sub>7</sub>

Informations de sécurité selon le SGH :



Mention(s) de danger :

H319 : provoque une sévère irritation des yeux

source <http://www.inrs.fr/publications/bdd/fichetox.html>

## Document 3 : Le détartrant « Sulf'Cal » et la molécule d'acide sulfamique

Sulf'cal

## ACIDE SULFAMIQUE

détartrant idéal  
des cafetières

*Mode d'emploi* : mélanger à  
de l'eau chaude, laisser agir  
cinq minutes puis rincer  
abondamment à l'eau.  
Procéder à des détartrages  
très réguliers.

L'acide sulfamique est un agent de nettoyage et de détartrage moins corrosif que les autres acides minéraux. Il peut donc servir au nettoyage du matériel en acier inox, en cuivre, en laiton et à l'occasion en aluminium.

## Acide sulfamique

H<sub>3</sub>NSO<sub>3</sub>

Mention d'avertissement (CLP) :

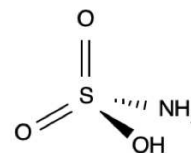


Mention de danger (CLP) :

H315 - Provoque une irritation cutanée.

H319 - Provoque une sévère irritation des yeux.

H412 - Nocif pour les organismes aquatiques, entraîne des effets néfastes à long terme.

source <http://www.inrs.fr/publications/bdd/fichetox.html>



**Document 4** : Recette d'un détartrant « fait maison » pour robinetterie

Pour nettoyer le calcaire accumulé sur la robinetterie, cette recette maison est couramment utilisée :

- Dissoudre 2 à 5 cuillères à soupe\* de poudre d'acide citrique dans 1 litre d'eau chaude.
- Frotter énergiquement les parties les plus entartrées ou laisser le mélange agir environ 30 min.
- Rincer abondamment.

\* 1 cuillère à soupe représente un volume estimé à 15 mL.

**Document 5** : Liste du matériel disponible au laboratoire

Liste du matériel disponible :

- une balance électronique,
- une spatule,
- un compte-goutte,
- une burette graduée de 25 mL,
- une coupelle de pesée,
- des tubes à essais,
- un entonnoir,
- une éprouvette graduée de 250 mL, 500 mL et 1 L,
- un bécher de 250 mL, 500 mL et 1 L,
- une fiole jaugée de 250 mL, 500,0 mL et 1,0 L,
- des pipettes graduées de 10,0 mL, 25,0 mL,
- des pipettes jaugées de 10,0 mL, 25,0 mL, 50,0 mL, 100,0 mL,
- une pissette d'eau distillée.

**Données utiles** :

- masse volumique de l'acide citrique  $\rho = 1,66 \text{ g} \cdot \text{mL}^{-1}$
- masses molaires atomiques en  $\text{g} \cdot \text{mol}^{-1}$  :  $M(\text{C}) = 12,0$  ;  $M(\text{H}) = 1,0$  ;  $M(\text{O}) = 16,0$
- formule de calcul de l'incertitude-type :  $\frac{\text{écart-type}}{\sqrt{n-1}}$ ,  $n$  représentant le nombre de mesures effectuées

1. Le détartrant à base de vinaigre du **document 1** contient un acide pour lequel on ne dispose que de la formule topologique. Trouver le nom de cet acide et l'écrire en toutes lettres.

2. Définir un acide selon la théorie de Brönsted.

Modèle CCYC : ©DNE

Nom de famille (naissance) :

(Suivi s'il y a lieu, du nom d'usage)

Prénom(s) :

N° candidat :  N° d'inscription :

(Les numéros figurent sur la convocation.)

Né(e) le :  /  /



RÉPUBLIQUE FRANÇAISE

1.1

3. Identifier dans les **documents 1 à 3** les différents acides utilisables pour un détartrage et comparer dans un tableau récapitulatif leurs avantages et inconvénients. Conclure, en argumentant, si Madame X dispose ou non d'un produit lui permettant d'atteindre tous ses objectifs.

Madame X achète un paquet d'acide citrique au supermarché. Elle décide de préparer un volume de 1 L de solution d'un détartrant « fait maison » en utilisant 4 cuillères à soupe d'acide citrique.

4. Indiquer le nom de la technique expérimentale que Madame X doit mettre en œuvre en suivant les indications du **document 4**. À l'aide du **document 5**, faire la liste précise (nom et éventuellement contenance) du matériel dont elle a besoin.

5. Proposer un mode opératoire qui serait écrit pour un chimiste désirant préparer précisément un volume de 1 L de solution aqueuse contenant 100 g d'acide citrique, en indiquant le matériel utilisé par le chimiste au laboratoire.

6. Calculer la valeur de la concentration massique  $C_m$  puis la valeur de la concentration molaire  $C$  en acide citrique, dans la solution préparée par Madame X.

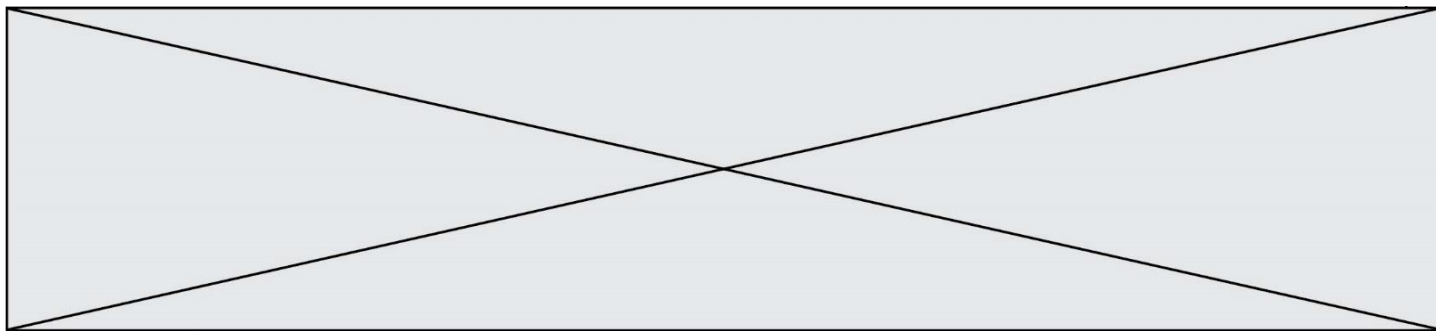
La solution de détartrant « fait maison » est diluée d'un facteur égal à 10 ; la solution obtenue fait l'objet d'une mesure de pH par des lycéens dans le cadre d'une séance d'activité expérimentale. Le tableau suivant rassemble les valeurs de pH relevées par neuf binômes :

Groupe	1	2	3	4	5	6	7	8	9
pH	2,33	2,25	2,23	2,20	2,19	2,22	2,17	2,35	2,12

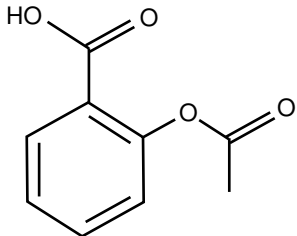
7. Calculer, en utilisant le mode « statistiques » de la calculatrice, la valeur moyenne du pH retenu et l'écart-type associé. Conclure à l'aide d'une phrase sur la valeur du pH de la solution en précisant la valeur de l'incertitude-type.

## Exercice 2 : Des molécules comme principes actifs dans les médicaments (5 points)

Certaines molécules constituent des principes actifs dans les médicaments. Le **document 1** reporté en **annexe à rendre avec la copie**, regroupe les formules semi-développées de six molécules utilisées comme des principes actifs dans certains médicaments. Le **document 2** présente un éclairage sur les propriétés de quelques principes actifs couramment rencontrés.



**Document 1 : Molécules utilisées dans l'industrie pharmaceutique**

<p><i>molécule 1</i></p> 	<p><i>molécule 2</i></p> $  \begin{array}{c}  \text{H}_3\text{C} - \text{CH} - \text{CH}_3 \\    \\  \text{CH}_2 \\    \\  \text{C} \\  / \quad \backslash \\  \text{HC} \quad \text{CH} \\     \quad   \\  \text{HC} \quad \text{CH} \\  \backslash \quad / \\  \text{C} \\    \\  \text{H}_3\text{C} - \text{CH} - \text{C} = \text{O} \\    \\  \text{OH}  \end{array}  $	<p><i>molécule 3</i></p> $  \begin{array}{c}  \text{O} \qquad \qquad \text{OH} \\     \qquad \qquad   \\  \text{H}_3\text{C} - \text{C} - \text{NH} - \text{CH} - \text{C} = \text{O} \\    \\  \text{CH}_2 \\    \\  \text{H}_3\text{C} - \text{CH} - \text{CH}_3  \end{array}  $
<p><i>molécule 4</i></p> $  \begin{array}{c}  \text{OH} \\    \\  \text{HO} - \text{CH} - \text{C} = \text{O} \\    \\  \text{CH}_3  \end{array}  $	<p><i>molécule 5</i></p> $  \begin{array}{c}  \text{OH} \\    \\  \text{C} \\  / \quad \backslash \\  \text{HC} \quad \text{CH} \\     \quad   \\  \text{HC} \quad \text{CH} \\  \backslash \quad / \\  \text{C} \\    \\  \text{HN} \\    \\  \text{H}_3\text{C} - \text{C} = \text{O}  \end{array}  $	<p><i>molécule 6</i></p> $  \begin{array}{c}  \text{HO} - \text{C} = \text{O} \\    \\  \text{C} \\  / \quad \backslash \\  \text{HC} \quad \text{CH} \\     \quad   \\  \text{HC} \quad \text{CH} \\  \backslash \quad / \\  \text{C} \\    \\  \text{H}  \end{array}  $

**Document 2 : Présentation des molécules utilisées comme principe actif**

L'acétyl-leucine est utilisée depuis 1957 comme médicament symptomatique des états vertigineux. Cette molécule comporte deux fonctions : une fonction acide carboxylique et une fonction amide.

L'aspirine est le nom usuel de l'acide acétylsalicylique. Cette molécule est synthétisée par transformation chimique de l'acide salicylique. Au cours de cette synthèse, il se forme la fonction ester, tandis que le reste de la molécule ne change pas.

L'ibuprofène, l'acide lactique et l'acide salicylique ont en commun la fonction acide carboxylique.

L'ibuprofène ne possède que cette fonction. L'acide lactique n'est pas cyclique.

Le paracétamol, l'aspirine et l'ibuprofène sont des espèces chimiques utilisées en

Modèle CCYC : ©DNE

Nom de famille (naissance) :


(Suivi s'il y a lieu, du nom d'usage)

Prénom(s) :

N° candidat :  N° d'inscription :

(Les numéros figurent sur la convocation.)

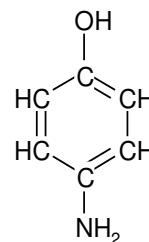
Né(e) le :  /  /

 Liberté • Égalité • Fraternité  
RÉPUBLIQUE FRANÇAISE

1.1

médecine pour leurs propriétés antalgique et antipyrétique. Elles constituent le principe actif de nombreux médicaments commercialisés sous des noms variés. Le paracétamol a entre autre une fonction amide.

Contrairement à l'aspirine, le paracétamol peut généralement être utilisé par les personnes qui suivent un traitement anticoagulant. La synthèse du paracétamol est effectuée par transformation chimique du para-aminophénol. Au cours de cette synthèse, le groupe amine du para-aminophénol est transformé en groupe amide, tandis que le reste de la molécule est inchangé.



Formule semi-développée du para-aminophénol

- Donner le nom de la représentation utilisée pour la molécule 1 représentée dans le **document 1**.
- Ecrire la formule brute de la molécule 1 représentée dans le **document 1**.
- Entourer et nommer les fonctions présentes sur les molécules 1, 2, 3 et 4 dans l'**annexe à rendre avec la copie**.
- Donner les noms des six principes actifs présentés dans le **document 2**.
- Attribuer ces noms aux molécules sur les pointillés de l'**annexe à rendre avec la copie** en expliquant la démarche.
- Calculer la masse molaire du paracétamol de formule brute  $C_8H_9NO_2$ .
- Calculer la quantité de matière (en mol) dans un comprimé de paracétamol de 500 mg.

**Données** : Masses molaires atomiques  $M_C = 12 \text{ g.mol}^{-1}$  ;  $M_H = 1 \text{ g.mol}^{-1}$  ;  $M_O = 16 \text{ g.mol}^{-1}$  ;  $M_N = 14 \text{ g.mol}^{-1}$ .





### Exercice 3 : Transfusion sanguine (5 points)




L'analyse sanguine d'un patient révèle une anémie aigüe. Le médecin prescrit alors la transfusion de deux poches de concentré de globules rouges (CGR) dont les caractéristiques sont identiques et indiquées sur le **document 1**.

Le dispositif de transfusion représenté sur le **document 2** comporte une chambre compte-gouttes calibrée pour que le volume de 15 gouttes soit égal à 1,0 mL à  $\pm 10\%$  près.

Le protocole de la transfusion suit des règles précises :

- Pendant les quinze premières minutes, le débit du concentré de globules rouges (CGR) est réglé à une valeur de  $5,0 \text{ mL}\cdot\text{min}^{-1}$ .
- Ensuite, le débit du CGR doit être réglé entre les valeurs de  $2,0 \text{ mL}\cdot\text{min}^{-1}$  et  $3,0 \text{ mL}\cdot\text{min}^{-1}$ .

#### Document 1 : étiquette d'une poche de concentré de globules rouges (CGR)

<b>Concentré de globules rouges déleucocytés</b>	
issu de sang total unité adulte SAGM	
<b>Déplasmatisé</b>	
<b>A-</b>	GS
	
	04021
	
<b>D- C- E- c+ e+ K-</b>	
RH: -1,-2,-3,4,5 KEL: -1	<b>CMV négatif</b>
<b>Don 300080609593</b>	
<hr/> Conserver entre +2 °C et +6 °C	
<b>Hémoglobine totale &gt; ou = 35 g</b>	
<b>Volume = 240 mL</b>	



Modèle CCYC : ©DNE

Nom de famille (naissance) :


(Suivi s'il y a lieu, du nom d'usage)

Prénom(s) :

N° candidat :  N° d'inscription :

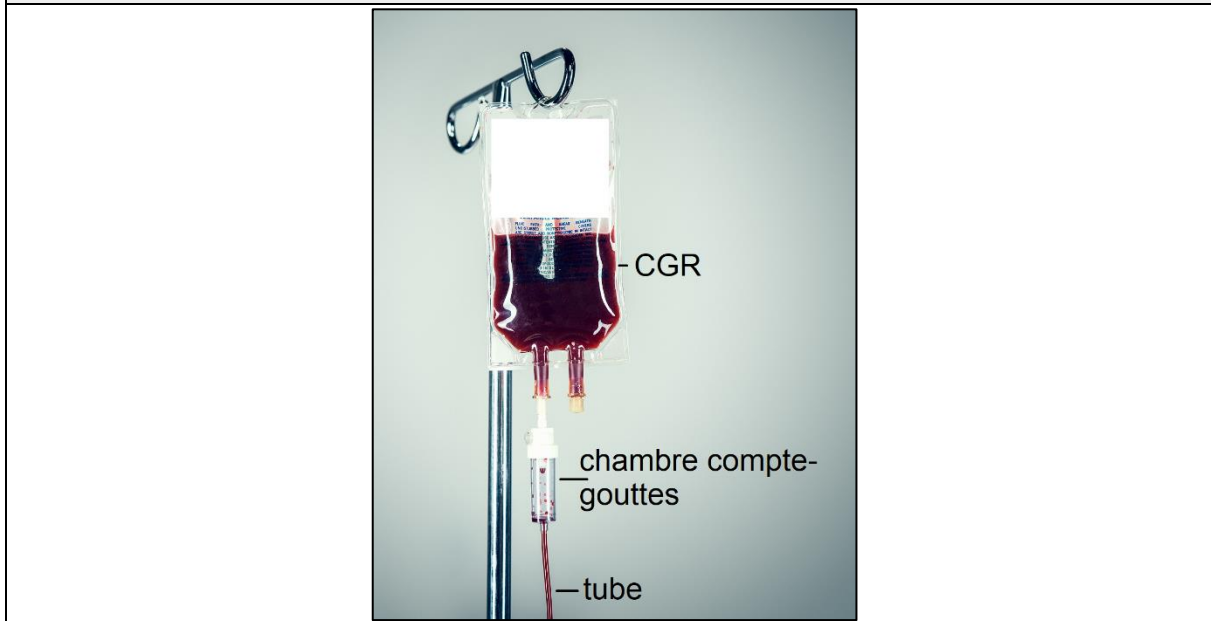
(Les numéros figurent sur la convocation.)

Né(e) le :  /  /

 Liberté • Égalité • Fraternité  
RÉPUBLIQUE FRANÇAISE

1.1

**Document 2 : dispositif de transfusion sanguine**



1. Calculer la valeur du volume  $V_1$  de concentré de globules rouges reçu par le patient durant les quinze premières minutes de la transfusion.
2. En déduire la valeur du volume  $V_2$  de concentré de globules rouges qu'il reste à transfuser au-delà du premier quart d'heure.
3. En expliquant le raisonnement, déterminer la durée totale minimale de la transfusion.
4. Déterminer le volume d'une goutte délivrée par le compte-gouttes en tenant compte de l'incertitude de  $\pm 10\%$ .
5. Après le premier quart d'heure de transfusion, l'infirmière qui effectue la transfusion règle le débit du compte-gouttes à 40 gouttes par minute. En argumentant à l'aide d'un calcul, montrer que le protocole de la transfusion est respecté.

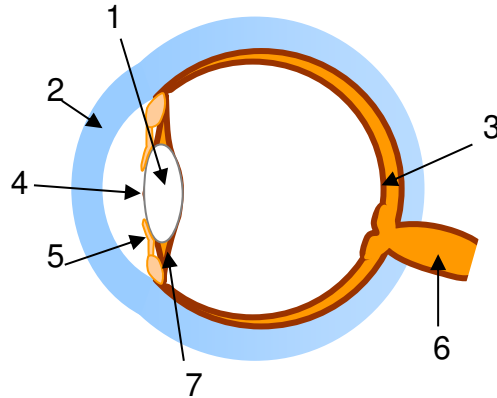
**Exercice 4 : L'œil et sa modélisation (5 points)**

Un élève de première recherche des informations concernant le fonctionnement de l'œil. Il trouve les documents 1, 2 et 3 suivants.



**Document 1 : Anatomie et fonctionnement de l'œil**

L'œil a une forme de globe. Sa membrane externe, la sclérotique devient transparente et bombée sur le devant pour former la **cornée**.  
 Le **cristallin** est un milieu transparent dont la forme se modifie sous l'action des **muscles ciliaires**.  
 En fonction de la quantité de lumière qui pénètre dans l'œil, l'**iris** se déforme et modifie ainsi le diamètre de la **pupille**.  
 L'image de l'objet observé se forme sur un écran qui tapisse le fond de l'œil : c'est la **rétine**.  
 Le **nerf optique** transmet l'information reçue par l'œil au cerveau.



Œil en coupe

**Document 2 : Le banc optique**

Le banc optique est un dispositif permettant de modéliser la formation d'une image dans l'œil.  
 La mise au point consiste à avoir une image nette sur l'écran.

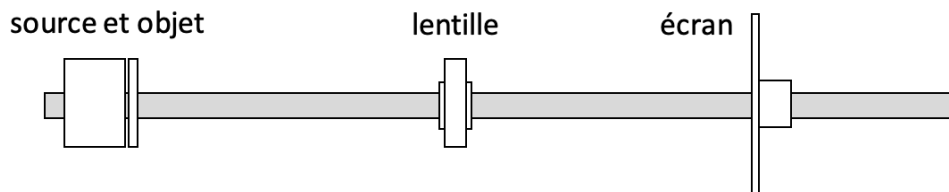
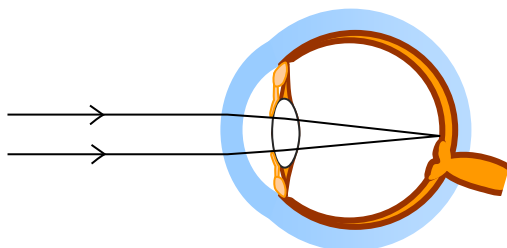


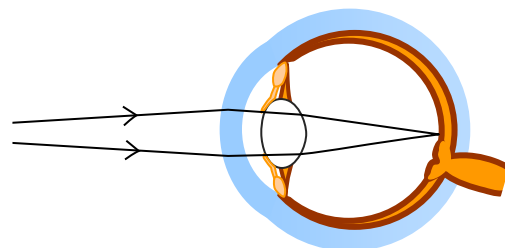
Schéma du banc optique vu de dessus.

**Document 3 : La « mise au point » de l'œil**

Vue de loin



Vue de près



Modèle CCYC : ©DNE

Nom de famille (naissance) :

(Suivi s'il y a lieu, du nom d'usage)

Prénom(s) :

N° candidat :  N° d'inscription :

(Les numéros figurent sur la convocation.)

Né(e) le :  /  /



1.1

Le texte du **document 1** comporte certains mots écrits en gras, en lien avec l'image de la « coupe de l'œil » sur le côté droit du même document.

1. Associer ces mots aux numéros qui figure sur l'image de la « coupe de l'œil ».

Le **document 2** présente le dispositif du banc optique dans lequel la source et l'objet sont fixes.

2. Nommer la lentille utilisée pour former une image sur un écran.

3. Proposer une méthode pour effectuer une mise au point avec le banc optique.

4. Associer la lentille et l'écran du banc optique à deux éléments de l'œil réel.

Le **document 3** illustre la mise au point réalisée par l'œil lorsqu'un objet est vu de loin et de près.

5. Préciser le terme utilisé en optique qui correspond à la « mise au point » de l'œil.

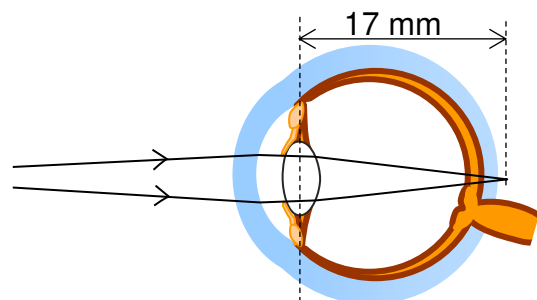
6. Rédiger en quelques lignes le principe de la mise au point faite par l'œil pour obtenir une image nette.

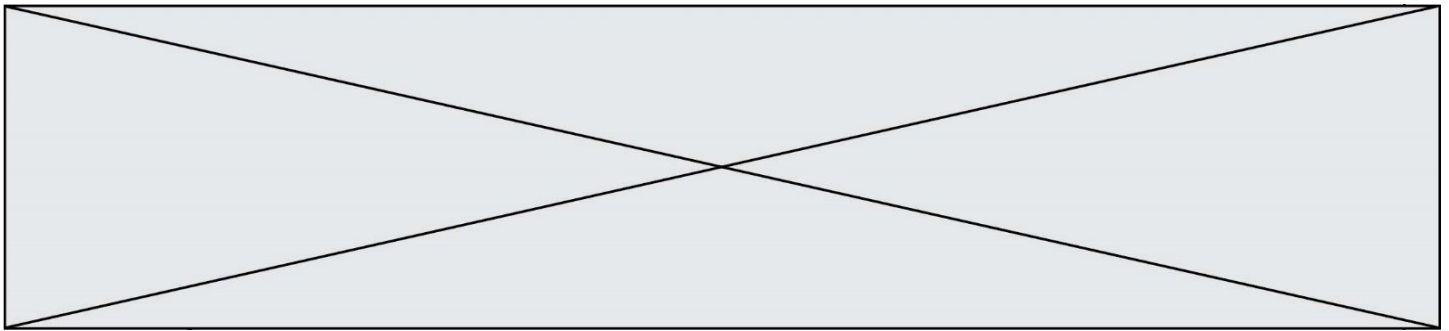
Parfois, la mise au point faite par l'œil ne se fait pas convenablement et l'image se forme derrière la rétine.

7. Citer le défaut de l'œil illustré ci-contre ainsi que le type de lentille permettant de le corriger.

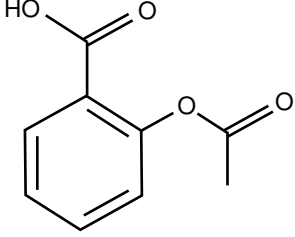
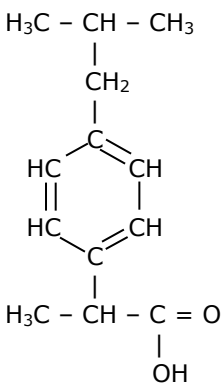
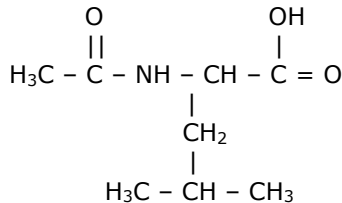
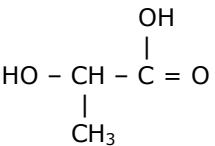
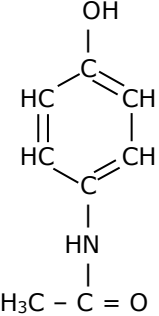
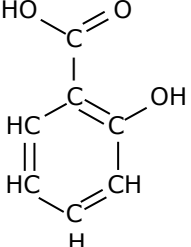
La distance focale de l'œil sans correction est estimée à une valeur de  $17\text{ mm}$ .

8. Calculer la vergence de la lentille permettant de corriger ce défaut permettant ainsi à l'œil d'avoir une vergence  $v$  égale à  $62,0\text{ } \delta$ .





**Exercice 2 : annexe à rendre avec la copie**

<p style="text-align: center;"><i>molécule 1</i></p>  <p>Nom du composé : .....</p>	<p style="text-align: center;"><i>molécule 2</i></p>  <p>Nom du composé : .....</p>	<p style="text-align: center;"><i>molécule 3</i></p>  <p>Nom du composé : .....</p>
<p style="text-align: center;"><i>molécule 4</i></p>  <p>Nom du composé : .....</p>	<p style="text-align: center;"><i>molécule 5</i></p>  <p>Nom du composé : .....</p>	<p style="text-align: center;"><i>molécule 6</i></p>  <p>Nom du composé : .....</p>