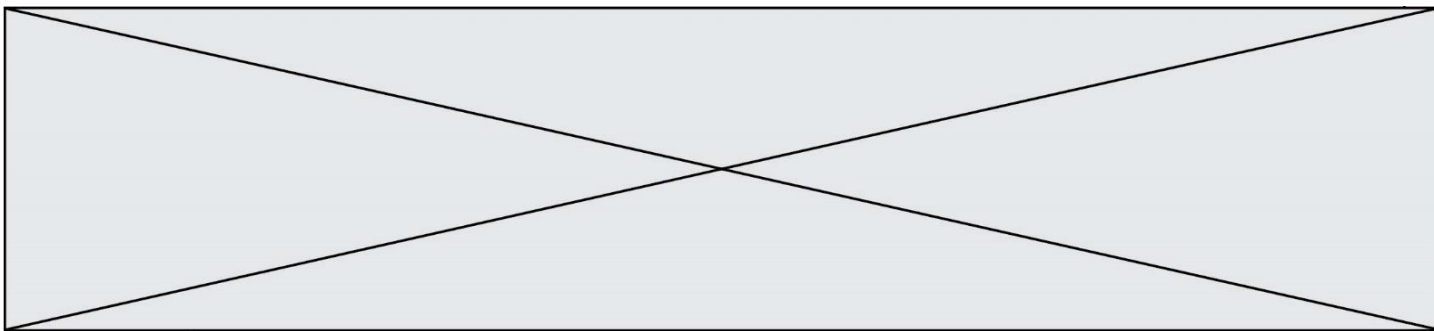


**TRAINING!**

**2021-2022**

**SPÉCIALITÉ  
ST2S**

**PREMIÈRE  
TECHNOLOGIQUE**



**Exercice 1 : Un antiseptique : l'eau oxygénée (5 points)**

L'eau oxygénée est une solution aqueuse de peroxyde d'hydrogène  $H_2O_2$ . C'est un antiseptique de la famille des oxydants, dont la concentration est exprimée dans le commerce par un titre en volume. Ainsi une solution à 10 volumes est utilisée comme antiseptique et hémostatique pour des plaies et des brûlures superficielles peu étendues. Une eau oxygénée à 40 volumes est 4 fois plus concentrée qu'une solution à 10 volumes ; elle est employée pour blanchir certains bois et traiter l'eau d'un aquarium.

Le **document 1** indique les conditions d'utilisation et de conservation d'une eau oxygénée.

**Données** : le peroxyde d'hydrogène intervient dans deux couples oxydant/réducteur.

Couple oxydant/réducteur	Demi-équation d'oxydoréduction
Peroxyde d'hydrogène / eau : $H_2O_{2(aq)} / H_2O_{(l)}$	$H_2O_{2(aq)} + 2H^+_{(aq)} + 2e^- = 2H_2O_{(l)}$
Dioxygène / peroxyde d'hydrogène : $O_{2(g)} / H_2O_{2(aq)}$	$O_{2(g)} + 2H^+_{(aq)} + 2e^- = H_2O_{2(aq)}$

**Document 1** : conditions d'utilisation et de conservation de l'eau oxygénée.

L'eau oxygénée est généralement conditionnée dans un flacon en verre ou en polyéthylène, ces flacons sont à conserver à l'abri de la lumière et de la chaleur.

Pour les médicaments à usage multiple comme l'eau oxygénée, il est primordial d'inscrire la date d'ouverture de l'emballage. Le produit fini qui est vendu en pharmacie ou parapharmacie est stable 12 mois, toutefois après une première utilisation, le liquide restant doit être utilisé dans les 30 jours qui suivent l'ouverture du flacon.



Modèle CCYC : ©DNE																				
Nom de famille (naissance) : <small>(Suivi s'il y a lieu, du nom d'usage)</small>																				
Prénom(s) :																				
N° candidat :											N° d'inscription :									
 <small>Liberté • Égalité • Fraternité RÉPUBLIQUE FRANÇAISE</small>	<small>(Les numéros figurent sur la convocation.)</small>																			
Né(e) le :			/			/														

1.1

1. En exploitant les données fournies, expliquer si le peroxyde d'hydrogène se comporte : toujours comme un oxydant, toujours comme un réducteur ou parfois comme un oxydant et parfois comme un réducteur.
2. En déduire qu'une molécule de peroxyde d'hydrogène peut réagir avec une autre molécule de peroxyde d'hydrogène.
3. En utilisant les demi-équations fournies, écrire l'équation de la réaction dite de décomposition de l'eau oxygénée.
4. Identifier le gaz libéré par cette réaction de décomposition.
5. Expliquer pourquoi l'utilisation d'une eau oxygénée à 10 volumes, dont le flacon a été ouvert pour la première fois il y a six mois, n'est pas judicieuse.

On dispose d'une eau oxygénée à 40 volumes trop concentrée pour soigner des plaies. On souhaite donc la diluer pour fabriquer un volume d'eau oxygénée à 10 volumes égal à 100,0 mL.

6. Déterminer la valeur du volume de solution mère nécessaire pour fabriquer par dilution un volume d'eau oxygénée à 10 volumes égal à 100,0 mL.
7. Décrire les étapes du protocole de dilution en choisissant le matériel nécessaire dans la liste suivante :
  - éprouvettes graduées de 5 mL, 25 mL, 50 mL et 100 mL ;
  - bécher de 50 mL ;
  - pipettes jaugées de 5,0 mL, 10,0 mL, 20,0 mL et 25,0 mL ;
  - fioles jaugées de 20,0 mL, 50,0 mL et 100,0 mL.



### Exercice : Adolescents et fast-food (5 points)

#### Document 1 : Apports nutritionnels des produits les plus consommés

Les fast-foods sont particulièrement appréciés des adolescents qui les fréquenteraient en moyenne deux fois par mois, selon une enquête publiée en 2014 par le CERIN (Centre de recherche et d'informations nutritionnelles).

Outre la nourriture que l'on y sert, rapide et peu chère, ils aiment particulièrement le fait de s'y retrouver en groupe.

Si certains s'y rendent de façon occasionnelle, d'autres font du fast-food leur cantine quotidienne, engendrant de ce fait une consommation importante de graisses et de sucres. Quel peut être l'impact sur la santé d'une fréquentation régulière du fast-food ? Dans ce cas, quels sont les conseils nutritionnels que l'on peut donner ?

Produit	Portion (g)	Apport énergétique (kcal)	Protéines (g)	Lipides (g)	Glucides (g)
Hamburger	103	262	13,1	9,2	31,5
Cheeseburger	117	305	15,6	12,9	31,8
Double hamburger	214	512	25,9	25,8	43,8
Frites (petite portion)	106	299	3,8	14,7	37,9
Nuggets de poulet	200	496	2,6	20,6	42,4
Salade César au poulet	309	349	25,7	16,4	19,2
Fruits à croquer	80	44	-	-	11
Muffin chocolat	100	347	5	19	39
Sundae caramel	178	309	8,5	15,1	34,8
Milk shake vanille	345	385	11,6	10,4	61,2
Soda au cola	150	67	-	-	16,7

Modèle CCYC : ©DNE

Nom de famille (naissance) :


(Suivi s'il y a lieu, du nom d'usage)

Prénom(s) :

N° candidat :  N° d'inscription :

(Les numéros figurent sur la convocation.)

Né(e) le :  /  /



RÉPUBLIQUE FRANÇAISE

1.1

**Document 2 : Groupes d'aliments et besoins alimentaires journaliers**

Les besoins caloriques journaliers dépendent essentiellement du sexe, de l'âge, du poids et du niveau d'activité physique. En cas d'activité physique de faible intensité, le besoin calorique à 18 ans se monte à environ 2000 kcal par jour chez la jeune femme et de 2500 kcal par jour chez le jeune homme (d'après Inpes, Institut national de prévention et d'éducation pour la santé).

Il est parfois conseillé de suivre, pour la répartition des différents nutriments, la règle du « 421 GPL ».

En faisant correspondre l'ordre des lettres, on lit « 4G », « 2P » et « 1L ». Cela correspond aux nombres de parts qu'il est conseillé de consommer : 4 portions de glucides pour 2 portions de protéines pour 1 portion de lipides (Il faut entendre « portions » comme des masses égales).

En nutrition, les aliments sont classés en 7 groupes principaux. Ce classement se fait par leurs teneurs en nutriments (protéines, lipides, glucides), minéraux (fer, calcium, magnésium...) et vitamines (liposolubles : A, D, E, K et hydrosolubles : B, C...).

En pratique, pour avoir une alimentation équilibrée, il faut puiser chaque jour une ou plusieurs fois dans ces groupes d'aliments.

Groupes d'aliments	Nutriments
Produits laitiers	Protéines, lipides et calcium, phosphore
Viandes, poissons, œufs	Protéines, lipides et fer, zinc, sélénium
Matières grasses	Acides gras et vitamines
Céréales, féculents, légumes secs	Glucides complexes, fibres et magnésium
Fruits et légumes	Vitamines, minéraux et fibres
Produits sucrés (chocolat, miel, confiture...)	Glucides simples
Boissons (eau à volonté!)	Minéraux

**Données :**

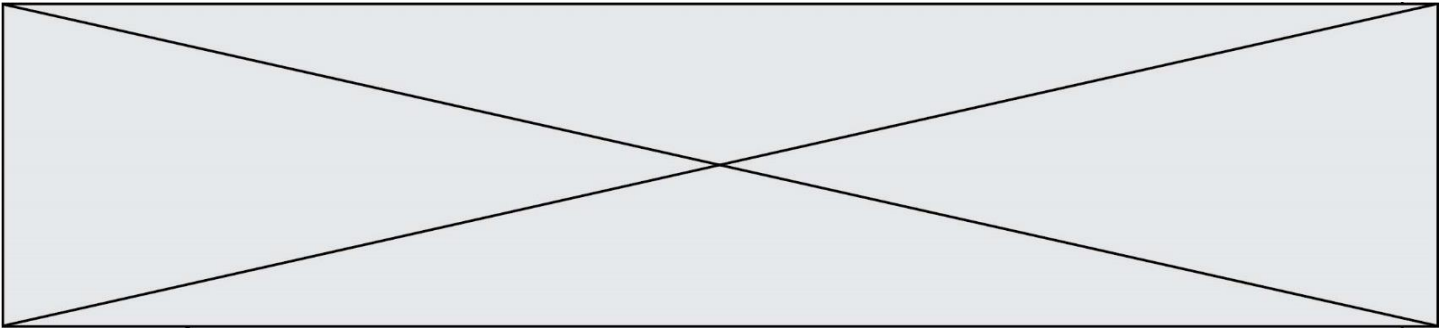
1 g de protéine apporte 4 kcal.

1 g de lipide apporte 9 kcal.

1 g de glucide apporte 4 kcal.

On souhaite vérifier l'apport énergétique d'une petite portion de frites indiqué dans le **document 1**.

1. Rappeler la définition de la calorie.



2. En utilisant les données, vérifier que l'apport énergétique d'une petite portion de frites est bien de 299 kcal.

Un jeune homme décide de se rendre au fast-food pour le dîner. Dans la journée, son alimentation lui a apporté environ 1500 kcal. Voici le menu qu'il choisit :

- un cheeseburger,
- une petite portion de frites,
- un sundae caramel,
- un soda au cola.

3. Calculer l'apport énergétique de ce repas à l'aide du **document 1**.

4. Proposer un commentaire, à l'aide des informations contenues dans le **document 2**, permettant d'envisager si ce menu convient au jeune homme pour compléter ses besoins caloriques journaliers.

5. Indiquer si ce menu vérifie la règle du « 421 GPL » décrite dans le **document 2**, à partir du calcul des masses de protéines, glucides et lipides apportées par le menu.

6. Porter un regard critique sur ce menu. Donner alors quelques conseils au jeune homme en termes de nutrition à l'appui du **document 2**.

7. Prévoir quelles peuvent être les conséquences d'une fréquentation quotidienne des fast-foods sur la santé des adolescents.

### Exercice 3 : Histoire et mécanisme de la vision (5 points)

#### Document 1 : Aperçu historique des conceptions sur la vision

Pourquoi diable dit-on « jeter un coup d'œil » ou « foudroyer du regard » ? Les bizarreries de la langue française rappellent une vieille controverse : comment fonctionne la vision ? Et quel est son « sens », de l'œil à l'objet ou de l'objet à l'œil ?

La dispute scientifique remonte à l'Antiquité. En lice : deux théories, connues sous les noms d'intromission et d'émission. La première, assignant à l'œil un rôle passif, décrivait le phénomène de la vision par un quelque chose allant de l'objet à l'œil. La seconde, octroyant à l'œil un rôle plus actif, expliquait la vision par un quelque chose allant de l'œil à l'objet.

Au III<sup>e</sup> siècle avant J.-C., Euclide géométrisa l'optique : la lumière se propage suivant des lignes droites qu'il appelle « rayons ». Pour ce mathématicien, partisan de l'émission, des rayons visuels jaillissaient de la pupille pour partir à la rencontre de l'objet.

À l'encontre de la thèse de l'émission, en revanche, s'inscrivait l'absence de vision nocturne. Un œil émetteur aurait dû être en mesure de remplir ses fonctions même dans l'obscurité.

Modèle CCYC : ©DNE

Nom de famille (naissance) :

(Suivi s'il y a lieu, du nom d'usage)

Prénom(s) :

N° candidat :  N° d'inscription :

(Les numéros figurent sur la convocation.)

Né(e) le :  /  /



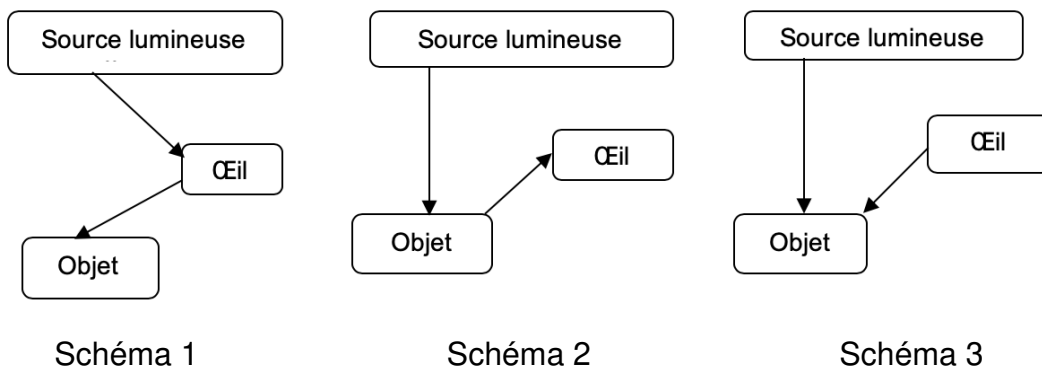
RÉPUBLIQUE FRANÇAISE

1.1

La mise en évidence du rôle de la lumière en tant qu'agent de la sensation visuelle allait émerger à la charnière du Xe et du XIe siècle, grâce au mathématicien, physicien et astronome arabe Alhazen. Ses réflexions et expériences l'amènèrent à condamner sans appel la théorie de l'émission. Il expliqua le processus de la vision par des rayons de lumière parvenant à l'œil à partir de chaque point d'un objet. Mais il commit l'erreur de suggérer que l'image se forme sur le cristallin.

D'après l'article « Quand la vue change de sens » de Marie-Christine de La Souchère, *La Recherche*, 06/2010

**Document 2** : Propositions de trajets suivis par la lumière permettant de voir un objet

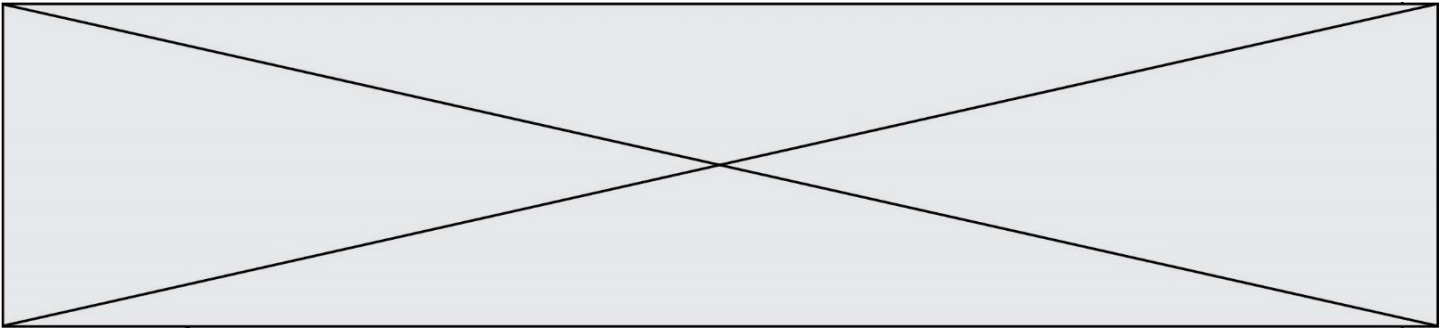


Des questionnements sur le mécanisme de la vision divisèrent les savants pendant des siècles...

Répondre aux questions 1 et 2 en utilisant le **document 1**.

1. Citer un argument qui a remis en cause la théorie de l'émission.
2. À la charnière du Xe et du XIe siècle, le savant Alhazen a apporté une explication du processus de la vision, proche de la théorie actuelle. Donner l'explication apportée par ce savant.
3. Choisir, parmi les propositions du **document 2**, celle qui correspond à la théorie actuelle sur la vision.

D'après le mathématicien Euclide, cité dans le **document 1**, la lumière se propage en ligne droite.



4. Recopier et compléter cette phrase de manière à énoncer rigoureusement le principe de propagation rectiligne de la lumière : « La lumière se propage en ligne droite dans..... »

5. Expliquer pourquoi, lors d'un mirage dans le désert, la lumière ne se propage pas en ligne droite au niveau du sol.

Le schéma fourni dans l'**annexe à rendre avec la copie**, représente, en coupe, un mur percé d'une ouverture circulaire. Pour schématiser la situation, on a indiqué par une croix la position de l'œil d'un observateur. De l'autre côté du mur, sont situés deux objets éclairés  $O_1$  et  $O_2$ .

6. Déterminer, en traçant les rayons lumineux qui permettent de justifier la réponse, l'objet pouvant être vu par l'observateur.

7. On rappelle la relation liant la vitesse de propagation  $c$  de la lumière (en  $m \cdot s^{-1}$ ), la distance parcourue  $d$  (en m) et la durée du parcours  $\Delta t$  (en s) :  $c = \frac{d}{\Delta t}$ .

Calculer la distance entre l'objet visible et l'observateur sachant que la lumière met 10 ns pour parcourir cette distance.

**Données :**

- $1ns = 10^{-9} s$
- $c = 3,00 \times 10^8 m \cdot s^{-1}$

**Exercice 4 : Détecteur de fumée (5 points)**

Selon la loi, les détecteurs de fumée, également appelés détecteurs avertisseurs autonomes de fumée (DAAF), sont obligatoires dans tous les logements d'habitation depuis le 8 mars 2015.

Chaque année, les détecteurs de fumée sauvent des vies et s'avouent être un excellent investissement. Mais un détecteur de fumée n'est efficace que s'il peut être entendu...

**Document : Détecteurs de fumée pour personnes sourdes et malentendantes**  
 Pour une personne déficiente auditive, il peut être difficile d'entendre le son émis par un détecteur d'incendie ordinaire, et c'est pour cela que des détecteurs de fumée spécialement conçus pour les personnes malentendantes ont été développés.  
 Il existe plusieurs solutions : des alarmes qui émettent des faisceaux lumineux et



Modèle CCYC : ©DNE

Nom de famille (naissance) :


(Suivi s'il y a lieu, du nom d'usage)

Prénom(s) :

N° candidat :  N° d'inscription :

(Les numéros figurent sur la convocation.)

Né(e) le :  /  /



1.1

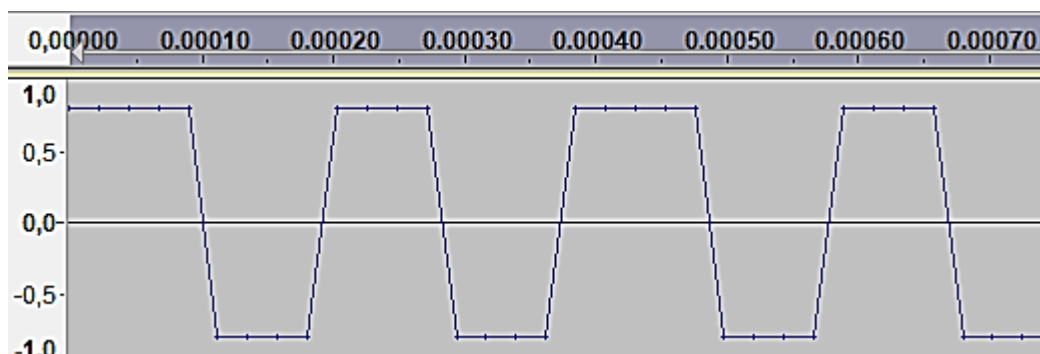
communiquent de petites vibrations à un appareil qui peut être placé sous l'oreiller ou des alarmes qui émettent des sons à basse fréquence. Les alarmes à basse fréquence émettent des sons de fréquence 520 Hz, alors que les alarmes traditionnelles émettent des sons de fréquence comprise entre 3000 et 4000 Hz.

**Quelle est l'efficacité des alarmes ?**

Une étude publiée en 2009 dans le journal Ear and Hearing (Oreille et Entendre) a démontré que certaines alarmes sont plus efficaces que d'autres lorsqu'il s'agit de réveiller les personnes déficientes auditives.

Selon l'étude, les alarmes qui envoient des faisceaux lumineux ne sont pas très efficaces. Le petit vibreur sous l'oreiller est efficace pour les personnes qui ont une perte d'acuité auditive sévère ou totale. Pour les personnes atteintes de surdit  moyenne, les alarmes   basse fr quence sont les plus efficaces. Selon l' tude, la probabilit  qu'une alarme   basse fr quence r veille une personne d ficiente auditive est sept fois plus  lev e que celle d'une alarme classique.

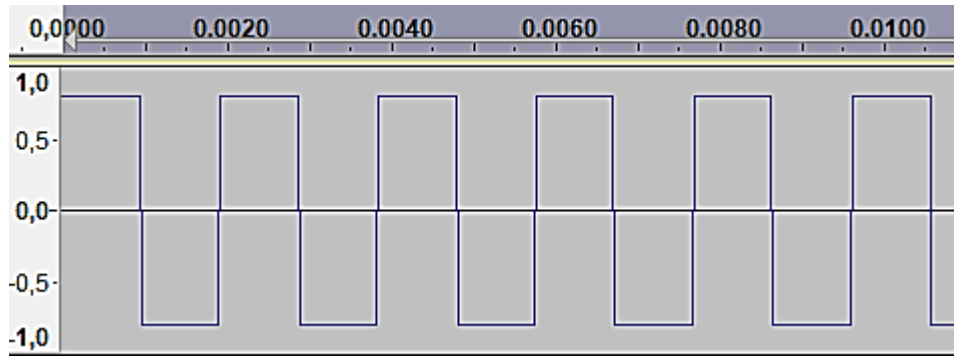
D'apr s <https://www.hear-it.org/fr/detecteurs-de-fumee-pour-personnes-sourdes-et-malentendantes>



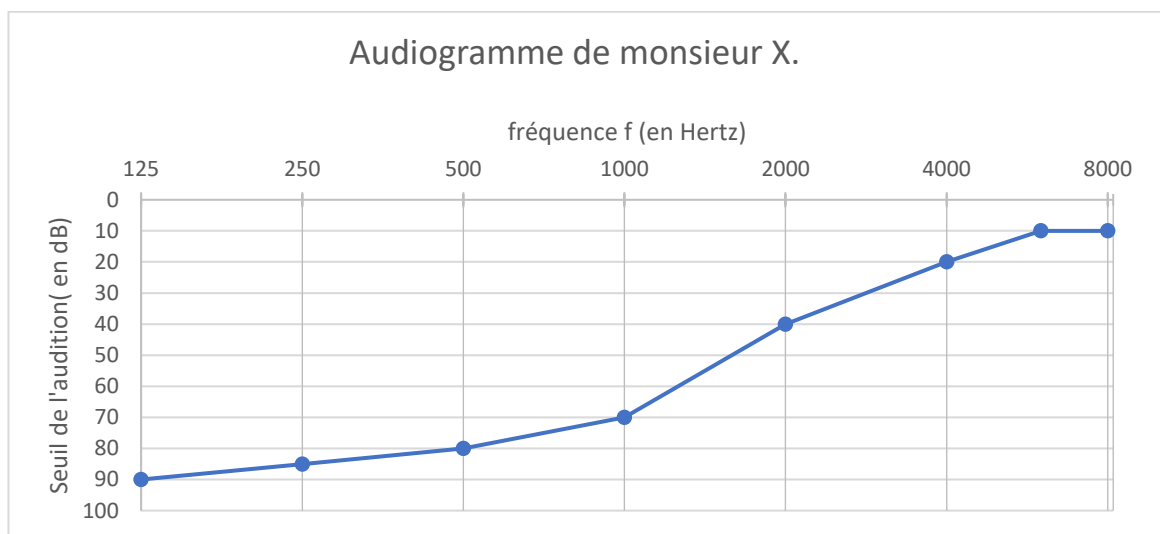
**Figure 1** : Signal sonore 1 : en abscisse, au-dessus du graphe, le temps exprim  en secondes ; en ordonn e, la tension  lectrique proportionnelle   l'intensit  sonore du signal.



**Figure 2** : Signal sonore 2 : en abscisse, au-dessus du graphe, le temps exprim  en secondes ; en ordonn e, la tension  lectrique proportionnelle   l'intensit  sonore du signal.



**Figure 3 :** Signal sonore 3 : en abscisse, au-dessus du graphe, le temps exprimé en secondes ; en ordonnée, la tension électrique qui traduit l'intensité sonore du signal.



**Figure 4 :** Audiogramme de monsieur X

**Données :**

- La période  $T$  d'un signal est l'inverse de sa fréquence  $f$ .
- $1 \text{ s} = 10^3 \text{ ms}$ .

On s'intéresse tout d'abord aux fréquences des sons émis par les détecteurs avertisseurs.

1. Indiquer le domaine des fréquences audibles par l'homme.

2. Préciser, en expliquant la réponse, si les détecteurs avertisseurs traditionnels émettent des sons plus aigus ou plus graves que les détecteurs avertisseurs basse fréquence.

Modèle CCYC : ©DNE

Nom de famille (naissance) :

(Suivi s'il y a lieu, du nom d'usage)

Prénom(s) :

N° candidat :  N° d'inscription :

(Les numéros figurent sur la convocation.)

Né(e) le :  /  /



1.1

On peut lire sur la fiche d'un détecteur avertisseur les caractéristiques suivantes :

Sirène piézo-électrique intégrée d'une puissance acoustique réglementaire de 85 dB à 3 m et d'une fréquence nominale maximale de 3,5 kHz

3. Préciser, en expliquant la réponse, si ce détecteur avertisseur correspond à un détecteur avertisseur traditionnel ou basse fréquence.

On s'intéresse maintenant au signal émis par un détecteur avertisseur basse fréquence.

4. Calculer la valeur numérique de la période du signal émis par un détecteur avertisseur basse fréquence.

Grâce à un logiciel adapté, on peut réaliser l'acquisition d'un signal sonore puis analyser ce signal.

5. Parmi les représentations proposées sur **les figures 1 à 3**, identifier le signal qui correspond au son émis par un détecteur avertisseur à basse fréquence. Expliquer la réponse.

6. Grâce à l'observation de l'audiogramme de monsieur X représenté sur la **figure 4** et en tenant compte du niveau sonore d'une alarme (85 dB), proposer un développement argumenté pour déterminer le type de détecteur avertisseur à utiliser pour monsieur X.



Modèle CCYC : ©DNE

Nom de famille (naissance) :


(Suivi s'il y a lieu, du nom d'usage)

Prénom(s) :

N° candidat :  N° d'inscription :

(Les numéros figurent sur la convocation.)

Né(e) le :  /  /



Liberté • Égalité • Fraternité  
RÉPUBLIQUE FRANÇAISE

1.1

**Exercice 3 : annexe à rendre avec la copie**



- O<sub>1</sub>
- O<sub>2</sub>

Œil ×

