

**TRAINING!**

**2021-2022**

**SPÉCIALITÉ  
ST2S**

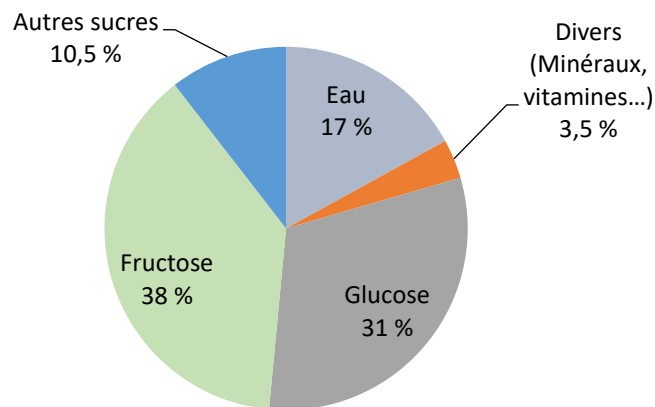
**PREMIÈRE  
TECHNOLOGIQUE**



### Exercice 1 : Le miel et la santé (5 points)

Certaines personnes adorent le miel : au cours de la journée, on peut en consommer avec les yaourts nature, les tartines, les boissons chaudes... L'Organisation Mondiale de la Santé (OMS) recommande de diminuer sa consommation journalière de sucre afin de limiter son impact sur la santé. Dans cet exercice, on souhaite savoir si une consommation importante de miel peut avoir un effet négatif sur la santé.

**Document 1** : Diagramme circulaire représentant la composition moyenne du miel en pourcentage en masse



D'après : <https://aurore.unilim.fr/theses/>

### Document 2 : Le sucre et la santé

Glucose, galactose, fructose, saccharose, lactose, maltose... sont ce qu'on appelle couramment les sucres. Compte tenu des effets sur la santé que peut provoquer une consommation excessive de sucre, l'Anses (Agence nationale de sécurité sanitaire de l'alimentation, de l'environnement et du travail) recommande de ne pas consommer plus de 100 g de sucres par jour (hors lactose et galactose) et pas plus d'une boisson sucrée. L'excès de sucre peut entraîner surpoids, obésité et maladies qui y sont associées, comme le diabète de type 2, des maladies cardiovasculaires et certains cancers.

D'après <https://www.anses.fr/fr/content/sucres>

Modèle CCYC : ©DNE

Nom de famille (naissance) :


(Suivi s'il y a lieu, du nom d'usage)

Prénom(s) :

N° candidat :  N° d'inscription :

(Les numéros figurent sur la convocation.)


Né(e) le :  /  /



RÉPUBLIQUE FRANÇAISE

1.1

**Données :** Représentations des molécules de glucose et de fructose :



Les glucides sont classifiés en deux catégories : les glucides simples et les glucides complexes.

1. Définir un glucide simple et un glucide complexe.

Lorsque les abeilles ouvrières butinent, le nectar est ramené à la ruche. Sous l'effet de l'*invertase*, une enzyme présente dans le jabot des abeilles, les sucres présents dans ce nectar sont lentement modifiés : le saccharose, de formule brute  $\text{C}_{12}\text{H}_{22}\text{O}_{11}$ , est hydrolysé en fructose et glucose. Le nectar se transforme ainsi en miel.

2. Recopier les formules semi-développées des molécules de glucose et de fructose et entourer puis nommer les fonctions chimiques présentes.

3. Déterminer les formules brutes du glucose et du fructose.

4. En déduire la relation qui existe entre les deux molécules de glucose et de fructose. Expliquer la réponse.

5. Écrire l'équation chimique de la réaction d'hydrolyse du saccharose, en utilisant les formules brutes des molécules.

On souhaite déterminer quelle quantité maximale de miel il est possible de manger afin de ne pas dépasser la dose journalière de sucre recommandée. Les réponses aux deux questions suivantes s'appuient sur les documents présentés en introduction.

6. Calculer le pourcentage total, en masse, de sucres présents dans un miel.

7. Montrer que la valeur de la masse journalière maximale de miel que l'on peut ingérer est de 126 g.



La relation qui permet de calculer la masse volumique  $\rho$  (en  $\text{g.L}^{-1}$ ) d'un corps en fonction de la masse  $m$  (en g) et du volume  $V$  (en L) d'un échantillon de ce corps est :

$$\rho = \frac{m}{V}$$

8. Sachant que le miel possède une masse volumique de  $1410 \text{ g.L}^{-1}$ , déterminer le volume maximal de miel que l'on peut consommer.
9. Sachant qu'une cuillère à café correspond à un volume de  $5,0 \text{ mL}$ , déterminer le nombre de cuillères à café de miel que l'on peut consommer par jour pour respecter les consignes de l'Anses. Commenter ce résultat.

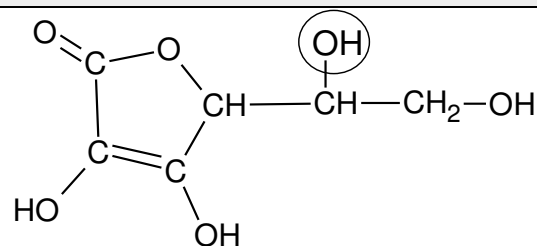
### Exercice 2 : Les propriétés acides de la vitamine C (5 points)

« Que ton aliment soit ton médicament » était l'un des principes essentiels de la médecine d'Hippocrate (460 av JC).

Connue pour ses vertus énergisantes, la vitamine C, ou acide ascorbique, possède de nombreuses propriétés. Elle est indispensable au bon fonctionnement de l'organisme dont elle renforce les défenses immunitaires.

L'acide ascorbique doit son nom à la maladie qu'il prévient : le [scorbut](#), une affection autrefois fréquente chez les marins, qui n'avaient pas accès aux végétaux frais au cours de leurs longues expéditions.

#### Document 1 : Formule semi-développée de l'acide ascorbique



1. Donner le nom de la fonction entourée dans la formule semi-développée de l'acide ascorbique représentée dans le **document 1**.
2. Citer l'autre fonction présente dans la molécule d'acide ascorbique représentée dans le **document 1**.

Modèle CCYC : ©DNE

Nom de famille (naissance) :

(Suivi s'il y a lieu, du nom d'usage)

Prénom(s) :

N° candidat :  N° d'inscription :

(Les numéros figurent sur la convocation.)

Né(e) le :  /  /

Liberté • Égalité • Fraternité  
RÉPUBLIQUE FRANÇAISE

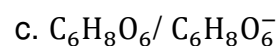
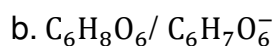
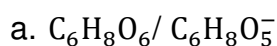
1.1

3. Ecrire la formule brute de l'acide ascorbique à partir des informations contenues dans le **document 1**.

L'acide ascorbique et l'ion ascorbate constituent un couple acide-base noté AH / A<sup>-</sup>.

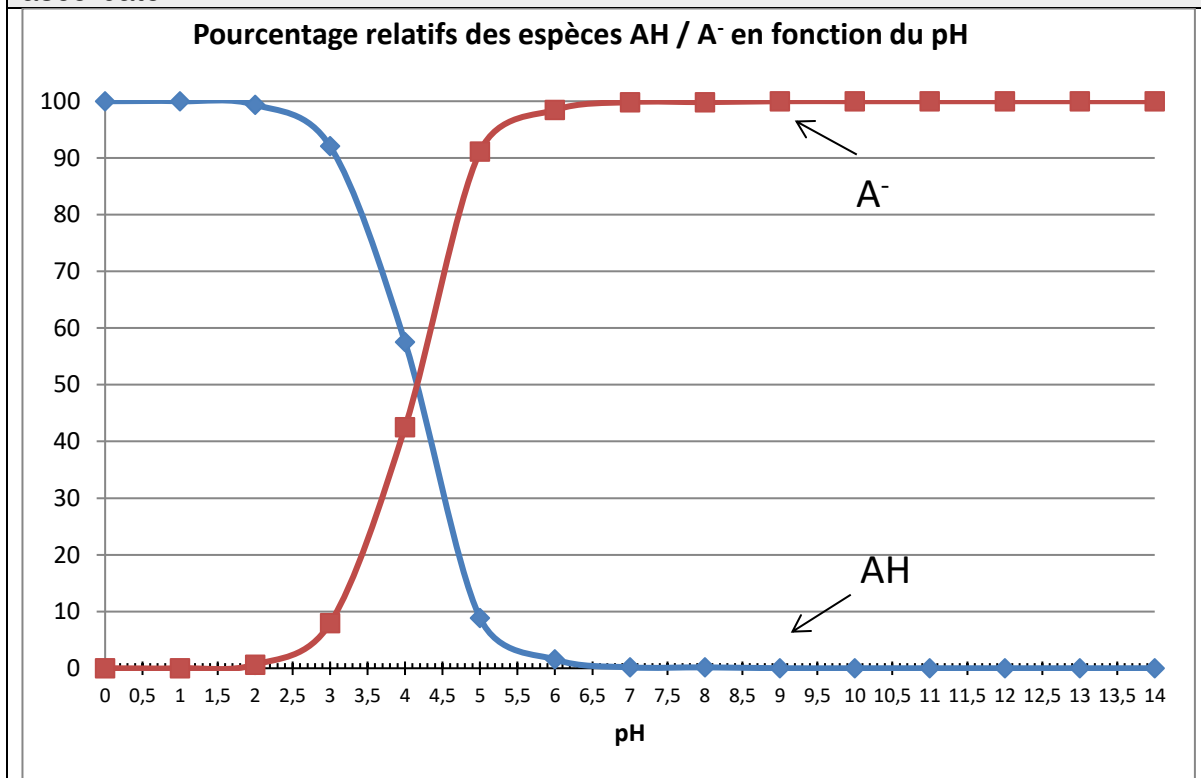
4. Donner la définition d'un acide selon Brønsted.

5. Parmi les propositions a, b, et c, ci-dessous, choisir le couple acide/base correspondant à l'acide ascorbique et l'ion ascorbate.



Le diagramme de distribution de l'acide ascorbique et de l'ion ascorbate donne les pourcentages relatifs des deux espèces en milieu aqueux en fonction du pH.

**Document 2** : diagramme de distribution de l'acide ascorbique et de l'ion ascorbate.


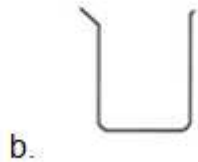
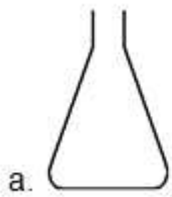


6. A l'aide du **document 2**, et en explicitant la démarche, donner la forme prédominante de la vitamine C dans l'estomac sachant que le pH de l'estomac est de 1,5.



En cas d'apport insuffisant en vitamine C, il existe des compléments alimentaires sous forme de comprimés. On souhaite préparer une solution aqueuse de volume  $V$  égal à 100,0 mL par dissolution d'un comprimé préalablement broyé.

7. Choisir et nommer parmi le matériel ci-dessous, la verrerie nécessaire à la préparation de cette solution.



On mesure le pH de cette solution. On obtient une valeur de  $pH$  égale à 4,1.

8. En exploitant le **document 2**, déterminer les pourcentages relatifs approximatifs de l'acide ascorbique et de l'ion ascorbate dans la solution.

### Exercice 3 : les risques encourus par l'usage d'un appareil électrique défectueux (5 points)

L'électricien des services techniques de l'hôpital est en intervention dans une pièce du sous-sol. Afin d'éclairer les lieux, il tient dans une main une baladeuse c'est-à-dire une lampe électrique portative puis il saisit avec l'autre main la porte d'un autoclave dédié à la stérilisation du matériel médical. Dès qu'il touche cette porte, il est très rapidement projeté en arrière et perd connaissance. Le disjoncteur coupe alors le circuit électrique au bout de 200 ms.

Un médecin réanime la victime après avoir débranché la baladeuse et écarté la main crispée de l'électricien de cette dernière. L'enquête permet d'établir que cette lampe baladeuse n'est pas conforme aux normes électriques NF C15-100. L'isolation des conducteurs d'alimentation de cette dernière est détériorée au niveau de leur entrée dans le manche de la lampe.

L'objectif de cet exercice est de comprendre les constatations du médecin ayant secouru l'électricien.

Modèle CCYC : ©DNE

Nom de famille (naissance) :


(Suivi s'il y a lieu, du nom d'usage)

Prénom(s) :

N° candidat :  N° d'inscription :

(Les numéros figurent sur la convocation.)

Né(e) le :  /  /



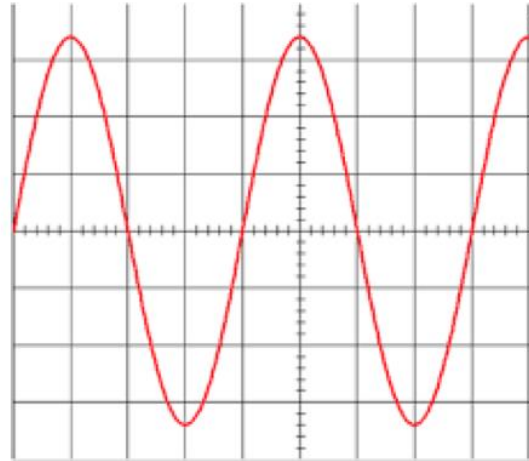
Liberté • Égalité • Fraternité  
RÉPUBLIQUE FRANÇAISE

1.1

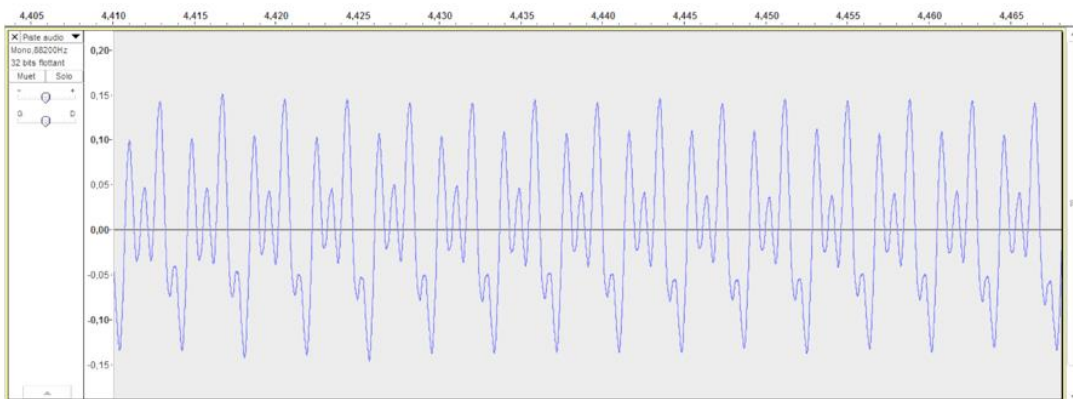
**Document 1 : Enregistrements de signaux de la vie quotidienne**



1 : Enregistrement d'un électrocardiogramme



2 : Oscillogramme d'un signal inconnu



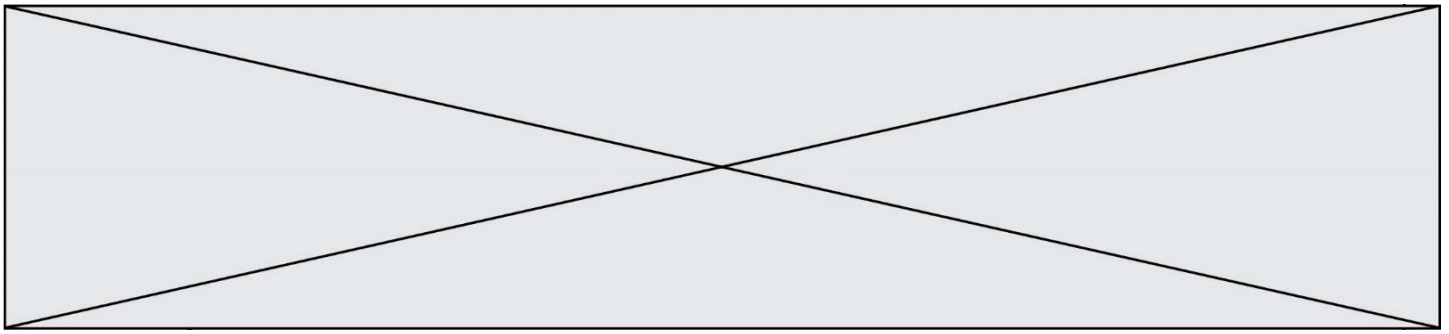
3 : Enregistrement de la note Do3 d'un orgue

Réglages réalisés sur l'oscilloscope de la figure 2 :

- sensibilité verticale : 100 V / div
- base de temps : 5 ms / div

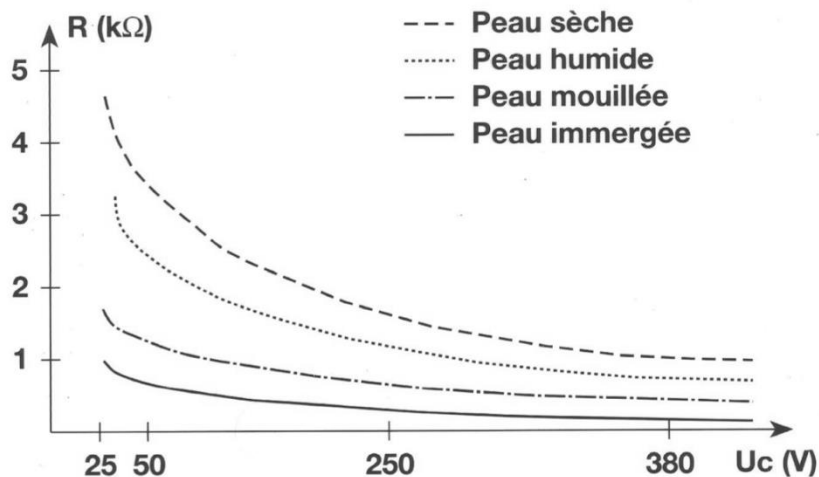
**Document 2 : La résistance du corps humain en fonction de la tension de contact  $U_c$  et de l'état de la peau (d'après <http://www.ac-poitiers.fr>)**

Le corps humain, est conducteur du courant électrique. Si une personne est soumise à une tension électrique, par exemple entre sa main droite et sa main gauche, ou entre sa main et le sol, un courant électrique va traverser son corps. La résistance électrique du corps humain varie et dépend de plusieurs paramètres : type de courant, intensité du courant, durée du passage du courant, état de la peau (sèche, humide, mouillée), nature du sol, capacité d'isolation des chaussures portées, etc. On peut considérer que la résistance moyenne du corps humain est de l'ordre de 2 k $\Omega$ . Le graphique suivant indique les variations de la résistance du



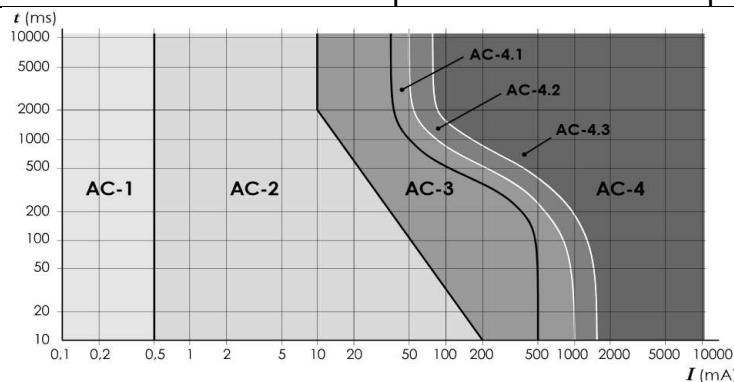
corps humain en fonction de la tension de contact et de l'état de la peau.

## RÉSISTANCE DU CORPS HUMAIN



### Document 3 : Effets physiologiques du courant sur le corps humain

Les données ci-dessous explicitent les effets physiologiques du courant alternatif en fonction de l'intensité du courant électrique et de la durée d'exposition



Zone	Principaux effets physiologiques constatés
AC-1	Aucune réaction
AC-2	Sensations désagréables mais pas d'effets physiologiques dangereux
AC-3	Tétanisation musculaire avec risque de paralysie respiratoire mais sans fibrillation ventriculaire
AC-4	Fibrillation ventriculaire, possibilités d'arrêt respiratoire, d'arrêt cardiaque, de brûlures graves, etc



Modèle CCYC : ©DNE

Nom de famille (naissance) :


(Suivi s'il y a lieu, du nom d'usage)

Prénom(s) :

N° candidat :  N° d'inscription :

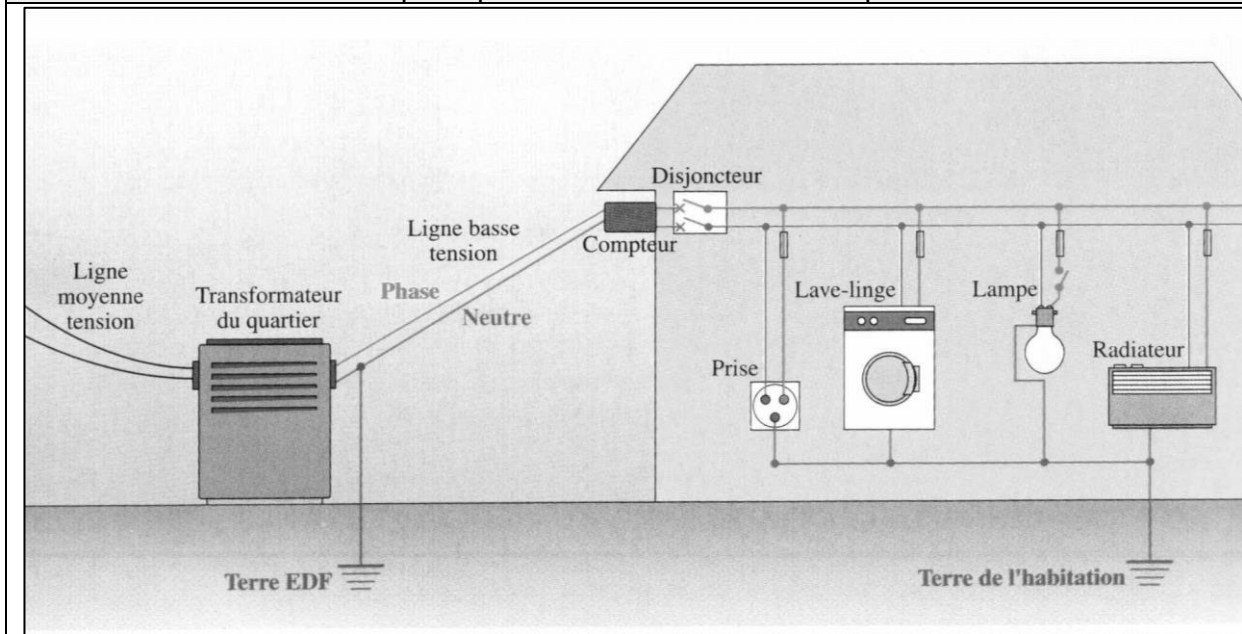
(Les numéros figurent sur la convocation.)

Né(e) le :  /  /

 Liberté • Égalité • Fraternité  
RÉPUBLIQUE FRANÇAISE

1.1

**Document 4 : Schéma de principe d'une installation électrique**



**Donnée :**

Loi d'Ohm reliant la tension  $U$  exprimée en volt (V) aux bornes d'un dipôle, l'intensité  $I$  exprimée en ampère (A) du courant qui le traverse et la résistance  $R$  exprimée en ohm ( $\Omega$ ) du dipôle étudié :  $U = R \times I$ .

1. Citer une propriété commune aux trois signaux représentés sur le **document 1**, relativement à l'allure de ces signaux.

2. Expliciter les calculs de la fréquence et de la tension efficace du signal inconnu à partir de son oscillogramme figurant dans le **document 1**, et conclure qu'il peut s'agir de l'oscillogramme de la tension du secteur.

Le risque électrique est lié à la résistance du corps humain qui peut varier en fonction de l'individu et de l'état de la peau. Lors de son accident, l'électricien se trouvait dans un local parfaitement sec et sa peau était sèche lorsqu'il est entré en contact avec la phase du secteur.

3. Évaluer, en exploitant le **document 2**, la valeur approchée de l'intensité du courant (exprimée en milliampère) ayant traversé le corps de l'électricien.

4. À l'aide de l'étude précédente et du **document 3**, déduire la nature des constatations effectuées par le médecin lors de l'accident de l'électricien.

5. Citer deux règles de sécurité, dans la vie quotidienne à la maison, à respecter afin d'éviter les risques d'électrisation.

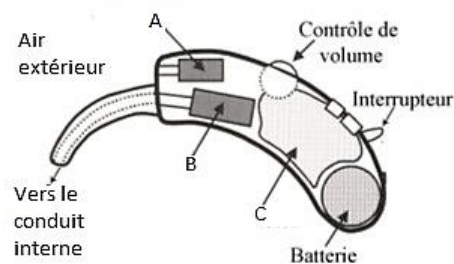


6. Identifier, sur le schéma de l'installation électrique figurée sur le **document 4**, les éléments utilisés afin de protéger les usagers du réseau électrique.

**Exercice 4 : L'appareillage auditif (5 points)**

À la fois puissantes et discrètes, les prothèses auditives sont aujourd'hui efficaces et faciles d'utilisation. Elles ont évolué au même rythme que les avancées technologiques. De l'appareil d'entrée de gamme à des modèles plus sophistiqués, les prothèses auditives actuelles ont une excellente qualité de restitution sonore.

**Document 1 : Schéma simplifié d'une prothèse auditive**







4. Indiquer le nom de l'unité dont le symbole est dB.
5. Calculer la période temporelle d'un son dont la fréquence est égale à 440Hz.
6. Déterminer graphiquement, en expliquant la démarche, le gain de la prothèse pour le son dont la fréquence est égale à 440 Hz.
7. Déterminer graphiquement, en expliquant la démarche, la fréquence pour laquelle la prothèse auditive est la plus efficace.