


TRAINING!

2021-2022

**PHYSIQUE
CHIMIE**

**PREMIÈRE
SPÉCIALITÉ**

| | | | | | | | | | | | | | | | | | | | | | |
|--|--|--|---|--|--|---|--|--|--|--|--------------------|--|--|--|--|--|--|--|--|--|--|
| Modèle CCYC : ©DNE | | | | | | | | | | | | | | | | | | | | | |
| Nom de famille (naissance) : <small>(Suivi s'il y a lieu, du nom d'usage)</small> | | | | | | | | | | | | | | | | | | | | | |
| Prénom(s) : | | | | | | | | | | | | | | | | | | | | | |
| N° candidat : | | | | | | | | | | | N° d'inscription : | | | | | | | | | | |
| <small>(Les numéros figurent sur la convocation.)</small> | | | | | | | | | | | | | | | | | | | | | |
| Né(e) le : | | | / | | | / | | | | | | | | | | | | | | | |

 Liberté • Égalité • Fraternité
RÉPUBLIQUE FRANÇAISE

1.1

ÉPREUVES COMMUNES DE CONTRÔLE CONTINU

CLASSE : Première

E3C : E3C1 E3C2 E3C3

VOIE : Générale Technologique Toutes voies (LV)

ENSEIGNEMENT : physique-chimie

DURÉE DE L'ÉPREUVE : 2 h

CALCULATRICE AUTORISÉE : Oui Non

Ce sujet contient des parties à rendre par le candidat avec sa copie. De ce fait, il ne peut être dupliqué et doit être imprimé pour chaque candidat afin d'assurer ensuite sa bonne numérisation.

Nombre total de pages : 8

PARTIE A

Un ballon pour les compétitions internationales de football (10 points)

La loi 2 de l'International Football Association Board a fixé les caractéristiques d'un ballon utilisé pour les compétitions internationales : le ballon doit être sphérique, en cuir ou dans une autre matière adéquate, avoir un diamètre de 22 cm et la pression de l'air dans le ballon doit être comprise entre $1,6 \times 10^5$ Pa et $2,1 \times 10^5$ Pa.

D'après <http://www.theifab.com/fr/laws/chapter/22/section/31/>


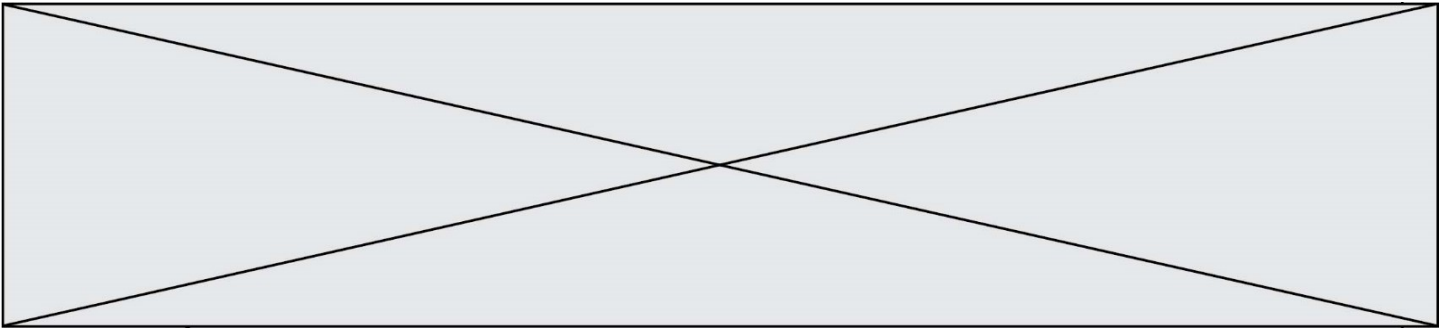
L'objectif de cet exercice est d'étudier le gonflage d'un ballon et son utilisation dans des lieux de compétitions d'altitude différente. Nous nous intéresserons ainsi à deux lois liées à cette situation : la loi de Mariotte, qui permet d'étudier le gonflage et la loi de statique des fluides qui permet de réfléchir à l'influence de l'altitude sur le gonflage.

1. Étude expérimentale et utilisation de la loi de Mariotte.

Une expérience est menée au laboratoire pour tester la loi de Mariotte à l'aide d'un microcontrôleur et d'un capteur de pression.

On suit le protocole expérimental suivant :

- ① remplir initialement une seringue avec 30 cm^3 d'air ;
- ② relier la seringue au capteur de pression connecté à un microcontrôleur ;
- ③ téléverser le programme « Mesure Pression » présenté ci-dessous dans le microcontrôleur ;
- ④ faire varier le volume du gaz dans la seringue et noter alors la valeur de la pression correspondante affichée sur l'écran LCD relié au microcontrôleur.



1.1. Adaptation du programme « Mesure Pression »

Un extrait du programme associé au pilotage du microcontrôleur dans le montage expérimental précédent est donné ci-dessous.

```

28 //Lisez la tension sur la broche analogique A9 puis calculer
29 //la pression en tenant compte des caractéristiques du capteur
30
31 float Pression = (analogRead(A9) * 38 / 1023 + 2.98) * 100 ;
32
33 //Paramétrage de l'écran LCD
34 lcd.clear();
35 lcd.setCursor(0, 0);
36
37 //Affichage de la pression P sur l'écran LCD
38 lcd.print("P = ");
39 lcd.print(Pression, 0);
40 lcd.print(" hPa");
41
42 //Délai d'affichage de 2 secondes entre 2 mesures
43 delay(2000);
44 }

```

1.1.1. Indiquer en quelle unité la pression mesurée par le capteur sera affichée sur l'écran.

1.1.2. Dans le programme, la valeur de la pression est affichée sans décimale. Expliquer comment modifier la ligne 39 du programme pour que la valeur de la pression soit affichée avec 2 décimales.

1.1.3. Expliquer comment modifier la ligne 43 pour que les mesures soient faites toutes les 3 secondes.

1.2. Traitement de mesures obtenues en faisant varier le volume du gaz

Pour chaque volume d'air choisi dans la seringue, le microcontrôleur indique des valeurs de pression toutes les 2 secondes. Ces valeurs sont très proches, mais fluctuent légèrement. Le tableau ci-dessous rassemble les valeurs de la pression P affichée par l'écran LCD du microcontrôleur pour différents volumes du gaz dans la seringue :

| | | | | | | |
|------------------------|------|------|-----|-----|-----|-----|
| V (cm ³) | 20 | 25 | 30 | 35 | 40 | 50 |
| P (hPa) | 1505 | 1195 | 998 | 852 | 745 | 600 |

Modèle CCYC : ©DNE

Nom de famille (naissance) :

(Suivi s'il y a lieu, du nom d'usage)

Prénom(s) :

N° candidat : N° d'inscription :

(Les numéros figurent sur la convocation.)

Né(e) le : / /



1.1

1.2.1. Énoncer la loi de Mariotte.

1.2.2. Exploiter ces mesures pour tester la loi de Mariotte. On explicitera précisément la méthode utilisée.

1.3. Gonflage d'un ballon de football

On utilise un gonfleur électronique de ballon ayant les caractéristiques suivantes :

- débit d'air à l'entrée du gonfleur : 4 litres par minute ;
- arrêt automatique quand la pression souhaitée est atteinte.



On souhaite gonfler, à l'aide de ce gonfleur, un ballon de football de compétition de diamètre égal à 22 cm pour obtenir une pression de l'air à l'intérieur du ballon de $2,1 \times 10^5$ Pa.

On admet qu'avant le gonflage le ballon est totalement dégonflé et que le volume d'air à l'intérieur est négligeable. On admet également que la température reste constante pendant le gonflage. On précise que l'air entrant dans le compresseur est à la pression atmosphérique.

1.3.1. On appelle V_0 le volume d'air à prélever dans le milieu extérieur pour le gonflage, V_1 et P_1 le volume d'air et la pression à l'intérieur du ballon une fois qu'il est gonflé.

Montrer que $V_0 = \frac{P_1 \times V_1}{P_0}$.

1.3.2. Montrer que la durée nécessaire au gonflage, à l'aide du gonfleur électronique, est voisine de 3 minutes.

➤ **Données :**

| Pression atmosphérique | Volume d'une sphère de rayon R | Unités de volume |
|------------------------------|---|---|
| $P_0 = 1,013 \times 10^5$ Pa | $V = \frac{4}{3} \times \pi \times R^3$ | 1 litre correspond à 10^3 cm ³ |

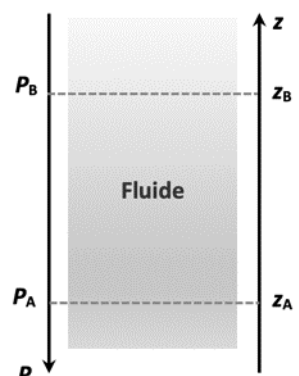
2. Utilisation du ballon dans des lieux de compétitions d'altitudes différentes.

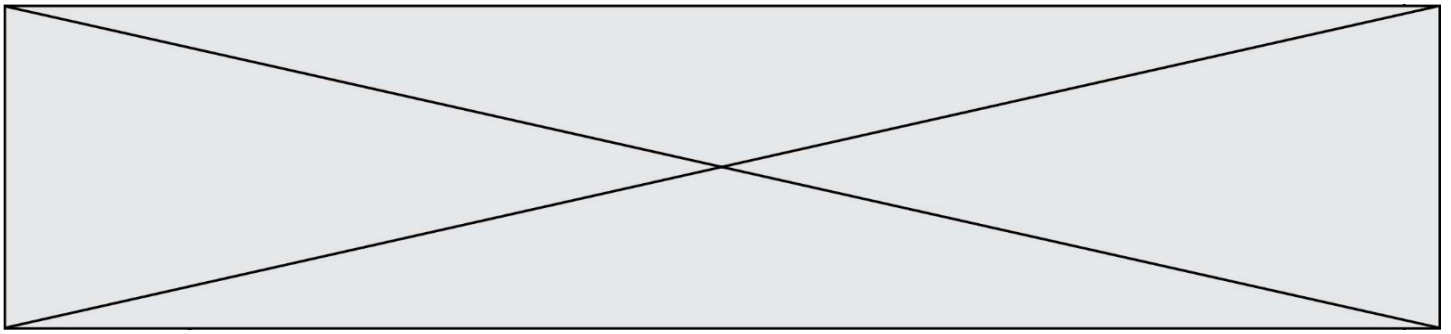
On s'intéresse dans cette partie à la loi fondamentale de la statique des fluides pour modéliser l'évolution de la pression atmosphérique en fonction de l'altitude. Cette loi précise que, pour un fluide au repos incompressible de masse volumique ρ , la différence de pression entre deux points, A et B, s'exprime par la relation :

$$P_B - P_A = \rho \times g \times (z_A - z_B)$$

Dans cette relation :

- la masse volumique ρ s'exprime en kg·m⁻³ ;

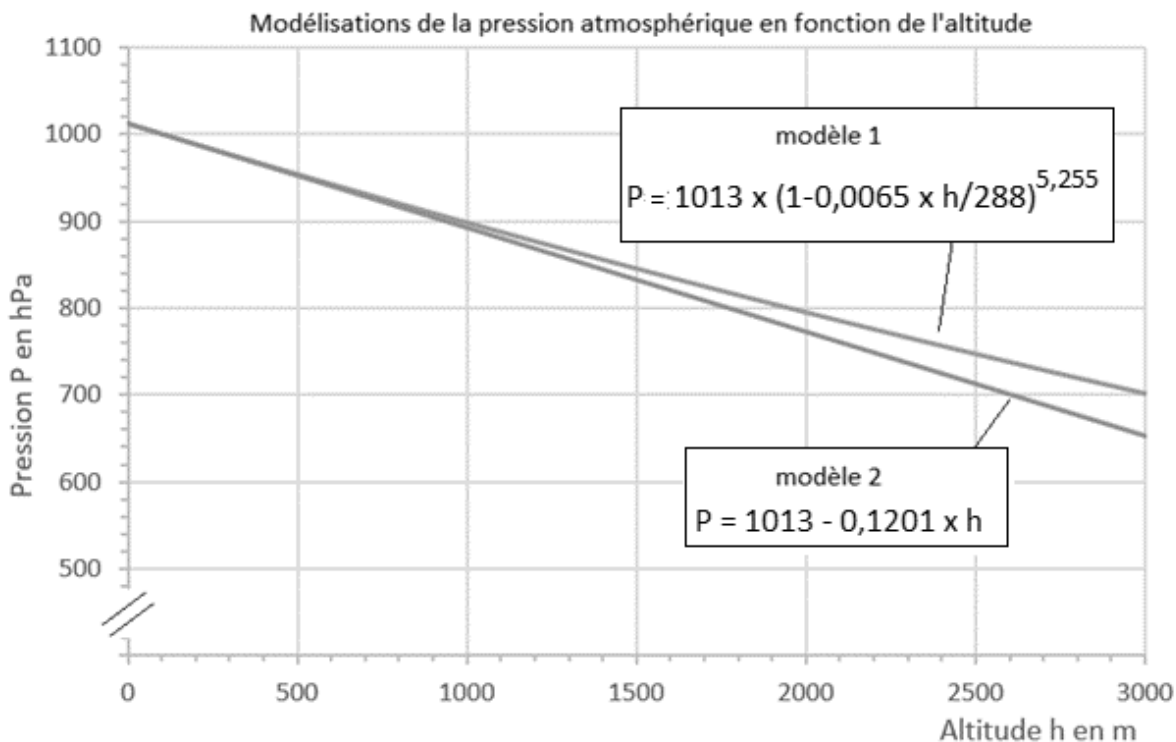




- l'intensité de pesanteur g s'exprime en $\text{N}\cdot\text{kg}^{-1}$;
- les altitudes z_A et z_B s'expriment en m et sont repérées sur un axe vertical ascendant Oz.

Les villes de Denver et de New York se sont portées candidates pour accueillir les matchs de la coupe du monde de football 2026 organisée conjointement par les États-Unis, le Canada et le Mexique.

- 2.1. Comparer qualitativement la valeur de la pression au point A à celle au point B.
- 2.2. Évaluer la différence de pression atmosphérique $P_{\text{NY}} - P_{\text{D}}$ entre les villes de New York située à 10 mètres d'altitude et de Denver située à 1600 mètres d'altitude. Pour les deux villes, on suppose que la masse volumique de l'air a pour valeur $\rho = 1,1 \text{ kg}\cdot\text{m}^{-3}$ et que l'intensité de la pesanteur a pour valeur $g = 9,8 \text{ N}\cdot\text{kg}^{-1}$.
- 2.3. Sur le site Planet-Terre de l'École Normale Supérieure de Lyon, différents modèles de l'atmosphère sont proposés.
 - **Modèle 1** : la masse volumique de l'air dépend de la pression et de la température. On suppose que la température varie selon une fonction affine décroissante de l'altitude.
 - **Modèle 2** : la masse volumique de l'air est constante, quelle que soit l'altitude.
 Les graphes correspondants à chacun des deux modèles, et représentant l'évolution de la pression atmosphérique en fonction de l'altitude, sont donnés ci-dessous (par souci d'échelle l'axe vertical n'est pas gradué à partir de l'origine).



Modèle CCYC : ©DNE

Nom de famille (naissance) :


(Suivi s'il y a lieu, du nom d'usage)

Prénom(s) :

N° candidat : N° d'inscription :

(Les numéros figurent sur la convocation.)

Né(e) le : / /



RÉPUBLIQUE FRANÇAISE

1.1

On considère que ces deux modèles sont équivalents quand les valeurs de pression qu'ils donnent diffèrent entre elles de moins de 5 %.

2.3.1. Auquel des modèles 1 ou 2 est liée la loi fondamentale de la statique des fluides ?

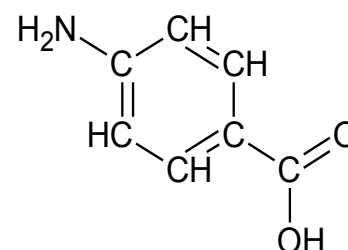
2.3.2. Au vu des graphiques ci-dessus, l'utilisation de cette loi pour répondre à la question 2.2 paraît-elle justifiée ?

PARTIE B

Protection solaire (10 points)

Le rayonnement solaire est indispensable à la synthèse de la vitamine D, essentielle pour la croissance, et il a des effets antidépresseurs, mais son caractère nocif en cas d'exposition prolongée est aussi reconnu. La *photoprotection* désigne tous les moyens de protection contre les effets néfastes du rayonnement solaire.

L'acide para-aminobenzoïque ou acide 4-aminobenzoïque, représenté ci-contre, a des propriétés de photoprotecteur. Il est nommé PABA (pour « para-aminobenzoic acid »).



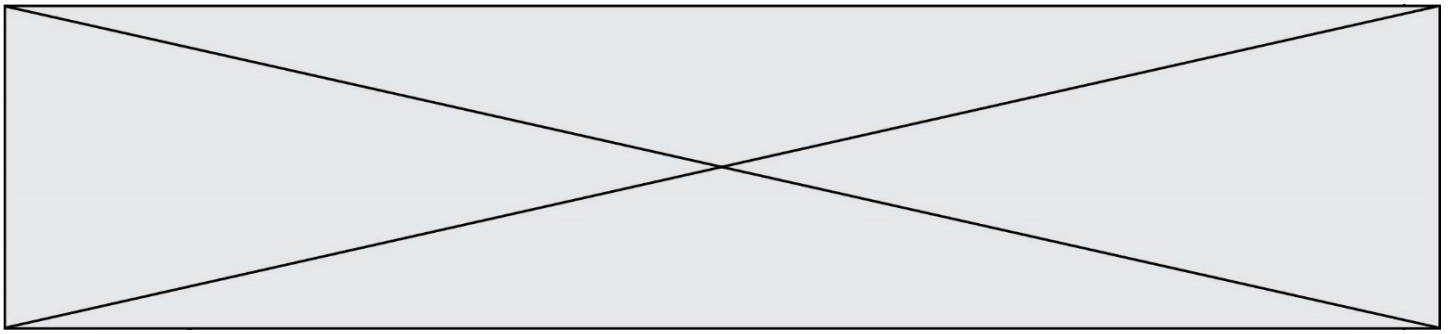
Formule semi-développée du PABA

Le rayonnement solaire qui atteint la Terre est composé de rayonnements infrarouges, de lumière visible et de rayonnements ultraviolets potentiellement nocifs, comme l'indique le tableau ci-après. Les crèmes de protection solaire qui contiennent des substances actives appelées filtres organiques agissent par absorption d'une partie des rayonnements ultraviolets. Le PABA est le plus ancien filtre organique. Utilisé dès le début des années 70 dans les crèmes solaires, il est résistant à l'eau et la transpiration. Cependant, en raison de son instabilité au soleil et de son potentiel allergisant, il a été peu à peu abandonné.

- Classification des rayonnements ultraviolets (ou UV) :

| UV | UVC | UVB | UVA |
|---|------------|--|--|
| Filtrés par la couche d'ozone | totalément | partiellement | non |
| Gamme de longueur d'onde λ (nm) | < 280 | 280 - 315 | 315 - 400 |
| Danger | | Coups de soleil Facteur principal de cancers de la peau | Vue (cataracte) Vieillessement de la peau Rôle dans l'apparition de cancers de la peau |

D'après fiches pratiques du DGCCRF et cosmeticobs.com



Dans cet exercice seront étudiés le rôle de PABA comme photoprotecteur et comme réactif pour produire une autre substance active utile pour soulager des « coups de soleil ».

Données :

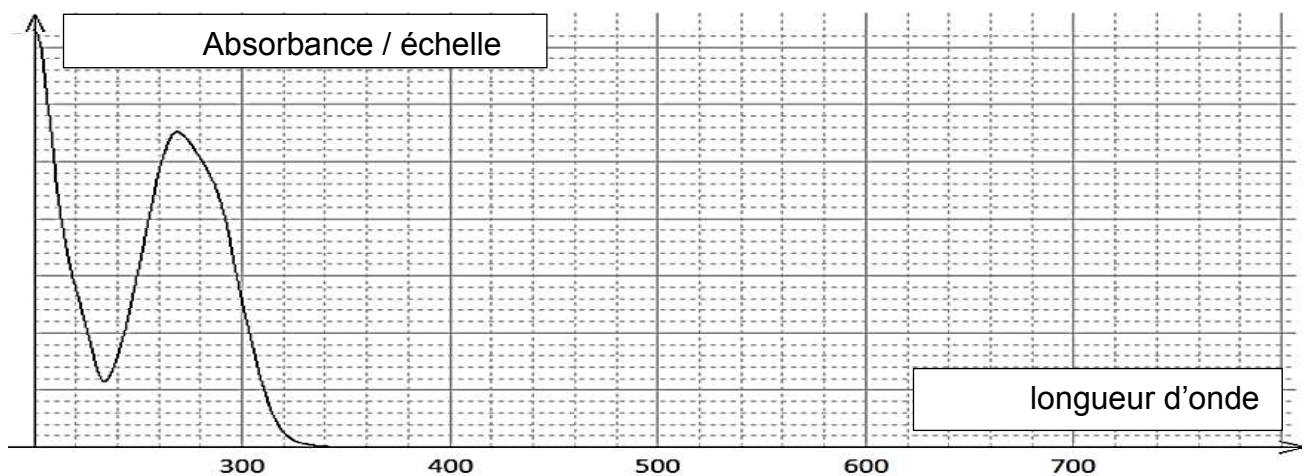
- Masse molaire moléculaire : $M_{(PABA)} = 137 \text{ g}\cdot\text{mol}^{-1}$; $M(\text{éthanol}) = 46 \text{ g}\cdot\text{mol}^{-1}$; $M(\text{benzocaïne}) = 165 \text{ g}\cdot\text{mol}^{-1}$;
- Masse volumique : $\rho(\text{éthanol}) = 0,79 \text{ g}\cdot\text{mL}^{-1}$

1. Protéger sa peau

L'acide para-aminobenzoïque est préconisé dans la prévention et le traitement de certaines maladies de la peau dues au soleil ; il est alors utilisé par voie interne, sous forme de comprimés à avaler, avant une exposition solaire, mais peut aussi être utilisé par voie externe dans une crème, pendant l'exposition.



On donne ci-dessous l'allure du spectre UV-visible du PABA en solution dans l'éthanol



D'après J. Soc. Cosmet. Chem., 1987

- 1.1. Estimer la quantité de matière de PABA contenue dans un comprimé enrobé comportant 1000 mg de substance active.
- 1.2. Indiquer si une solution de PABA dans l'éthanol est colorée. Justifier.
- 1.3. Justifier que le PABA est un filtre organique solaire.

2. Soulager sa peau

Le « coup de soleil » est une brûlure, généralement du premier degré, causée par une exposition prolongée au rayonnement solaire de la peau non protégée ; il peut être très

Modèle CCYC : ©DNE

Nom de famille (naissance) :


(Suivi s'il y a lieu, du nom d'usage)

Prénom(s) :

N° candidat : N° d'inscription :

(Les numéros figurent sur la convocation.)

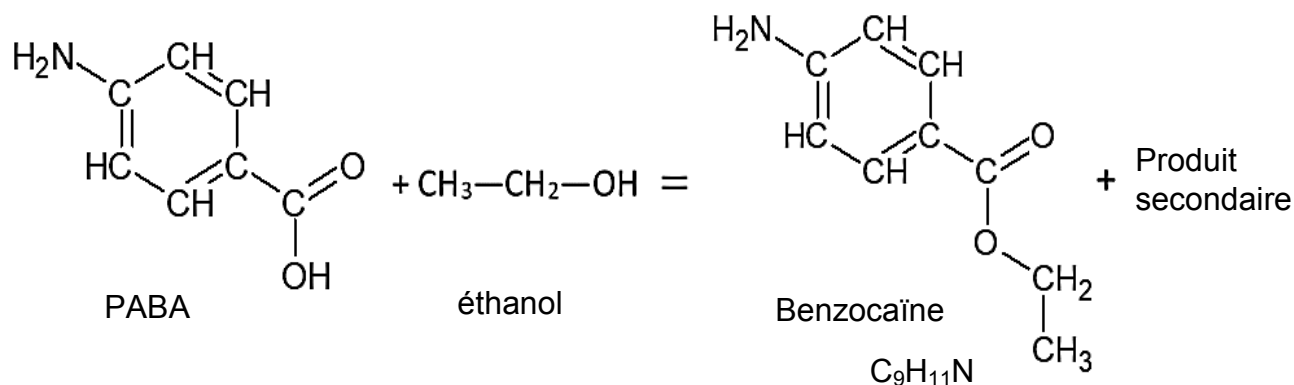
Né(e) le : / /

 Liberté • Égalité • Fraternité
RÉPUBLIQUE FRANÇAISE

1.1

douloureux. La benzocaïne est un anesthésique local pouvant être utilisé dans les médicaments soulageant les brûlures mineures.

Sa synthèse au laboratoire peut s'effectuer à partir du PABA et elle est modélisée par la réaction d'équation suivante :



Le protocole expérimental mis en œuvre est le suivant.

Dans un ballon de 100 mL introduire une masse $m_{\text{PABA}} = 1,50 \text{ g}$ (10,9 mmol) de PABA et un volume $V = 20 \text{ mL}$ d'éthanol pur. Agiter jusqu'à dissolution du solide et ajouter, avec précaution, environ 2 mL d'acide sulfurique concentré. Adapter au ballon un réfrigérant à eau et porter le mélange au reflux pendant une heure. À la fin du chauffage, laisser revenir le mélange réactionnel à température ambiante [...]

D'après Bac2006,

Bac2015 et lftlm.fr

2.1. Réaction modélisant la synthèse de la benzocaïne

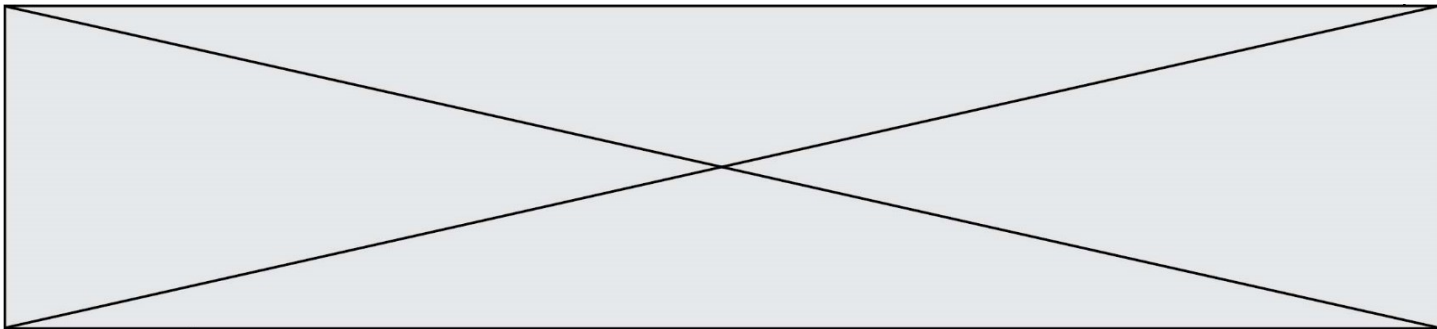
2.1.1. Justifier le nom éthanol associé au deuxième réactif.

2.1.2. Ecrire l'équation de la synthèse de la benzocaïne en utilisant les formules brutes et en déduire quel est le produit secondaire accompagnant sa formation.

2.1.3. Reproduire et compléter le tableau d'avancement suivant puis montrer que PABA est le réactif limitant.

| Équation de réaction | | + = $\text{C}_9\text{H}_{11}\text{NO}_2$ + | | | |
|----------------------|---------------------|--|--|--|---|
| | Avancement (en mol) | Quantités de matière (en mol) | | | |
| État initial | 0 | $1,09 \times 10^{-2}$ | | | 0 |
| État intermédiaire | X | | | | |

2.1.4. Déterminer la composition finale du système dans l'hypothèse d'une transformation totale.



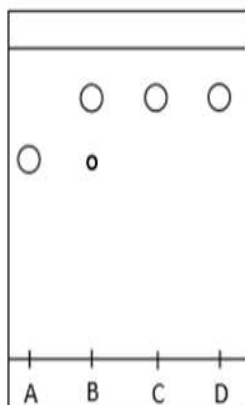
2.2. Protocole et résultats

2.2.1. Schématiser et légénder le schéma expérimental du montage à reflux de la photo ci-contre.

<http://www.ostralo.net/materieldelabo/pages/reflux.htm>



À la fin des étapes de transformation et isolement, un solide blanc qualifié de « produit brut » est obtenu. Ce solide est ensuite purifié par recristallisation, et la poudre cristallisée blanche obtenue est séchée et pesée. On obtient une masse de produit sec purifié de 0,81 g. Une chromatographie sur couche mince est effectuée et le chromatogramme obtenu après révélation est reproduit ci-après.



| Dépôt | Composé |
|-------|------------------------|
| A | PABA commercial |
| B | Produit brut |
| C | Produit recristallisé |
| D | Benzocaïne commerciale |

Mise en œuvre de la CCM :

Les échantillons à étudier sont d'abord dissous dans l'éthanol.

Ils sont déposés sur la ligne de dépôt de la plaque recouverte de gel de silice.

La plaque est placée dans une cuve de chromatographie contenant l'éluant éthanoate d'éthyle.

La plaque est séchée puis révélée sous UV.

D'après Bac2006, Bac2015 et IflIm.fr

2.2.2. Justifier que la recristallisation a été efficace.

2.2.3. Déterminer la valeur du rendement de la synthèse. Commenter et proposer plusieurs hypothèses pouvant expliquer cette valeur.