

SUJET

2020-2021

ENSGT SCIENTIFIQUE

Première Générale

ÉVALUATIONS COMMUNES

Modèle CCYC : ©DNE

Nom de famille (naissance) :


(Suivi s'il y a lieu, du nom d'usage)

Prénom(s) :

N° candidat : N° d'inscription :

(Les numéros figurent sur la convocation.)

Né(e) le : / /



1.1

ÉVALUATION COMMUNE

CLASSE : Première

EC : EC1 EC2 EC3

VOIE : Générale Technologique Toutes voies (LV)

ENSEIGNEMENT : Enseignement scientifique

DURÉE DE L'ÉPREUVE : 2h

Niveaux visés (LV) : LVA LVB

Axes de programme :

CALCULATRICE AUTORISÉE : Oui Non

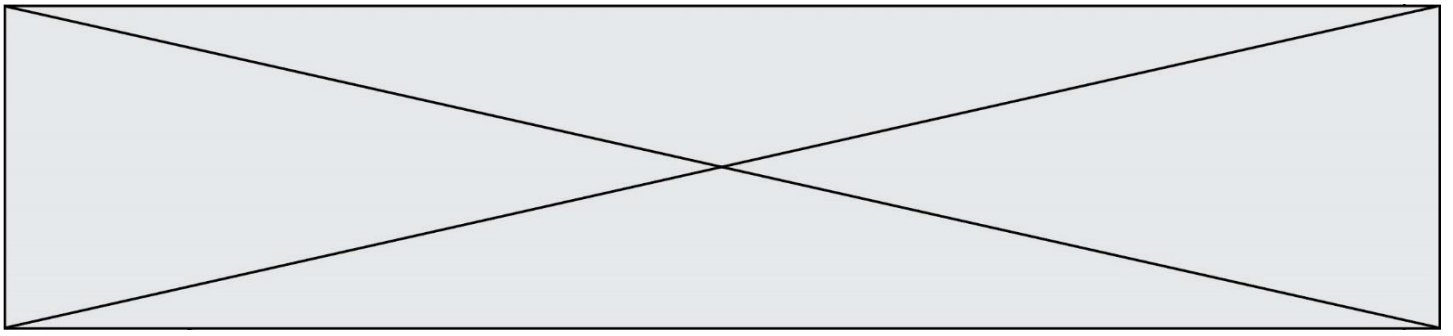
DICTIONNAIRE AUTORISÉ : Oui Non

Ce sujet contient des parties à rendre par le candidat avec sa copie. De ce fait, il ne peut être dupliqué et doit être imprimé pour chaque candidat afin d'assurer ensuite sa bonne numérisation.

Ce sujet intègre des éléments en couleur. S'il est choisi par l'équipe pédagogique, il est nécessaire que chaque élève dispose d'une impression en couleur.

Ce sujet contient des pièces jointes de type audio ou vidéo qu'il faudra télécharger et jouer le jour de l'épreuve.

Nombre total de pages : 8



EXERCICE 1

PERTE AUDITIVE APRÈS UN CONCERT

Fabrice a passé une soirée au concert donné par les élèves du lycée. Dans les semaines qui suivent, il ressent une grande fatigue et ne semble pas toujours entendre les questions qu'on lui pose. Ses parents lui reprochent d'écouter la musique trop fort. Inquiet, Fabrice passe des examens médicaux fonctionnels et anatomiques.

En utilisant les documents :

- 1- Montrer que la perte auditive moyenne de Fabrice sur les deux oreilles est comprise entre 40 et 45 dB.
- 2- Indiquer si les symptômes présentés par Fabrice correspondent à la perte auditive constatée.
- 3- Expliquer l'origine physiologique de ces troubles en mobilisant vos connaissances.

Document 1. Audiogrammes de Fabrice

Un audiogramme permet d'évaluer la perte d'audition d'une personne mesurée en décibel (dB) en fonction de la fréquence du son émis en Hertz (Hz). Il s'obtient par un test réalisé chez un médecin spécialisé.

L'objectif du test est de mesurer, pour différentes fréquences, le niveau d'intensité sonore minimal (seuil d'audition) pour que le son soit entendu par Fabrice. Les fréquences sonores testées sont comprises entre 500 et 8 000 Hz.

Légende des audiogrammes :

—◆—◆— : norme auditive moyenne

—■—■— : réponse auditive de Fabrice lors du test médical

Modèle CCYC : ©DNE

Nom de famille (naissance) :

(Suivi s'il y a lieu, du nom d'usage)

Prénom(s) :

N° candidat :

N° d'inscription :

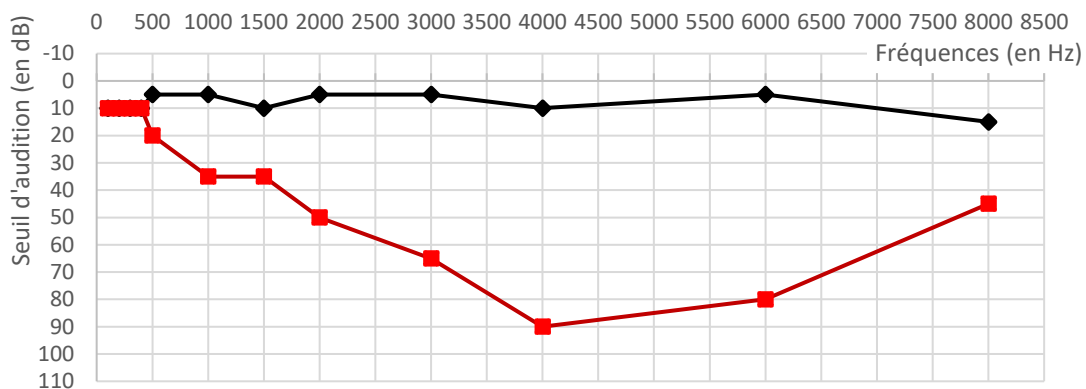


Né(e) le :

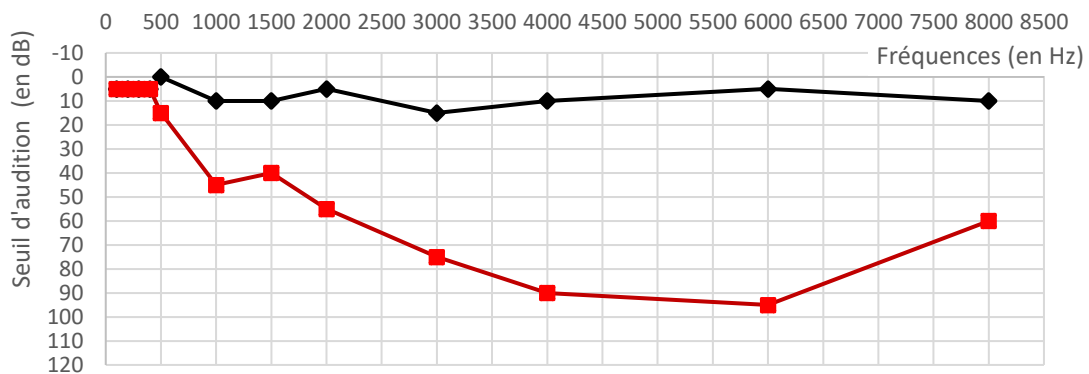
(Les numéros figurent sur la convocation.)

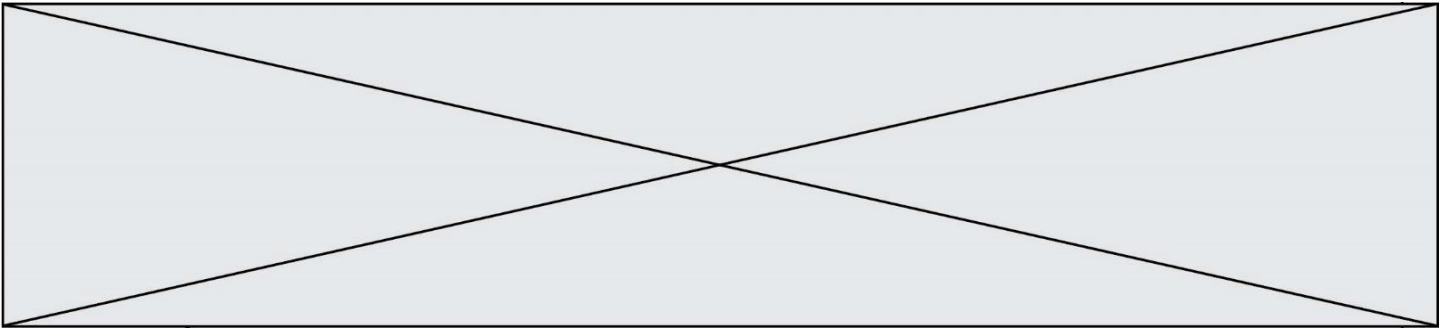
1.1

Audiogramme de l'oreille droite



Audiogramme de l'oreille gauche

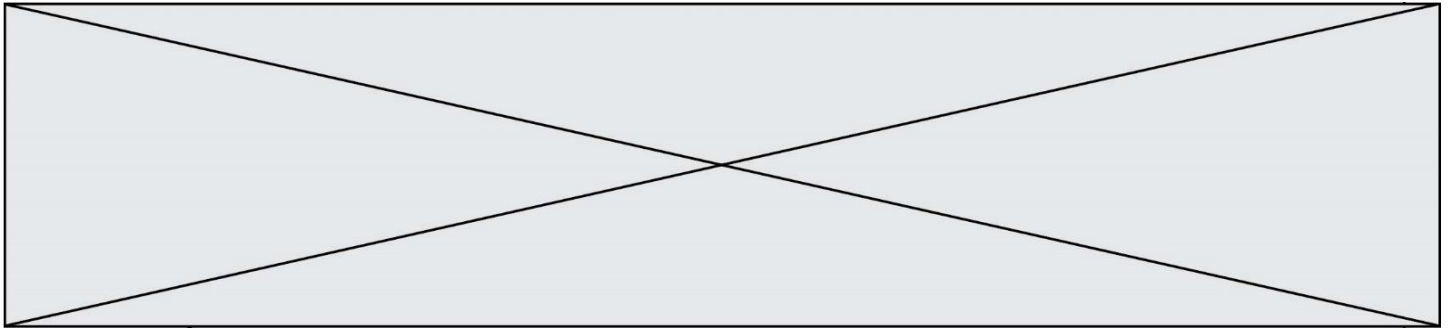




Document 2. Méthode de calcul de la perte auditive moyenne sur les deux oreilles

- Pour chacune des fréquences 500 Hz, 1000 Hz, 2000 Hz et 4000 Hz, et pour chaque oreille, on calcule la différence entre l'intensité du son audible par le patient et la norme auditive moyenne.
- On note Pmd la moyenne de ces 4 valeurs pour l'oreille droite et Pmg la moyenne de ces valeurs pour l'oreille gauche.
- La fonction Python ci-dessous permet alors de calculer la perte auditive moyenne (sur les deux oreilles) :

```
def Perte auditive moyenne  
(Pmd,Pmg) :  
    if -15 <= Pmg-Pmd <= 15 :  
        Pm = 0.5 * Pmd + 0.5 * Pmg  
    else :  
        if Pmg - Pmd > 15 :  
            Pm = 0.7 * Pmd + 0.3 * Pmg  
        else :  
            Pm = 0.3 * Pmd + 0.7 * Pmg  
    return Pm
```

EXERCICE 2

LA DATATION AU ^{14}C POUR PRÉSERVER LA BIODIVERSITÉ

L'Union Européenne a interdit le commerce de l'ivoire depuis 1989, à l'exception de celui des antiquités acquises avant 1947. Selon un rapport remis à la Commission européenne en juillet 2018, l'ivoire vendu en Europe proviendrait pourtant essentiellement de défenses d'éléphants abattus récemment. Ce rapport s'appuie sur des résultats obtenus par datation au carbone ^{14}C de l'ivoire saisi par les autorités. Les trafiquants contournent la loi en faisant passer l'ivoire récent pour de l'ivoire ancien.

- 1- Expliquer le principe d'une datation utilisant un isotope radioactif.
- 2- Parmi les propositions suivantes, indiquer sur votre copie celle qui correspond à la désintégration du carbone 14.

- a) $^{18}_8\text{O} \rightarrow ^{14}_6\text{C} + ^4_2\text{He}$
- b) $^{14}_6\text{C} \rightarrow ^{14}_7\text{N} + ^0_{-1}\text{e}$
- c) $^6_2\text{He} + ^8_4\text{Be} \rightarrow ^{14}_6\text{C}$

- 2- Le document 1 indique que la demi-vie du carbone 14 est de 5730 ans. Expliquer le terme « demi-vie ».

- 3- On considère un échantillon d'ivoire d'éléphant contenant à un instant donné 16 milliards de noyaux de carbone 14. Calculer le nombre de noyaux de carbone 14 restants au bout de :

- 3-a- 5 730 ans.
- 3-b- 11 460 ans.
- 3-c- 17190 ans.

Modèle CCYC : ©DNE

Nom de famille (naissance) :


(Suivi s'il y a lieu, du nom d'usage)

Prénom(s) :

N° candidat : N° d'inscription :

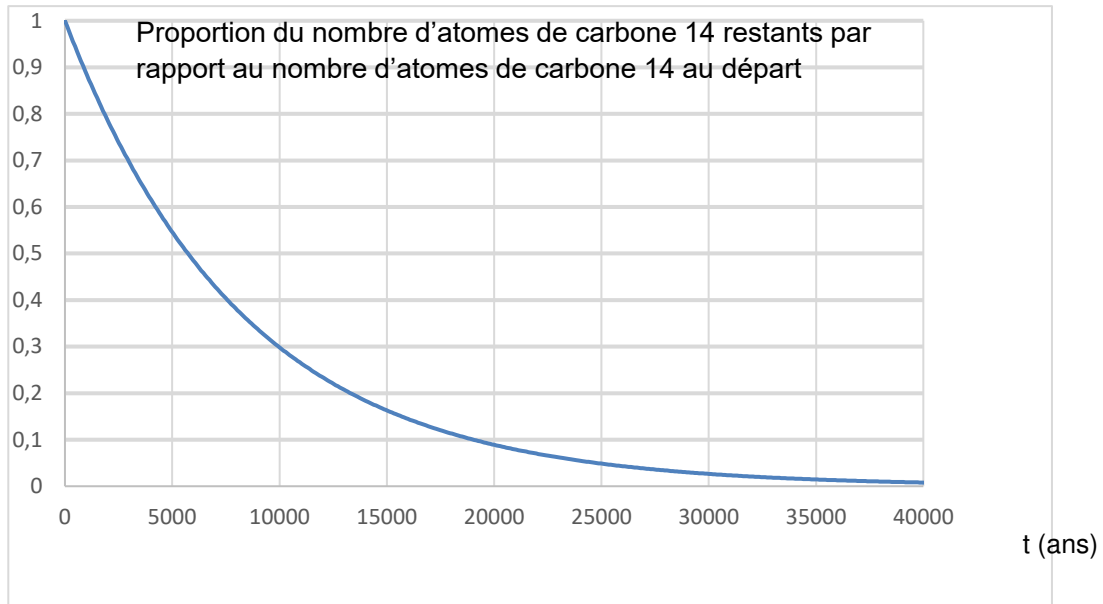
(Les numéros figurent sur la convocation.)

Né(e) le : / /



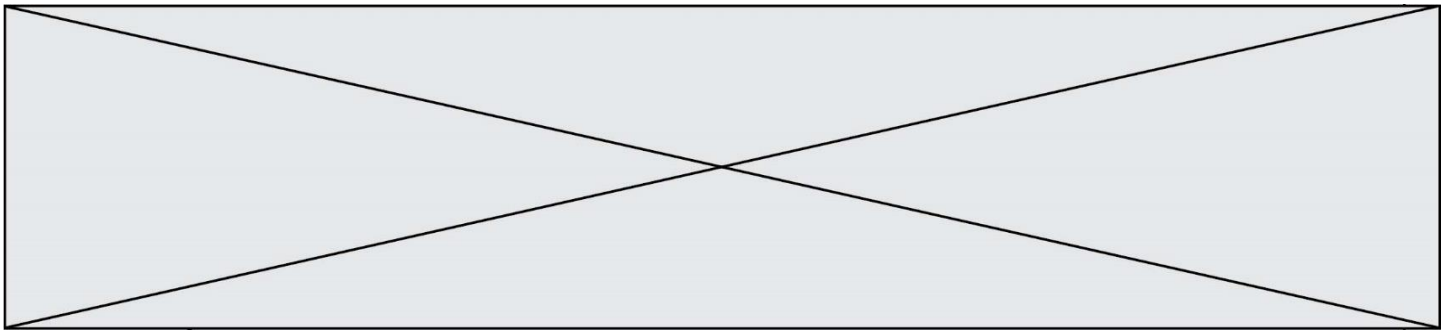
1.1

Document 2. Courbe de décroissance du carbone 14 sur 40 000 ans

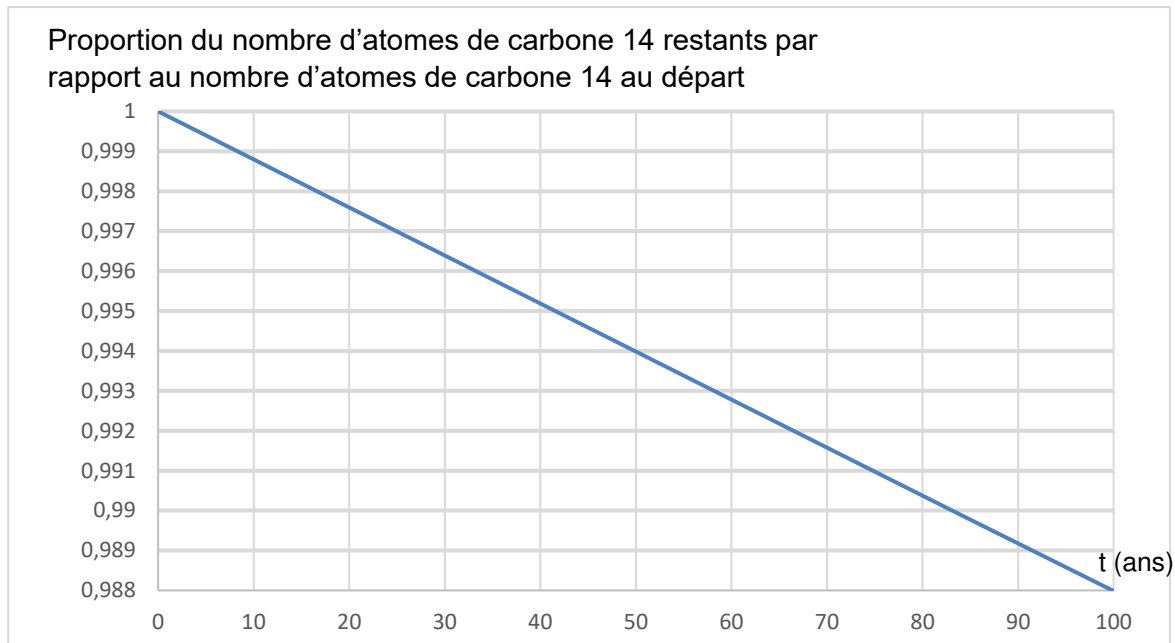


5- Estimer le nombre de noyaux de carbone 14 restants après 25 000 ans.

On s'intéresse désormais à la datation au carbone 14 d'échantillons d'ivoire plus récents. Sur une période de 100 ans, on peut approcher la portion de courbe du document 2 par un segment de droite représenté dans le document 3.



Document 3. Décroissance radioactive du carbone 14 sur 100 ans



6- En 2019, l'analyse d'un échantillon d'ivoire d'éléphant a permis d'estimer à 0,994 la proportion d'atomes de carbone 14 restants par rapport au nombre initial d'atomes de carbone 14.

6-a- En utilisant le document 3, dater la mort de l'éléphant.

6-b- Cet ivoire provient-il d'un éléphant abattu illégalement ? Justifier la réponse.