

SUJET

2019-2020

PHYSIQUE-CHIMIE
POUR LA SANTÉ
SPÉ première ST2S

ÉVALUATIONS
COMMUNES

Modèle CCYC : ©DNE

Nom de famille (naissance) :

(Suivi s'il y a lieu, du nom d'usage)

Prénom(s) :

N° candidat : N° d'inscription :

(Les numéros figurent sur la convocation.)

Né(e) le : / /



1.1

ÉVALUATION COMMUNE

CLASSE : Première ST2S

EC : EC1 EC2 EC3

VOIE : Générale Technologique Toutes voies (LV)

ENSEIGNEMENT : Physique-chimie pour la santé

DURÉE DE L'ÉPREUVE : 2h

Niveaux visés (LV) : LVA LVB

Axes de programme :

CALCULATRICE AUTORISÉE : Oui Non

DICTIONNAIRE AUTORISÉ : Oui Non

Ce sujet contient des parties à rendre par le candidat avec sa copie. De ce fait, il ne peut être dupliqué et doit être imprimé pour chaque candidat afin d'assurer ensuite sa bonne numérisation.

Ce sujet intègre des éléments en couleur. S'il est choisi par l'équipe pédagogique, il est nécessaire que chaque élève dispose d'une impression en couleur.

Ce sujet contient des pièces jointes de type audio ou vidéo qu'il faudra télécharger et jouer le jour de l'épreuve.

Nombre total de pages : 11



Exercice 1 : Un antiseptique : l'eau oxygénée (5 points)

L'eau oxygénée est une solution aqueuse de peroxyde d'hydrogène H_2O_2 . C'est un antiseptique de la famille des oxydants, dont la concentration est exprimée dans le commerce par un titre en volume. Ainsi une solution à 10 volumes est utilisée comme antiseptique et hémostatique pour des plaies et des brûlures superficielles peu étendues. Une eau oxygénée à 40 volumes est 4 fois plus concentrée qu'une solution à 10 volumes ; elle est employée pour blanchir certains bois et traiter l'eau d'un aquarium.

Le **document 1** indique les conditions d'utilisation et de conservation d'une eau oxygénée.

Données : le peroxyde d'hydrogène intervient dans deux couples oxydant/réducteur.

Couple oxydant/réducteur	Demi-équation d'oxydoréduction
Peroxyde d'hydrogène / eau : $H_2O_{2(aq)} / H_2O_{(l)}$	$H_2O_{2(aq)} + 2H^+_{(aq)} + 2e^- = 2H_2O_{(l)}$
Dioxygène / peroxyde d'hydrogène : $O_{2(g)} / H_2O_{2(aq)}$	$O_{2(g)} + 2H^+_{(aq)} + 2e^- = H_2O_{2(aq)}$

Document 1 : conditions d'utilisation et de conservation de l'eau oxygénée.

L'eau oxygénée est généralement conditionnée dans un flacon en verre ou en polyéthylène, ces flacons sont à conserver à l'abri de la lumière et de la chaleur.

Pour les médicaments à usage multiple comme l'eau oxygénée, il est primordial d'inscrire la date d'ouverture de l'emballage. Le produit fini qui est vendu en pharmacie ou parapharmacie est stable 12 mois, toutefois après une première utilisation, le liquide restant doit être utilisé dans les 30 jours qui suivent l'ouverture du flacon.



Modèle CCYC : ©DNE																				
Nom de famille (naissance) : <small>(Suivi s'il y a lieu, du nom d'usage)</small>																				
Prénom(s) :																				
N° candidat :											N° d'inscription :									
 <small>Liberté • Égalité • Fraternité</small> <small>RÉPUBLIQUE FRANÇAISE</small>	<small>(Les numéros figurent sur la convocation.)</small>																			
	Né(e) le :			/			/													

1.1

1. En exploitant les données fournies, expliquer si le peroxyde d'hydrogène se comporte : toujours comme un oxydant, toujours comme un réducteur ou parfois comme un oxydant et parfois comme un réducteur.
2. En déduire qu'une molécule de peroxyde d'hydrogène peut réagir avec une autre molécule de peroxyde d'hydrogène.
3. En utilisant les demi-équations fournies, écrire l'équation de la réaction dite de décomposition de l'eau oxygénée.
4. Identifier le gaz libéré par cette réaction de décomposition.
5. Expliquer pourquoi l'utilisation d'une eau oxygénée à 10 volumes, dont le flacon a été ouvert pour la première fois il y a six mois, n'est pas judicieuse.

On dispose d'une eau oxygénée à 40 volumes trop concentrée pour soigner des plaies. On souhaite donc la diluer pour fabriquer un volume d'eau oxygénée à 10 volumes égal à 100,0 mL.

6. Déterminer la valeur du volume de solution mère nécessaire pour fabriquer par dilution un volume d'eau oxygénée à 10 volumes égal à 100,0 mL.
7. Décrire les étapes du protocole de dilution en choisissant le matériel nécessaire dans la liste suivante :
 - éprouvettes graduées de 5 mL, 25 mL, 50 mL et 100 mL ;
 - bécher de 50 mL ;
 - pipettes jaugées de 5,0 mL, 10,0 mL, 20,0 mL et 25,0 mL ;
 - fioles jaugées de 20,0 mL, 50,0 mL et 100,0 mL.



Exercice : Adolescents et fast-food (5 points)

Document 1 : Apports nutritionnels des produits les plus consommés

Les fast-foods sont particulièrement appréciés des adolescents qui les fréquenteraient en moyenne deux fois par mois, selon une enquête publiée en 2014 par le CERIN (Centre de recherche et d'informations nutritionnelles).

Outre la nourriture que l'on y sert, rapide et peu chère, ils aiment particulièrement le fait de s'y retrouver en groupe.

Si certains s'y rendent de façon occasionnelle, d'autres font du fast-food leur cantine quotidienne, engendrant de ce fait une consommation importante de graisses et de sucres. Quel peut être l'impact sur la santé d'une fréquentation régulière du fast-food ? Dans ce cas, quels sont les conseils nutritionnels que l'on peut donner ?

Produit	Portion (g)	Apport énergétique (kcal)	Protéines (g)	Lipides (g)	Glucides (g)
Hamburger	103	262	13,1	9,2	31,5
Cheeseburger	117	305	15,6	12,9	31,8
Double hamburger	214	512	25,9	25,8	43,8
Frites (petite portion)	106	299	3,8	14,7	37,9
Nuggets de poulet	200	496	2,6	20,6	42,4
Salade César au poulet	309	349	25,7	16,4	19,2
Fruits à croquer	80	44	-	-	11
Muffin chocolat	100	347	5	19	39
Sundae caramel	178	309	8,5	15,1	34,8
Milk shake vanille	345	385	11,6	10,4	61,2
Soda au cola	150	67	-	-	16,7

Modèle CCYC : ©DNE

Nom de famille (naissance) :


(Suivi s'il y a lieu, du nom d'usage)

Prénom(s) :

N° candidat : N° d'inscription :

(Les numéros figurent sur la convocation.)

Né(e) le : / /



RÉPUBLIQUE FRANÇAISE

1.1

Document 2 : Groupes d'aliments et besoins alimentaires journaliers

Les besoins caloriques journaliers dépendent essentiellement du sexe, de l'âge, du poids et du niveau d'activité physique. En cas d'activité physique de faible intensité, le besoin calorique à 18 ans se monte à environ 2000 kcal par jour chez la jeune femme et de 2500 kcal par jour chez le jeune homme (d'après Inpes, Institut national de prévention et d'éducation pour la santé).

Il est parfois conseillé de suivre, pour la répartition des différents nutriments, la règle du « 421 GPL ».

En faisant correspondre l'ordre des lettres, on lit « 4G », « 2P » et « 1L ». Cela correspond aux nombres de parts qu'il est conseillé de consommer : 4 portions de glucides pour 2 portions de protéines pour 1 portion de lipides (Il faut entendre « portions » comme des masses égales).

En nutrition, les aliments sont classés en 7 groupes principaux. Ce classement se fait par leurs teneurs en nutriments (protéines, lipides, glucides), minéraux (fer, calcium, magnésium...) et vitamines (liposolubles : A, D, E, K et hydrosolubles : B, C...).

En pratique, pour avoir une alimentation équilibrée, il faut puiser chaque jour une ou plusieurs fois dans ces groupes d'aliments.

Groupes d'aliments	Nutriments
Produits laitiers	Protéines, lipides et calcium, phosphore
Viandes, poissons, œufs	Protéines, lipides et fer, zinc, sélénium
Matières grasses	Acides gras et vitamines
Céréales, féculents, légumes secs	Glucides complexes, fibres et magnésium
Fruits et légumes	Vitamines, minéraux et fibres
Produits sucrés (chocolat, miel, confiture...)	Glucides simples
Boissons (eau à volonté!)	Minéraux

Données :

1 g de protéine apporte 4 kcal.

1 g de lipide apporte 9 kcal.

1 g de glucide apporte 4 kcal.

On souhaite vérifier l'apport énergétique d'une petite portion de frites indiqué dans le **document 1**.

1. Rappeler la définition de la calorie.



2. En utilisant les données, vérifier que l'apport énergétique d'une petite portion de frites est bien de 299 kcal.

Un jeune homme décide de se rendre au fast-food pour le dîner. Dans la journée, son alimentation lui a apporté environ 1500 kcal. Voici le menu qu'il choisit :

- un cheeseburger,
- une petite portion de frites,
- un sundae caramel,
- un soda au cola.

3. Calculer l'apport énergétique de ce repas à l'aide du **document 1**.

4. Proposer un commentaire, à l'aide des informations contenues dans le **document 2**, permettant d'envisager si ce menu convient au jeune homme pour compléter ses besoins caloriques journaliers.

5. Indiquer si ce menu vérifie la règle du « 421 GPL » décrite dans le **document 2**, à partir du calcul des masses de protéines, glucides et lipides apportées par le menu.

6. Porter un regard critique sur ce menu. Donner alors quelques conseils au jeune homme en termes de nutrition à l'appui du **document 2**.

7. Prévoir quelles peuvent être les conséquences d'une fréquentation quotidienne des fast-foods sur la santé des adolescents.

Exercice 3 : État cardiaque chez un cycliste (5 points)

Afin de tester la résistance cardiaque à l'effort d'un cycliste, un médecin décide d'effectuer des mesures pour accéder à la valeur du débit cardiaque de ce sportif au repos puis au cours d'un effort intense. Les résultats des mesures sont consignés dans le **document 1**.

Le **document 2** apporte des informations relatives à la fréquence et au débit cardiaques chez le sportif d'endurance. Le **document 3** est un graphique schématisant l'évolution des vitesses d'écoulement sanguin dans le réseau circulatoire d'une personne au repos.

Données : $1 \text{ L} = 10^{-3} \text{ m}^3$; $1 \text{ cm}^2 = 10^{-4} \text{ m}^2$

Modèle CCYC : ©DNE

Nom de famille (naissance) :

(Suivi s'il y a lieu, du nom d'usage)

Prénom(s) :

N° candidat : N° d'inscription :

(Les numéros figurent sur la convocation.)

Né(e) le : / /



1.1

Document 1 : résultats des examens effectués par le médecin sur le cycliste

	Fréquence cardiaque f_c (battements par minute)	Volume d'éjection systolique V_{ES} (mL)
Repos	60	83
Effort intense	180	130

Document 2 : débit cardiaque chez le sportif d'endurance

Le cœur d'un adulte en condition physique normale bat entre 50 et 80 fois par minute au repos. Chez un sportif d'endurance, comme un cycliste ou un coureur de fond, la fréquence cardiaque peut être proche de 30 battements par minute au repos la nuit sans que cela soit anormal.

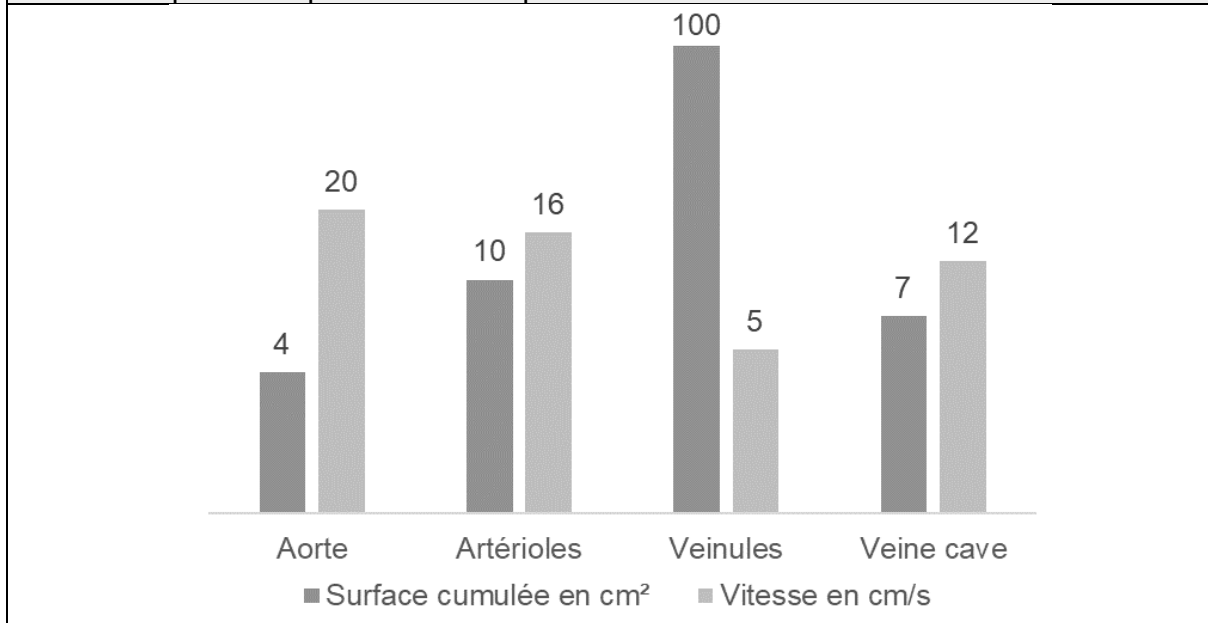
Par ailleurs, le volume d'éjection du sang augmente également lors d'un exercice, et ce, grâce à deux phénomènes, d'une part l'augmentation de la puissance de contraction du cœur, ce qui permet au ventricule de se vider davantage qu'au repos, et d'autre part l'amélioration du retour veineux vers le cœur, ce qui permet d'augmenter le volume de remplissage des cavités cardiaques. En bref, le cœur se remplit et se vide mieux lors d'un exercice physique qu'au repos. Ces deux phénomènes se traduisent par une augmentation considérable du débit cardiaque lors d'un effort. Ainsi, celui-ci correspond typiquement à $5,0 \text{ L} \cdot \text{min}^{-1}$ au repos chez le sédentaire comme chez le sportif, il croît jusqu'à $25 \text{ L} \cdot \text{min}^{-1}$ chez un sédentaire effectuant un effort et jusqu'à parfois plus de $40 \text{ L} \cdot \text{min}^{-1}$ chez un sportif spécialiste d'endurance.

L'entraînement cardiopulmonaire se révèle donc être un moyen particulièrement efficace dans le développement du débit cardiaque maximal.

Document 3 : valeurs de surface (section) cumulée des vaisseaux sanguins du



corps humain et valeurs moyennes de vitesse d'écoulement sanguin dans ces vaisseaux pour une personne au repos



1. Indiquer la relation permettant d'exprimer le débit cardiaque D_C en fonction de la fréquence cardiaque f_C et du volume d'éjection systolique V_{ES} .
2. En exploitant les informations du **document 1**, retrouver par un calcul la valeur du débit cardiaque au repos (en litres par minute) fournie par le **document 2**.
3. Vérifier que le débit cardiaque au repos du sportif, exprimé dans l'unité du système international, est égal à $8,3 \times 10^{-5} \text{ m}^3 \cdot \text{s}^{-1}$.

L'aorte est l'artère unique dans laquelle le sang est éjecté par le cœur.

4. Donner, en précisant les unités employées, la relation entre le débit cardiaque D_C , la vitesse d'écoulement v_A du sang dans l'aorte et la section S_A de l'aorte.
5. Montrer que le débit cardiaque calculé à la question 3 est en conformité avec la valeur de la vitesse d'écoulement du sang dans l'aorte figurant dans le **document 3**.
6. Dans le cas du cycliste en effort intense, expliquer, sans faire de calcul, comment évoluent les vitesses d'écoulement sanguin dans le réseau circulatoire par rapport aux valeurs au repos figurant sur le **document 3**.

Modèle CCYC : ©DNE

Nom de famille (naissance) :


(Suivi s'il y a lieu, du nom d'usage)

Prénom(s) :

N° candidat : N° d'inscription :

(Les numéros figurent sur la convocation.)

Né(e) le : / /

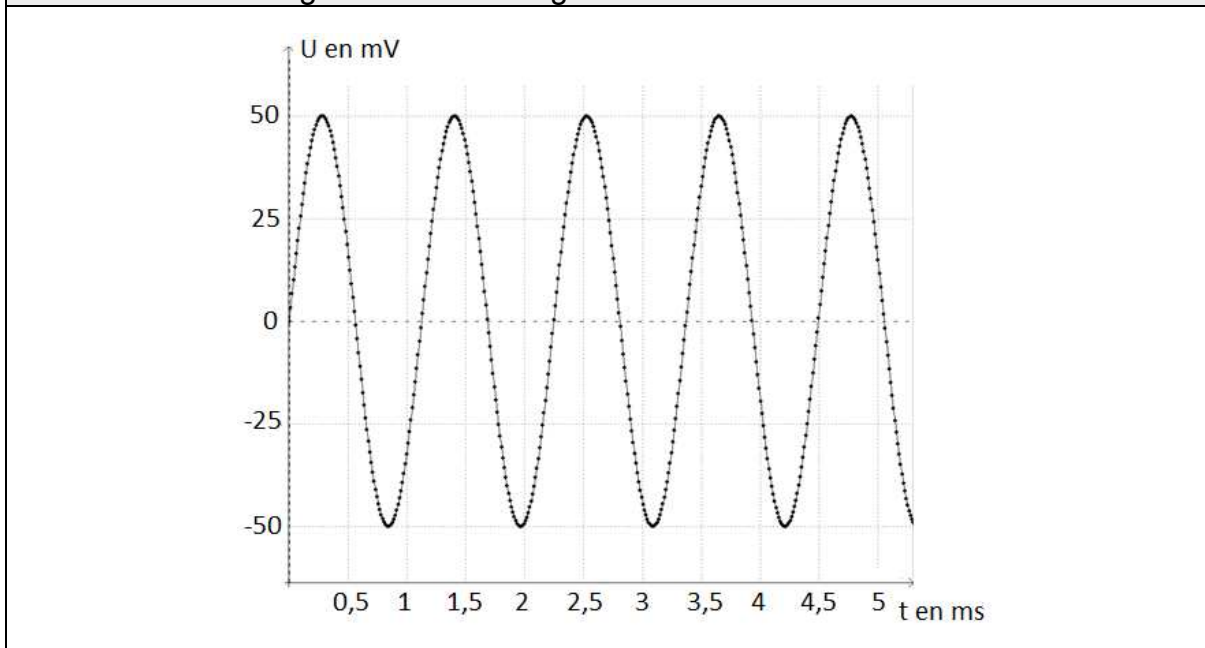


1.1

Exercice 4 : Test d'audition (5 points)

En France, deux-tiers des personnes ayant plus de 65 ans ont des difficultés de compréhension de la parole dans le bruit. C'est le premier signe de la malaudition.

Document 1 : Enregistrement d'un signal sonore utilisé lors d'un test d'audition

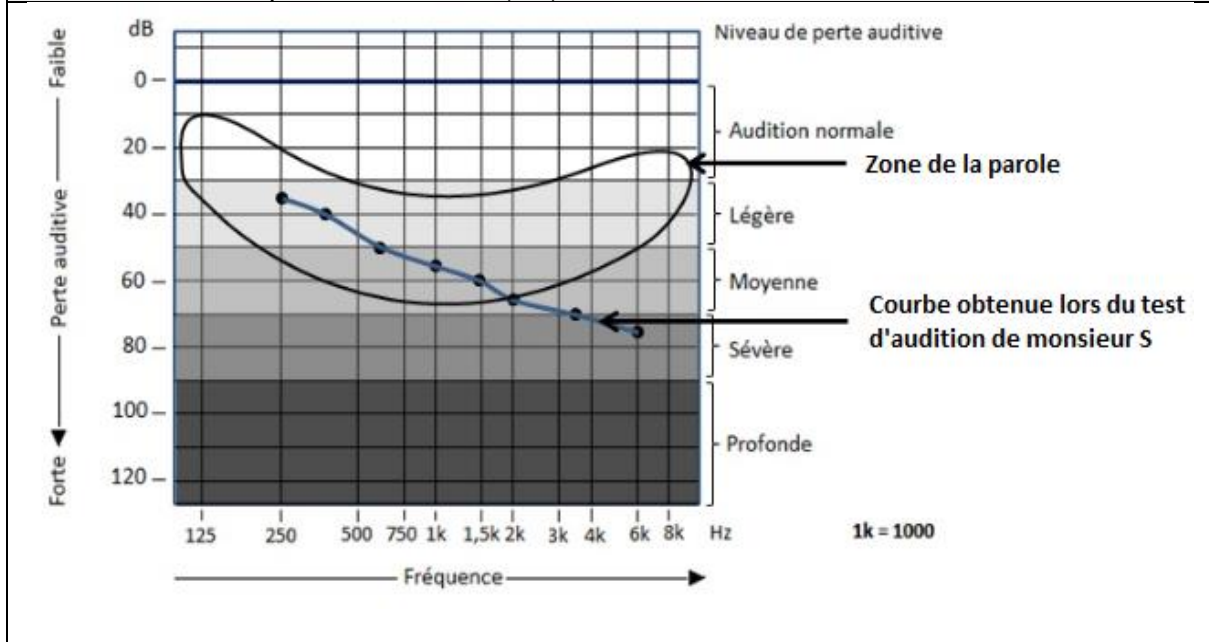


Document 2 : Domaines correspondant aux différents types de sons audibles ou inaudibles

				Fréquences (Hz)			
20		200		2000		20000	
A	Sons audibles				D		
	B		Son médium				



Document 3 : Perte auditive et niveau de perte auditive de monsieur S. en fonction de la fréquence en Hertz (Hz)



Données :

- La fréquence f d'un signal est l'inverse de la période T
- $1\text{ms} = 10^{-3}\text{ s}$

Au cours d'un test d'audition, des sons de différentes fréquences sont émis. Il est possible d'enregistrer le signal correspondant à un son donné grâce à un dispositif adapté. Le patient est placé dans une pièce insonorisée et on l'équipe d'un casque audio. Le médecin envoie des sons purs de différentes fréquences en augmentant progressivement leur niveau d'intensité sonore et quand le patient détecte le son, il le signale. Le médecin porte alors sur une courbe la valeur du niveau d'intensité sonore (correspondant à une perte auditive) en fonction de la fréquence du son émis.

1. Préciser, en choisissant parmi les quatre propositions suivantes, la nature de la courbe tracée par le médecin lors du test d'audition et rédiger une phrase à cet effet.

- a) *Oscillogramme* b) *électrocardiogramme* c) *audiogramme*
 d) *électroencéphalogramme*

2. Montrer, en explicitant les calculs, que la fréquence du son enregistré sur la figure du **document 1** est voisine de 900 Hz.

3. Nommer les types de sons correspondant aux domaines A, B, C et D repérés sur le **document 2**.

Modèle CCYC : ©DNE																				
Nom de famille (naissance) : <small>(Suivi s'il y a lieu, du nom d'usage)</small>																				
Prénom(s) :																				
N° candidat :											N° d'inscription :									
 <small>Liberté • Égalité • Fraternité RÉPUBLIQUE FRANÇAISE</small>	<small>(Les numéros figurent sur la convocation.)</small>																			
Né(e) le :			/			/														

1.1

4. À partir du **document 2**, qualifier le son enregistré sur la figure du **document 1**, en expliquant la réponse.

Monsieur S, âgé de 67 ans, évoque avec son médecin le fait qu'il demande de plus en plus à ses interlocuteurs de répéter ; le médecin lui propose de réaliser un test d'audition.

Le **document 3** indique la perte auditive de monsieur S en fonction de la fréquence. On y a fait figurer la zone de la parole (niveau des sons émis lors de conversations normales).

5. Déterminer la perte auditive de monsieur S. pour un son de fréquence égale à 1500 Hz. En déduire son niveau de perte auditive pour cette fréquence.

Les basses fréquences allant de 50 à 1500 Hz sont responsables de la compréhension de 20 % des mots et les hautes fréquences, de 1500 Hz à 16000 Hz, sont responsables de 80 % de la compréhension des mots.

6. En utilisant le **document 3**, rédiger un court texte argumenté qui explique pourquoi les résultats de monsieur S au test d'audition permettent d'expliquer qu'il a du mal à comprendre une conversation normale.